



TNPSC GROUP I TEST BATCH – 2020

TEST XXII – MENTAL ABILITY & CURRENT AFFAIRS (JAN, FEB 2020)

- Which of the following state has decided to undertake a study to assess the pollution caused by micro-plastics in coastal areas, estuaries and lakes?
a. Gujarat b. Tamil Nadu c. Odisha d. Karnataka
கடலோரப் பகுதிகள், நதிக் கழிமுகங்கள் மற்றும் ஏரிகளில் மைக்ரோ பிளாஸ்டிக் கழிவுகளால் ஏற்படும் மாசுபாட்டை மதிப்பீடு செய்வதற்கான ஆய்வினை மேற்கொள்ள திட்டமிட்டுள்ள மாநிலம் எது?
a. குஜராத் b. தமிழ்நாடு c. ஒடிசா d. கர்நாடகா
- Which of the following was the external Funding agency For Chennai – Kanniyakumari Industrial corridor project?
a. New Development Bank b. World Bank
c. Asian Development Bank d. European Bank
சென்னை – கன்னியாகுமரி தொழிற்பேட்டை திட்டத்திற்கான வெளி நிதி நிறுவனம் எது?
a. புதிய வளர்ச்சி வங்கி b. உலக வங்கி
c. ஆசிய வளர்ச்சி வங்கி d. ஐரோப்பிய வங்கி
- Who is the first transsexual panchayat union ward member in Tamil Nadu?
a. Sandhiya Rani b. Riya
c. Pratika Yashni d. Rahini
தமிழ்நாட்டின் முதல் திருநங்கை ஊராட்சி ஒன்றிய வார்டு உறுப்பினர் யார்?
a. சந்தியா ராணி b. ரியா
c. பிரதிகா யாஷினி d. ராகினி
- Choose the correct statements?
i. Greater Chennai Corporation declared Elliot's Beach in Besant Nagar a 'Litter free zone' on January 6.
ii. The sixth phase of Keeladi excavations started on January 2, 2020.
a. i, ii b. i c. ii d. none of the above
சரியான கூற்றைத் தேர்ந்தெடு.
i. பெசன்ட் நகரிலுள்ள எலியட் கடற்கரை சென்னை பெருநகராட்சியால் 'குப்பைகளற்ற மண்டலம்' என ஜனவரி 6 ஆம் நாள் அறிவிக்கப்பட்டது.
ii. கீழடி அகழ்வாராய்ச்சியின் ஆறாம் கட்ட பணிகள் ஜனவரி 2, 2020 லிருந்து தொடங்கப்பட்டன.
a. i, ii b. i c. ii d. ஏதுமில்லை
- Which of the following city is installing 'smart poles' in various parts of the city?
a. Bangalore b. Hyderabad c. Chennai d. Cochin
நகரத்தின் பல்வேறு இடங்களில் "ஸ்மார்ட் போல்ஸ்" ஐ நிறுவியுள்ள பின்வரும் நகரம் எது?
a. பெங்களூர் b. ஹைதராபாத் c. சென்னை d. கொச்சின்

6. Choose the correct statements.
- Karnataka has received an award from the centre for Best performance in Road safety.
 - Tamil Nadu to hold the annual pulse polio immunisation camp on January 19, 2020.
 - The Thiruverkadu police had introduced first set of boards with QR codes recently within their limits.
- a. i, ii, iii b. ii, iii c. i, ii d. i, iii
- சரியான கூற்றுகளைத் தேர்ந்தெடு.
- சாலைப் பாதுகாப்பில் சிறப்பான செயல்பாட்டிற்காக மத்திய அரசின் விருதை கர்நாடகா பெற்றுள்ளது.
 - ஜனவரி 19, 2020 இல் வருடாந்திர போலியோ நோய்த்தடுப்பு முகாம் தமிழகத்தில் நடைபெற்றது.
 - திருவேற்காடு போலீஸ் அவர்களின் எல்லைக்குள் QR குறியீடு கொண்ட பலகைகளை முதலில் அறிமுகம் செய்துள்ளனர்.
- a. i, ii, iii b. ii, iii c. i, ii d. i, iii
7. Who received the Thiruvalluvar award for 2020?
- N. Ramachandran
 - N. Nithyanandha Bharathi
 - K. Samarasam
 - M.S. Mathivanan
- 2020 ன் திருவள்ளுவர் விருதைப் பெற்றவர் யார்?
- ராமச்சந்திரன்
 - நித்யானந்த பாரதி
 - சமரசம்
 - மதிவாணன்
8. Who launched the Swachh Survekshan League 2020?
- Hardeep Singhpuri
 - Rajnath Singh
 - Kamal Nath
 - Dr. Harshvardhan
- “Swachh Survekshan League 2020” ஐ தொடங்கி வைத்தவர் யார்?
- ஹர்தீப் சிங் பூரி
 - ராஜ்நாத் சிங்
 - கமல் நாத்
 - Dr. ஹர்ஷ் வர்தன்
9. Which bank launched the MANI app for the visually impaired?
- SBI
 - Bank of Baroda
 - RBI
 - Bank of Maharashtra
- பார்வைக் குறைபாடு உள்ளவர்களுக்கென மணி (MANI) செயலியை வெளியிட்டுள்ள வங்கி எது?
- பாரத ஸ்டேட் வங்கி
 - பரோடா வங்கி
 - இந்திய ரிசர்வ் வங்கி
 - மகாராஷ்டிரா வங்கி
10. Which Indian defence service has banned the use of Facebook by its personnel?
- Indian Navy
 - Indian Army
 - Indian Air force
 - Territorial Army
- எந்த இந்திய பாதுகாப்பு படை அதன் பணியாளர்கள் முகநூலைப் பயன்படுத்த தடை விதித்துள்ளது?
- இந்திய கடற்படை
 - இந்திய இராணுவம்
 - இந்திய விமானப்படை
 - எல்லைப்படை இராணுவம்
11. World’s largest meditation centre inaugurates in ____.
- Chennai
 - Hyderabad
 - Mumbai
 - Bangalore



உலகின் மிகப்பெரிய தியான மையம் எங்கு துவங்கப்பட்டுள்ளது?

- a. சென்னை b. ஹைதராபாத் c. மும்பை d. பெங்களூர்

12. Consider the following statements regarding the “one planet one city challenge”.

1. It’s a Friendly competition, organised by World Wildlife Fund for Nature (WWF) to mobilise cities to deliver on the Paris agreement.
2. The logo of WWF is a Red Panda.

- a. 1, 2 are correct b. 1 is correct
c. 2 is correct d. None of the above

“ஒரு கோள் ஒரு நகரம் சவால்” தொடர்பான பின்வரும் கூற்றுகளை ஆய்க.

1. இது பாரிஸ் ஒப்பந்தத்திற்கு நகரங்களை அணி திரட்டுவதற்காக இயற்கைக்கான உலகளாவிய நிதியம் (WWF) ஏற்பாடு செய்த நட்பான போட்டியாகும்.
2. WWF ன் லோகோ வாக சிவப்பு பாண்டா உள்ளது.

- a. 1, 2 சரி b. 1 சரி c. 2 சரி d. மேற்கண்ட ஏதுமில்லை

13. Kuno - Palpur wildlife sanctuary, recently seen in news is located in

- a. Gujarat b. Assam c. Kerala d. Madhya Pradesh

குனோ - பால்பர் வனவிலங்கு சரணாலயம் சமீபத்திய செய்திகளில் இடம்பெற்றது. அது எங்குள்ளது?

- a. குஜராத் b. அசாம் c. கேரளா d. மத்திய பிரதேசம்

14. Which of the following statements about ‘One Nation, One Ration Card scheme is/are correct?

- i. The scheme enables ration card holders to purchase food grain from any Fair Price shop within the country
- ii. Tamilnadu has granted administrative approval for implementation of this scheme.

- a. i, ii b. i c. ii d. None of the above

“ஒரு நாடு ஒரு குடும்ப அட்டை” திட்டம் தொடர்பான பின்வரும் கூற்றுகளில் சரியானவை எவை?

- i. இந்த திட்டத்தின் மூலம் குடும்ப அட்டை உள்ளவர்கள் நாட்டிற்குள் எந்த நியாய விலைக் கடைகளில் வேண்டுமானாலும் உணவுப் பொருட்களை வாங்கலாம்.
- ii. தமிழ்நாடு இந்த திட்டத்தை நடைமுறைப்படுத்த நிர்வாக ஒப்புதல் அளித்துள்ளது.

- a. i, ii b. i c. ii d. ஏதுமில்லை

15. Who had won the International Women Awards (IWA) 2020 in the category of best woman performer in architecture?

- a. Ponni M Concessao b. Sheila Sri Prakash
c. J. Maheshwari d. C. Lalitha

கட்டிடக்கலையில் சிறப்பாக செயல்பட்ட பெண்மணி என்ற பிரிவில் சர்வதேச பெண்கள் விருது 2020 ஐ வென்றவர் யார்?

- a. பொன்னி M கான்செசோ b. ஷீலா ஸ்ரீ பிரகாஷ்
c. J மகேஷ்வரி d. C. லலிதா

16. Which of the following is not one of the three important components of Accessible India Campaign?

- a. Built Environment Accessibility
b. Transportation System Accessibility



c. Skills and Employment Accessibility

d. Information and Communication Eco-friendly Accessibility

அணுகக்கூடிய இந்தியா பேரணியின் மூன்று முக்கிய கூறுகளில் இல்லாதது எது?

a. கட்டமைக்கப்பட்ட சுற்றுச்சூழல் அணுகல்

b. போக்குவரத்து அமைப்பு அணுகல்

c. திறன் மற்றும் வேலைவாய்ப்பு அணுகல்

d. சுற்றுச்சூழலை பாதிக்காத தகவல் மற்றும் தொடர்பு அணுகல்

17. SEAD Initiative is related to

a. Prevent Antibiotic Resistance

b. Energy Efficiency

c. Cyber security

d. Skill Development

SEAD துவக்க முயற்சி எதுடன் தொடர்புடையது?

a. ஆன்டிபயாட்டிக் எதிர்ப்பைத் தடுத்தல்

b. ஆற்றல் செயல்திறன்

c. இணைய பாதுகாப்பு

d. திறன் வளர்ச்சி

18. Consider the following statements?

i. Department of Military Affairs (DMA) has been created in the Ministry of Defence (MoD) and it will be headed by the Defence Minister.

ii. General Bipin Rawat was appointed as the Chief of Defence Staff.

iii. Chief of Defence is not a ministerial position and it is first time in the history of Independent India that a uniformed individual will head a government Department.

Which of the above statements is/are correct?

a. i, ii, iii

b. ii, iii

c. i, iii

d. i, ii

பின்வரும் கூற்றுகளை ஆய்க

i. பாதுகாப்பு அமைச்சகமானது இராணுவ விவகாரங்கள் துறையை உருவாக்கியுள்ளது, பாதுகாப்புத்துறை அமைச்சர் இதற்கு தலைமை ஏற்பார்

ii. தலைமை பாதுகாப்பு அலுவலராக ஜெனரல் பிபின் ராவத் நியமிக்கப்பட்டுள்ளார்

iii. தலைமை பாதுகாப்பாளர் என்பது அமைச்சகம் சார்ந்த பதவியல்ல, சுதந்திர இந்திய வரலாற்றில் முதல் முறையாக ஒரு சீருடைப் பணியாளர் அரசின் துறைக்கு தலைமை ஏற்கிறார்

மேற்கண்ட கூற்றுகளில் சரியானவை எவை?

a. i, ii, iii

b. ii, iii

c. i, iii

d. i, ii

19. Consider the following statements regarding Digital Village Programme.

i. Digital village was conceptualised by the Common Service Centre under the Ministry of Electronics and IT.

ii. The citizens can avail various e-services of the central and state governments.

a. i, ii are correct

b. only i is correct

c. only ii is correct

d. Both are incorrect

டிஜிட்டல் கிராமம் திட்டம் தொடர்பான பின்வரும் கூற்றுகளை ஆய்க

i. டிஜிட்டல் கிராமம் என்ற கருத்தியலானது மின்னணு மற்றும் தகவல் தொழில்நுட்ப அமைச்சகத்தின் கீழ் பொது சேவை மையம் மூலம் உருவானது

ii. குடிமக்கள் பல்வேறு மத்திய மற்றும் மாநில அரசுகளின் இணைய சேவைகளைப் பெறலாம்

a. i, ii சரி

b. i மட்டும் சரி

c. ii மட்டும் சரி

d. இரண்டும் தவறு



20. Consider the following statements regarding India 2020 energy policy review.
- Ministry of power in partnership with NITI Aayog, released in-depth review of India's energy policies.
 - The first in-depth review of India's energy policies examines the country's achievements in energy sector.
- only i is correct
 - Both i and ii are correct
 - only ii is correct
 - Both are incorrect
- இந்தியா 2020 ஆற்றல் கொள்கை மதிப்பாய்வு பற்றிய பின்வரும் கூற்றுகளை ஆய்க
- ஆற்றல் அமைச்சகம் நிதி ஆயோக்குடன் இணைந்து இந்திய ஆற்றல் கொள்கை பற்றிய ஆழமான மதிப்பாய்வரையை வெளியிட்டுள்ளது
 - இந்திய ஆற்றல் கொள்கை பற்றிய முதல் ஆழமான மதிப்பாய்வானது ஆராய்கிறது நாட்டின் ஆற்றல் துறையின் சாதனைகளை ஆராய்கிறது
- i மட்டும் சரி
 - i, ii மட்டும் சரி
 - ii மட்டும் சரி
 - i, ii தவறு
21. Project Shashak is related to
- Personality Development Programme through social service
 - Comprehensive Medical care facilities to Central government employees.
 - One time cash incentives to pregnant women for institutional births through skilled assistance.
 - Aims to strengthen the credit capacity, credit culture and credit portfolio of public sector banks
- 'Project Shashak' என்பது எது தொடர்பானது?
- சமூக சேவை மூலமாக குணநலன் மேம்படுத்தும் திட்டம்
 - மத்திய அரசு ஊழியர்களுக்கான விரிவான மருத்துவ சேவை வசதிகள்
 - ஒருமுறை ஊக்கத்தொகையானது கர்ப்பிணி பெண்களுக்கு திறமையான பணியாளர்கள் மூலம் குழந்தை பெற அளிக்கப்படுகிறது
 - பொதுத்துறை வங்கிகளின் கடன்திறன், கடன் பண்பாடு முறை மற்றும் கடன் இலாகாவை வலிமைப்படுத்தும் நோக்கம்
22. Choose the correct statements about National Anti-profiteering Authority (NAA).
- The authority's main function is to ensure that traders are not realizing unfair profit by charging high price from consumers in the name of GST.
 - NAA is headed by the Ministry of Finance
- Which of the above statements is/are correct?
- i, ii
 - i
 - ii
 - None of the above
- தேசிய இலாப எதிர்ப்பு அதிகாரம் தொடர்பான சரியான கூற்றுகளை கண்டறிக
- GST என்ற பெயரில் வியாபாரிகள் மூலம் நுகர்வோர்களிடம் இருந்து அதிக பணம் வசூலிக்கப்படுவதை தடுத்தல்
 - இது நிதி அமைச்சகத்தின் தலைமையில் செயல்படுகிறது
- மேற்கண்ட கூற்றுகளில் சரியானவை எவை?
- i, ii
 - i
 - ii
 - ஏதுமில்லை

23. Choose the correct statements regarding, National Investigation Agency Amendment act 2019.
- It empowers the agency to investigate offences committed outside India, subject to international treaties and domestic laws of other countries.
 - It allowed the central government to designate session courts as special courts for the trial of scheduled offences under the act.
- a. i, ii b. i c. ii d. none of the above
- தேசிய விசாரணை அமைப்பு திருத்தச்சட்டம் 2019 தொடர்பான சரியான கூற்றுகளை கண்டறிக
- இது இந்தியாவிற்கு வெளியே நடைபெற்ற குற்றங்களை விசாரணை செய்ய சர்வதேச ஒப்பந்தங்கள் மற்றும் மற்ற நாட்டு சட்டங்களுக்கு உட்பட்டு அதிகாரம் வழங்குகிறது
 - இந்த சட்டத்தின் கீழ் திட்டமிடப்பட்ட குற்றங்களை விசாரிக்க அமர்வு நீதிமன்றத்தை சிறப்பு நீதிமன்றமாக நியமிக்க மத்திய அரசுக்கு அனுமதியளிக்கிறது
- மேற்கண்டவற்றுள் சரியான கூற்றுகள் எவை?
- a. i, ii b. i c. ii d. இவை ஏதுமில்லை
24. Choose the correct statements about Neutrino Observatory (INO) project.
- India based Neutrino Observatory is a particle physics research project under construction of primary study atmospheric neutrinos in deep cave near Theni in Tamilnadu.
 - It is a mega science project fully funded by the Department of Atomic Energy (DAE).
- a. i, ii b. i c. ii d. none of the above
- நியூட்ரினோ கண்காணிப்புத் திட்டம் தொடர்பான பின்வரும் கூற்றுகளில் சரியானவை எவை?
- இந்தியாவை அடிப்படையாகக் கொண்ட நியூட்ரினோ கண்காணிப்பானது வளிமண்டல நியூட்ரினோக்கள் பற்றிய முதன்மை ஆய்வு கட்டுமானத்தின் கீழ் துகள் இயற்பியல் ஆராய்ச்சி திட்டமாகும் இது தமிழ்நாட்டில் தேனிக்கு அருகில் ஆழமான குகைப்பகுதியிலுள்ளது.
 - அணுசக்தி ஆற்றல் துறையின் மூலம் முழுமையாக நிதி பெறும் மிகப்பெரிய அறிவியல் திட்டமாகும்.
- a. i, ii b. i c. ii d.
25. Which of the following Southern state announced ban on single use plastics from January 1, 2020?
- a. Tamil Nadu b. Andhra Pradesh
c. Karnataka d. Kerala
- ஒரு முறை பயன்படுத்தும் பிளாஸ்டிக் பொருட்களை ஜனவரி-1 2020 முதல் தடை செய்துள்ள தென் மாநிலம் எது?
- a. தமிழ்நாடு b. ஆந்திரப்பிரதேசம் c. கர்நாடகா d. கேரளா
26. India's first Turtle Rehabilitation Centre was planned to sep up in
- a. Tamil Nadu b. Bihar c. Madhyapradesh d. Odisha
- இந்தியாவின் முதல் ஆமை மறுவாழ்வு மையம் எங்கு அமைக்கப்பட உள்ளது?
- a. தமிழ்நாடு b. பீகார் c. மத்திய பிரதேசம் d. ஒடிசா
27. Kalapani border issue, recently seen in news is between which Countries?
- a. India and Bhutan b. India and Bangladesh

c. Bhutan and Bangladesh d. India and Nepal
கலாபணி எல்லைப் பிரச்சனை சமீபத்திய செய்தியானது இது எந்த நாடுகளுக்கு இடையே உள்ளது?

- a. இந்தியா மற்றும் பூடான் b. இந்தியா மற்றும் வங்கதேசம்
c. பூடான் மற்றும் வங்கதேசம் d. இந்தியா மற்றும் நேபாளம்

28. Which of the following state has signed an agreement with the IUCN to prepare a Red List Assessment of all orchids in the state?

- a. Arunachal Pradesh b. Uttar Khand
c. Karnataka d. Meghalaya

பின்வரும் எந்த மாநிலம் மாநிலத்தின் அனைத்து ஆர்கிட் மலர்களுக்கும் சிவப்பு பட்டியல் மதிப்பீடு தயாரிக்க IUCN உடன் ஒப்பந்தம் செய்துள்ளது.

- a. அருணாச்சலப்பிரதேசம் b. உத்தரகாண்ட்
c. கர்நாடகா d. மேகாலயா

29. India's first e-waste clinic was opened in

- a. Bangalore b. Hyderabad c. Bhopal d. Pune

இந்தியாவின் முதல் மின்கழிவு கையாளும் நிலையம் எங்கு திறக்கப்பட்டுள்ளது?

- a. பெங்களூர் b. ஹைதராபாத் c. போபால் d. பூனே

30. Choose the incorrect pairs.

- I. Tamil Nadu - Amma Unavagam
II. Karnataka - Indira Canteen
III. Maharashtra - Shiv Bhojan
a. II b. III only c. II and III d. none of the above

தவறான இணையைக் கண்டறிக.

- I. தமிழ்நாடு - அம்மா உணவகம்
II. கர்நாடகா - இந்தியா உணவகம்
III. மகராஷ்டிரா - சிவ போஜன்

- a. II மட்டும் b. III மட்டும் c. II மற்றும் III d. மேற்கண்ட எதுவுமில்லை

31. India's first 'fruit train' was flagged from.

- a. Renigunta Railway Station b. Kadappa Railway Station
c. Guntur Railway Station d. Jadipatri Railway Station

இந்தியாவின் முதல் "பழ இரயில்" எங்கு கொடியசைக்கப்பட்டது?

- a. ரேணிகுண்டா இரயில்நிலையம் b. கடப்பா இரயில் நிலையம்
c. குண்டூர் இரயில் நிலையம் d. ஜாதிபத்ரி இரயில் நிலையம்

32. The Integrated help line number of Indian Railways is

- a. 131 b. 113 c. 139 d. 193

இந்திய இரயில்வேயின் ஒருங்கிணைந்த உதவி எண்

- a. 131 b. 113 c. 139 d. 193

33. Prime Minister Narendra Modi inaugurated and delivered the inaugural address at the 107th Indian Science Congress in
 a. Gandhi Nagar b. Delhi c. Bangalore d. Hyderabad
 பிரதமர் நரேந்திர மோடி எங்கு நடைபெற்ற 107வது இந்திய அறிவியல் மாநாட்டை தொடக்கி வைத்து அதில் தொடக்க உரை நிகழ்த்தினார்?
 a. காந்தி நகர் b. டெல்லி c. பெங்களூர் d. ஹைதராபாத்
34. The 'Santusht' portal is related to
 a. Speed redressal of women
 b. Speedy redressal of Grievances of SC/ST
 c. Speedy redressal of employees and employer's grievances
 d. Investigation for child labours
 'Santusht' இணைய முகப்பு எதனுடன் தொடர்புடையது?
 a. பெண்களுக்கான விரைவான தீர்வு
 b. SC/ST பிரிவினரின் குறைகளுக்கான விரைவான தீர்வு
 c. ஊழியர்கள் மற்றும் முதலாளிகளின் குறைகளுக்கான விரைவான தீர்வு
 d. குழந்தைத் தொழிலாளர்கள் பற்றிய விசாரணை
35. Choose the correct statements about citizenship Amendment Act 2019.
 i. The act was passed by parliament on December-11
 ii. Received President's assent on December-12
 iii. The CAA will not apply to the Tribal areas of Assam, Meghalaya, Mizoram and Tripura
 a. i, ii, iii b. ii, iii c. i, ii d. i, iii
 குடியரிமைச் சட்டத் திருத்தம் 2019 தொடர்பான சரியான கூற்றுகளைத் தேர்ந்தெடு.
 i. இந்த சட்டம் பாராளுமன்றத்தில் டிசம்பர் 11ம் நாள் நிறைவேற்றப்பட்டது.
 ii. டிசம்பர் 12 ஆம் நாள் குடியரசுத்தலைவரின் ஒப்புதலைப் பெற்றது
 iii. குடியரிமைத் திருத்தச் சட்டம் அசாம், மேகாலயா, மிசோரம், திரிபுரா மாநில பழங்குடியினர் பகுதிகளுக்குப் பொருந்தாது.
 a. i, ii, iii b. ii, iii c. i, ii d. i, iii
36. Choose the correct statements about NEAT initiative
 i. It was launched to customize learning process using Artificial Intelligence
 ii. It will be a common one-stop to technological solutions.
 iii. It will be implemented by (CSIR)
 a. i, ii, iii b. i, ii c. ii, iii d. i, iii
 NEAT துவக்க முயற்சி பற்றிய சரியான கூற்றுகள் எவை?
 i. இது செயற்கை நுண்ணறிவைப் பயன்படுத்தி கற்றல் முறையை தனித்துவமாக்க தொடங்கப்பட்டது.
 ii. இது தொழில்நுட்ப தீர்வுகளுக்கான பொதுவான ஒரு இடம்
 iii. CSIR இதனை செயல்படுத்தவுள்ளது.
 a. i, ii, iii b. i, iii c. ii, iii d. i, iii
37. The 'Saksham' Campaign is related to
 a. Environmental Protection b. Fuel Conservation

c. Road Safety d. Poverty Alleviation

'Saksham' பேரணி எதனுடன் தொடர்புடையது

- a. சுற்றுச்சூழல் பாதுகாப்பு b. எரிபொருள் சேமிப்பு
c. சாலைப் பாதுகாப்பு d. வறுமை ஒழிப்பு

38. Choose the correct statements about Anglo-Indians

- i. The term Anglo-Indian first appeared in the Indian Independence Act, 1947.
ii. Parliament passed the 126th Constitutional Amendment bill, doing away with the provision of nomination of Anglo-Indians to Lok Sabha

- a. i, ii b. i c. ii d. none of the above

ஆங்கிலோ இந்தியர்கள் பற்றிய சரியான கூற்றைத் தேர்ந்தெடு.

- i. ஆங்கிலோ இந்தியர் என்ற பதம் முதலில் இந்திய சுதந்திரச் சட்டம் 1947இல் தோன்றியது.
ii. பாராளுமன்றம் 126-வது அரசியலமைப்பு சட்டத்திருத்த மசோதாவை நிறைவேற்றியுள்ளது. மக்களவையில் ஆங்கிலோ இந்தியர்களை பரிந்துரை செய்வதை நீக்குவது.

- a. i, ii b. i c. ii d. மேற்கண்ட ஏதுமில்லை

39. Choose the correct statements about Good Governance Index.

- i. It was published by NITI Aayog
ii. Tamil Nadu has topped the Good Governance Index.

- a. i, ii b. ii c. i d. none of the above

நல்லாட்சிக் குறியீடு பற்றிய சரியான கூற்றைத் தேர்ந்தெடு

- i. இது நிதி ஆயோக்கால் வெளியிடப்படுகிறது.
ii. தமிழ்நாடு நல்லாட்சிக் குறியீட்டில் முதலிடத்திலுள்ளது.

- a. i, ii b. ii c. i d. மேற்கண்ட ஏதுமில்லை

40. Women, business and the law 2020 report is published by

- a. International monetary Fund b. International Women's Forum
c. World Bank d. World Economic Forum

பெண்கள், வர்த்தகம் மற்றும் சட்டம் 2020 அறிக்கை யாரால் வெளியிடப்பட்டது?

- a. சர்வதேச நாணய நிதியம் (IMF) b. சர்வதேச பெண்கள் மன்றம்
c. உலக வங்கி d. சர்வதேச பொருளாதார மன்றம்

41. One Nation One Ration card Scheme will be implemented across India from

- a. January 1, 2021 b. June 1, 2021
c. June 1, 2020 d. January 1, 2020

“ஒரு தேசம் ஒரு குடும்ப அட்டை” திட்டம் இந்தியாவில் தொடங்கப்படும் நாள்

- a. ஜனவரி 1, 2021 b. ஜூன் 1, 2021
c. ஜூன் 1, 2020 d. ஜனவரி 1, 2020

42. The Supreme Court of India has held that Right of access to internet is a Fundamental Right under _____ of Indian Constitution

- a. Art 19(1) b. Art 20 c. Art 21 d. Art 19(2)

இணையத்தை அணுகும் உரிமையானது அடிப்படை உரிமை என உச்சநீதிமன்றம் இந்திய அரசமைப்பின் _____ ன் கீழ் கூறியுள்ளது.

- a. சட்டக்கூறு 19(1) b. சட்டக்கூறு 20 c. சட்டக்கூறு 21 d. சட்டக்கூறு 19(2)

43. Who is the Chairman of the Commission established to examine Sub-Categorisation of other Backward Classes (OBC)

- a. G. Rohini b. R. Banumathi
c. Indu Malhotra d. Indira Banerjee

இதர பிற்படுத்தப்பட்ட வகுப்பினரின் துணை வகைப்பாடுகளை ஆராய அமைக்கப்பட்டுள்ள குழுவின் தலைவர் யார்?

- a. G. ரோகினி b. R. பானுமதி
c. இந்து மல்லோத்ரா d. இந்திரா பானர்ஜி

44. Choose the correct Statements about Corona Virus

- i. China - reported the first death due to corona virus in the city of Wuhan.
ii. Corona viruses were first found in humans in 1960's.
iii. The virus can also infect cattle, dogs, pigs, camels and birds apart from human beings.

- a. i, ii, iii b. i, ii c. ii, iii d. i, iii

கொரோனா வைரஸ் தொடர்பான சரியான கூற்றுகள் எவை?

- i. வுகான் நகரில் கொரோனோ வைரஸ் காரணமாக முதல் இறப்பு நிகழ்ந்தது என சீனா அறிவித்துள்ளது.
ii. கொரோனோ வைரஸ்கள் மனிதனில் 1960களில் முதன்முறையாக கண்டறியப்பட்டது.
iii. இந்த வைரஸானது மனிதன் மட்டுமின்றி கால்நடைகள், நாய்கள், பன்றிகள், ஒட்டகங்கள், பறவைகள் ஆகியவற்றைத் தாக்கும்.

- a. i, ii, iii b. i, ii c. ii, iii d. i, iii

45. Match the following

- | | |
|----------------------------|-----------------|
| A. World Hindi Day | 1. January 12 |
| B. National Youth Day | 2. January 10 |
| C. National Hindi Day | 3. September 14 |
| D. National Girl Child Day | 4. January 24 |

- | | A | B | C | D |
|----|---|---|---|---|
| a. | 1 | 2 | 3 | 4 |
| b. | 2 | 1 | 3 | 4 |
| c. | 3 | 1 | 2 | 4 |
| d. | 3 | 2 | 1 | 4 |

பொருத்துக

- | | |
|-----------------------------|------------------|
| A. சர்வதேச இந்தி தினம் | 1. ஜனவரி 12 |
| B. தேசிய இளைஞர் தினம் | 2. ஜனவரி 10 |
| C. தேசிய இந்தி தினம் | 3. செப்டம்பர் 14 |
| D. தேசிய பெண் குழந்தை தினம் | 4. ஜனவரி 24 |

- | | A | B | C | D |
|----|---|---|---|---|
| a. | 1 | 2 | 3 | 4 |
| b. | 2 | 1 | 3 | 4 |
| c. | 3 | 1 | 2 | 4 |
| d. | 3 | 2 | 1 | 4 |

46. Choose the correct statements about fifteenth Finance Commission
- Chairmanship under N.K. Singh
 - Recommended for period of 2020-2025
 - It recommended 41% share of revenue to the states
- a. i, ii, iii b. ii, iii c. i, ii d. i, iii
- 15வது நிதிக்குழு பற்றிய சரியான கூற்றுகளைத் தேர்ந்தெடு
- N.K. சிங் இதன் தலைவர்
 - 2020 – 2025 காலத்திற்கு பரிந்துரைக்கப்பட்டது
 - இது மாநிலங்களுக்கு வருவாயில் 41% பங்களிக்க பரிந்துரைத்தது
- a. i, ii, iii b. ii, iii c. i, ii d. i, iii
47. MOSAiC Mission is related to
- Study of Artic Climate
 - Study outer corona of sun
 - First solar power spacecraft to orbit Jupiter
 - None of these
- MOSAiC மிஷன் எதனுடன் தொடர்புடையது
- ஆர்டிக் காலநிலையை ஆய்வு செய்ய
 - சூரியனின் வெளிப்புற கொரோனாவை ஆய்வு செய்ய
 - வியாழனுக்கு முதல் சூரிய சக்தி விண்கலம்
 - மேற்கண்ட ஏதுமில்லை
48. Choose the correct statement about Tamil Yeoman
- Tamil Yeoman is the butterfly endemic to Western Ghats which has been declared the state butterfly of Tamil Nadu
 - Tamil Nadu became the first state in the country to declare a state butterfly
- a. i only b. ii only c. both i and ii d. none of these
- தமிழ் ஏமன் தொடர்பான சரியான கூற்றுகளைத் தேர்ந்தெடு
- தமிழ் ஏமன் வண்ணத்துப் பூச்சிகள் மேற்கு தொடர்ச்சி மலையை வாழிடமாகக் கொண்டவை, இது தமிழகத்தின் மாநில வண்ணத்துப் பூச்சியாக அறிவிக்கப்பட்டுள்ளது
 - தமிழ்நாடு நாட்டின் மாநில வண்ணத்துப் பூச்சியை அறிவித்த முதல் மாநிலமாகும்
- a. i மட்டும் b. ii மட்டும் c. i மற்றும் ii d. இவை ஏதுமில்லை
49. Which of the following statements about 2019 World Air Quality Report is / are correct?
- It was released by the pollution tracker IQ Air and green peace
 - The ranking is based on a comparison of PM 2.5 levels
 - Bangladesh emerged as the most polluted country for PM 2.5
- a. i, ii, iii b. i, ii c. ii, iii d. i, iii
- சர்வதேச காற்று தர அறிக்கை 2019 பற்றிய சரியான கூற்றுகள் எவை?
- இது காற்று மாசு கண்காணிப்பு IQ மற்றும் பசுமை அமைதியால் வெளியிடப்படுகிறது
 - PM 2.5 அளவுகள் ஒப்பீடு அடிப்படையில் தரவரிசை அமைந்துள்ளது
 - வங்காள தேசம் PM 2.5 ஆக அதிகளவு மாசுபாடு கொண்ட நாடாக உள்ளது
- a. i, ii, iii b. i, ii c. ii, iii d. i, iii

50. Choose the correct statements about National Commission for Sustainable Agriculture. (NCSA)
- It has been formulated for enhancing agricultural productivity especially in rainfed areas
 - It promotes location specific integrated / composite farming system
 - Use of land survey, soil profile study and soil analysis
- a. i, ii, iii b. ii, iii c. i, ii d. i, iii
- நிலையான வேளாண்மைக்கான தேசிய குழு பற்றிய சரியான கூற்றுகளைத் தேர்ந்தெடு
- மானாவாரி நிலங்களில் வேளாண் உற்பத்தியை பெருக்குவதற்காக இது உருவாக்கப்பட்டுள்ளது
 - இது குறிப்பிட்ட பகுதியின் ஒருங்கிணைந்த / கூட்டு விவசாய முறையை ஊக்குவிக்கிறது
 - நில கணக்கெடுப்பு, மண் விவர ஆய்வு மற்றும் மண் பகுப்பாய்வுக்கு பயன்படும்
- a. i, ii, iii b. ii, iii c. i, ii d. i, iii
51. Which of the following statements about one stop centre (OSC) scheme is / are correct?
- It was established across the country to provide integrated support and assistance under one roof to women affected by violence both in private and public spaces
 - The OSC support only women below 18 years of age
 - The scheme is funded through Nirbhaya Fund
 - It was formulated by SAKHI Ministry of women and child development
- a. i, ii, iii, iv b. ii, iii, iv c. i, ii, iv d. i, iii, iv
- ஒரு நிறுத்த மையம் திட்டம் (OSC) தொடர்பான சரியான கூற்றுகள் எவை?
- தனிப்பட்ட அல்லது பொது இடங்களில் பெண்களுக்கெதிரான வன்முறைகளுக்கு ஒரு குடையின் கீழ் ஒருங்கிணைந்த உதவி கிடைக்க நாடு முழுவதும் நிறுவப்பட்டுள்ளது
 - OSC திட்டம் 18 வயதிற்குட்பட்ட பெண்களுக்கு மட்டும் உதவக்கூடியது
 - நிர்பயா நிதி மூலம் இந்த திட்டம் நிதியுதவி பெறுகிறது
 - இது SAKHI, பெண்கள் மற்றும் குழந்தைகள் மேம்பாட்டு அமைச்சகத்தால் வடிவமைக்கப்பட்டது
- a. i, ii, iii, iv b. ii, iii, iv c. i, ii, iv d. i, iii, iv
52. Choose the correct statements about Atal Jal Scheme
- It is a World Bank funded, Central Scheme
 - It is aimed at improving ground water management
 - It will be implemented in seven states
- a. i, ii, iii b. ii, iii c. i, iii d. i, ii
- அடல் ஜல் திட்டம் தொடர்பான சரியான கூற்றுகள் எவை?
- இது உலக வங்கி நிதியுதவி பெறும் மத்திய திட்டமாகும்
 - நிலத்தடி நீர் மேலாண்மையை மேம்படுத்துவதை நோக்கமாக கொண்டுள்ளது
 - இது ஏழு மாநிலங்களில் நிறுவப்பட உள்ளது
- a. i, ii, iii b. ii, iii c. i, iii d. i, ii
53. The official committees that have estimated the percentage of people living in poverty in India are
- Y.K. Alagh Committee
 - D.T. Lakdawala Committee
 - Suresh Tendulkar Committee
 - C. Rangarajan Committee



a. i, ii, iii, iv b. i, iv c. ii, iii d. ii, iii, iv
இந்தியாவில் வறுமையில் வாழும் மக்கள் சதவீதத்தை ஆய்வு செய்த அதிகாரப்பூர்வ குழுக்கள் எவை?

- i. Y.K. அலாக் குழு ii. D.T. லக்தவாலா குழு
iii. சுரேஷ் டெண்டுல்கர் குழு iv. C. ரங்கராஜன் குழு
a. i, ii, iii, iv b. i, iv c. ii, iii d. ii, iii, iv

54. Lunar Evacuation System Assembly (LESA) is related to

- a. Commercial Lunar Lander of NASA
b. Rescue an injured astronaut on the lunarsurface
c. Polar rover to scout for water
d. Successor to Chandrayaan - 2

நிலவுக்குரிய வெளியேற்றும் அமைப்பு சபை (LESA) எதனுடன் தொடர்புடையது?

- a. நாசாவின் வணிக நிலவு லேண்டர்
b. நிலவின் பரப்பில் காயமடைந்த விண்வெளி வீரர்களை மீட்கும் பணி
c. தண்ணீரை கண்டறிய துருவ ரோவர்
d. சந்திராயன் 2-க்கு அடுத்து வருவது

55. Human to Human transmission of Corona virus can happen through

- i. Respiratory droplets ii. contact iii. fomites
a. i, ii, iii b. ii, iii c. i, ii d. i, iii

மனிதனிலிருந்து மனிதனுக்கு கொரோனா வைரஸ் எதன் வழியாக பரவும்

- i. சுவாசத் துளிகள் ii. தொடுதல் iii. உபயோகப்படுத்திய பொருட்கள்
a. i, ii, iii b. ii, iii c. i, ii d. i, iii

56. Xenobots is _____

- a. Artificial Intelligence (AI) based Super Computer
b. India's first humanoid robot
c. World's first living robots
d. Half Humanoid Robots

செனோபாட்ஸ் என்பது

- a. செயற்கை நுண்ணறிவு சார்ந்த மேம்பட்ட கணினி
b. இந்தியாவின் முதல் மனிதப் பண்பு கொண்ட ரோபோ
c. உலகின் முதல் உயிருள்ள ரோபோக்கள்
d. பாதி மனிதப் பண்பு கொண்ட ரோபோ

57. Choose the correct pairs regarding India's assistance and the countries associated

- i. Operation Vanilla : Madagascar
ii. Operation Samudra Maitri : Indonesia
iii. Operation Maitri : Bangladesh

- a. i, ii, iii b. i, ii c. ii, iii d. i, iii

இந்தியாவின் உதவி மற்றும் தொடர்புடைய நாடுகள் பற்றிய சரியான இணையைத் தேர்ந்தெடு

- i. வெண்ணிலா நடவடிக்கை : மடகாஸ்கர்
ii. சமுத்ரா மைத்ரி நடவடிக்கை : இந்தோனேசியா

iii. மைத்ரி நடவடிக்கை : வங்கதேசம்

- a. i, ii, iii b. i, ii c. ii, iii d. i, iii

58. Mangdechhu hydroelectric power plant funded by India is developed in which country?

- a. Bangladesh b. Afghanistan c. Nepal d. Bhutan

இந்தியாவின் நிதி உதவியுடன் எந்த நாடு மங்க்டெச்சு நீர்மின் நிலையத்தை உருவாக்கியுள்ளது?

- a. வங்கதேசம் b. ஆப்கானிஸ்தான் c. நேபாளம் d. பூடான்

59. Surajkund International Crafts Fair 2020 was held in

- a. Haryana b. Assam c. Arunachal Pradesh d. Madhya Pradesh

சுராஜ் குந்த் சர்வதேச கைவினைப்பொருள் கண்காட்சி 2020 எங்கு நடைபெற்றது?

- a. ஹரியானா b. அஸ்ஸாம்
c. அருணாச்சலபிரதேசம் d. மத்தியபிரதேசம்

60. According to Traffic Index 2019 which of the following city was the world's most traffic congested city with drivers?

- a. Dhaka b. Bangalore c. Mumbai d. Delhi

போக்குவரத்து நெரிசல் குறியீடு 2019இன் அறிக்கைப்படி உலகின் மிக அதிக போக்குவரத்து நெரிசல் கொண்ட நகரம் எது?

- a. டாக்கா b. பெங்களூர் c. மும்பை d. டெல்லி

61. Choose the correct statements about Tangi application

- i. It was launched by Google
ii. It aims to promote news literacy among Indians
a. i, ii b. i c. ii d. none of these

“Tangi” செயலி பற்றிய சரியான கூற்றுகளைத் தேர்ந்தெடு

- i. இது கூகுள் நிறுவனத்தால் அறிமுகப்படுத்தப்பட்டது
ii. இது இந்தியர்களுக்கிடையே செய்தி கல்வியறிவை ஊக்குவிக்கும் நோக்கம் கொண்டது
a. i, ii b. i c. ii d. ஏதுமில்லை

62. EASE 3.0 is related to

- a. Banking reforms b. Electoral reforms
c. Tax reforms d. Both a and b

EASE 3.0 எதனுடன் தொடர்புடையது?

- a. வங்கி சீர்திருத்தம் b. தேர்தல் சீர்திருத்தம்
c. வரி சீர்திருத்தம் d. a மற்றும் b இரண்டும்

63. The first anniversary of the National war Memorial was observed on

- a. 21st February 2020 b. 23rd February 2020
c. 24th February 2020 d. 25th February 2020

தேசிய போர் நினைவுச்சின்னத்தின் முதலாமாண்டு நிறைவு விழா எப்போது கொண்டாடப்பட்டது?

- a. 21 பிப்ரவரி 2020 b. 23 பிப்ரவரி 2020
c. 24 பிப்ரவரி 2020 d. 25 பிப்ரவரி 2020

64. Choose the correct statements about G-20 Nations Meet 2020
- It was held at Riyadh, Saudi Arabia
 - It discussed the global economy and the risks from the corona virus epidemic
- a. i, ii b. ii c. i d. none
- G20 நாடுகள் சந்திப்பு 2020 தொடர்பான சரியான கூற்றுகளைத் தேர்ந்தெடு
- இது சவுதி அரேபியாவின் ரியாத்தில் நடைபெற்றது
 - இதில் உலக பொருளாதாரம் மற்றும் கொரோனா தொற்றுநோயின் அபாயம் குறித்து விவாதிக்கப்பட்டது
- a. i, ii b. ii c. i d. ஏதுமில்லை
65. The Young Blue Hole (YBH) was discovered in
- South China Sea
 - Arabian Sea
 - Mediterranean Sea
 - Caspian Sea
- இளம் நீலத் துளை (YBH) எங்கு கண்டறியப்பட்டுள்ளது?
- தென் சீனக்கடல்
 - அரபிக்கடல்
 - மத்திய தரைக்கடல்
 - காஸ்பியன் கடல்
66. The largest cricket stadium in the world was build in
- Calcutta
 - Delhi
 - Ahamadabad
 - Mumbai
- உலகின் மிகப்பெரிய கிரிக்கெட் மைதானம் எங்கு கட்டப்பட்டுள்ளது?
- கல்கத்தா
 - டெல்லி
 - அகமதாபாத்
 - மும்பை
67. The current Chief Information Commissioner was
- Sudheer Bhargava
 - Vijay Sharma
 - Radha Krishna Mathur
 - Bimal Julka
- தற்போதைய தலைமைத் தகவல் ஆணையர் யார்?
- சுதீர் பார்கவா
 - விஜய் சர்மா
 - இராதா கிருஷ்ணா மத்தூர்
 - பிமல் ஜீக்லா
68. Central Excise Day was observed on
- February 21
 - February 22
 - February 23
 - February 24
- மத்திய கலால் நாள் எப்போது அனுசரிக்கப்பட்டது?
- பிப்ரவரி 21
 - பிப்ரவரி 22
 - பிப்ரவரி 23
 - பிப்ரவரி 24
69. Which of the following state established the First Disha Police Station?
- Kerala
 - Karnataka
 - Telangana
 - Andhra Pradesh
- முதல் திஷா காவல் நிலையம் எந்த மாநிலத்தில் நிறுவப்பட்டுள்ளது?
- கேரளா
 - கர்நாடகம்
 - தெலுங்கானா
 - ஆந்திரப்பிரதேசம்

70. Who is the Tamil Poet received the Bal Puraskar Award for the year 2019 by Sahitya Academy?
 a. Sabarinathan b. Piraisoodan
 c. Devi Nachiyappan d. Vairamuthu
 சாகித்திய அகாடெமியின் 2019க்கான பால புரஸ்கார் விருது வென்ற தமிழ்க் கவிஞர் யார்?
 a. சபரிநாதன் b. பிறைசூடன்
 c. தேவி நாச்சியப்பன் d. வைரமுத்து
71. Which position does Tamilnadu occupy in organ Transplantation during 2019?
 a. First place b. Second place c. Third place d. Fifth place
 உறுப்பு மாற்று அறுவை சிகிச்சையில் 2019ஆம் ஆண்டில் தமிழகத்தின் இடம் என்ன?
 a. முதல் இடம் b. இரண்டாம் இடம் c. மூன்றாம் இடம் d. ஐந்தாம் இடம்
72. President Ram Nath Kovind presented the President's colours Award to
 a. INS Arihant b. INS Shivajic. INS Vikrant d. INS Viraat
 குடியரசுத் தலைவரின் 'colours' விருதை குடியரசுத் தலைவர் ராம்நாத் கோவிந்த் _____ க்கு வழங்கினார்
 a. INS அரிஹந்த் b. INS சிவாஜி c. INS விக்ராந்த் d. INS விராட்
73. Who was the head of "Shri Ram Janma Bhoomi Teerth Kshetra Trust"?
 a. K. Parasaran b. Ashok Bhusan
 c. S. Abdul Nazeer d. S.A. Bobde
 "ஸ்ரீராம ஜென்ம பூமி யாத்திரை பகுதி தொண்டு நிறுவனத்தின் தலைவர் யார்?
 a. K. பராசரன் b. அசோக் பூஷன்
 c. S. அப்துல் நசீர் d. S.A. பாப்தே
74. Municipal Performance Index was released by
 a. Ministry of Housing and Urban Affairs
 b. NITI Aayog
 c. Ministry of Home Affairs
 d. Ministry of Housing and Urban Poverty Alleviation
- நகராட்சி செயல்பாட்டு குறியீட்டை எது வெளியிடுகிறது?
 a. வீட்டுவசதி மற்றும் நகர்ப்புற விவகாரங்கள் துறை அமைச்சகம்
 b. நிதி ஆயோக்
 c. உள்துறை அமைச்சகம்
 d. வீட்டு வசதி மற்றும் நகர்ப்புற வறுமை ஒழிப்பு அமைச்சகம்
75. Choose the incorrect pair Regarding "Sister Cities" under Smart Cities Mission
 i. Varanasi - Amritsar ii. Pune - Dharmasala
 iii. Ahamadabad - Chandigarh iv. Bhopal - Shillong
 a. i, ii b. iii c. iv d. ii

“பொலிவுறு நகரங்கள் திட்டத்தின் கீழ்” சகோதரி நகரங்கள் தொடர்பாக தவறான இணையைக் காண்க

- i. வாரணாசி – அமிர்தசரஸ் ii. புனே – தர்மசாலா
iii. அகமதாபாத் - சண்டிகர் iv. போயால் - ஷில்லாங்
a. i, ii b. iii c. iv d. ii

76. A town, 65% people watched the news on television, 40% read a newspaper and 25% read a newspaper and watched the news on television also. What percentage of the people neither watched the news on television nor read a newspaper?

- a. 5 b. 10 c. 15 d. 20

ஒரு நகரில் 65 சதவீத மக்கள் தொலைக்காட்சி செய்தி பார்த்தனர். 40 சதவீதம் பத்திரிகை படித்தனர். 25 சதவீதம் தொலைக்காட்சியும் கண்டு ஏடுகளும் படித்தனர் என்றால் எத்தனை சதவீத மக்கள் இரண்டும் பயன்படுத்தாமல் இருந்தனர்.

- a. 5 b. 10 c. 15 d. 20

77. I bought fruits from the market in a bag. Looking at the bag, my daughter asked me about the quantities of fruits. I replied all are oranges except 15, all are mangoes except 20, all the bananas except 25 how many fruits are there in the bag?

- a. 40 b. 60 c. 50 d. 30

நான் சந்தையிலிருந்து ஒரு பையில் பழங்கள் வாங்கி வந்தேன். பையை பார்த்த என் மகள் பழங்களின் எண்ணிக்கையை கேட்டாள். 15 தவிர எல்லாம் ஆரஞ்சு பழங்கள் என்றும், 20 நீங்கலாக அனைத்தும் மாம்பழங்கள், 25 நீங்கலாக அனைத்தும் வாழைப்பழங்கள் என்றும் கூறினேன். பையிலிருந்த பழங்களின் மொத்த எண்ணிக்கை என்ன?

- a. 40 b. 60 c. 50 d. 30

78. The number given is 5894327614. We inter-change the first and the second, the third and the fourth, the fifth and the sixth and so on. Then when we count from the right end, which digit will be the sixth?

- a. 3 b. 2 c. 4 d. 5

கொடுக்கப்பட்டுள்ள எண் 5894327614, இதில் முதல், இரண்டாம் எண்கள் ஒன்றின் இடத்தில் மற்றொன்றும், மூன்றாம்-நான்காம், ஐந்தாம்-ஆறாம், இது போன்று மற்ற எண்களும் இடம் மாற்றப்படுகின்றன. வலது கோடியில் இருந்து எண்ணினால் எந்த எண் ஆறாவது இடத்தில் இருக்கும்?

- a. 3 b. 2 c. 4 d. 5

79. In the series

6 4 1 2 2 8 7 4 2 1 5 3 8 6 2 1 7 1 4 1 3 2 8 6

How many pairs of alternate numbers have a difference of 2?

- a. 2 b. 4 c. 6 d. 8

6 4 1 2 2 8 7 4 2 1 5 3 8 6 2 1 7 1 4 1 3 2 8 6

என்ற தொடரில் ஒன்றுவிட்டு ஒன்று எண்களாக எத்தனை ஜோடிகளின் வித்தியாசம் 2 எனக் காண்க:

- a. 2 b. 4 c. 6 d. 8

80. A book contains 300 pages. Each page has 32 lines with the same content, how many pages will the book contain if every page has 24 lines?

- a. 350 b. 400 c. 425 d. 375

ஒவ்வொரு பக்கத்திலும் 32 வரிகளைக் கொண்ட புத்தகத்தின் மொத்தப் பக்கங்கள் 300. அதே செய்தி ஒவ்வொரு பக்கத்திலும் 24 வரிகளாக இருந்தால், புத்தகத்தின் மொத்தப் பக்கங்கள் எவ்வளவாக இருக்கும்?

- a. 350 b. 400 c. 425 d. 375

81. In a zoo, there are rabbits and pigeons. If heads are counted, there are 200 and if legs are counted, there are 580. How many pigeons are there?

- a. 90 b. 100 c. 110 d. 120

ஒரு சரணாலயத்தில் சில முயல்களும் சில புறாக்களும் இருந்தன. தலைகளை கணக்கிடும் போது 200ம் அதேபோல் கால்களை கணக்கிடும் போது 580ம் இருந்தன எனில் எத்தனை புறாக்கள் இருந்தன

- a. 90 b. 100 c. 110 d. 120

82. A student got twice as many sums wrong as he got right. If he attempted 48 sums in all, how many did he solve correctly?

- a. 12 b. 16 c. 18 d. 24

ஒரு மாணவன் போட்ட 48 கணக்குகளில் சரியாக போட்டதை விட இரண்டு மடங்கு தவறாக இருப்பின், சரியாக போட்ட கணக்குகள் எவ்வளவு?

- a. 12 b. 16 c. 18 d. 24

83. Position of A is 7th from the left and position of B is 9th from the right and they exchange their position. The position of A is 11 from left. Find number of persons in that row?

- a. 20 b. 19 c. 18 d. 21

ஒரு வரிசையில் A என்ற நபர் இடது புறத்தில் இருந்து 7-வதாகவும், B என்ற நபர் வலது புறத்தில் இருந்து 9-வதாகவும் அமர்ந்துள்ளனர். பின்னர் இவ்விருவரும் ஒருவருக்கொருவர் இடம் மாற்றிக்கொண்டனர். இப்பொழுது நபர் A இடது புறத்தில் இருந்து 11-வதாக அமர்ந்துள்ளார் எனில் அவ்வரிசையில் உள்ள மொத்த மாணவர்களின் எண்ணிக்கை?

- a. 20 b. 19 c. 18 d. 21

84. A class starts at 10 A.M and lasts till 1.27 P.M. Four periods are held during this interval. After every period, 5 minutes are given free to the students. The exact duration of each period is

- a. 42 minutes b. 48 minutes c. 51 minutes d. 53 minutes

ஒரு வகுப்பு 10 A.M க்கு தொடங்கி 1.27 P.M. க்கு முடிகிறது. பாடங்கள் நான்கு சம பீரியடுகளாக நடத்தப்பட்டு ஒவ்வொரு பீரியடுகளின் முடிவில் 5 நிமிடங்கள் மாணவர்களுக்கு ஓய்வு தரப்படுகிறது எனில் ஒரு பீரியடின் கால அளவு என்ன?

- a. 42 நிமிடங்கள் b. 48 நிமிடங்கள் c. 51 நிமிடங்கள் d. 53 நிமிடங்கள்

85. In an examination, a student scores 4 marks for every correct answer and loses 1 mark for every wrong answer. If he attempts all 75 questions and secures 125 marks, the number of questions he attempts correctly, is

- a. 35 b. 40 c. 42 d. 46



ஒரு தேர்வில் ஒரு மாணவர் சரியான விடை ஒவ்வொன்றுக்கும் 4 மதிப்பெண்ணும் ஒரு தவறான விடைக்கு 1 மதிப்பெண் கழிப்பதும் பெறுகிறார். 75 வினாக்களுக்கு விடையளித்து 125 மதிப்பெண் பெற்றால் அவர் சரியாக விடையளித்த வினாக்கள் எத்தனை?

- a. 35 b. 40 c. 42 d. 46

86. There are 2 examination rooms A and B. If 10 candidates are sent from A to B, the number in each is the same. If 20 candidates are sent from B to A, the number in A is double the number in B. The number of candidates in room A and room B are respectively.

- a. 100, 80 b. 180, 100 c. 20, 80 d. 120, 100

A மற்றும் B என்ற இரண்டு தேர்வறைகளில் A என்ற அறையிலிருந்து 10 மாணவர்கள் Bக்கு அனுப்பப்பட்டால் இரண்டு அறைகளில் உள்ள மாணவர்களின் எண்ணிக்கை சமம். Bல் இருந்து 20 மாணவர்கள் A என்ற அறைக்கு அனுப்பப்பட்டால் Aல் உள்ள மாணவர்கள் Bல் உள்ள மாணவர்களைப் போல் இரு மடங்கு எனில், A, B அறைகளில் உள்ள மாணவர்களின் எண்ணிக்கை முறையே

- a. 100, 80 b. 180, 100 c. 20, 80 d. 120, 100

87. A voluntary organization planted a total of 106 trees along the road side. Some of the trees were fruit bearing trees. If the number of non-fruit bearing trees was two more than thrice the number of fruit bearing trees, what was the number of fruit bearing trees planted?

- a. 20 b. 22 c. 24 d. 26

ஒரு தன்னார்வ தொண்டு நிறுவனம் ஒரு தேசிய நெடுஞ்சாலையின் இரு புறங்களிலும் மரங்கள் நட்பன. அவற்றில் சில கனி தரும் மரங்கள், கனி தராத மரங்களின் எண்ணிக்கை கனி தரும் மரங்களின் எண்ணிக்கையின் மூன்று மடங்கோடு இரண்டை கூட்டினால் வரும். மொத்தம் 106 மரங்கள் நடப்பட்டு இருந்தால், கனி தரும் மரங்களின் எண்ணிக்கை எவ்வளவு?

- a. 20 b. 22 c. 24 d. 26

88. Consider the following statements

- i. Gopal is shorter than Ashok but taller than Kunal;
ii. Navin is shorter than Kunal;
iii. Jayesh is taller than Navin;
iv. Ashok is taller than Jayesh.

Who among them is the tallest?

- a. Gopal b. Ashok c. Kunal d. Navin

பின்வரும் கூற்றுகளை ஆய்க

- i. கோபால் என்பவர் அசோக்-ஐ விட உயரம் குறைந்தவர் ஆனால் குணால்-ஐ விட உயரம் அதிகம் கொண்டவர்.
ii. நவீன் என்பவர் குணால்-ஐ விட உயரம் குறைந்தவர்.
iii. ஜெயேஷ் என்பவர் நவீனை விட உயரம் அதிகம் கொண்டவர்.
iv. அசோக் என்பவர் ஜெயேஷ்-ஐ விட உயரம் அதிகம் கொண்டவர் எனில் இவர்களில் உயரம் அதிகம் கொண்ட நபர் யார்?

- a. கோபால் b. அசோக் c. குணால் d. நவீன்

89. If '+' means 'minus', '×' means 'divided by', '÷' means 'plus' and '—' means 'multiplied by', then which of the following will be the value of the expression $252 \times 9 - 5 + 32 \div 92$?

- a. 95 b. 168 c. 192 d. 200

+ என்பது கழித்தல் என்றும் x என்பது வகுத்தல் என்றும், ÷ என்பது கூட்டல் என்றும், - என்பது பெருக்கல் என்றும் எழுதப்பட்டால் பின்வருவனவற்றில் $252 \times 9 - 5 + 32 \div 92$ -ன் மதிப்பு எதுவாக இருக்கும்?

- a. 95 b. 168 c. 192 d. 200

90. If L stands for +, M stands for -, N stands for ×, P stands for ÷, then
14 N 10 L 42 P 2 M 8 = ?

- a. 153 b. 216 c. 248 d. 251

L என்பது + என்றும், M என்பது - என்றும், N என்பது x என்றும், P என்பது ÷ என்றும் எழுதப்பட்டால் $14 N 10 L 42 P 2 M 8 = ?$

- a. 153 b. 216 c. 248 d. 251

91. If '-' stands for 'division', '+' for 'multiplication', '÷' for 'subtraction' and '×' for 'addition', then which one of the following equations is correct?

- a. $4 \times 5 + 9 - 3 \div 4 = 15$ b. $4 \times 5 \times 9 + 3 \div 4 = 11$
c. $4 - 5 \div 9 \times 3 - 4 = 17$ d. $4 \div 5 + 9 - 3 + 4 = 18$

- என்பது வகுத்தல் என்றும், + என்பது பெருக்கல் என்றும், ÷ என்பது கழித்தல் என்றும், x என்பது கூட்டல் என்றும் எழுதப்பட்டால் பின்வருவனவற்றில் சரியானதை காண்க

- a. $4 \times 5 + 9 - 3 \div 4 = 15$ b. $4 \times 5 \times 9 + 3 \div 4 = 11$
c. $4 - 5 \div 9 \times 3 - 4 = 17$ d. $4 \div 5 + 9 - 3 + 4 = 18$

92. If TRIANGLE is coded as SQHZMFKD, which word would be coded as DWZLOKD?

- a. DISMISS b. DISJOIN c. ADJOINT d. EXAMPLE

TRIANGLE என்பது SQHZMFKD என குறியிடப்பட்டால், கீழ்க்கண்டவற்றுள் எந்த வார்த்தை DWZLOKD என்று குறியிடப்படும்?

- a. DISMISS b. DISJOIN c. ADJOINT d. EXAMPLE

93. If ROAD is coded as URDG then SWAN is coded as

- a. VXDQ b. VZDQ c. VZCP d. UXDQ

ROAD என்பது URDG என குறியிடப்பட்டால் SWAN என்பது எவ்வாறு குறியிடப்படும்?

- a. VXDQ b. VZDQ c. VZCP d. UXDQ

94. In a certain code word ACEG is written as 16 and DFGH is written as 25 then how can be written HIKM

- a. 36 **b. 41** c. 40 d. 39

ACEG என்ற வார்த்தை 16 எனவும், DFGH என்ற வார்த்தை 25 எனவும் குறிக்கப்பட்டால் HIKM என்ற வார்த்தை எந்த எண்ணால் குறிக்கப்படும்?

- a. 36 **b. 41** c. 40 d. 39

95. If DOCTOR corresponds to the numbers 4, 15, 3, 20, 15, 18 then the numbers 3, 21, 18, 5, 19 corresponds to

- a. CUTES b. CURES c. CUBES d. CARES

DOCTOR என்பது 4, 15, 3, 20, 15, 18 ஆகிய எண்களுக்குரியது எனில் 3, 21, 18, 5, 19 ஆகிய எண்கள் குறிப்பது

- a. CUTES b. CURES c. CUBES d. CARES

96. TAMIL is coded as RCKKJ then MATHS is coded as

- a. KCRJQ b. KCRRU c. RCKKU d. RCKJQ

TAMIL என்னும் சொல் RCKKJ எனக் குறியீட்டாக்கம் செய்யப்பட்டால் MATHS எனும் சொல்லுக்குரிய குறியீட்டாக்கம் எது?

- a. KCRJQ b. KCRRU c. RCKKU d. RCKJQ

97. Which one will replace the question mark?

பின்வரும் படத்திலிருந்து விடுபட்ட எண்ணைக் காண்க.

4	5	29
7	3	?
6	8	62

- a. 25 b. 31 c. 39 d. 40

98. Which one will replace the question mark?

பின்வரும் படத்திலிருந்து விடுபட்ட எண்ணைக் காண்க.

9	3	8	2	12	6
72		60		?	

- a. 102 b. 68 c. 108 d. 96

99. Statements: All green are blue. All blue are white.

Conclusions: 1. Some blue are green. 2. Some white are green.

3. Some green are not white.

- a. Only (1) and (2) b. Only (2) and (3)
c. Only (2) d. All of these

வாக்கியம் : அனைத்து பச்சை நிறங்களும் நீல நிறங்கள் ஆகும். அனைத்து நீல நிறங்களும் வெள்ளை நிறங்கள் ஆகும்.

முடிவு : 1. சில நீல நிறங்கள் பச்சை நிறங்கள் ஆகும்.
2. சில வெள்ளை நிறங்கள் பச்சை நிறங்கள் ஆகும்.
3. சில பச்சை நிறங்கள் வெள்ளை நிறங்கள் இல்லை.

- a. (1) மற்றும் (2) மட்டும் b. (2) மற்றும் (3) மட்டும்
c. 2 மட்டும் d. அனைத்தும்

100. Statements : Some ants are parrots. All the parrots are apples.
Conclusions: I. All the apples are parrots.
II. Some ants are apples.
a. Only (1) conclusion follows
b. Only (2) conclusion follows
c. Either (1) or (2) follows
d. Neither (1) nor (2) follows
வாக்கியம் : சில எறும்புகள் கிளிகளாகும். அனைத்து கிளிகளும் ஆப்பிள்கள் ஆகும்.
முடிவு : I. அனைத்து ஆப்பிள்களும் கிளிகள் ஆகும்.
II. சில எறும்புகள் ஆப்பிள்கள் ஆகும்.
a. முடிவு 1 மட்டும் சரி b. முடிவு 2 மட்டும் சரி
c. 1 அல்லது 2 சரி d. 1 அல்லது 2 சரியல்ல
101. A Railway clock strikes once at 1 O'clock, twice at 2 O'clock and so on. How many strokes will it strike a day?
a. 300 b. 156 c. 250 d. 78
ஒரு ரெயில் நிலைய கடிக்காரம் 1 மணிக்கு ஒருதரம் 2 மணிக்கு இரண்டு தரம், என்றவாறு மணி ஒலிக்குமாறு அமைக்கப்பட்டிருந்தால் ஒரு நாளில் அக்கடிக்காரம் மணி ஒலித்ததின் எண்ணிக்கை
a. 300 b. 156 c. 250 d. 78
102. A pineapple costs Rs. 7 each. A watermelon costs Rs. 5 each, X spends Rs. 38 on these fruits. The number of pineapples purchased is
a. 2 b. 3 c. 4 d. Data inadequate
அன்னாசிப்பழம் ஒவ்வொன்றும் ரூ.7 ஆகவும், தர்ப்பூசனி ஒவ்வொன்றும் ரூ.5 ஆகவும் உள்ளன. X என்பவர் இப்பழங்களில் ரூ.38 செலவிடுகிறார் எனில், அவர் வாங்கிய அன்னாசிப்பழங்கள் எத்தனை?
a. 2 b. 3 c. 4 d. விபரம் போதுமானதல்ல
103. A man ate 100 grapes in 5 days. Each day, he ate 6 more grapes than those he ate on the earlier day. How many grapes did he eat on the first day.
a. 8 b. 12 c. 76 d. 54
ஒருவர் ஒவ்வொரு நாளும் முந்தைய நாள் சாப்பிட்ட திராட்சைகளின் எண்ணிக்கையைவிட 6 திராட்சைகள் கூடுதலாக சாப்பிடுகிறார். 5 நாட்களில் 100 திராட்சைகள் சாப்பிட்டால் முதல் நாள் அவர் சாப்பிட்ட திராட்சைகளின் எண்ணிக்கை என்ன?
a. 8 b. 12 c. 76 d. 54
104. P is father of R. T is son of Q. V is brother of P. If R is sister of T. how is Q related to V?
a. Sister-in-law b. Niece c. Nephew d. Cousin
P என்பவர் R-ன் தந்தை. T என்பவர் Q-ன் மகன். V என்பவர் P-ன் சகோதரர். R என்பவர் T-ன் சகோதரி எனில், Q என்பவர் Vக்கு எந்த வகையில் உறவு?
a. மைத்துனி
b. சகோதரன்/சகோதரியின் மகள்
c. சகோதரன்/சகோதரியின் மகன்
d. சித்தப்பன் /பெரியப்பனின் மகன் (அ)மகள்

105. Rajat was born on March 6, 2009. The same year Independence Day was celebrated on Saturday. On which day Rajat was born?
 a. Friday b. Thursday c. Saturday d. Monday
 ரஜத் என்பவர் மார்ச் 6, 2009 அன்று பிறந்தார். அதே வருடத்தில் சுதந்திர நாள் சனிக்கிழமை அன்று கொண்டாடப்பட்டது எனில், ரஜத் எந்த நாளில் பிறந்திருப்பான்?
 a. வெள்ளி b. வியாழன் c. சனிக்கிழமை d. திங்கள்
106. If a clock shows 6.45 AM, what is the angle between the needles?
 a. 90° b. 45° c. 22.5° d. 67.5°
 கடிகாரத்தில் காலை 6.45 மணிநேரம் காட்டுகின்றது எனில், அதன் நேரமுள்ளுக்கும் நிமிட முள்ளுக்கும் இடையில் காட்டுகின்ற கோணம் என்ன?
 a. 90° b. 45° c. 22.5° d. 67.5°
107. Complete the series 1 ZA, 3 YB, 6 XC, 10 WD, ?
 a. 14 VE b. 15 UE c. 12 VE d. 15 VE
 1 ZA, 3 YB, 6 XC, 10 WD, ? என்ற வரிசையை நிரப்புக
 a. 14 VE b. 15 UE c. 12 VE d. 15 VE
108. A is elder to B while C and D are elder to E who lies between A and C. If C be elder to B, Which one of the following statements is necessarily true?
 a. A is elder to C b. C is elder to D
 c. D is elder to C d. E is elder to B
 A என்பவர் Bயை விட முத்தவர். C மற்றும் D ஆகியோர் E யை விட முத்தவர்கள். E என்பவர் A மற்றும் C வயதுக்கு இடைப்பட்டவர். C என்பவர் B க்கு முத்தவர் எனில், கீழ்க்கண்ட கூற்றுகளில் எது சரியானது?
 a. A என்பவர் Cயை விட முத்தவர் b. C என்பவர் Dயை விட முத்தவர்
 c. D என்பவர் Cயை விட முத்தவர் d. E என்பவர் Bயை விட முத்தவர்
109. Pick the 1st, 2nd, 4th, 5th and 6th letters of the word 'REASONING', form yet another word and then write the 1st and the last letters of the word formed
 a. OR b. NE c. SE d. ES
 'REASONING' என்ற வார்த்தையின் முதல், இரண்டாவது, நான்காவது, ஐந்தாவது மற்றும் ஆறாவது எழுத்துக்களை எடுத்து ஒரு புதிய வார்த்தையை உருவாக்கி அதன் முதல் எழுத்தையும், கடைசி எழுத்தையும் எழுதினால் அது
 a. OR b. NE c. SE d. ES
110. Meena ranks 21st in a class of a fifty-one. What is her rank from the last.
 a. 30th b. 32nd c. 20th d. 31st
 51 பேர் கொண்ட வகுப்பில் மீனாவின் தரவரிசை 21 எனில், அவளின் தரவரிசை கடைசியிலிருந்து எத்தனையாவது?
 a. 30th b. 32nd c. 20th d. 31st

(Q.No: 111 - 117): What number should replace the question bank?

பின்வரும் எண்வரிசையின் அடுத்த எண் என்ன?

111. 68, 64, 32, 28, 14, 10, 5, ?
a. 1 b. 2 c. 3 d. 4
112. 3, 15, ?, 63, 99, 143
a. 27 b. 45 c. 35 d. 56
113. 3, 28, 4, 65, 5, 126, 6, ?
a. 215 b. 216 c. 217 d. 218
114. 0, 6, 24, 60, 120, 210, (?)
(A)290 (B)240 (C)336 (D)504
115. 7 8 4 13 -3 22 ?
A. -7 B. -10 C. -12 D. -14
116. $\frac{2}{\sqrt{5}}, \frac{3}{5}, \frac{4}{5\sqrt{5}}, \frac{5}{25}, ?$
a. $\frac{6}{5\sqrt{5}}$ b. $\frac{6}{25\sqrt{5}}$ c. $\frac{6}{125}$ d. $\frac{7}{25}$
117. 1, 8, 9, 64, 25, ?, 49
A. 210 B. 212 C. 214 D. 216
- (118 - 123): Find the wrong number in the series :
கொடுக்கப்பட்ட தொடரில் அமைந்த தவறான எண்ணைக் காண்க.
118. 10, 14, 28, 32, 64, 68, 132
a. 32 b. 132 c. 14 d. 10
119. 1, 5, 14, 30, 50, 55, 91
a. 5 b. 50 c. 55 d. 91
120. 8, 13, 21, 32, 47, 63, 83
a. 47 b. 63 c. 32 d. 83
121. 25, 36, 49, 81, 121, 169, 225
a. 36 b. 49 c. 121 d. 169

122. 15, 30, 90, 180, 540, 1090, 3240
a. 3240 b. 1090 c. 540 d. 180

123. 4, 9, 19, 39, 79, 149, 319
a. 319 b. 149 c. 79 d. 39

124. Three different positions X, Y and Z of a dice are shown in the figures given below. Which number lies at the bottom face in position Y?

X, Y, மற்றும் Z என்ற பகடைகள் வெவ்வேறு நிலைகளில் கீழே கொடுக்கப்பட்டுள்ளது. பகடை Y யில் கீழே உள்ள எண் எது?



(X)



(Y)



(Z)

a. 1 b. 2 c. 5 d. 3

125. What is the opposite 3, if four different positions of dice are as shown below?

நான்கு வெவ்வேறு நிலைகளை கொண்ட பகடைகள் கீழே கொடுக்கப்பட்டுள்ளன. 3 என்ற எண்ணின் எதிர்பக்க எண் யாது?



(i)



(ii)



(iii)

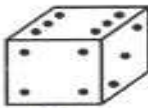


(iv)

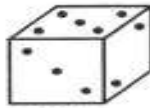
a. 6 b. 4 c. 3 d. 2

126. Two positions of a block are shown below. When 2 is at the bottom, which number will be at the top?

இரண்டு வெவ்வேறு நிலைகளை கொண்ட பகடைகள் கீழே கொடுக்கப்பட்டுள்ளன. 2 என்ற எண் கீழ்ப்பக்கம் இருந்தால் மேலே உள்ள எண் எது?



(i)

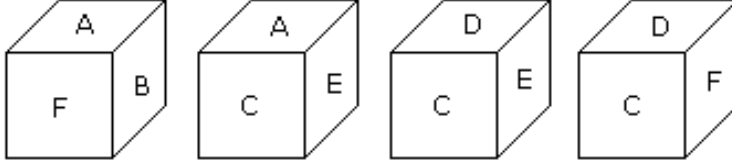


(ii)

a. 1 b. 4 c. 6 d. 5

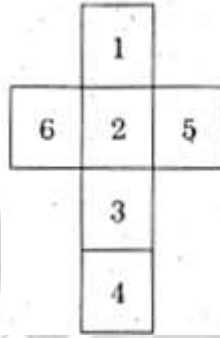
127. From the positions of a cube are shown below, which letter will be on the face opposite to face with 'A'?

A என்ற எழுத்தின் எதிர்ப்பக்கமுள்ள எழுத்து எது?



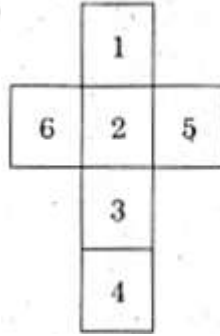
- a. D b. B c. C d. F

128. If the following figure represents the outer surface of a dice. Which of the following pairs is not on opposite sides?



- a. 1 and 3 b. 6 and 5 c. 2 and 4 d. 1 and 4

கீழ்க்காணும் வடிவம் ஒரு தாயக் கட்டையின் மேல் பரப்பை காட்டுகிறது. கீழே கொடுக்கப்பட்ட இணைகளில் எது எதிர்பக்கங்களில் அமையாத இணை?



- a. 1 and 3 b. 6 and 5 c. 2 and 4 d. 1 and 4

129. If WORK corresponds to the numbers 4-12-9-16 then how will you code WOMAN?

- a. 4-12-14-26-13 b. 4-26-14-13-13
c. 23-12-26-14-13 d. 23-15-13-1-14

WORK என்பது 4-12-9-16 ஆகிய எண்களுக்குரியது எனில் WOMAN என்பது எவ்வாறு மாற்றப்படும்?


- a. 4-12-14-26-13 b. 4-26-14-13-13
c. 23-12-26-14-13 d. 23-15-13-1-14

130. Raj starts from his office facing west and walks 100 metres straight than takes a right turn and walks 100 metres. Further he takes a left turn and walks 50 meters. In which direction is Raj now from the starting point?
- a. North - East b. South - West
c. North d. North - West

ராஜ் என்பவர் அவரது அலுவலகத்தில் இருந்து மேற்கு திசை நோக்கி 100 மீட்டர் சென்ற பிறகு அவரின் வலதுபுறம் திரும்பி 100 மீட்டர் செல்கிறார். பிறகு இடதுபுறம் திரும்பி 50 மீட்டர் செல்கிறார். இப்பொழுது தொடங்கிய இடத்தில் எந்த திசையில் அவர் பயணிக்கிறார்?

- a. வடகிழக்கு b. தென்மேற்கு
c. வடக்கு d. வடமேற்கு

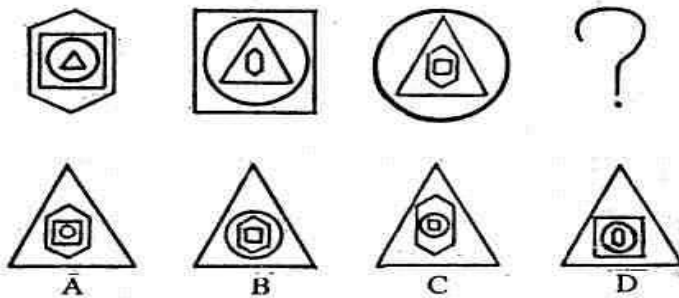
131. Which figure to come in the blank space?
காலியான இடத்தில் எந்த படம் வரும்?



- a. b. c. d.

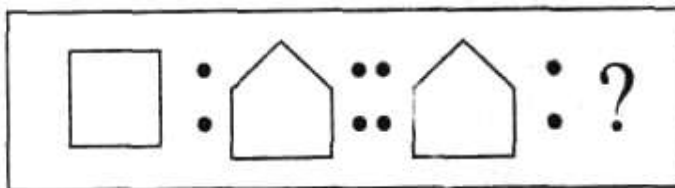
132. Select the one figure that will complete the given series.

கொடுக்கப்பட்டுள்ள படங்களில் கேள்விக்குறியிட்ட (?) இடத்தில் இடம்பெற வேண்டிய படத்தினை கண்டறி

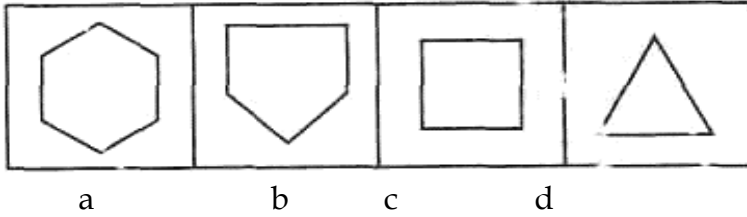


- a. A b. B c. C d. D

133. Question Figures

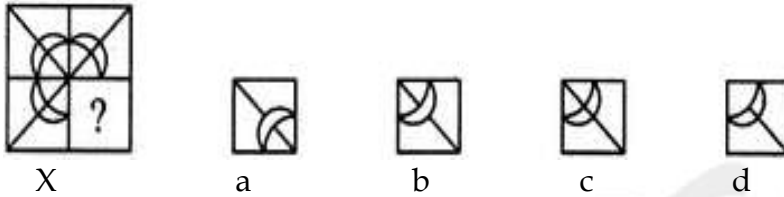


Answer Figures



134. Identify the figure that completes the pattern.

கீழ்க்கண்ட X என்ற படத்தினை பூர்த்தி செய்ய இணைக்க வேண்டிய படம் எது?



135.


Problem Figures

Answer Figures



136. Problem Figures:

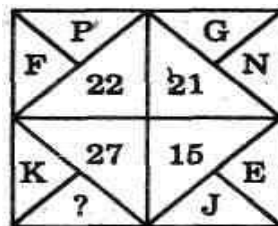
Answer Figures:



(A) (B) (C) (D) (E) (1) (2) (3) (4) (5)
a. 1 b. 2 c. 3 d. 5

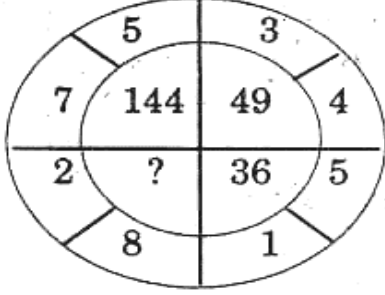
137. What will come in the place of a question mark?

கேள்விக் குறியிட்ட இடத்தில் வரும் எண் யாது?



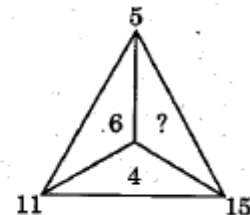
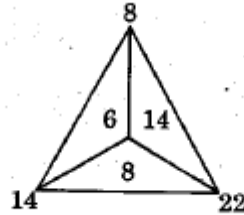
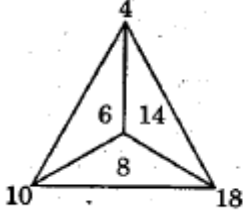
a. M b. P c. Q d. S

138. What will come in the place of a question mark?
கேள்விக் குறியிட்ட இடத்தில் வரும் எண் யாது?



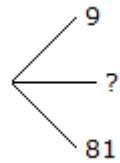
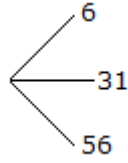
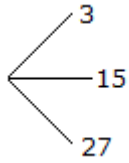
- a. 100 b. 81 c. 64 d. 121

139. Find the missing number from the following figures.
பின்வரும் படத்திலிருந்து விடுபட்ட எண்ணைக் காண்க.



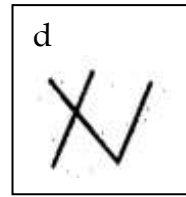
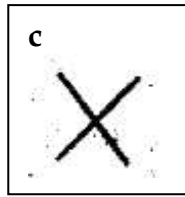
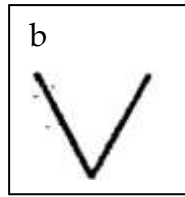
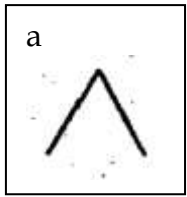
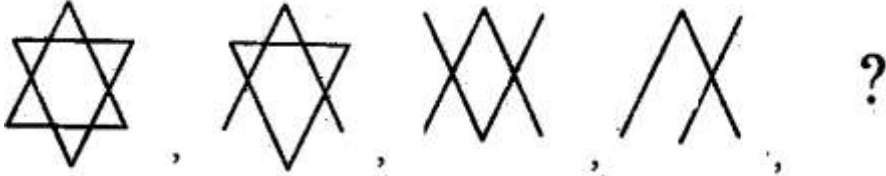
- a. 8 b. 14 c. 10 d. 6

140. Which one will replace the question mark?
பின்வரும் படத்திலிருந்து விடுபட்ட எண்ணைக் காண்க.

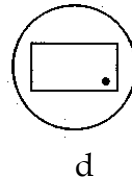
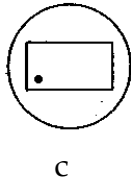
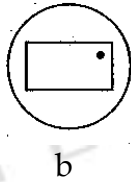
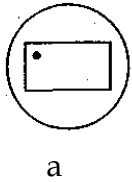
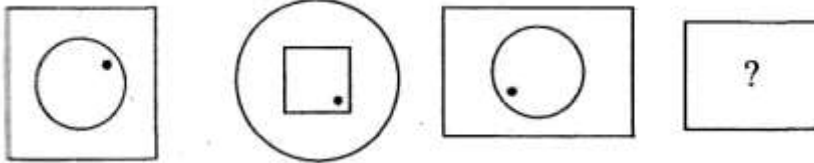


- a. 45 b. 41 c. 32 d. 40

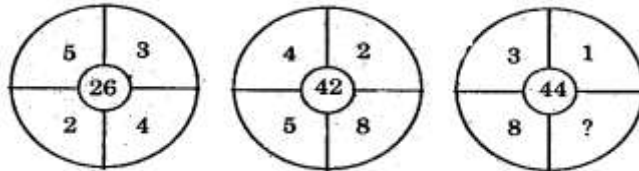
141. Find the next figure in the given sequence:
கொடுக்கப்பட்ட தொடரில் அடுத்துவரும் படத்தைக் காண்க



142. Next figure in the sequence
இத்தொடரில் அடுத்த படம்



143. Find the missing term
விடுபட்ட எண்ணைக் காண்க



a. 12

b. 18

c. 16

d. 24

144. A cube of side 4 cm is painted red on all of its surfaces and then divided into various smaller cubes of side 1 cm each. Find the number of smaller cubes with only one surfaces painted red.

a. 4

b. 8

c. 12

d. 24

4 செ.மீ. பக்கம் கொண்ட ஒரு கன சதுரத்தின் அனைத்து பக்கங்களும் சிவப்பு வண்ணம் பூசிய பின் 1 செ.மீ. பக்கம் கொண்ட சிறிய கன சதுரங்களாக பிரிக்கப்பட்டால் அவற்றில் ஒரு பக்கத்தில் மட்டும் வண்ணம் பூசப்பட்ட சிறிய கன சதுரங்கள் எத்தனை இருக்கும்?
a. 4 b. 8 c. 12 d. 24

145. All the faces of a cube are painted with blue colour. Then it is cut into 27 small equal cubes. How cubes are not painted on any surface?

a. 0 b. 1 c. 6 d. 8

ஒரு கனச்சதுரத்தின் அனைத்துப் பக்கங்களும் நீல நிறத்தில் வண்ணமிடப்பட்டுள்ளன. பின்பு அது சமமான 27 சிறிய கனச்சதுரங்களாக வெட்டப்படுகின்றன. இவற்றில் எந்த பக்கமும் வண்ணமிடப்படாத கனச்சதுரங்கள் எத்தனை உள்ளன?

a. 0 b. 1 c. 6 d. 8

146. A man walked 30 metres towards south, took a left turn and walked 50 metres, again he took a left turn and walked 30 metres. How far he is from the starting point?

a. 80 metre b. 100 metre c. 130 metre d. 50 metre

ஒரு மனிதன் தெற்குப் பக்கமாக 30 மீட்டர் நடந்த பின் இடது பக்கம் திரும்பி 50 மீட்டர் நடந்து பின் மீண்டும் இடது பக்கம் திரும்பி 30 மீட்டர் நடந்து உள்ளான் எனில் அவன் ஆரம்பித்த இடத்தில் இருந்து எவ்வளவு தூரம் நடந்துள்ளான்?

a. 80 மீட்டர் b. 100 மீட்டர் c. 130 மீட்டர் d. 50 மீட்டர்

147. Rani walks 20 m towards South. Then she turns left and walks 40 m. Then turning to right he walks 30 m. Again turning to his right he walks 40 m. Find the shortest distance between the starting and the end point.

a. 40 metre b. 50 metre c. 60 metre d. 30 metre

ராணி தெற்கு திசையில் 20 மீட்டர் நடக்கிறாள். உடனே இடப்புறமாக திரும்பி 40 மீட்டர் நடக்கிறாள். திரும்பவும் வலப்புறமாக திரும்பி 30 மீட்டர் நடக்கிறாள். திரும்பவும் வலப்புறமாக திரும்பி 40 மீட்டர் நடக்கிறாள் எனில் தொடக்கத்திலிருந்து இறுதிக்கான குறைந்தபட்ச தூரத்தை கண்டுபிடி?

a. 40 மீட்டர் b. 50 மீட்டர் c. 60 மீட்டர் d. 30 மீட்டர்

148. If WORDSWORTH is written by VPQERXNSSI, then DAFFODILS would be written as

a. CBEGNEJMR b. CBEGNEHMR
c. CBEGNEMOR d. CBEEGNHMR

WORDSWORTH என்பது VPQERXNSSI என எழுதப்பட்டால் DAFFODILS எவ்வாறு எழுதப்பட வேண்டும்?

a. CBEGNEJMR b. CBEGNEHMR
c. CBEGNEMOR d. CBEEGNHMR

149. If TWITTER is coded as SVHTUFS then GLITTER is coded as

a. FKHTUFS b. FSHTUFS c. FHKTUFS d. FSKTUES

TWITTER என்பது SUHTUFS என குறியீடு பெற்றால் GLITTER என்பது எவ்வாறு குறியீடு செய்யப்பட வேண்டும்?

a. FKHTUFS b. FSHTUFS c. FHKTUFS d. FSKTUES

150. If ANGLE is written as CPING then PLANE must be written as



a. RNCGP b. RNCPG c. RNCQG d. RCNPG
ANGLE என்பது CPING என எழுதப்பட்டால் PLANE எவ்வாறு எழுதப்பட வேண்டும்?
a. RNCGP b. RNCPG c. RNCQG d. RCNPG







TNPSC GROUP I TEST BATCH – 2020

TEST XXII – MENTAL ABILITY & CURRENT AFFAIRS (JAN, FEB 2020)

1	2	3	4	5	6	7	8	9	10
B	C	B	A	C	B	B	A	C	A
11	12	13	14	15	16	17	18	19	20
B	B	D	A	A	C	C	B	A	B
21	22	23	24	25	26	27	28	29	30
D	B	A	A	D	B	D	A	C	D
31	32	33	34	35	36	37	38	39	40
D	C	C	C	A	B	B	C	A	C
41	42	43	44	45	46	47	48	49	50
C	A	A	A	B	A	A	A	A	A
51	52	53	54	55	56	57	58	59	60
D	A	A	B	A	C	B	D	A	B
61	62	63	64	65	66	67	68	69	70
A	A	D	A	A	C	D	D	D	C
71	72	73	74	75	76	77	78	79	80
A	B	A	A	C	D	D	B	A	B
81	82	83	84	85	86	87	88	89	90
C	B	B	B	B	A	D	B	D	A
91	92	93	94	95	96	97	98	99	100
A	D	B	B	B	A	B	C	A	B
101	102	103	104	105	106	107	108	109	110
B	C	A	A	A	D	D	D	C	D
111	112	113	114	115	116	117	118	119	120
A	C	C	C	D	B	D	B	B	A
121	122	123	124	125	126	127	128	129	130
A	B	B	B	B	C	A	D	A	D
131	132	133	134	135	136	137	138	139	140
D	A	A	C	C	D	B	A	C	A
141	142	143	144	145	146	147	148	149	150
C	A	A	D	B	D	B	B	A	B