

APPLO STUDY CENTRE

TNPSC GROUP I TEST BATCH – 2020

TEST XIII – CURRENT AFFAIRS (NOVEMBER 2020) AND APTITUDE AND MENAL ABILITY

- The American Democratic Vice-Presidential Candidate Kamala Harris have her Roots from which village of Tamil Nadu.
 - Talayamangalam
 - Thalikottai
 - Thulasendrapuram
 - Therkkunanallur

அமெரிக்க ஜனநாயத்தின் துணை ஜனாதிபதி வேட்பாளர் கமலா ஹாரிஸ் தமிழ்நாட்டின் எந்த கிராமத்தை சேர்ந்தவராவார்?

 - தலயாமங்களம்
 - தாளிகோட்டை
 - துளசேந்திரபுரம்
 - தேர்குணநல்லூர்
- Joe Biden who was elected as the President of the United States of America is the
 - 46th President
 - 42nd President
 - 44th President
 - 48th President

அமெரிக்க ஜனாதிபதியாக தேர்ந்தெடுக்கப்பட்ட ஜோ பிடன் அமெரிக்காவின் ஜனாதிபதியாவார்

 - 46வது
 - 42வது
 - 44வது
 - 48வது
- The New fifth reservoir for Chennai at Thervoykandigai in Tiruvallur district will have a storage capacity of
 - 500 million cubic feet
 - 400 million cubic feet
 - 550 million cubic feet
 - 450 million cubic feet

சென்னையின் ஐந்தாவது நீர்த்தேக்கமான திருவள்ளூர் மாவட்டத்தில் உள்ள தேர்வாய்கண்டிகையின் கொள்ளளவு _____

 - 500 மில்லியன் கன அடி
 - 400 மில்லியன் கன அடி
 - 550 மில்லியன் கன அடி
 - 450 மில்லியன் கன அடி
- Which legislative electoral constituency of Tamil Nadu holds the highest number of electorates, with 6.55 lakh voters?
 - Harbour, Chennai
 - Villivakkam, Chennai
 - Ponneri, Thiruvallur
 - Sholinganallur

6.55 லட்சம் வாக்காளர்களை கொண்டு தமிழகத்தின் எந்த சட்டமன்றத் தேர்தல் தொகுதி மிகப்பெரியதாக திகழ்கிறது?

 - துறைமுகம், சென்னை
 - வில்லிவாக்கம், சென்னை
 - பொன்னேரி, திருவள்ளூர்
 - சோழிங்கநல்லூர்
- Which legislative electoral constituency of Tamil Nadu has the smallest electorate with 1.7 lakh voters
 - Kilvelur, Nagapattinam District
 - Gummidipondi, Thiruvallur District
 - Triplicane, Chennai
 - Melur, Madurai District

1.7 லட்சம் வாக்காளர்களை கொண்டு தமிழ்நாட்டின் எந்த சட்டமன்ற தொகுதி மிகச்சிறியதாக திகழ்கிறது?

- a. கீழ்வேளூர், நாகபட்டினம் மாவட்டம்
b. கும்மிடிபுண்டி, திருவள்ளூர் மாவட்டம்
c. திருவல்லிக்கேணி, சென்னை
d. மேளூர், மதுரை மாவட்டம்

6. The State Industries Promotion Corporation of Tamil Nadu limited (SIPCOT) has obtained environmental clearance for the development of an industrial park at

- a. Gummidipoondi, Tiruvallur District
b. Nanguneri, Tirunelveli District
c. Chengam, Tiruvannamalai District
d. Srivaikuntam, Tuticorin District

தமிழ்நாடு அரசு தொழில்துறை மேம்பாட்டு கழகம் (SIPCOT) எங்கு தொழிற்பூங்காவை அமைக்க சுற்றுச்சூழல் அனுமதி பெற்றுள்ளது?

- a. கும்மிடிபுண்டி, திருவள்ளூர் மாவட்டம்
b. நாங்குநேரி, திருநெல்வேலி மாவட்டம்
c. செங்கம், திருவண்ணாமலை மாவட்டம்
d. ஸ்ரீவைகுண்டம், தூத்துக்குடி மாவட்டம்

7. The cyclone "NIVAR" which means light, from Bay of Bengal was named by which country

- a. India
b. Sri Lanka
c. Iran
d. Iraq

வங்காள விரிகுடாவில் தோன்றிய ஒளி என பொருள்படும் 'நிவர்' புயலுக்கு எந்த நாடு பெயர் சூட்டியது?

- a. இந்தியா
b. இலங்கை
c. ஈரான்
d. ஈராக்

8. DRDO's Mission SAKTHI Program aims at

- a. Anti-Submarine missile model
b. Anti-Missile model
c. Anti-Satellite missile model
d. Anti-Tank missile model

DRDO-வின் மிஷன் சக்தி திட்டத்தின் நோக்கமானது _____

- a. ஏதிரிகளை தாக்கும் நீர்மூழ்கி கப்பல் மாதிரி
b. எதிர் ஏவுகணை மாதிரி
c. செயற்கைகோள்களை தாக்கும் ஏவுகணை மாதிரி
d. பீரங்கிகளை தாக்கும் ஏவுகணை மாதிரி

9. The SIMBEX-20 Naval exercise at Andaman and Nicobar Island includes the participation of

- a. India, Thailand and Singapore
b. India and Singapore only
c. India and Thailand only
d. India and Bangladesh

அந்தமான் நிக்கோபாரில் நடைபெற்ற SIMBEX-20 கடற்படை பயிற்சி எந்த நாடுகளுக்கிடையே நடைபெற்றது?

- a. இந்தியா, தாய்லாந்து மற்றும் சிங்கப்பூர்
b. இந்தியா மற்றும் சிங்கப்பூர் மட்டும்
c. இந்தியா மற்றும் தாய்லாந்து மட்டும்
d. இந்தியா மற்றும் வங்கதேசம்

10. Under "Bharatmala Scheme" which expressway project in Tamilnadu is set to be expanded.

- a. Chennai Elevated Express way
b. Chennai - Salem Express way
c. Chennai - Bengaluru Express way
d. Chennai port - Maduravoyal Express way

பாரதமாலா திட்டத்தின் கீழ் தமிழ்நாட்டின் எந்த எக்ஸ்பிரஸ்வே திட்டம் விரிவுபடுத்தவுள்ளது.

- a. சென்னை உயர்த்தப்பட்ட அதிவிரைவு நெடுஞ்சாலை
b. சென்னை - சேலம் அதிவிரைவு நெடுஞ்சாலை
c. சென்னை - பெங்களூரு அதிவிரைவு நெடுஞ்சாலை
d. சென்னை துறைமுகம் - மதுரவாயல் அதிவிரைவு நெடுஞ்சாலை

11. Find out the statements.
- Tamilnadu released its Electronic Hardware Manufactory policy 2020.
 - The objective is to facilitate foreign investment in electronic systems design and manufactory
 - Tamilnadu focus is to raise its manufactory output to US\$ 100 trillion by 2025 accounts 25% of India's total electronics.
- a. 2 and 3 only b. All are correct c. 1 and 2 only d. 1 and 3 only
- சரியான கூற்றுகளை கண்டறிக
- தமிழ்நாடு மின்னணு வன்பொருள் உற்பத்தி கொள்கை 2020 ஐ வெளியிட்டுள்ளது
 - மின்னணு அமைப்பு வடிவமைப்பு மற்றும் உற்பத்தியில் வெளிநாட்டு முதலீட்டை எளிதாக்குவதே இதன் நோக்கமாகும்
 - தமிழ்நாடு 2025இல் மின்னணு பொருட்கள் உற்பத்தியில் இந்திய அளவில் 25 சதவீதமும் அமெரிக்க டாலர் மதிப்பில் 100 டிரில்லியன் அளவிலும் அதிகரிக்க இலக்கை நிர்ணயித்துள்ளது
- a. 2 மற்றும் 3 மட்டும் b. அனைத்தும் c. 1 மற்றும் 2 மட்டும் d. 1 மற்றும் 3 மட்டும்
12. The "Super Typhoon Goni" which has struck the "Island of Luzon" which is part of
- a. Vietnam b. Taiwan c. Hongkong d. Philippines
- கோனி எனும் அதிதீவிர சூறாவளி தாக்கிய லூசன் தீவு எந்த நாட்டை சேர்ந்தது?
- a. வியட்நாம் b. தைவான் c. ஹாங்காங் d. பிலிப்பைன்ஸ்
13. Which is the first state in India to Grant 100% vehicle tax exemption for Battery operated vehicle
- a. Kerala b. Karnataka c. Goa d. Tamilnadu
- மின்கலன் மூலம் இயக்கப்படும் வாகனத்திற்கு 100 சதவீதம் வரிவிலக்கு அளித்த இந்தியாவின் முதல் மாநிலம் எது?
- a. கேரளா b. கர்நாடகம் c. கோவா d. தமிழ்நாடு
14. Priyanca Radhakrishnan is the first ever Indian-origin minister of
- a. Newzealand b. Australia c. Canada d. America
- பிரியங்கா ராதாகிருஷ்ணன் எந்த நாட்டின் இந்திய வம்சாவளியைச் சேர்ந்த முதல் அமைச்சர் ஆவார்?
- a. நியூசிலாந்து b. ஆஸ்திரேலியா c. கனடா d. அமெரிக்கா
15. Which Tiger Reserve in India has been recently declared as UNESCO TIGER RESERVE?
- a. Periyar Tiger Reserve b. Kanha Tiger Reserve
- c. Panna Tiger Reserve d. Pench Tiger Reserve
- இந்தியாவின் எந்த புலிகள் பாதுகாப்பகம் யுனெஸ்கோவின் புலிகள் பாதுகாப்பகம் பட்டியலில் இணைக்கப்பட்டுள்ளது?
- a. பெரியார் புலிகள் பாதுகாப்பகம் b. கன்ஹா புலிகள் பாதுகாப்பகம்
- c. பன்னா புலிகள் பாதுகாப்பகம் d. பென்ச் புலிகள் பாதுகாப்பகம்
16. The Participating countries of Malarbar Naval exercise in Bay of Bengal includes
- a. India, Japan, Newzealand and Taiwan
- b. India, US, Japan and Australia
- c. India, US, Japan and Philippines
- d. India, US, Japan and Vietnam
- வங்காள விரிகுடாவில் நடைபெற்ற மலபார் கடற்படை பயிற்சியில் கலந்துகொண்ட நாடுகள்
- a. இந்தியா, ஜப்பான், நியூசிலாந்து மற்றும் தைவான்
- b. இந்தியா, அமெரிக்கா, ஜப்பான் மற்றும் ஆஸ்திரேலியா
- c. இந்தியா, அமெரிக்கா, ஜப்பான் மற்றும் பிலிப்பைன்ஸ்
- d. இந்தியா, அமெரிக்கா, ஜப்பான் மற்றும் வியட்நாம்

17. The New "Senganthal Poonga" is to be created at
a. Madurai b. Chennai c. Trichi d. Coimbatore
புதிய "செங்காந்தள் பூங்கா" எங்கு அமைக்கப்பட்டுள்ளது?
a. மதுரை b. சென்னை c. திருச்சி d. கோயம்புத்தூர்
18. The state of Tamilnadu on its formation on 1st November 1956 had
a. 13 districts b. 12 districts c. 24 districts d. 28 districts
1956ஆம் ஆண்டு நவம்பர் 1ஆம் நாள் தமிழ்நாடு உருவாக்கப்பட்டபோது எத்தனை மாவட்டங்கள் இருந்தன?
a. 13 மாவட்டங்கள் b. 12 மாவட்டங்கள் c. 24 மாவட்டங்கள் d. 28 மாவட்டங்கள்
19. A Low Depression is termed as a severe cyclone when the speed of the wind is
a. 52 kmph to 61 kmph b. 89 kmph to 118 kmph
c. 119 kmph to 221 kmph d. None of these
குறைந்த தாழ்வழுத்தம் அதிதீவிர புயலாக மாறும்போது காற்றின் வேகம் எவ்வளவு இருக்கும்?
a. 52 kmph - 61 kmph b. 89 kmph - 118 kmph
c. 119 kmph - 221 kmph d. இவை ஏதுமில்லை
20. The Unlawful Religious conversion ordinance act was introduced in the state of
a. Madhya Pradesh b. Mizoram
c. Uttar Pradesh d. Maharashtra
சட்டவிரோத மதமாற்ற அவசரகாலச் சட்டம் எந்த மாநிலத்தில் அறிமுகப்படுத்தப்பட்டது?
a. மத்தியபிரதேசம் b. மிசோரம்
c. உத்திரபிரதேசம் d. மகாராஷ்டிரம்
21. The Tamil Scholar Alexandar Mihailovic Dubyanskiy who has done extensive Research in Tamil Society, Literature and Culture is from _____
a. Canada b. Armenia c. Uzbekistan d. Russia
தமிழ் சமூகம், இலக்கியம் மற்றும் கலாச்சாரத்தில் விரிவாக ஆராய்ச்சியை மேற்கொண்ட தமிழ் அறிஞர் அலெக்சாண்டர் மிஹைலோவிக் துபியன்ஸ்கி எந்த நாட்டை சேர்ந்தவர்?
a. கனடா b. அர்மேனியா c. உஸ்பெஸ்கிஸ்தான் d. ரஷ்யா
22. Which state government has launched 'Dharani' Portal for land & property registrations?
a. Andhra Pradesh b. Telangana c. Tamil Nadu d. Kerala
நிலம் மற்றும் சொத்து பதிவுகளுக்காக 'தரணி' எனும் இணையத்தளத்தை உருவாக்கியுள்ள மாநிலம் எது?
a. ஆந்திரபிரதேசம் b. தெலுங்கானா c. தமிழ்நாடு d. கேரளா
23. Which country has extended a line of credit of USD 1-billion to Central Asian countries?
a. India b. Japan c. China d. Singapore
மத்திய ஆசிய நாடுகளுக்கு 1 பில்லியன் அமெரிக்க டாலர் கடன் வழங்கியுள்ள நாடு எது?
a. இந்தியா b. ஜப்பான் c. சீனா d. சிங்கப்பூர்
24. India's first sea plane service has been inaugurated at which Indian state?
a. Gujarat b. Kerala c. West Bengal d. Maharashtra
இந்தியாவின் முதல் கடல்விமான சேவை எந்த மாநிலத்தில் தோற்றுவிக்கப்பட்டுள்ளது?
a. குஜராத் b. கேரளா c. மேற்குவங்கம் d. மகாராஷ்டிரம்
25. Which country has recently conducted a referendum for euthanasia?
a. China b. Japan c. Australia d. New Zealand

சமீபத்தில் எந்த நாடு கருணைக்கொலைக்கான வாக்கெடுப்பை நடத்தியது?

- a. சீனா b. ஜப்பான் c. ஆஸ்திரேலியா d. நியூசிலாந்து

26. The Mansar Lake Development Plan has been inaugurated in which state / UT?

- a. Delhi b. Jammu and Kashmir c. Ladakh d. Uttar Pradesh

மன்சார் ஏரி மேம்பாட்டு திட்டம் எந்த மாநிலம் / யூனியன் பிரதேசத்தில் தோற்றுவிக்கப்பட்டது?

- a. டெல்லி b. ஜம்மு மற்றும் காஷ்மீர் c. லடாக் d. உத்திரபிரதேசம்

27. Which country has hosted the BRICS Business Forum 2020?

- a. India b. Russia c. Brazil d. China

BRICS தொழில் மாநாடு 2020 ஐ நடத்திய நாடு எது?

- a. இந்தியா b. இரஷ்யா c. பிரேசில் d. சீனா

28. The first foreign Sovereign Wealth Fund (SWF), that was notified by the Finance Ministry, is associated with which country?

- a. United States b. United Arab Emirates
c. Australia d. United Kingdom

நிதி அமைச்சகத்தால் அறிவிக்கப்பட்ட முதல் வெளிநாட்டு இறையாண்மை செல்வ நிதியம் (SWF) எந்த நாட்டுடன் தொடர்புடையது?

- a. அமெரிக்கா b. ஐக்கிய அரபு அமீரகம்
c. ஆஸ்திரேலியா d. இங்கிலாந்து

29. Luhri Stage-I Hydro Power Project, which was seen in news recently, is located in which state?

- a. Uttar Pradesh b. Himachal Pradesh
c. Bihar d. Assam

சமீபத்தில் செய்திகளில் இடம்பெற்ற லூஹ்ரி நிலை I நீர்மின் திட்டம் எந்த மாநிலத்தில் அமைந்துள்ளது?

- a. உத்திரபிரதேசம் b. இமாச்சல பிரதேசம்
c. பீகார் d. அஸ்ஸாம்

30. What is the name of the new indigenously built ship commissioned in the Indian Coast Guard?

- a. ICG Tat Rakshak b. ICG Shaurya
c. ICG Yuva d. ICG C452

இந்திய கடலோர காவல் படையின் புதிய உள்நாட்டு தயாரிப்பு கப்பலின் பெயர் என்ன?

- a. ICG தத் ரக்ஷக் b. ICG செளர்யா
c. ICG யுவா d. ICG C452

31. Which state has recently become a part of the "Padhna Likhna Abhiyan" programme?

- a. Karnataka b. Bihar c. Kerala d. Andhra Pradesh

பத்னா லிக்னா திட்டத்தில் சமீபத்தில் இணைந்த மாநிலம் எது?

- a. கர்நாடகம் b. பீகார் c. கேரளா d. ஆந்திரபிரதேசம்

32. The Space Research organisation of which country has spotted Radio burst for the first time in Milky Way?

- a. United States b. India c. Russia d. China

எந்த நாட்டின் விண்வெளி ஆராய்ச்சி நிறுவனம் பால்வீதியில் முதல் முறையாக கதிர்வீச்சு வெடிப்பினை கண்டறிந்துள்ளது?

- a. அமெரிக்கா b. இந்தியா c. இரஷ்யா d. சீனா

33. When is the 'International Day for Preventing the Exploitation of the Environment in War and Armed Conflict' observed?
 a. November 4 b. November 6
 c. November 8 d. November 10
 “போரிலும் ஆயுத தாக்குதலிலும் இருந்து சுற்றுச்சூழலில் பாதிப்பு உண்டாவதை தடுப்பதற்கான சர்வதேச நாள்” எப்போது அனுசரிக்கப்படுகிறது?
 a. நவம்பர் 4 b. நவம்பர் 6
 c. நவம்பர் 8 d. நவம்பர் 10
34. The India Meteorological Department (IMD) is to issue forecast for the outbreak of which disease?
 a. Malaria b. Dengue c. Covid-19 d. Chikungunya
 இந்திய வானிலை ஆய்வுத்துறை எந்த நோய் பரவுவதற்கான வாய்ப்பு இருக்கிறது என்ற முன்னறிவிப்பை வெளியிட உள்ளது?
 a. மலேரியா b. டெங்கு c. கோவிட்-19 d. சிக்குன்குன்யா
35. Which state has topped the National Water Awards 2019 under “Best State” category?
 a. Tamil Nadu b. Kerala c. Karnataka d. Odisha
 தேசிய நீர் விருது 2019க்கான சிறந்த மாநிலம் பிரிவில் முதலிடம் பிடித்த மாநிலம் எது?
 a. தமிழ்நாடு b. கேரளா c. கர்நாடகம் d. ஒடிஷா
36. Which educational institution has proposed to set up a Centre of Excellence for the Indian Knowledge System?
 a. IIT Delhi b. IIT Mumbai c. IIT Kharagpur d. IIM Bangalore
 இந்திய அறிவு அமைப்புக்கான தனிச்சிறப்பு மையத்தை தொடங்க முன்மொழிந்துள்ள கல்வி நிறுவனம் எது?
 a. IIT டெல்லி b. IIT மும்பை c. IIT காரக்பூர் d. IIM பெங்களூர்
37. What type of transportation would be inaugurated by the Prime Minister of India between Hazira and Ghogha in Gujarat?
 a. Sea Plane service b. Dedicated Freight Rail
 c. Ro-Pax ferry service d. 8 Lane Express Way
 குஜராத்தில் ஹசிரா மற்றும் கோகா இடையே எந்த வகை போக்குவரத்தை பிரதமர் துவக்கி வைத்தார்?
 a. கடல் விமானசேவை b. சரக்கு இரயில் அர்ப்பணிப்பு
 c. ரோ-பாக்ஸ் படகு சேவை d. 8 வழி விரைவு நெடுஞ்சாலை
38. Crown Prince Akishino has been proclaimed as the first in line as heir to the throne in which country?
 a. Vietnam b. Japan c. United Arab Emirates d. Thailand
 சிம்மாசன வாரிசாக அறிவிக்கப்பட்டவர்கள் வரிசையில் முதலில் உள்ள இளவரசர் அகிஷினோ எந்த நாட்டைச் சேர்ந்தவர்?
 a. வியட்நாம் b. ஜப்பான் c. ஐக்கிய அரபு அமீரகம் d. தாய்லாந்து
39. Which state has launched Aadhaar enrolment drive for students of the state?
 a. Tamil Nadu b. Bihar c. Meghalaya d. Assam

எந்த மாநிலம் மாணவர்களுக்கு ஆதார் பதிவு மையத்தை தோற்றுவித்துள்ளது?

- a. தமிழ்நாடு b. பீகார் c. மேகாலயா d. அஸ்ஸாம்

40. The electronic toll collection FASTag has been made mandatory from which date?

- a. December 15, 2020 b. January 1, 2021
c. February 1, 2021 d. April 1, 2021

மின்னணு சுங்க வசூலிப்பான FASTag எந்த தேதியிலிருந்து கட்டாயமாக்கப்பட்டுள்ளது?

- a. டிசம்பர் 15, 2020 b. ஜனவரி 1, 2021
c. பிப்ரவரி 1, 2021 d. ஏப்ரல் 1, 2021

41. Which Indian has topped the list of EdelGive Hurun India Philanthropy List 2020?

- a. Mukesh Ambani b. Azim Premji
c. Binny Bansal d. Shiv Nadar

எடெல்கிவ் ஹூரன் இந்திய தொண்டு பட்டியல் 2020இல் முதலிடம் பிடித்தவர் யார்?

- a. முகேஷ் அம்பானி b. அசிம் பிரேம்ஜி
c. பின்னி பன்சால் d. சிவ் நாடர்

42. World Heritage week is being celebrated from _____

- a. Nov 16 - 22 b. Nov 19 - 25 c. Nov 15 - 21 d. Nov 2 - 6

உலக பாரம்பரிய வாரம் அனுசரிக்கப்படுவது _____

- a. நவம்பர் 16 - 22 b. நவம்பர் 19 - 25 c. நவம்பர் 15 - 21 d. நவம்பர் 2 - 6

43. Douglas Stuart who has won the Booker Prize 2020 for his acclaimed debut fiction "Shuggie Bain" is a _____

- a. Danish b. Scottish c. British d. Irish

"சுகி பெயின்" என்ற தனது முதல் நாவலிற்காக புக்கர் பரிசு 2020ஐ வென்ற டக்லஸ் ஸ்டூவர்ட் ஒரு _____

- a. டேனியர் b. ஸ்காட்லாந்துகாரர் c. ஆங்கிலேயர் d. அயர்லாந்துகாரர்

44. Name the world's loneliest elephant which was moved from Pakistan Zoo to retirement in a Cambodian Sanctuary

- a. Kaavan b. Kesavan c. Babar d. Dumbo

பாகிஸ்தான் மிருககாட்சி சாலையில் இருந்து கம்போடியா சரணாலயத்திற்கு ஓய்விற்காக மாற்றப்பட்ட உலகின் தனிமையான யானையின் பெயரைக் குறிப்பிடுக

- a. காவன் b. கேசவன் c. பாபர் d. டம்போ

45. Find out the incorrect pair

- a. Childrens Climate Prize - Vinisha Umashankar
b. Vatayan Award - Ramesh Pokhriyal Nishank
c. Organ Donation Award - Tamilnadu six in a row
d. Leelavathi Award 2020 - Narendra Modi

தவறான இணையைக் காண்க

- a. குழந்தைகள் காலநிலை பரிசு - வினிஷா உமேஸ்குமார்
b. வாட்யான் விருது - ரமேஷ் பொக்ரியால் நிஷாங்க்
c. உடல் உறுப்பு தான விருது - தமிழ்நாடு ஆறாவது இடம்
d. லீலாவதி விருது 2020 - நரேந்திர மோடி

46. Where in Tamilnadu for the first time long vowel letters (Nedil) excavated?

- a. Keezhadi b. Kodumanal c. Nedumudi d. Thirupathur

தமிழகத்தில் நடைபெற்ற அகழ்வாய்வில் முதல்முறையாக தமிழ்நெடில் எழுத்துக்கள் எங்கு கண்டறியப்பட்டன?

- a. கீழடி b. கொடுமணல் c. நெடுமுடி d. திருப்பத்தூர்

47. Prime Minister Narendra Modi recently inaugurated Ayurveda Research and Teaching Institute in

- a. Varanasi b. Jam Nagar c. Jaipur d. Gandhi Nagar

சமீபத்தில் பிரதமர் நரேந்திர மோடி எங்கு ஆயுர்வேத ஆராய்ச்சி மற்றும் கற்பித்தல் மையத்தை துவக்கினார்?

- a. வாரணாசி b. ஜாம் நகர் c. ஜெய்பூர் d. காந்தி நகர்

48. Name the Actor whose centenary birth anniversary was the celebrated in Tamilnadu

- a. Sivaji Ganesan b. Gemini Ganesan
c. M.R. Radha d. N.S. Krishnan

தமிழ்நாட்டில் எந்த நடிகரின் 100வது பிறந்தநாள் கொண்டாடப்பட்டது?

- a. சிவாஜி கணேசன் b. ஜெமினி கணேசன்
c. M.R. ராதா d. N.S. கிருஷ்ணன்

49. Who headed the Climate Parliament with Children which was held in New Delhi?

- a. Narendra Modi b. Prakash Javdekar
c. Venkaiah Naidu d. Om Birla

டெல்லியில் நடைபெற்ற குழந்தைகள் பங்கேற்ற காலநிலை நாடாளுமன்ற கூட்டத்திற்கு தலைமை தாங்கியவர் யார்?

- a. நரேந்திர மோடி b. பிரகாஷ் ஜாவ்லேக்கர்
c. வெங்கையா நாயுடு d. ஓம் பிர்லா

50. Choose the correct statements

- The world's biggest free trade deal was signed by Fifteen countries including India in the Regional Comprehensive Economic Partnership (RCEP)
- 210 crores people covered under the deal
- RCEP is the brain child of China

- a. I, III only b. II, III only c. I only d. All of these

சரியான கூற்றினைக் காண்க

1. உலகின் மிகப்பெரிய சுதந்திர வர்த்தக ஒப்பந்தத்தில் விரிவான பிராந்திய பொருளாதார கூட்டாண்மையில் (RCEP) இந்தியா உள்ளிட்ட 15 நாடுகள் கையெழுத்திட்டன

2. இவ்வொப்பந்தத்தின் கீழ் 210 கோடி மக்கள் உள்ளனர்

3. RCEP சீனாவில் உதயமானதாகும்

- a. I, II மட்டும் b. II, III மட்டும் c. I மட்டும் d. இவை அனைத்தும்

51. Who is popularly called as Appu?

- a. S. Ramakrishnan b. Ajai Desai
c. Soumitra Chatterjee d. Tarun Gogi

அப்பு என்று பிரபலமாக அழைக்கப்படுபவர் யார்?

- a. S. இராமகிருஷ்ணன் b. அஜய் தேசாய்
c. செளமித்ரா சட்டர்ஜி d. தருண் கோகி

52. Who is Xavier Bettel?

- a. Prime Minister of Ireland b. President of Ireland
c. Prime Minister of Luxembourg d. President of Luxembourg

சேவியர் பேட்டேல் என்பவர் யார்?

- a. அயர்லாந்தின் பிரதமர்
b. அயர்லாந்தின் ஜனாதிபதி
c. லெக்சம்பெர்கின் பிரதமர்
d. லெக்சம்பெர்கின் ஜனாதிபதி

53. Nithesh Kumar was being sworn in as Chief Minister of Bihar for the _____ term

- a. 6th b. 7th c. 5th d. 8th

நிதிஷ்குமார் பீகார் முதலமைச்சராக _____ முறை தேர்ந்தெடுக்கப்பட்டுள்ளார்

- a. 6th b. 7th c. 5th d. 8th

54. Which country was chair of Fifteenth East Asia Summit 2020?

- a. Russia b. Vietnam c. Cambodia d. India

15வது கிழக்க ஆசிய மாநாட்டின் தலைவராக இருந்த நாடு எது?

- a. இரஷ்யா b. வியட்நாம் c. கம்போடியா d. இந்தியா

55. Recently Government has approved the merger of Lakshmi Vilas Bank Limited with DBS Bank India. Name the country of DBS Bank

- a. Belarus b. Dutch c. Sweden d. Singapore

சமீபத்தில் அரசாங்கம் லக்ஷ்மி விலாஸ் வங்கியை DBS வங்கியுடன் இணைக்க அனுமதி அளித்தது. DBS வங்கி எந்த நாட்டைச் சேர்ந்ததாகும்?

- a. பெலாரஸ் b. டச்சு c. ஸ்வீடன் d. சிங்கப்பூர்

56. Find out correct statement

1. Father of Indian Information Technology - F.C. Kohli

2. Organ Donation Day - November 28

3. JCB Prize for Literature 2020 - S. Hareesh

- a. 1, 3 b. 2, 3 c. 2 only d. All of these

சரியான கூற்றினை கண்டறிக

1. இந்திய தகவல் தொழில்நுட்பத்தின் தந்தை - F.C. கோலி

2. உடல் உறுப்பு தான தினம் - நவம்பர் 28

3. இலக்கியத்திற்கான JCB பரிசு 2020 - S. ஹரிஷ்

- a. 1, 3 b. 2, 3 c. 2 மட்டும் d. அனைத்தும்

57. Indian origin M.P. Dr. Gaurav Sharma took oath in Sanskrit language in New Zealand Parliament belongs to which Indian State _____

- a. Uttarpradesh b. Himachal Pradesh
c. Andhra Pradesh d. Maharashtra

நியூசிலாந்து பாராளுமன்றத்தில் சமஸ்கிருத மொழியில் பிரமாணம் செய்த இந்திய வம்சாவளியை சேர்ந்த M.P. டாக்டர். கவுரவ் சர்மா எந்த மாநிலத்தை சேர்ந்தவர்?

- a. உத்திரபிரதேசம் b. இமாச்சலப்பிரதேசம்
c. ஆந்திரபிரதேசம் d. மகாராஷ்டிரம்

58. G20 for 2021 summit will be held in

- a. France b. Germany c. Italy d. Russia

G20 மாநாடு 2021 எங்கு நடக்கவுள்ளது?

- a. பிரான்சு b. ஜெர்மனி c. இத்தாலி d. இரஷ்யா

59. Recently IIT Madras has signed MOU with Japanese firm to bring new _____ technology to India

- a. Water b. Solar c. Robotic d. Super Computer

சமீபத்தில் சென்னை IIT, ஜப்பானுடன் _____ தொழில்நுட்பத்திற்காக புரிந்துணர்வு ஒப்பந்தத்தில் கையெழுத்திட்டது

- a. தண்ணீர் b. சூரிய c. எந்திரம் d. மீக்கணிணி

60. World's first tram library was inaugurated in

- a. Mumbai b. Chennai c. Kolkata d. Pune

உலகின் முதல் டிராம் நூலகம் எங்கு துவக்கப்பட்டுள்ளது?

- a. மும்பை b. சென்னை c. கொல்கத்தா d. பூனா

61. 'In a certain code language 'BEAR' is coded as 18152 and 'CREAM' is coded 1315183 then how will 'DRINK' be coded as in the same language?

- a. 1149184 b. 41891411 c. 11149184 d. 114198114

ஒரு இரகசிய குறியீட்டு முறையில் "BEAR" என்பது 18152 எனவும் மற்றும் "CREAM" என்பது 1315183 எனவும் குறிக்கப்பட்டால் "DRINK" என்பது எவ்வாறு குறிக்கப்படும்?

- a. 1149184 b. 41891411 c. 11149184 d. 114198114

62. In the following question, select the related numbers

8437 : 103 : 6241 : ?

- a. 34 b. 49 c. 58 d. 42

பின்வரும் கேள்விக்கு தொடர்புடைய எண்ணை தேர்ந்தெடு.

8437 : 103 : 6241 : ?

- a. 34 b. 49 c. 58 d. 42

63. Find the missing term from the following series ABB, BCF, CDL _____.

- a. DEP b. DEO c. DET d. DFY

விடுபட்ட உறுப்பை காண்க. ABB, BCF, CDL _____.

- a. DEP b. DEO c. DET d. DFY

64. What should come in place of the question mark in the following number series? 15, 40, ? 170, 291, 460

- a. 76 b. 89 c. 85 d. 94

பின்வரும் எண் தொடரில் கேள்விகுறி உள்ள இடத்தில் என்ன வரும்?

15, 40, ? 170, 291, 460

- a. 76 b. 89 c. 85 d. 94

65. A letter series is given below in which some letters are missing. select the option that gives the letters that can fill these blanks in that order.

ஒரு எழுத்து தொடர் ஆனது கீழே கொடுக்கப்பட்டுள்ளது. சில எழுத்துக்கள் அதில் விடுபட்டுள்ளன. விடுபட்ட எழுத்துகளை வரிசைப்படி கோடிட்ட இடங்களில் நிரப்புக.

H _ M _ _ F _ A _ F M _ H _

- a. FAMHAHF b. AFHAHAF c. FAHMHAF d. FAMMHAF

66. In a certain code language "25 - 63 - 48 - 54" is coded as "31 - 51 - 66 - 30" what will be the code for "17 - 28 - 36 - 45" in that code language?

ஒரு இரகசிய குறியீட்டு முறையில் "25 - 63 - 48 - 54" என்பது "31 - 51 - 66 - 30", என எழுதப்பட்டால் "17 - 28 - 36 - 45" என்பது எவ்வாறு எழுதப்படும்.

- a. 18 - 12 - 30 - 35 b. 23 - 16 - 54 - 21
c. 30 - 26 - 44 - 22 d. 24 - 16 - 48 - 20

67. If CAR = 11, MAN = 14, then how will you code STAR = ?

- a. 23 b. 34 c. 18 d. 29

CAR = 11, MAN = 14, எனில் STAR என்பதன் குறியீடு?

- a. 23 b. 34 c. 18 d. 29

68. Find the missing term: 20, 19, 17, ?, 10, 5

- a. 13 b. 14 c. 15 d. 16

விடுபட்ட உறுப்பைக் காண்க.

20, 19, 17, ?, 10, 5

- a. 13 b. 14 c. 15 d. 16

69. Find the missing term of the series: 63, 55, 47, ____, 31, 23.

- a. 37 b. 39 c. 36 d. 38

தொடரில் விடுபட்ட எண்ணை காண்க. 63, 55, 47, ____, 31, 23.

- a. 37 b. 39 c. 36 d. 38

70. Find the missing term of the series: 50, 51, 53, 56, 60,.....

- a. 66 b. 65 c. 64 d. 62

தொடரில் விடுபட்ட எண்ணை காண்க. 50, 51, 53, 56, 60,.....

- a. 66 b. 65 c. 64 d. 62

71. 67, 71, 73, 79, ?

- a. 81 b. 84 c. 85 d. 83

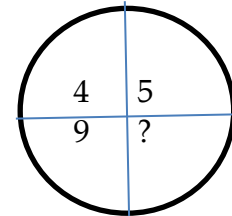
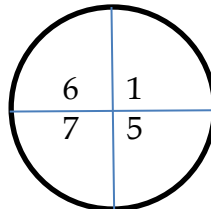
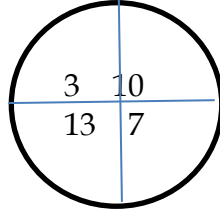
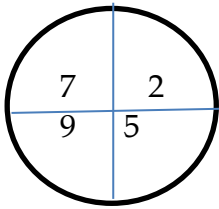
72. Find the next term: $\frac{21}{33}, \frac{321}{444}, \frac{4321}{5555}$?

அடுத்து வரும் எண் யாது? $\frac{21}{33}, \frac{321}{444}, \frac{4321}{5555}$

- a. $\frac{45321}{66666}$ b. $\frac{54321}{6666}$ c. $\frac{54321}{6666}$ d. $\frac{54321}{66666}$

73. Which number replaces the question Mark?

- a. 20 b. 9 c. 1 d. -1



கேள்விகுறி உள்ள இடத்தில் என்ன வரும்?

- a. 20 b. 9 c. 1 d. -1

74. A group of letters are given.

A numerical code has been given to each letter. These letters have to be unscrambled into a meaningful word find out the code for the word so formed from the 4 answers given.

L I N C P E

1 2 3 4 5 6

- a. 2 3 4 1 5 6 b. 5 6 3 4 2 1 c. 6 1 3 5 2 4 d. 4 2 1 3 5 6

எழுத்துகளின் தொகுப்பு ஒன்று கீழே கொடுக்கப்பட்டுள்ளது. ஒவ்வொரு எழுத்துக்கும் தனித்தனியே எண் குறியீடு வழங்கப்பட்டுள்ளது. இத்தொகுப்பு எழுத்துக்களை இடம் பெயர்த்து மாற்றியமைத்தால் பொருள் உள்ள வார்த்தைக் கிடைக்கும். அதன்படி புதிதாகக் கண்டுபிடித்த வார்த்தைக்கான எண் குறியீட்டினைக் காண்க.

L I N C P E

1 2 3 4 5 6

a. 2 3 4 1 5 6 b. 5 6 3 4 2 1 c. 6 1 3 5 2 4 d. 4 2 1 3 5 6

75. If a = 00, Z = 25; then what is the code for "division"
a. 03 09 22 09 18 08 14 13 b. 03 08 22 09 18 08 14 13
c. 03 08 21 08 18 08 14 13 d. 04 09 22 09 19 09 15 14
a = 00, Z = 25, எனில் division என்பது குறியீடு?
a. 03 09 22 09 18 08 14 13 b. 03 08 22 09 18 08 14 13
c. 03 08 21 08 18 08 14 13 d. 04 09 22 09 19 09 15 14

76. A safety locker in a jewel shop requires a 4 digit unique code. The code has the digits form 0 to 9 How many unique codes are possible.

ஒரு நகைக்கடையில் உள்ள பாதுகாப்பு பெட்டகத்திற்கான திறவுகோல் எண் 4 இலக்கங்களை கொண்ட தனித்துவமான எண்ணாக அமைப்பதற்கு. ஒவ்வொரு இடமதிப்பிலும் 0 முதல் 9 வரையிலான 10 எண்களை கொண்டு உருவாக்க வேண்டும் எனில், ஒரு தனித்துவமானத் திறவுகோல் எண் அமைப்பதற்கு எத்தனை விதமான வழிகள் உள்ளது?

a. 9999 b. 1000 c. 10000 d. 10001

77. Fill in the blanks.

1, 6, 15, 28, 45 _____ 91

a. 57 b. 67 c. 66 d. 69

கோடிட்ட இடத்தில் வருவது என்ன?

1, 6, 15, 28, 45 _____ 91

a. 57 b. 67 c. 66 d. 69

78. Find the next term:

a. 24, 30, 33, 39, 51, 57, 69?

a. 75 b. 72 c. 81 d. 84

அடுத்து வரும் உறுப்பு

a. 24, 30, 33, 39, 51, 57, 69?

a. 75 b. 72 c. 81 d. 84

79. If "NGCH" stand for "LEAF", then "MPQY" stands for

a. JMNv b. KNOW c. LOPX d. KOWN

"NGCH" என்பது LEAF ஐ குறித்தால் "MPQY" என்பது

a. JMNv b. KNOW c. LOPX d. KOWN

80. Picture perfect quality movie is written as '#6B, #8B, #8V @8Q', then 'regular fitness sound health' is written as

a. #6A @8P #8O @5E

b. @6A #8P #8O @5E

c. @6A @8P #8O @5E

d. @6A @8P 80 @5E

"picture perfect quality movie" என்பது '#6B #8B #8V @8Q என எழுதப்பட்டால் "regular fitness sound health' என்பது எவ்வாறு எழுதப்படும்.

- a. #6A @8P #8O @5E
b. @6A #8P #8O @5E
c. @6A @8P #8O @5E
d. @6A @8P 80 @5E

81. If A = N; B = O; C = P then what is the code for PUNVE

- a. CHAIQ b. CHAIS c. CHAIR d. CHAJS

A = N; B = O; C = P எனில் PUNVE ன் குறியீடு.

- a. CHAIQ b. CHAIS c. CHAIR d. CHAJS

82. If a = W; b = X, c = Y, d = Z, e = A then what is the code for fvieo?

- a. JREIN b. JREAN c. BREAK d. BRICK

a = W; b = X, c = Y, d = Z, e = A என்று எழுதப்பட்டால் fvieo என்பதை எவ்வாறு எழுத வேண்டும்?

- a. JREIN b. JREAN c. BREAK d. BRICK

83. find the missing number

54 26 46

10 16 8

32 21 ?

- a. 51 b. 50 c. 27 d. 35

விடுபட்ட எண்ணை காண்க.

54 26 46

10 16 8

32 21 ?

- a. 51 b. 50 c. 27 d. 35

84. Select the related number from the given alternatives 125 : 30 : : 132 : ?

- a. 14 b. 17 c. 18 d. 15

கொடுக்கப்பட்டுள்ள இணைகளிலிருந்து தொடர்புடைய எண்ணைக் கண்டறிக

- a. 14 b. 17 c. 18 d. 15

85. Fill in the blanks f de fd g de fd gfd

- a. gefge b. fgefd c. dgefe d. fgege

கோடிட்ட இடத்தை நிரப்புக.

- a. gefge b. fgefd c. dgefe d. fgege

86. Next term of the series. 484, 529, 576, 625, ?

- a. 729 b. 784 c. 676 d. 841

தொடரில் அடுத்து வருவது என்ன?

- a. 729 b. 784 c. 676 d. 841

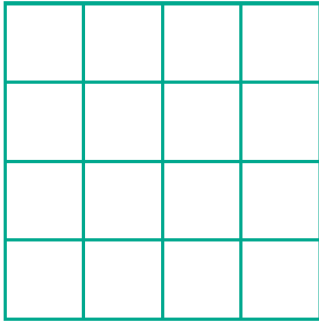
87. How many 2 digit numbers contains the number 7?

- a. 10 b. 18 c. 19 d. 20

7 ஐ ஓர் இலக்கமாக கொண்ட ஈரிலக்க எண்கள் எத்தனை உள்ளன.

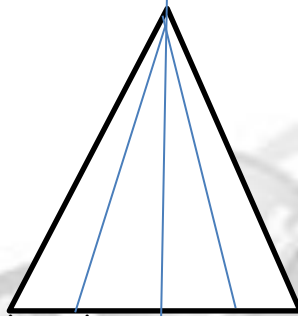
- a. 10 b. 18 c. 19 d. 20

88. Find the minimum number of straight lines in the following figure?
a. 12 b. 15 c. 10 d. 8




- பின்வரும் படத்தில் குறைந்தது எவ்வளவு நேர்க்கோடுகள் உள்ளன என்பதை காண்க.
a. 12 b. 15 c. 10 d. 8

89. How many triangles in the figure?




- a. 10 b. 9 d. 7
படத்தில் எத்தனை முக்கோணங்கள் உள்ளன.
a. 10 b. 9 c. 8 d. 7

90. How many stars in the 7th figure?



- a. 35 b. 36 c. 30 d. 49
7வது படத்தில் எத்தனை நட்சத்திரங்கள் இருக்கும்?
a. 35 b. 36 c. 30 d. 49

91. How many tetraamines are in the figure.



- a. 8 b. 9 c. 10 d. 4

ஒரு சதுர ஓட்டில் எத்தனை நாற்சதுர இணைகள் உள்ளன.

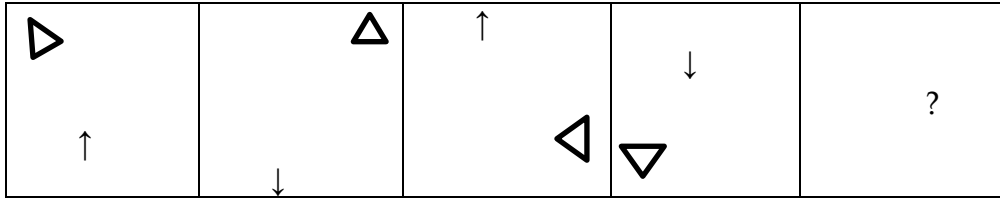
a. 8

b. 9

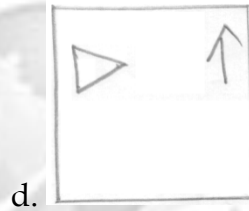
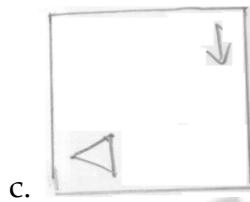
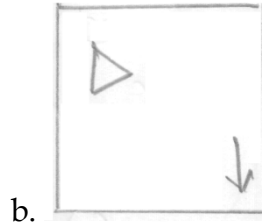
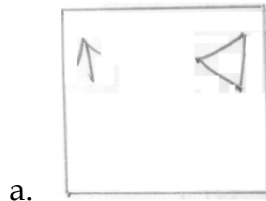
c. 10

d. 4

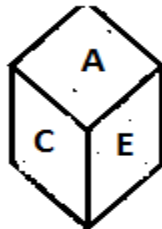
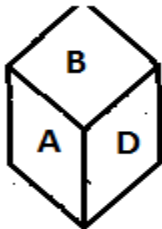
92. What will com next in the following series?



பின்வரும் படத்தொடரில் அடுத்து வருவது என்ன?



93. Which letter is written on the face opposite to B?



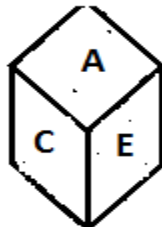
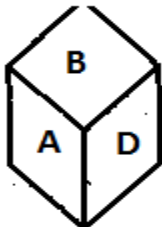
a. A

b. B

c. D

d. E

B – க்கு எதிர்புறம் வரும் எழுத்து எது?



a. A

b. B

c. D

d. E

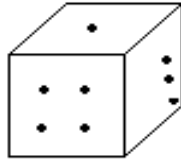
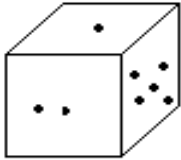
94. The question below is to be answered on the basis of the three views of a cube given as follows.



Which number opposite to 4
4 க்கு எதிரே உள்ள எண் எது?

- a. 2 b. 3 c. 6 d. 1

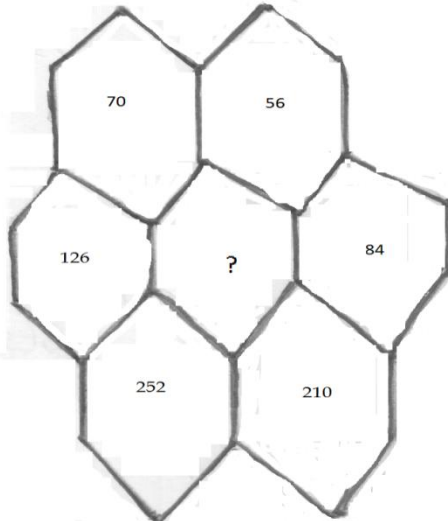
95. On rolling the dice we obtain three dots at the bottom. How many dots will be there on the face obtained at the top?



பகடைகள் உருட்டப்படும் போது 3 புள்ளிகள் அடிப்புறத்தில் இருந்தால் மேலே எத்தனை எண்கள் இருக்கும்?

- a. 5 b. 6 c. 2 d. Either 5 or 2

96. What will come in the question mark?



- a. 14 b. 42 c. 63 d. 126
கேள்விகுறி உள்ள இடத்தில் என்ன வரும்

- a. 14 b. 42 c. 63 d. 126

97. Two position of the cube are shown below. what will come opposite to the face containing "2"?



- a. 5 b. 1 c. 3 d. Either option (a) or (b)

பகடைகளின் இரு நிலைகள் கீழே காட்டப்பட்டுள்ளன. "2" க்கு எதிர்புறம் என்ன எண் உள்ளது, என காண்க.

- a. 5 b. 1 c. 3 d. a அல்லது b

98. Two position of the same cube are shown below. which number appears on the face apposite to the number 4?



- a. 2 b. 3 c. 5 d. 7

பகடைகளின் இரு நிலைகள் கீழே காட்டப்பட்டுள்ளன. 4 க்கு எதிரே உள்ள எண் எது?


- a. 2 b. 3 c. 5 d. 7

99. Find the odd figure among the following?

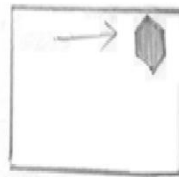
பின்வரும் படங்களில் பொருந்தாததை காண்க?




1



2



3



4

- a. 1 b. 2 c. 3 d. 4

100. In a certain code language 'CIRCUS' is written as '5' and ALUMINIUM is written as '6' what is the code for "SUPER STITION" in that code language?

- a. 9 b. 10 c. 11 d. 12

ஒரு இரகசிய குறியீட்டு முறையில் "CIRCUS" என்பது 5 எனவும், "ALUMINIUM" என்பது 6 எனவும் எழுதப்பட்டால் "SUPER STITION" என்பது எவ்வாறு எழுதப்படும்?

- a. 9 b. 10 c. 11 d. 12