

APPOLO STUDY CENTRE

Light (ஒளி) & MIRRORS (ஆடி) Work Sheet

Part 1

அறிமுகம்:

ஒளி என்பது ஆற்றலின் ஒரு வடிவம். அது மின்காந்த அலை வடிவத்தில் பரவுகின்றது. ஒளியின் பண்புகளையும் அதன் பயன்பாடுகளையும் பற்றி ஆராயும் இயற்பியலின் ஒரு பிரிவு ஒளியியல் என்று அழைக்கப்படுகிறது.

ஒளி மூலங்கள்:

1. இயற்கை ஒளிமூலம்
2. செயற்கை ஒளிமூலம்

- வெப்ப ஒளி மூலங்கள் (எடுத்துக்காட்டு: எரியும் மெழுகுவத்தி, வெண்கடர் விளக்கு போன்றவை)
- வாயுவிற்றக்க ஒளி மூலங்கள் ((எடுத்துக்காட்டு: நியான் விளக்கு, சோடியம் ஆவி விளக்கு)

ஒளியின் பண்புகள்:

முதலில் ஒளியின் பண்புகள் மற்றும் ஒளிவிலகல் ஆகியவற்றை நினைவு கூர்வோம்.

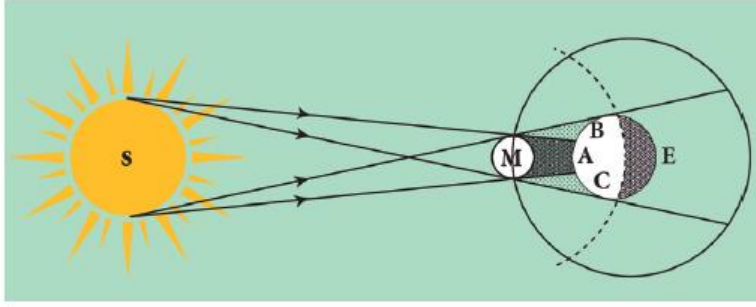
1. ஒளி என்பது ஒருவகை ஆற்றல்.
2. ஒளி எப்போதும் நேர்க்கோட்டில் செல்கிறது.
3. ஒளி பரவுவதற்கு ஊடகம் தேவையில்லை. வெற்றிடத்தின் வழியாகக் கூட ஒளிக்கதிர் செல்லும்.
4. காற்றில் அல்லது வெற்றிடத்தில் ஒளியின் திசைவேகம் $C = 3 \times 10^8$ மீ வி⁻¹
5. ஒளியானது அலை வடிவில் செல்வதால் அது அலைநீளம் (λ) மற்றும் அதிர்வெண் (ν) ஆகிய பண்புகளைப் பெற்றிருக்கும். இவை $C = \nu \lambda$ என்ற சமன்பாட்டின் மூலம் தொடர்புபடுத்தப்படுகிறது.
6. ஒளியின் வெவ்வேறு நிறங்கள் வெவ்வேறு அலை நீளங்களையும், அதிர்வெண்களையும் பெற்றிருக்கும்.
7. கண்ணூறு ஒளியில் ஊதா நிறம் குறைந்த அலை நீளத்தையும், சிவப்பு நிறம் அதிக அலை நீளத்தையும் கொண்டிருக்கும்.
8. ஒளியானது இரு வேறு ஊடகங்களின் இடைமுகப்பை அடையும் போது, அது பகுதியளவு எதிரொளிக்கும், பகுதியளவு விலகல் அடையும்.

ஒளியுடனான பொருள்களின் தொடர்பு:

1. ஒளி ஊடுருவும் பொருள்கள் - ஒளியை முழுவதும் தன் வழியே அனுமதிக்கும். (உதாரணம்: கண் கண்ணாடிகள், தூய கண்ணாடிக் குவளை, தூய நீர்)
2. பகுதி ஊடுருவும் பொருள்கள் - ஒளியை பகுதியாத் தன் வழியே செல்ல அனுமதிக்கும். (உதாரணம்: சொரசொரப்பான சன்னல் கண்ணாடியின்).
3. ஒளி ஊடுருவாப் பொருள்கள்: ஒளியைத் தன் வழியே முழுவதுமாக அனுமதிக்காத பொருள்கள். (உதாரணம்: கட்டடச் சுவர், கெட்டி அட்டை, கல்).

நிழல்கள்:

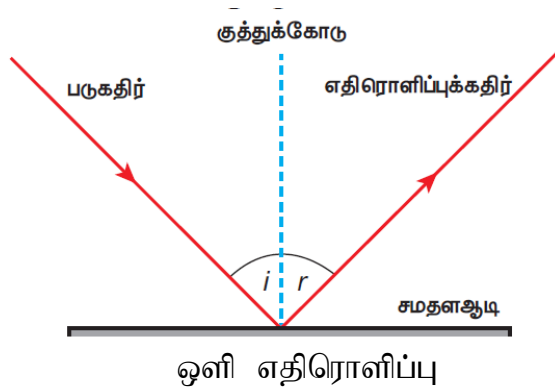
ஒளியானது நேர்க்கோட்டில் மட்டுமே பயணிக்கும். அது தன் பாதையில் உள்ள பொருளைச் சுற்றி வளைந்து செல்லாது. எனவே, நிழல்கள் உருவாகின்றன. நிழல்கள் எப்போதும் ஒளி மூலத்திற்கு எதிர்த்திசையில் உருவாகும். ஒளிபுகாப் பொருள்கள் தம் தன் மீது விழும் ஒளியை தடுத்துவிடுவதால் நிழல்கள் உருவாகின்றன.



சூரிய கிரகணம்

எதிரொளிப்பு:

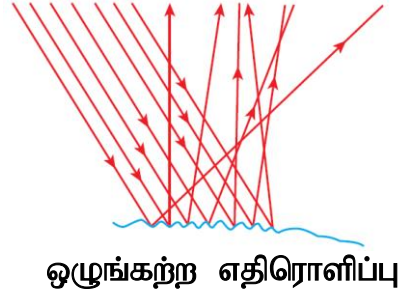
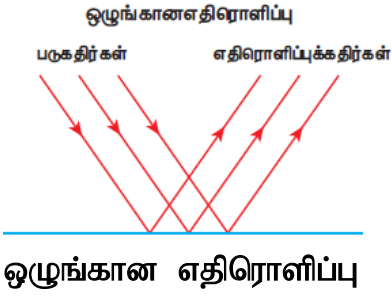
ஒளியானது பளபளப்பான, மென்மையான, ஒளிரும் பரப்பில் பட்டு திரும்பும் நிகழ்வே ஒளி எதிரொளித்தல் என்று அழைக்கப்படுகிறது.



ஒளி எதிரொளிப்பு

எதிரொளிப்பு விதிகள்:

1. படுகதிர், எதிரொளிப்புக் கதிர் மற்றும் படுபுள்ளியில் வரையப்பட்ட குத்துக்கோடு ஆகிய அனைத்தும் ஒரே தளத்தில் அமைந்துள்ளன.
2. படுகோணமும் (i), எதிரொளிப்புக் கோணமும் (r) எப்போதும் சமமாக இருக்கும்.



பெரிஸ்கோப்:

ஒரு பொருள் அல்லது நீர் மூழ்கிக் கப்பலுக்கு மேலாக அல்லது அதைச் சுற்றியுள்ள பிற பொருள்கள் அல்லது கப்பல்களைப் பார்ப்பதற்காக பயன்படுத்தப்படும் கருவியே பெரிஸ்கோப் ஆகும்.

ஒளி எதிரொளித்தல் விதிகளின் அடிப்படையில் இக்கருவியானது செயல்படுகிறது.

கலைடாஸ்கோப்

இது, ஒளியின் பன்முக எதிரொளிப்புத் தத்துவத்தின் அடிப்படையில் செயல்பட்டு எண்ணற்ற பிம்பங்களை உருவாக்கக்கூடிய சாதனம் ஆகும்.

இடவல மாற்றம் (Lateral Inversion):

பக்கவாட்டில் ஏற்படும் மாற்றம் இடவல மாற்றம் எனப்படும். இது ஒரு சமதள ஆடியில் ஏற்படுவது போல் தோன்றும் இடவல மாற்றமே.

மெய் மற்றும் மாய பிம்பமும்:

திரையில் வீழ்த்தப்படும் பிம்பங்கள் மெய்பிம்பம் எனவும் திரையில் வீழ்த்த முடியாத பிம்பங்கள் மாய பிம்பம் எனவும் கூறப்படுகின்றன.

ஒளிவிலகல்

மேற்குறிப்பிட்ட செயல்பாடு ஒளிவிலகலினால் ஏற்படும் நிகழ்வு ஆகும். ஓர் ஊடகத்திலிருந்து மற்றொரு ஊடகத்திற்கு ஒளி சாய்வாகச் செல்லும்போது அதன் பாதையில் விலகல் ஏற்படுகிறது. இதுவே ஒளிவிலகல் எனப்படுகிறது. ஒளிபுகும் ஓர் ஊடகத்திலிருந்து மாறுபட்ட அடர்த்தியுடைய மற்றொரு ஒளிபுகும் ஊடகத்திற்கு ஒளி செல்லும்போது, அதன் பாதையில் மாறுபாடு ஏற்படுகிறது. இவ்விலகலுக்கு (பாதையின் திசையில் மாறுபாடு) ஒளியின் திசைவேகத்தில் ஏற்படும் மாறுபாடே காரணமாகும். ஒளியின் திசைவேகம் அது செல்லும் ஊடகத்தின் தன்மையைப் பொறுத்தே அமைகிறது. அடர் குறை ஊடகத்தில் (அதாவது, குறைந்த ஒளியியல் அடர்த்தி) ஒளியின் திசைவேகம் அதிகமாகவும் அடர்மிகு ஊடகத்தில் (அதிக ஒளியியல் அடர்த்தி) திசைவேகம் குறைவாகவும் இருக்கும்.

ஒளிவிலகல் விதிகள்:

ஸ்நெல் விதிகள் எனப்படும் ஒளி விலகல் விதிகள் கீழே தரப்பட்டுள்ளன.

- படுகதிர், விலகுகதிர், படுபுள்ளியில் இரு ஒளிபுகும் ஊடகங்களுக்கு இடையிலான தளத்திற்கு வரையப்பட்ட குத்துக்கோடு ஆகியவை ஒரே தளத்தில் அமைகின்றன.
- கொடுக்கப்பட்ட இரு ஊடகங்களுக்கு, குறிப்பிட்ட நிற ஒளியின் படுகோணத்தின் சைன் மதிப்பிற்கும், விலகு கோணத்தின் சைன் மதிப்பிற்கும் இடையே உள்ள தகவு மாறிலி.

i என்பது படுகோணம், r என்பது விலகு கோணம் எனில்,

$$\frac{\sin i}{\sin r} = \text{மாறிலி}$$

இம்மாறிலி முதல் ஊடகத்தைப் பொறுத்து இரண்டாவது ஊடகத்தின் ஒளிவிலகல் எண் எனப்படும். இது ${}_1\mu_2$ (மியூ) எனப்படும் கிரேக்க எழுத்தால் குறிக்கப்படுகிறது.

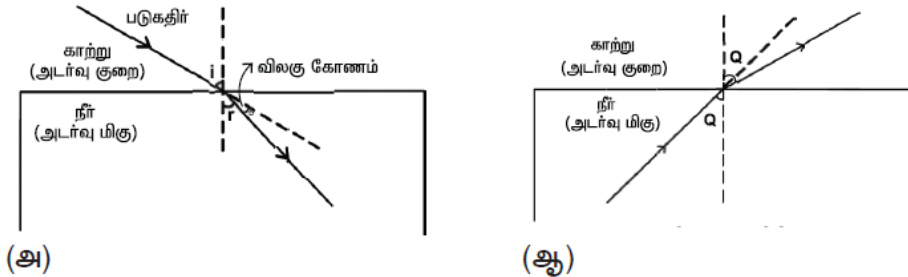
குறிப்பு: ${}_1\mu_2$ -க்கு அலகு இல்லை. ஏனெனில், அது இரு ஒத்த அளவுகளின் தகவு.

வெவ்வேறு ஊடகங்களில் செல்லும் ஒளியின் திசைவேகத்தைப் பொறுத்தும் ஒளிவிலகல் எண்ணை நாம் வரையறுக்கலாம்.

$$\mu = \frac{\text{காற்று(அ)வெற்றிடத்தில் ஒளியின் திசைவேகம் (c)}}{\text{ஊடகத்தில் ஒளியின் திசைவேகம் (v)}}$$

பொதுவாகக் கூறினால்,

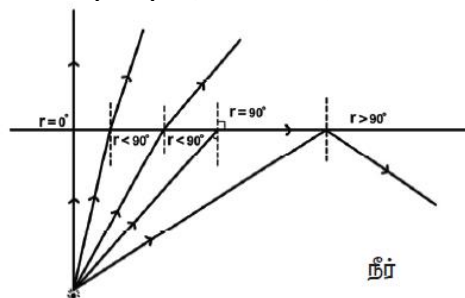
$$\mu = \frac{\text{ஊடகம் 1ல் ஒளியின் திசைவேகம்}}{\text{ஊடகம் 2ல் ஒளியின் திசைவேகம்}}$$



சமதள ஒளிபுகும் பரப்பில் ஒளிவிலகல்

முழு அக எதிரொளிப்பு

அடர் மிகு ஊடகத்திலிருந்து அடர்குறை ஊடகத்தை நோக்கி ஒளி செல்லும் போது, அது குத்துக்கோட்டை விட்டு விலகிச் செல்கிறது. அடர் மிகு ஊடகத்தில் படு கோணம் அதிகரிக்கும்போது அடர்குறை ஊடகத்தில் அதன் விலகு கோணமும் அதிகரிக்கிறது. குறிப்பிட்ட படுகோணத்திற்கு விலகு கோணத்தின் மதிப்பு $r = 90^\circ$ என்ற பெருமை மதிப்பை அடைகிறது. இப்படுகோணமே மாறுநிலைக்கோணம் எனப்படும். அதாவது, 90° விலகு கோணத்தை ஏற்படுத்தும் படுகோணம் மாறுநிலைக்கோணம் (Q_c) எனப்படும். இந்நிலையில் விலகு கதிர் இரண்டு ஊடகத்தையும் பிரிக்கும் பரப்பை ஒட்டிச் செல்லும்.



மாறுநிலைக்கோணம்

படுகோணத்தின் மதிப்பு மாறுநிலைக் கோணத்தைவிட அதிகமாக உள்ளபோது, விலகு கதிர் வெளியேறாது; ஏனெனில் $r = 90^\circ$. எனவே அதே ஊடகத்திலேயே ஒளி முழுவதுமாக எதிரொளிக்கப்படுகிறது. இதுவே முழு அக எதிரொளிப்பு ஆகும்.

முழு அக எதிரொளிப்புக்கான நிபந்தனைகள்:

முழு அக எதிரொளிப்பு ஏற்படுவதற்கு கீழ்க்கண்ட நிபந்தனைகள் அவசியம்.

- ஒளியானது அடர் மிகு ஊடகத்திலிருந்து (எ.கா - தண்ணீர்) அடர் குறை ஊடகத்திற்குச் (எ.கா - காற்று) செல்ல வேண்டும்.
- அடர்மிகு ஊடகத்தில் படுகோணத்தின் மதிப்பு மாறுநிலைக் கோணத்தை விட அதிகமாக இருக்க வேண்டும்.

இயற்கையில் முழு அக எதிரொளிப்பு

கானல் நீர்: சுட்டெரிக்கும் வெயிலில் சாலையில் செல்லும் போது தொலைவில் தண்ணீர்த் திட்டுகள் தோன்றுவதைக் காணலாம். இது ஒரு மாயத்தோற்றமே. வெயில் காலங்களில், தரையை ஒட்டிய காற்று சற்று சூடாகவும் மேற்பகுதிகளில் சற்று சூடு குறைவாகவும் இருக்கும். சூடான காற்றின் அடர்த்தி குறைவானது என்பதால் காற்றின் ஒளி விலகல் எண்ணும் குறைவாக இருக்கும். எனவே, ஒளிக்கதிர் காற்றில் ஒளி விலகல் அடைந்து குத்துக்கோட்டை விட்டு விலகலடைகிறது. மேலும், மாறுநிலைக் கோணத்தை விடப் படுகோணம் அதிகமாக இருப்பதால், முழு அக எதிரொளிப்பு அடைகிறது. வைரம் ஜொலிப்பதற்கும் விண்மீன்கள் மின்னுவதற்கும் காரணம் முழு அக எதிரொளிப்பே ஆகும்.

நிறப்பிரிகை:

ஒளி ஊடுருவும் ஊடகத்தின் வழியே வெண்மைநிற ஒளியானது செல்லும்போது ஏழு வண்ணங்களாகப் (அலைநீளம்) பிரிகை அடைகிறது. இதனை 'நிறப்பிரிகை' என்றழைக்கிறோம்.

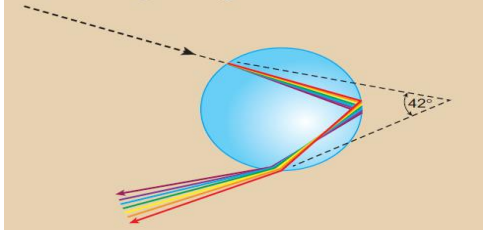
நிறப்பிரிகை ஏன் ஏற்படுகிறது? வெண்மைநிற ஒளியில் உள்ள பல்வேறு வண்ணங்கள் பல்வேறு அலைநீளங்களைக் கொண்டுள்ளன. மேலும், அவை வெவ்வேறு திசைவேகத்தில் செல்லக்கூடியவை. ஒரு ஊடகத்தில் ஒளிவிலகலானது அந்த ஊடகத்தில் ஒளியின் திசைவேகத்தைச் சார்ந்தது என்பது உங்களுக்குத் தெரியும். ஒவ்வொரு வண்ணமும் வெவ்வேறு திசைவேகத்தைக் கொண்டுள்ளதால் வெவ்வேறு வண்ண ஒளிக்கதிர்கள் முப்பட்டகத்திற்குள் வெவ்வேறு திசைகளில் விலகலடைந்து பிரிகை அடைகின்றன. ஒளிவிலகல் அதன் அலைநீளத்திற்கு எதிர்த் தகவில் உள்ளது.

எனவே, சிவப்பு நிற ஒளிக் கதிரானது அதிக அலைநீளத்தையும், குறைந்த விலகலையும் கொண்டுள்ளது. ஆனால் ஊதா நிறக் கதிர் குறைந்த அலைநீளத்தையும், அதிக அளவு விலகலையும் கொண்டுள்ளது.

வெள்ளொளிக் கதிரின் நிறப்பிரிகைக்கு வானவில் தோற்றம் ஓர் எடுத்துக்காட்டாகும். சூரியன் இருக்கும் திசைக்கு எதிர்புறத்தில் வானவில்லைக் காணமுடியும்.

மழைக்குப் பிறகு எண்ணற்ற நீர்த் துளிகள் காற்றில் மிதந்து கொண்டிருக்கும். இந்த மழைத்துளிகளின் வழியே ஒளி செல்லும்போது ஏழு வண்ணங்களாகப் பிரிகை அடைகிறது. வெள்ளொளியின் நிறப்பிரிகையானது அதிக அளவு மழைத்துளிகளில் நிகழ்வதால் இறுதியில் வானவில்

உருவாகிறது.



முப்பட்டகம்:

முப்பட்டகம் என்பது இரண்டு சமதளப்பரப்புகளுக்கு இடையே குறுங்கோணம் கொண்ட முழுவதும் கண்ணாடி அல்லது பிளாஸ்டிக்கினால் உருவாக்கப்பட்ட பொருள் ஆகும்.

நியூட்டன் வட்டு:

அறிவியல் அறிஞர் நியூட்டன், பல வண்ணங்களைக் கலப்பதன் மூலம் வெள்ளை நிறத்தை உருவாக்கம் அமைப்பு ஒன்றை உருவாக்கினார். இந்த அமைப்பு நியூட்டன் வட்டு எனப்படுகிறது. ஒரு வட்ட வடிவ அட்டை ஒன்றினை ஏழு சம வட்ட கோணப் பிரிவுகளாகப் பிரிக்கப்பட்டு ஒவ்வொரு பிரிவிலும் முறையே சிவப்பு, மஞ்சள், ஆரஞ்சு, பச்சை, நீலம், கரு நீலம் மற்றும் ஊதா வண்ணங்கள் இடப்பட்டிருக்கும்.

நியூட்டன் வட்டு மூலம் வெண்மை நிறம் ஏழு வண்ணங்களை (VIBGYOR) உள்ளடக்கியது என அறிய முடியும்.

ஒளியிழைகள் (Optical Fibre):

ஒளியிழைகள் என்பவை நெருக்கமாக பிணைக்கப்பட்ட பல கண்ணாடி இழைகளினால் உருவாக்கப்பட்ட இழைக்கற்றைகள் ஆகும்.

ஒவ்வொரு இழையும் உள்ளகம் (core) மற்றும் பாதுகாப்பு உறை (cladding) ஆகிய இரு பகுதிகளால் ஆனது. வெளியேயுள்ள பாதுகாப்பு உறையின் ஒளிவிலகல் எண்ணைவிட உள்ளகப் பொருளின் ஒளி விலகல் எண் அதிகமாக இருக்கும்.

ஒளியிழைகள் முழு அக எதிரொளிப்பின் அடிப்படையில் செயல்படுகின்றன.

நீண்ட தொலைவுகளுக்கு ஒலி, ஒளிச் சைகைகளை அனுப்ப ஒளி இழைகள் பயன்படுகின்றன.

ஒளிச்சிதறல்:

சூரிய ஒளி, புவியின் வளிமண்டலத்தில் நுழையும் போது, வளிமண்டலத்தில் உள்ள பல்வேறு வாயு அணுக்கள் மற்றும் மூலக்கூறுகளால் அனைத்து திசைகளிலும் விலகல் அடையச் செய்யப்படுகிறது. இந்நிகழ்வு 'ஒளிச்சிதறல்' எனப்படுகிறது. இந்நிகழ்வில் ஒளிக்கற்றையானது ஊடகத்தில் (காற்றில்) உள்ள துகள்களுடன் இடைவினையில் ஈடுபடும் போது, அவை அனைத்துத் திசைகளிலும், திருப்பி விடப்பட்டுச் சிதறல் நிகழ்கிறது. இடைவினையில் ஈடுபடும் துகள் சிதறலை உண்டாக்கும் துகள் (Scatterer) எனப்படுகிறது.

ராலே சிதறல் விதி

ஓர் ஒளிக்கதிர் சிதறலடையும் அளவானது, அதன் அலைநீளத்தின் நான்மடிக்கு எதிர்த்தகவில் இருக்கும்.

‘மீ’ – ஒளிச்சிதறல் (Mie-Scattering)

ஒளிச் சிதறலை ஏற்படுத்தும் துகளின் விட்டமானது, படும் ஒளிக்கதிரின் அலைநீளத்திற்குச் சமமாகவோ அல்லது அலைநீளத்தை விட அதிகமாகவோ இருக்கும் போது மீ-ஒளிச்சிதறல் ஏற்படுகிறது. இச்சிதறல் மீட்சி சிதறல் வகையை சார்ந்தது. மேலும் சிதறல் அளவானது ஒளிக்கதிரின் அலைநீளத்தைச் சார்ந்தது அன்று.

டிண்டால் ஒளிச்சிதறல்

சூரிய ஒளிக்கற்றையானது, தூசுகள் நிறைந்த ஓர் அறையின் சாளரத்தின் வழியே நுழையும் போது ஒளிக்கற்றையின் பாதை நமக்குத் தெளிவாகப் புலனாகிறது. அறையில் உள்ள காற்றில் கலந்திருக்கும் தூசுகளால் ஒளிக்கற்றையானது சிதறலடிக்கப்படுவதால் ஒளிக்கற்றையின் பாதை புலனாகிறது. இந்நிகழ்வு டிண்டால் ஒளிச்சிதறலுக்கு எடுத்துக்காட்டு ஆகும்.

இராமன் ஒளிச்சிதறல்

வாயுக்கள் அல்லது திரவங்கள் அல்லது ஒளி புகும் தன்மை கொண்ட திண்மங்களின் வழியாக ஒற்றை நிற ஒளியானது இணைக் கற்றைகளாகச் செல்லும் போது அவற்றின் ஒரு பகுதி சிதறல் அடைகிறது. சிதறலடைந்த கதிரானது, படுகின்ற கதிரின் அதிர்வெண்ணைத் தவிர சில புதிய அதிர்வெண்களையும் உள்ளடக்கியதாக இருக்கும். இந்நிகழ்வு ‘இராமன் ஒளிச்சிதறல்’ எனப்படுகிறது.

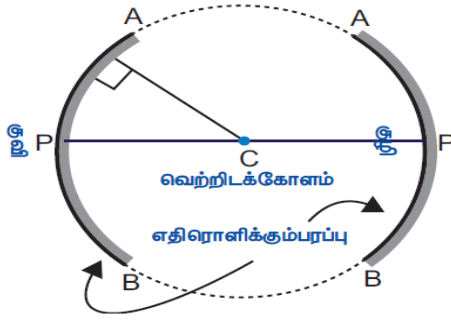
Part 2

ஆடிகள்

ஒளியை எதிரொளிக்கும் பண்பினைப் பெற்றுள்ள பளபளப்பான ஒளியியல் சாதனமே ஆடி ஆகும். ஆடி என்பது ஒருபுறம் மட்டும் அலுமினியம் அல்லது வெள்ளி முலாம் பூசப்பட்ட கண்ணாடித்துண்டு ஆகும். ஆடிகள், சமதள மற்றும் வளைந்த பரப்புடையவை. கோளக ஆடிகள், உருளை ஆடிகள், பரவளைய ஆடிகள், நீள்வட்ட வடிவ ஆடிகள் ஆகியவை வளைந்த பரப்புடைய ஆடிகளாகும். ஆடியின் வடிவ அமைப்பே அதனால் உருவாகும் பிம்பத்தினைத் தீர்மானிக்கிறது. சமதள ஆடியானது ஒரு பொருளின் சரியான பிம்பத்தினை உருவாக்குகிறது. அதே வேளையில் வளைந்த பரப்பினை உடைய ஆடிகள் பெரிய மற்றும் சிறிய பிம்பங்களை உருவாக்குகின்றன. சமதள ஆடிகளைப் பற்றி கீழ் வகுப்புகளில் பயின்றுள்ளீர்கள். பரவளைய மற்றும் கோளக ஆடிகளைப் பற்றி இப்பகுதியில் பயில இருக்கிறீர்கள்.

கோளக ஆடிகள்

வளைந்த ஆடிகளின் ஒரு வடிவமே கோளக ஆடிகளாகும். வளைந்த ஆடிகள் ஒரு கோளத்தின் பகுதியாகக் கருதப்பட்டால் அவை ‘கோளக ஆடிகள்’ என அழைக்கப்படுகின்றன. இது ஒரு கோளத்தின் மேற்பரப்பிலிருந்து வெட்டப்பட்ட சிறுபகுதியினைப் போன்று வடிவத்தைக் கொண்டிருக்கும். ஆடியின் ஒரு பகுதியில் வெள்ளிப்பூச்சு பூசப்பட்டுள்ளது. மற்றொரு பகுதியில் ஒளி எதிரொளிப்பு நிகழ்கிறது.



குழி ஆடி

கோளக ஆடியின் வளைந்த பரப்பில் ஒளி எதிரொளிப்பானது நிகழ்ந்தால் அது குழி ஆடி என அழைக்கப்படுகிறது. இந்த ஆடியின் அருகில் வைக்கப்பட்ட பொருளினை இது பெரிதாக்கிக் காட்டும். பொதுவாக அலங்காரத்திற்காக பயன்படுத்தப்படும் கண்ணாடி, குழி ஆடிக்கு எடுத்துக்காட்டாகும்.

குவி ஆடி

கோளக ஆடியின் குவிந்த பரப்பில் ஒளி எதிரொளிப்பானது நிகழ்ந்தால் அது குவி ஆடி என அழைக்கப்படுகிறது. இவ்வகை ஆடிகள் பொருளின் அளவைவிடச் சிறிய பிம்பத்தினை உருவாக்கும். சாலைகளில் பின்புறம் வரக்கூடிய வாகனங்களைக் காண்பதற்குப் பயன்படுத்தப்படும் ஆடிகள் குவி ஆடிகள் ஆகும்.

பரவளைய ஆடிகள்

இது பரவளையத்தைப் போன்ற வளைந்த பரப்புடைய ஆடியாகும். இது குழிந்த எதிரொளிக்கும் பரப்பினைக் கொண்டது. இந்தப் பரப்பானது அதன்மீது விழும் ஒளிக்கற்றையை ஒரு புள்ளியில் குவிக்கும்.

லென்சுகள்:

இரு பரப்புகளுக்கு இடைப்பட்ட ஒளிபுகும் தன்மை கொண்ட ஊடகம் 'லென்சு' எனப்படும். இப்பரப்புகள் இரண்டும் கோளகப் பரப்புகளாகவோ அல்லது ஒரு கோளகப் பரப்பும், ஒரு சமதளப் பரப்பும் கொண்டதாகவோ அமைந்திருக்கும். பொதுவாக லென்சுகள் 1. குவிலென்சு 2. குழிலென்சு என இரு வகைகளாக வகைப்படுத்தப்படுகின்றன.

1. குவிலென்சு அல்லது இருபுறக் குவிலென்சு:

இவை இருபுறமும் கோளகப் பரப்புகளைக் கொண்டது. இவை மையத்தில் தடித்தும், ஓரங்களில் மெலிந்தும் காணப்படும். இவற்றின் வழியாகச் செல்லும் இணையான ஒளிக்கற்றைகள் ஒரு புள்ளியில் குவிக்கப்படுகின்றன. எனவே இவை 'குவிக்கும் லென்சுகள்' என்று அழைக்கப்படுகின்றன.

2. குழிலென்சு அல்லது இருபுறக் குழிலென்சு:

இவை இருபுறமும் உள் நோக்கிக் குழிந்த கோளகப் பரப்புகளைக் கொண்டது. இவை மையத்தில் மெலிந்தும், ஓரங்களில் தடித்தும் காணப்படும். இவற்றின் வழியாகச் செல்லும் இணையான ஒளிக்கற்றைகள் விரிந்து செல்கின்றன. எனவே இவை 'விரிக்கும் லென்சுகள்' என்று அழைக்கப்படுகின்றன.

குவிலென்சு மற்றும் குழிலென்சு வேறுபாடுகள்

எண்	குவிலென்சு	குழிலென்சு
-----	------------	------------

1	மையத்தில் தடித்தும் ஓரத்தில் மெலிந்தும் காணப்படும்	மையத்தில் மெலிந்தும் ஓரத்தில் தடித்தும் காணப்படும்
2	இது குவிக்கும் லென்சு	இது விரிக்கும் லென்சு
3	பெரும்பாலும் மெய்ப்பிம்பங்களைத் தோற்றுவிக்கும்	மாயப்பிம்பங்களைத் தோற்றுவிக்கும்
4	தூரப்பார்வை குறைபாட்டைச் சரிசெய்யப் பயன்படுகிறது	கிட்டப்பார்வை குறைபாட்டைச் சரிசெய்யப் பயன்படுகிறது.

லென்சு சமன்பாடு

$$\frac{1}{f} = \frac{1}{v} - \frac{1}{u}$$

லென்சின் உருப்பெருக்கம்

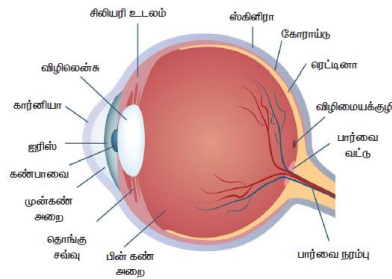
$$m = \frac{\text{பிம்பத்தின் தொலைவு}}{\text{பொருளின் தொலைவு}} = \frac{v}{u}$$

லென்சின் திறன்

$$p = \frac{1}{f}$$

மனிதக்கண்

மனிதக்கண் மிகவும் மதிப்பு வாய்ந்ததும், நுட்பமானதுமான உணர் உறுப்பாகும். அற்புத உலகைக் காண்பதற்கான வழியாகவும் கண்களே அமைகின்றன.



கார்னியா: இது விழிக்கோளத்தின் முன் பகுதியில் காணப்படும் மெல்லிய ஒளி புகும் படலம் ஆகும். இதுவே கண்ணில் ஒளிவிலகல் நடைபெறும் முக்கியமான பகுதி ஆகும். கார்னியாவை அடையும் ஒளிக்கதிர்கள் ஒளிவிலகல் அடையச் செய்யப்பட்டு விழி லென்சின் மீது குவிக்கப்படுகிறது.

ஐரிஸ்: இது கண்ணின் நிறமுடைய பகுதியாகும். இது நீலம், பழுப்பு அல்லது பச்சை நிறத்தில் காணப்படலாம். இது ஒவ்வொரு மனிதருக்கும் தனித்தன்மை வாய்ந்த நிறம் மற்றும் அமைப்பைக் கொண்டிருக்கும். இது ஒளிப்படக் கருவியின் முகப்பைப் போன்று செயல்பட்டு கண்பாவையின் உள்ளே நுழையும் ஒளிக்கதிர்களின் அளவைக் கட்டுப்படுத்துகிறது.

கண் பாவை: இது ஐரிஸின் மையப்பகுதியாகும். பொருளிலிருந்து வரும் ஒளிக்கதிர்கள் கண்பாவையின் வழியாகவே விழித்திரையை அடைகின்றன.

விழித்திரை (ரெட்டிணா): இது விழிக் கோளத்தில் பின்புற உட்பரப்பு ஆகும். மிக அதிக உணர் நுட்பம் உடைய இப்பகுதியில் பொருளின் தலைகீழான மெய்ப்பிம்பம் உருவாக்கப்படுகிறது.

சிலியரித் தசைகள்: விழி லென்சானது சிலியரித் தசைகளால் தாங்கப்பட்டுள்ளது. பொருள்களின் தொலைவிற்கு ஏற்ப, விழிலென்சு தன் குவியத் தூரத்தை மாற்றிக் கொள்ள இத்தசைகள் உதவுகின்றன.

விழிலென்சு: இது கண்ணின் மிக முக்கியமான பகுதியாகும். இது இயற்கையில் அமைந்த குவிலென்சாகச் செயல்படுகிறது.

விழி ஏற்பமைவுத் திறன்

அருகில் உள்ள மற்றும் தொலைவில் உள்ள பொருள்களைத் தெளிவாகக் காண்பதற்கு ஏற்ப விழி லென்சு தன்னை மாற்றி அமைத்துக் கொள்ளும் தன்மை, 'விழி ஏற்பமைவுத் திறன்' எனப்படுகிறது. விழி லென்சு தன்னுடைய குவியத் தொலைவை மாற்றியமைப்பதற்கு சிலியரித் தசைகள் உதவுகிறது.

பார்வை நீட்டிப்பு

இரு அடுத்தடுத்த ஒளித்துடிப்புகளுக்கு இடைப்பட்ட காலஇடைவெளி $\frac{1}{16}$ வினாடியை விடக் குறைவாக இருந்தால், மனிதக் கண்களால் அவற்றைத் தனித்தனியாக வேறுபடுத்தி அறிய இயலாது. இது 'பார்வை நீட்டிப்பு' எனப்படும்.

கண்ணின் குறைபாடுகள்

- **கிட்டப் பார்வை (மையோபியா):** மையோபியா என்று அழைக்கப்படும் 'கிட்டப்பார்வை' என்னும் குறைபாடானது விழிக்கோளம் சிறிது நீண்டு விடுவதால் ஏற்படுகிறது.
- **தூரப் பார்வை (ஹைப்பர் மெட்ரோபியா):** தூர பார்வை என்று அழைக்கப்படும், ஹைப்பர் மெட்ரோபியா குறைபாடானது விழிக்கோளம் சுருங்குவதால் ஏற்படுகிறது.
- **விழி ஏற்பமைவுத் திறன் குறைபாடு (Presbyopia):** மனிதரில் ஏற்படும் வயதுமுதிர்வு காரணமாக, சிலியரித் தசைகள் வலுவிழக்கின்றன.
- **பார்வைச் சிதறல் குறைபாடு (Astigmatism):** இக்குறைபாடு உடைய கண்களால், இணையான மற்றும் கிடைமட்டக் கோடுகளைத் தெளிவாகக் காண இயலாது.

ஒளியியல் கருவி

எளிய நுண்ணோக்கி:

குறைந்த குவியத் தொலைவு கொண்ட குவி லென்சானது எளிய நுண்ணோக்கியாகச் செயல்படுகிறது. குவிலென்சைக் கண்களுக்கு அருகில் வைத்து, பொருள்களைப் பார்க்கும் போது, பொருள்களின் பெரிதாக்கப்பட்ட மாயப்பிம்பம் தோற்றுவிக்கப்படுகிறது.

கூட்டு நுண்ணோக்கி:

இந்நுண்ணோக்கியும் மிக நுண்ணிய பொருள்களைக் காண உதவுகிறது. இதன் உருப்பெருக்குத்திறன் எளிய நுண்ணோக்கியின் உருப்பெருக்குத்திறனை விட அதிகம்.

தொலைநோக்கிகள்

தொலை நோக்கியின் வகைகள்

1. வானியல் தொலைநோக்கிகள் (Astronomical Telescopes)

இவை வான் பொருட்களான கோள்கள், விண்மீன்கள், விண்மீன் திரள்கள், துணைக் கோள்கள் போன்றவற்றைக் காணப் பயன்படுகின்றன.

2. நிலப்பரப்பு தொலைநோக்கிகள் (Terrestrial Telescopes)

வானியல் தொலை நோக்கிகளில் கிடைக்கும் இறுதி பிம்பமானது தலை கீழ் பிம்பமாக இருக்கும். எனவே, இத்தொலைநோக்கிகள் புவிப்பரப்பில் உள்ள பொருள்களைக் காண்பதற்கு ஏற்றவை அல்ல என்பதால் நிலப்பரப்பு தொலைநோக்கிகள் பயன்படுத்தப்படுகின்றன.

Previous Year Questions

1. Match the following:

- A. Myopia
B. Hyper Metropia
C. Presbyopia (above 45yrs of age)
D. Astigmatism

1. Bifocal lens
2. Cylindrical lens
3. Concave lens
4. Convex lens

பொருத்துக.

- A. அண்மைப்பார்வை
B. தூரப்பார்வை
C. தூரப்பார்வை (45 வயதுக்கு மேல்)
D. உருட்சிப்பிழை

1. இருமுகப்பு வில்லை
2. உருளை வில்லை
3. குழி வில்லை
4. குவி வில்லை

	A	B	C	D
a.	4	3	1	2
b.	3	4	1	2
c.	2	4	1	3
d.	1	2	3	4

(Inspector of Salt & Keeper in the Department of Forensic Science 2019)

2. A doctor Prescribe spectacles to a patient with a combination of a convex lens focal length 40 cm, and concave lens of focal length 25 cm, then the power spectacles will be

ஒரு கண் மருத்துவர் நோயாளி ஒருவருக்கு 40 செ.மீ குவியத் தொலைவுள்ள குவிலென்சையும் 25 செ.மீ குவியத் தொலைவுள்ள குழிலென்சையும் இணைத்து மூக்கு கண்ணாடி அணிய பரிந்துரைக்கிறார். அந்த மூக்கு கண்ணாடியின் திறன் என்ன?

- a. - 6.5 D b. 1.5 D c. -1.5 D d. -8.5 D

(Combine Engineering service Exam 2019)

3. Focal length of a convex mirror whose radius of curvature 40 cm is

- A. 20 cm B. 40 cm C. 80 cm D. infinity
40 செ.மீ வளைவு ஆரம் உடைய குவியாடி ஒன்றின் குவியத் தொலைவு
A. 20 செ.மீ B. 40 செ.மீ C. 80 செ.மீ D. முடிவில்லி

(Group IV Exam 2019)

4. If the focal length of a concave lens is 2 m, then the power of the lens is

A. 2 dioptre B. 1 dioptre C. 0.5 dioptre D. -0.5 dioptre

2 மீ குவியத்தொலைவு உடைய குழிலென்சின் திறன்

A. 2 டையாப்டர் B. 1 டையாப்டர் C. 0.5 டையாப்டர் D. - 0.5 டையாப்டர்

(Group IV Exam 2019)

5. If the power of a lens is +5

D, then its focal length is

a. +0.2cm b. -0.2cm c. +20 cm d. -20cm

ஒரு வில்லையின் திறன் +5D, அதன் குவிய நீளம் என்ன?

a. +0.2cm b. -0.2cm c. +20 cm d. -20cm

(Assistant Tourist Officer Exam 2019)