

## MONTHLY TEST – NOVEMBER, 2023

1. Find the Incorrect Pair:

1. Kalpa Vedanga - Rituals
2. Vyakarna Vedanga - Grammar
3. Nirukta Vedanga - Astrology

a. 1 only Incorrect

b. 2 only Incorrect

c. 3 only Incorrect

d. None of these are Incorrect

e. Answer not known

தவறான இணையைக் கண்டறிக.

A. கல்ப வேதாங்கம் - வேள்வி விளக்கங்கள்

B. வியாகரண வேதாங்கம் - இலக்கணம்

C. நிருத்த வேதாங்கம் - சோதிடம்

a. 1 மட்டும் தவறு.

b. 2 மட்டும் தவறு

c. 3 மட்டும் தவறு

d. மேற்கண்ட எதுவும் தவறில்லை

e. விடை தெரியவில்லை

2. Match the following:

A. Hinayana

1. Worshipped images of Buddha

B. Mahayana

2. Wear white clothing

C. Digambaras

3. Did not worship idols or images of Buddha

D. Svetambara

4. Do not wear any clothing

A B C D

a. 1 2 3 4

b. 4 3 2 1

c. 3 1 4 2

d. 4 3 1 2

e. Answer not known

பொருத்துக.

A. ஹீனயானம்

1. புத்தரின் உருவங்களை வணங்கினார்

B. மஹாயானம்

2. வெள்ளைநிற ஆடைகளை அணிவர்

C. திகம்பரர்

3. புத்தரின் சிலைகளையோ உருவப் படங்களையோ வணங்க மாட்டார்கள்

D. சுவேதாம்பரர்

4. ஆடைகள் அணிவதில்லை

A B C D

a. 1 2 3 4

- b. 4 3 2 1  
 c. 3 1 4 2  
 d. 4 3 1 2  
 e. விடை தெரியவில்லை

3. Match the following:

- A. Indus Valley 1. 1700 to 1122 BCE  
 B. Egyptian 2. 3100 to 1100 BCE  
 C. Mesopotomian 3. 3300 to 1900 BCE  
 D. Chinese 4. 3500 to 2000 BCE

- |    | A | B | C | D |
|----|---|---|---|---|
| a. | 1 | 2 | 3 | 4 |
| b. | 4 | 3 | 2 | 1 |
| c. | 3 | 2 | 4 | 1 |
| d. | 4 | 3 | 1 | 2 |

e. Answer not known

பொருத்துக.

- A. சிந்துவெளி 1. 1700 – 1122 பொ.ஆ.மு  
 B. எகிப்து 2. 3100 – 1100 பொ.ஆ.மு  
 C. மெசபடோமியா 3. 3300 – 1900 பொ.ஆ.மு  
 D. சீனம் 4. 3500 – 2000 பொ.ஆ.மு

- |    | A | B | C | D |
|----|---|---|---|---|
| a. | 1 | 2 | 3 | 4 |
| b. | 4 | 3 | 2 | 1 |
| c. | 3 | 2 | 4 | 1 |
| d. | 4 | 3 | 1 | 2 |

e. விடை தெரியவில்லை

4. Arrange it in Chronological Order:

1. Nediyan 2. Nedunchezhiyan  
 3. Mudukudumi Peruvazhuthi 4. Nanmaran  
 a. 1-2-3-4 b. 3-4-1-2 c. 4-2-3-1 d. 1-4-3-2 e. Answer not known

காலவரிசைப்படி ஒழுங்குபடுத்துக.

1. நெடியோன் 2. நெடுஞ்செழியன்  
 3. முதுகுடுமிப் பெருவழுதி 4. நன்மாறன்  
 a. 1-2-3-4 b. 3-4-1-2 c. 4-2-3-1 d. 1-4-3-2 e. விடை தெரியவில்லை

5. Which of the following statements is/are correct?

- I. Harappan people adopted double cropping system  
 II. Harappan cattle are called "Kebu"  
 III. Harappans used both stone and bronze tools  
 a. I and II only b. I and III only c. II only  
 d. All the above e. Answer not known

பின்வரும் கூற்றுகளில் சரியானது எது?

- I. ஹரப்பா மக்கள் இரட்டைச் சாகுபடி முறையைக் கடைப்பிடித்தார்கள்.  
II. ஹரப்பாவின் மாடுகள் 'கெபு' என அழைக்கப்படுகிறது.  
III. ஹரப்பா மக்கள் கல் மற்றும் வெண்கலத்தினாலான ஆயுதங்களைப் பயன்படுத்தினர்.
- a. I மற்றும் II மட்டும்                      b. I மற்றும் III மட்டும்                      c. II மட்டும்  
d. மேற்கூறிய அனைத்தும்                      e. விடை தெரியவில்லை

6. Match the following:

- A. Cutical Weights                      1. Steatite  
B. Weighting Balance                      2. Chert  
C. Preist King                      3. Bronze  
D. Dancing Girl                      4. Copper

	A	B	C	D
a.	1	2	3	4
b.	2	1	4	3
c.	1	3	2	4
d.	2	4	1	3

e. Answer not known

பொருத்துக.

- A. கனசதுர எடைகள்                      1. சர்க்கார்க்கல்  
B. தராசுகள்                      2. கருங்கல்  
C. மதகுரு (அ) அரசன்                      3. வெண்கலம்  
D. நடனப் பெண்                      4. செம்பு

	A	B	C	D
a.	1	2	3	4
b.	2	1	4	3
c.	1	3	2	4
d.	2	4	1	3

e. விடை தெரியவில்லை

7. A wheel makes 1000 revolutions in covering a distance of 88 km. Find the radius of the wheel

- a. 13 m                      b. 12 m                      c. 11 m                      d. 14 m                      e. Answer not known

88 கி.மீ தொலைவு செல்வதற்கு ஒரு சக்கரம் 1000 சுற்றுகள் எடுத்துக்கொள்கிறது. அச்சக்கரத்தின் ஆரம் காண்க.

- a. 13 m                      b. 12 m                      c. 11 m                      d. 14 m                      e. விடை தெரியவில்லை

8. Consider the following statements:

Assertion (A): Harappa and Mohenjo-Daro might have had a city - state like polity

Reason (R): Harappan cities has no uniformity in cultural material and measurement units.

- a. (A) alone is correct (R) is incorrect
- b. (A) and (R) are correct and (R) is the correct explanation of (A)
- c. (A) and (R) are correct
- d. (A) and (R) are correct but (R) is not the correct explanation of (A)
- e. Answer not known

பின்வருவனவற்றை ஆய்க.

கூற்று (A): ஹரப்பாவும் மொஹஞ்சதாரோவும் நகர அரசுகளுக்கான ஆட்சியமைப்பின் கீழ் இயங்கியிருக்கலாம்.

காரணம் (R): ஹரப்பா நகரங்களில், பண்பாட்டுப் பொருள்களிலும், அளவீடுகளிலும் சீரற்று காணப்படுகிறது.

- a. (A) மட்டும் சரி (R) தவறு
- b. (A) மற்றும் (R) இரண்டும் சரி மேலும் (R) ஆனது (A) விற்கான சரியான விளக்கம்
- c. (A) மற்றும் (R) இரண்டும் தவறு
- d. (A) மற்றும் (R) இரண்டும் சரி ஆனால் (R) ஆனது (A) விற்கான சரியான விளக்கம் அல்ல.
- e. விடை தெரியவில்லை

9. Which of the following statements is/are correct?

- I. Erecting hero stones is considered to be an extension of the Menhir type of Megalithic traditions
  - II. Carnelian beads akin to those found at Mohenjo-Daro were unearthed in Adichanallur
  - III. In Tamil Nadu, Black-ware is found mostly in burial mounds and not in habitations
- a. I and II only      b. I and III only      c. II only  
d. None of the above      e. Answer not known

சரியான கூற்றை கண்டறிக.

- I. போர் வீரர்கள் நினைவாக நடுகல் நடும் மரபு, பெருங்கற்கால ஈமக் குத்துக்கல் மரபின் தொடர்ச்சியாகக் கருதப்படுகிறது.
  - II. மொஹஞ்சதாரோ அகழாய்வில் கண்டறியப்பட்டதைப் போன்ற செம்மணிக்கற்கள் ஆதிச்சநல்லூரில் அகழ்ந்தெடுக்கப்பட்டன.
  - III. தமிழகத்தில், கருப்புநிற மட்பாண்டங்கள் மக்கள் வாழ்ந்த குடியிருப்புகளைக் காட்டிலும் இறந்தவர் புதைக்கப்பட்ட புதைமேடுகளிலேயே அதிகம் கிடைக்கின்றன.
- a. I மற்றும் II மட்டும்      b. I மற்றும் III மட்டும்      c. II மட்டும்  
d. இவை எதுவுமில்லை      e. விடை தெரியவில்லை

10. Which of the following statements is/are correct?

- I. Hero stones are memorials erected for those lost their lives in cattle raids
- II. Silapadhikaram describes the procedures for erecting hero stones
- III. Hero Stones also have images of the warriors

- a. II only                      b. II and III only                      c. I and III only  
d. None of the above                      e. Answer not known

சரியான கூற்றை கண்டறிக.

- I. ஆநிரை கவரும் சண்டைகளில் வீரமரணம் அடைந்தவர்களின் நினைவாக நடுகற்கள் நடப்பட்டன  
II. நடுகற்கள் நடப்படுவதற்கான வழிமுறைகள் குறித்து சிலப்பதிகாரம் விரிவாக எடுத்துரைக்கிறது.  
III. நடுக்கற்களில் வீரர்களின் உருவங்களும் செதுக்கப்பட்டுள்ளன.  
a. II மட்டும்                      b. II மற்றும் III மட்டும்  
c. I மற்றும் III மட்டும்                      d. மேற்கண்ட எதுவுமில்லை                      e. விடை தெரியவில்லை

11. Which of the following statements is/are correct?

- I. Mahavira acquired the highest knowledge in his thirteenth year of asceticism  
II. Mahavira believed all objects both animate and inanimate have souls and consciousness  
III. Invasion of Huns and Turks is an important reason for the decline of Jainism  
a. I and II only                      b. I and III only                      c. III only  
d. None of the above                      e. Answer not known

பின்வரும் கூற்றுகளில் சரியானது எது?

- I. மகாவீரர் துறவற வாழ்வின் பதின்மூன்றாவது ஆண்டில் உயரிய ஞானத்தை அடைந்தார்.  
II. உயிருள்ள, உயிரற்ற என அனைத்துப் பொருட்களுக்கும் ஆன்மாவும் உணர்வும் உண்டு என மகாவீரர் போதித்தார்.  
III. சமணத்தின் வீழ்ச்சிக்கு ஹூணர்கள், துருக்கியர்களின் படையெடுப்புகள் ஒரு முக்கிய காரணமாக அமைந்தது.  
a. I மற்றும் II மட்டும்                      b. I மற்றும் III மட்டும்                      c. III மட்டும்  
d. மேற்கண்ட எதுவுமில்லை                      e. விடை தெரியவில்லை

12. Choose the correct Statement about Tamil Nadu Forest and wildlife crime control Bureau

1. The objective of the bureau is to check illegal wildlife crime across the state and protect them from getting endangered  
2. It functions under a director and four additional directors for Chennai, Coimbatore, Madurai and Ramanathapuram Zones.

- a. 1 only                      b. 2 only                      c. Both 1, 2 are correct  
d. Both 1, 2 are incorrect                      e. Answer not known

தமிழ்நாடு வன மற்றும் வனவிலங்கு குற்றக் கட்டுப்பாட்டுப் பற்றிய சரியான அறிக்கையைத் தேர்வு செய்யவும்.

1. மாநிலம் முழுவதும் உள்ள சட்டவிரோத வனவிலங்கு குற்றங்களைச் சரிபார்த்து, அவற்றை ஆபத்தில் இருந்து பாதுகாப்பதே பணியகத்தின் நோக்கமாகும்.

2. ஒரு இயக்குநர் மற்றும் சென்னை, கோயம்புத்தூர், மதுரை மற்றும் ராமநாதபுரம் மண்டலங்களுக்கான நான்கு கூடுதல் இயக்குநர்களின் கீழ் இது செயல்படுகிறது.
- a. 1 மட்டும்  
b. 2 மட்டும்  
c. 1, 2 இரண்டும் சரியானது  
d. 1, 2 இரண்டும் தவறானவை  
e. விடை தெரியவில்லை
13. In India, which state/U.T. provide In Vitro fertilization (IVF) treatment facility free of cost for the first time
- a. Goa  
b. Puducherry  
c. Punjab  
d. Delhi  
e. Answer not known
- இந்தியாவில், எந்த மாநிலம் / UT முதல் முறையாக ஆய்வக கருத்தரிப்பு (IVF) சிகிச்சை வசதியை இலவசமாக வழங்குகிறது?
- a. கோவா  
b. புதுச்சேரி  
c. பஞ்சாப்  
d. டெல்லி  
e. விடை தெரியவில்லை
14. Kanishka was a great patron of art and literature. Which of the following personalities adorned his court?
- a. Aswaghosa, Parsva, Vasumitra and Charaka  
b. Aswaghosa, Nagarjuna, Vasumitra and Charaka  
c. Aswaghosa, Parsva, Hemachandra and Charaka  
d. Aswaghosa, Parsva, Asanga and Charaka  
e. Answer not known
- பின்வருவனவற்றுள் எது கலை மற்றும் இலக்கியத்தின் பெரும் புரவலராக இருந்த கனி'காவின் அரண்மனையை அலங்கரித்தது?
- a. அஸ்வகோசா, பார்ஸ்வா, வசமித்ரா மற்றும் சரகா  
b. அஸ்வகோசா, நாகார்ஜுனா, வசமித்ரா மற்றும் சரகா  
c. அஸ்வகோசா, பார்ஸ்வா, ஹேமச்சந்திரா மற்றும் சரகா  
d. அவகோசா, பார்ஸ்வா, அசங்கா மற்றும் சரகா  
e. விடை தெரியவில்லை
15. The largest number of discourses delivered by Buddha were at:
- a. Sravasti  
b. Kausambi  
c. Rajagriha  
d. Saranath  
e. Answer not known
- பின்வருவனவற்றில் புத்தரின் சொற்பொழிவுகள் அதிக எண்ணிக்கையிலான இடம் பெற்றது எது?
- a. ஸ்ரவஸ்தி  
b. கௌசாம்பி  
c. ராஜகிரிஹா  
d. சாரநாத்  
e. விடை தெரியவில்லை
16. Which one of the following is the correct choronological sequence?
- a. Ashtadhyayi – Buddhacharita – Kathasaritsagara – Meghaduta  
b. Ashtadhyayi – Buddhacharita – Meghaduta – Kathasaritsagara  
c. Buddhacharita – Ashtadhyayi – Meghaduta – Kathasaritsagara

d. Buddhacharita – Ashtadhyayi - Kathasaritsagara - Meghaduta

e. Answer not known

பின்வருவனவற்றில் எது சரியான காலவரிசை என வரிசை படுத்துக?

a. அஷ்டத்யாயி – புத்தசரிதா – கதாசரித்சாகரா – மேகதூதா

b. அஷ்டத்யாயி – புத்தசரிதா – மேகதூதா - கதாசரித்சாகரா

c. புத்தசரிதா – அஷ்டத்யாயி - மேகதூதா - கதாசரித்சாகரா

d. புத்தசரிதா – அஷ்டத்யாயி - கதாசரித்சாகரா – மேகதூதா

e. விடை தெரியவில்லை

17. Two cubes each of volume  $27 \text{ cm}^3$  are joined to form a cuboid then the total surface area of the cuboid is

a.  $54 \text{ cm}^2$    b.  $90 \text{ cm}^2$    c.  $60 \text{ cm}^2$    d.  $45 \text{ cm}^2$    e. Answer not known

கன அளவு  $27 \text{ ச.செ.மீ}$  அளவுள்ள இரு கனச்சதுரங்கள் இணைக்கப்படும் போது கிடைக்கும் கன செவ்வகத்தின் மொத்த மேற்பரப்பு யாது?

a.  $54 \text{ cm}^2$    b.  $90 \text{ cm}^2$    c.  $60 \text{ cm}^2$    d.  $45 \text{ cm}^2$    e. விடை தெரியவில்லை

18. Choose the correct Statements

1. Bharatiya Nyaya Sanhita 2023 replacing the Indian penal code (IPC) - 1860

2. Bharatiya Nagarik Suraksha Sanhita 2023 replacing the Indian Evidence Act - 1872

3. Bharatiya Sakshya bill 2023 replacing the Criminal procedure code (CrPC) - 1973

a. 1 only   b. 2, 3   c. 1, 2

d. 3 only   e. Answer not known

பின்வருவனவற்றில் சரியான அறிக்கைகளைத் தேர்ந்தெடுங்கள்:

1. இந்திய தண்டனை சட்டம் (IPC) 1860 ஐ மாற்றும் நோக்கில், பாரதிய நியாய சம்ஹிதா 2023 உருவாக்கப்பட்டுள்ளது.

2. இந்திய குற்ற ஆதாரச் சட்டம், 1872 ஐ மாற்றும் நோக்கில், பாரதிய நகரிக் சுரக்ஷா 2023 உருவாக்கப்பட்டுள்ளது.

3. பாரதிய சாக்ஷிய சட்டம் 2023 என்பது குற்ற நடைமுறைச் சட்டத்தை (CrPC) - 1973 மாற்றியமைக்கும் நோக்கத்துடன் உருவாக்கப்பட்ட ஒரு சட்ட வரைவு ஆகும்.

a. 1 மட்டும்   b. 2 மற்றும் 3 மட்டும்   c. 1 மற்றும் 2 மட்டும்

d. 3 மட்டும்   e. விடை தெரியவில்லை

19. avaiyaRinhadhu aaraaindhu solluka sollin

thokaiyaRindha thooimai yavar

In this Kural the term avai means

a. forum   b. packing   c. association

d. a and c   e. answer not known

அவையறிந்து ஆராய்ந்து சொல்லுக சொல்லின்

தொகையறிந்த தூய்மை யவர் - என்ற குறளில் “அவை” என்பதன் பொருள் என்ன?

- a. மன்றம்  
d. a மற்றும் c
- b. பொதிவு  
e. விடை தெரியவில்லை
- c. கழகம்

20. Choose the kural for the following meaning

The modesty by which one does not rush forward and speak in (an assembly of) superiors is the best among all (one's) good qualities.

- a. As in the way one tottering falls, is slip before  
The men whose minds are filled with varied lore.
- b. The learning of the learned sage shines bright  
To those whose faultless skill can value it aright.
- c. To speak where understanding hearers you obtain,  
Is sprinkling water on the fields of growing grain!.
- d. Midst all good things the best is modest grace,  
That speaks not first before the elders' face.
- e. Answer not known

அறிவுமிகுந்தவரிடையே முந்திசென்று பேசாத அடக்கம் ஒருவனுக்கு நன்மை என்று சொல்லப்பட்டவை எல்லாவற்றிலும் நல்லது – என்பதை உணர்த்தும் குறள் எது?

- a. ஆற்றின் நிலைதளர்ந் தற்றே வியன்பலம்  
ஏற்றுணர்வார் முன்னர் இழுக்கு
- b. கற்றறிந்தார் கல்வி விளங்கும் கசடறச்  
சொல்தெரிதல் வல்லார் அகத்து
- c. உணர்வ துடையார்முன் சொல்லல் வளர்வதன்  
பாத்தியுள் நீர்சொரிந் தற்று
- d. நன்றென்ற வற்றுள்ளும் நன்றே முதுவருள்  
முந்து கிளவாச் செறிவு
- e. விடை தெரியவில்லை

21. The temple in Kanchipuram where the ceiling is painted with life story of Mahavira,

- a. Tiruvekka temple  
c. Ekambareswarar Temple  
e. Answer not known
- b. Kailasanatha Temple  
d. Thiruparuthikundram Temple

காஞ்சிபுரத்தில் உள்ள எந்த கோயிலின் கூரையில் மகாவீரரின் வாழ்க்கைக் கதை ஓவியமாக வரையப்பட்டுள்ளது?

- a. திருவெக்கா கோயில்  
c. ஏகாம்பரநாதர் கோயில்  
e. விடை தெரியவில்லை
- b. கைலாசநாதர் கோயில்  
d. திருப்பருத்திக்குன்றம் கோயில்

22. Which of the following statements is/are correct?

- I. The three principles of Buddhism are known as Tri-Ratnas
- II. According to Buddha, woman can be enlightened by following the path of a renunciation
- III. Mahayana Buddhism was the original creed preached by Buddha



- a. I and II only                      b. I and III only                      c. II only  
d. None of the above                      e. Answer not known

பின்வரும் கூற்றுகளில் சரியானது எது?

- I. பௌத்தத்தின் முக்கியமான மூன்று கொள்கைகள் மும்மணிகள் (திரிரத்தனா) என்று அழைக்கப்படும்.  
II. புத்தரின் போதனைப்படி, பெண்கள் உலக இன்பங்களையும் ஆடம்பரங்களையும் துறந்தால் மெய்யறிவை அடைய முடியும்.  
III. மஹாயானம், புத்தர் போதித்த அசல் வடிவமாகும்.  
a. I மற்றும் II மட்டும்                      b. I மற்றும் III மட்டும்                      c. II மட்டும்  
d. மேற்கண்ட எதுவுமில்லை                      e. விடை தெரியவில்லை

23. Consider the following:

Assertion (A): Jains could not practice agriculture

Reason (R): In Jainism, only monks could achieve liberation from the cycle of birth and rebirth

- a. (A) alone is correct (R) is incorrect  
b. (A) and (R) are correct and (R) is the correct explanation of (A)  
c. (A) and (R) are incorrect  
d. (A) and (R) are correct but (R) is not the correct explanation of (A)  
e. Answer not known

பின்வரும் கூற்றுகளை ஆய்க.

கூற்று (A): சமணர்களால் வேளாண்மை தொழிலில் ஈடுபட முடியவில்லை.

காரணம் (R): சமண மதத்தில் துறவிகளால் மட்டுமே பிறப்பு, இறப்பு என்ற சுழற்சியிலிருந்து விடுதலை பெற முடியும்.

- a. (A) மட்டும் சரி (R) தவறு  
b. (A) மற்றும் (R) இரண்டும் சரி மேலும் (R), (A) விற்கு சரியான விளக்கமாகும்.  
c. (A) மற்றும் (R) இரண்டும் தவறு  
d. (A) மற்றும் (R) இரண்டும் சரி ஆனால் (R), (A) விற்கு சரியான விளக்கமல்ல.  
e. விடை தெரியவில்லை

24. Match the following regarding Ashoka's Major rock edicts

- |                    |                               |
|--------------------|-------------------------------|
| A. Rock Edict I    | 1. Dhamma                     |
| B. Rock Edict II   | 2. Victory of Kalinga         |
| C. Rock Edict III  | 3. Chola, Chera and Pandyas   |
| D. Rock Edict XIII | 4. Prohibits animal slaughter |

- |    | A                | B | C | D |
|----|------------------|---|---|---|
| a. | 2                | 3 | 4 | 1 |
| b. | 4                | 1 | 3 | 2 |
| c. | 2                | 1 | 4 | 3 |
| d. | 4                | 3 | 1 | 2 |
| e. | Answer not known |   |   |   |

அசோகரின் 14 பாறைக் கல்வெட்டுகளைப் பொருத்து பின்வருவனவற்றைப் பொருத்துக.

- |                              |                         |
|------------------------------|-------------------------|
| A. முதலாம் பாறைக் கல்வெட்டு  | 1. தர்மம்               |
| B. இரண்டாம் பாறைக் கல்வெட்டு | 2. கலிங்க வெற்றி        |
| C. நான்காம் பாறைக் கல்வெட்டு | 3. சோழ சேர பாண்டியர்கள் |
| D. 13ஆம் பாறைக் கல்வெட்டு    | 4. விலங்கு வதைத்தடை     |

	A	B	C	D
a.	2	3	4	1
b.	4	1	3	2
c.	2	1	4	3
d.	4	3	1	2

e. விடை தெரியவில்லை

25. Find the sum of all natural numbers between 300 and 500 which are divisible by 11.

- a. 7337      b. 7227      c. 7447      d. 7557      e. Answer not known

300க்கும் 500 க்கும் இடையேயுள்ள 11 ஆல் வகுபடும் அனைத்து இயல் எண்களின் கூட்டுப்பலன் காண்க

- a. 7337      b. 7227      c. 7447      d. 7557      e. விடை தெரியவில்லை

26. Which of the following statements is/are correct?

- I. Agriculture flourished in the Gupta period  
 II. Akshapataladhikrita maintained records of all land transactions  
 III. The Military campaigns of Samudragupta were financed through revenue surpluses

- a. II only      b. II and III only      c. I and III only  
 d. All the above      e. Answer not known

பின்வரும் கூற்றுகளில் சரியானது எது?

- I. குப்தர் ஆட்சிக் காலத்தில் வேளாண்மை மேம்பாடு அடைந்தது.  
 II. அக்ஷபதலதிக்கிருதா என்ற அதிகாரி நிலப்பரிமாற்றம் தொடர்பான வணங்கள் அனைத்தையும் பாதுகாத்தார்.  
 III. சமுத்திரகுப்தர் மேற்கொண்ட படையெடுப்பகளுக்கான நிதி வருவாய்களின் உபரிநிதியிலிருந்து கிடைத்தது.

- a. II மட்டும்      b. II மற்றும் III மட்டும்      c. I மற்றும் III மட்டும்  
 d. மேற்கூறிய எதுவுமில்லை e. விடை தெரியவில்லை

27. Match the following:

- |               |   |                                  |
|---------------|---|----------------------------------|
| A. Avanti     | - | 1. Secret service department     |
| B. Simhananda | - | 2. Minister of foreign relations |
| C. Banu       | - | 3. Commander - in - chief        |
| D. Sarvagata  | - | 4. Keeper of records             |

	A	B	C	D
a.	2	3	4	1

- b. 2 1 3 4  
c. 1 2 3 4  
d. 4 2 1 3

e. Answer not known

பொருத்துக.

- A. அவந்தி 1. உளவுத்துறை  
B. சிம்மானந்தா 2. அயலுறவு அமைச்சர்  
C. பானு 3. படைத்தளபதி  
D. சர்வகதர் 4. ஆவணப் பதிவாளர்

- |    | A | B | C | D |
|----|---|---|---|---|
| a. | 2 | 3 | 4 | 1 |
| b. | 2 | 1 | 3 | 4 |
| c. | 1 | 2 | 3 | 4 |
| d. | 4 | 2 | 1 | 3 |

e. விடை தெரியவில்லை

28. Which of the following statements is/are Correct?

- I. Caste System was firmly established during the Pallava period.  
II. Mahendravarman was the first Pallava to adopt the Worship of Siva  
III. Narasimhavarman I is credited with the introduction of rock cut temples in the Pallava territory  
a. I and III only      b. I only      c. I and II only  
d. None of the above      e. Answer not known

பின்வரும் கூற்றுகளில் சரியானது எது?

- I. பல்லவர் காலத்தில் சாதியமைப்பு வலுவாக நிறுவப்பட்டது.  
II. மகேந்திரவர்மனே பல்லவர்களில் முதன்முதலாக சைவத்தைத் தழுவினவர்.  
III. பல்லவர் பகுதிகளில் குடைவரைக் கோயில்களை அறிமுகம் செய்த பெருமை முதலாம் நரசிம்மவர்மனைச் சேரும்.  
a. I மற்றும் III மட்டும்      b. I மட்டும்      c. I மற்றும் II மட்டும்  
d. மேற்கூறிய எதுவுமில்லை      e. விடை தெரியவில்லை

29. Which of the following are correctly matched?

- I. Cave Temple - Mandagapattu Temple  
II. Monolithic Rathas - Mamandur temple  
III. Structural Temple - Matangeswara temple  
a. II only      b. I and III only      c. I only  
d. None of the above      e. Answer not known

பின்வருவனவற்றுள் எவை சரியாக பொருந்தியுள்ளது?

- I. குடைவரைக்கோயில் - மண்டகப்பட்டு கோயில்  
II. ஒற்றைக் கல் ரதம் - மாமண்டூர் கோயில்  
III. கட்டுமானக் கோயில் - மதங்கீஸ்வரர் கோயில்

- a. II மட்டும்  
d. மேற்கூறிய எதுவுமில்லை
- b. I மற்றும் III மட்டும்  
e. விடை தெரியவில்லை
- c. I மட்டும்

30. Which of the following statements is/are correct?

- I. Vativaykkal is a traditional way to harnessing rain water in Krishna-Godavari Delta  
II. Vati runs the east-west direction  
III. Technically, Vati is a supply channel and Vaykkal is a drainage channel

- a. I and III only  
d. None of the above
- b. I only  
e. Answer not known
- c. II only

பின்வரும் கூற்றுகளில் சரியானது எது?

- I. வடி, வாய்க்கால் என்ற கால்வாய்கள் மழைநீரைச் சேமித்து வைப்பதற்குக் கிருஷ்ணா-கோதாவரி வடிநிலப்பகுதியில் பயன்பட்ட மரபுவழி முறை  
II. வடி என்பது கிழக்கு - மேற்காக ஓடுவதாகும்.  
III. வடி என்பது நீரைக் கொண்டுவருவதையும், வாய்க்கால் என்பது நீரை வெளியேற்றுவதையும் குறிக்கும்.

- a. I மற்றும் III மட்டும்  
d. மேற்கூறிய எதுவுமில்லை
- b. I மட்டும்  
e. விடை தெரியவில்லை
- c. II மட்டும்

31. Consider the statement about Digital Personal Data protection act - 2023

1. Personal data may be processed only for a lawful purpose after obtaining the consent of the Data principal  
2. Data Fiduciary must ensure the accuracy and completeness of Data  
3. Establishment of Data protection Board of India (DPBI) by the central government

Choose the correct statement

- a. 1, 2  
b. 1, 3  
c. 2, 3  
d. 1, 2, 3  
e. Answer not known

டிஜிட்டல் தனிநபர் தரவு பாதுகாப்புச் சட்டம் - 2023 பற்றிய அறிக்கையைக் கவனியுங்கள்

1. தரவு உரிமையாளரின் சம்மதத்தைப் பெற்ற பிறகு மட்டுமே, சட்டபூர்வமான நோக்கத்திற்காக தனிப்பட்ட தரவை செயல்படுத்த முடியும்.  
2. தரவு பெறும் முகமை தரவின் துல்லியம் மற்றும் முழுமையை உறுதி செய்ய வேண்டும்.  
3. மத்திய அரசால் இந்திய தரவு பாதுகாப்பு வாரியம் (DPBI) நிறுவப்பட்டது கீழே கொடுக்கப்பட்டுள்ள குறியீடுகளில் இருந்து சரியான விடையைத் தேர்ந்தெடுக்கவும்.

- a. 1 மற்றும் 2 மட்டும்  
d. 1, 2 மற்றும் 3
- b. 1 மற்றும் 3 மட்டும்  
e. விடை தெரியவில்லை
- c. 2 மற்றும் 3 மட்டும்

32. FAG, GAF, HAI, IAH, \_\_\_\_\_

- a. JAK  
b. HAL  
c. HAK  
d. JAI  
e. Answer not known

FAG, GAF, HAI, IAH, \_\_\_\_\_

- a. JAK  
b. HAL  
c. HAK  
d. JAI  
e. விடை தெரியவில்லை

33. Which of the following were parts of the Chera Kingdom?  
 1. Korkkai                      2. Musiri      3. Puhar      4. Saliyur                      5. Tondi  
 a. 1, 2 and 4                      b. 2 and 5                      c. 2, 3 and 4  
 d. 3, 4 and 5                      e. Answer not known
- பின்வருவனவற்றில் சேர இராச்சியத்தின் பகுதிகள் யாவை?  
 1. கொற்கை                      2. முசிறி      3. புகார்      4. சாலியூர்                      5. தொண்டி  
 a. 1, 2 மற்றும் 4                      b. 2 மற்றும் 5                      c. 2, 3 மற்றும் 4  
 d. 3, 4 மற்றும் 5                      e. விடைதெரியவில்லை
34. Assertion (A): The Chola ruler Rajendra's atrocities during his conquest of Sri Lanka have been highlighted in the Mahavamsa.  
 Reason(R) : The author had a strong sympathy for Buddhism  
 a. Both A and R are true and R is the correct explanation of A  
 b. Both A and R are true and R is the not a correct explanation of A  
 c. A is true but R is false  
 d. A is false but R is true  
 e. Answer not known
- கூற்று (A): சோழ மன்னன் ராஜேந்திரன் இலங்கையைக் கைப்பற்றியபோது அவன் செய்த கொடுங்கங்கள் மகாவம்சத்தில் குறிப்பிடப்பட்டுள்ளன.  
 காரணம் (R): புத்தமதத்தின் மீது எழுத்தாளருக்கு மிகுந்த அனுதாபம் இருந்தது.  
 a. A மற்றும் R இரண்டும் சரி மற்றும் R என்பது A இன் சரியான விளக்கம்.  
 b. A மற்றும் R இரண்டும் சரி மற்றும் R என்பது A இன் சரியான விளக்கம் அல்ல.  
 c. A சரி ஆனால் R என்பது தவறு  
 d. A தவறு ஆனால் R சரி  
 e. விடைதெரியவில்லை
35. Which of the following characterized the Tamil society of Sangam Age?  
 1. Complex caste system  
 2. Prohibition of intermarriage between the kings and the velalas  
 3. Vegetarianism among the Brahmanas  
 4. Gradual Aryanisation  
 a. 1 alone                      b. 1 and 2                      c. 2 and 3  
 d. 4 alone                      e. Answer not known
- பின்வருவனவற்றுள் சங்க கால தமிழ் சமுதாயத்தின் சிறப்பியல்புகள் எது?  
 1. சிக்கலான சாதி அமைப்பு  
 2. அரசர்களுக்கும் வேளாளர்களுக்கும் இடையிலான திருமணத் தடை  
 3. பிராமணர்களிடையே சைவம்  
 4. படிப்படியான ஆரியமயமாக்கல்  
 a. 1 மட்டும்                      b. 1 மற்றும் 2                      c. 2 மற்றும் 3  
 d. 4 மட்டும்                      e. விடைதெரியவில்லை

36. Which of the following countries agreed to become a member of BRICS

- |                     |                     |                     |
|---------------------|---------------------|---------------------|
| 1. Argentina        | 2. Afghanistan      | 3. Egypt            |
| 4. Ethiopia         | 5. Iran             | 6. Australia        |
| 7. Saudi Arabia     | 8. UAE              | 9. Nepal            |
| a. 1, 2, 3, 4, 7, 8 | b. 1, 3, 4, 5, 6, 8 | c. 1, 3, 4, 5, 7, 9 |
| d. 1, 3, 4, 5, 7, 8 | e. Answer not known |                     |

பின்வரும் நாடுகளில் எந்தெந்த நாடுகள் பிரிக்ஸ் அமைப்பில் உறுப்பினராக சேர ஒப்புக்கொண்டது?

- |                     |                        |                     |
|---------------------|------------------------|---------------------|
| 1. அர்ஜென்டினா      | 2. ஆப்கானிஸ்தான்       | 3. எகிப்து          |
| 4. எத்தியோப்பியா    | 5. ஈரான்               | 6. ஆஸ்திரேலியா      |
| 7. சவுதி அரேபியா    | 8. ஐக்கிய அரபு அமீரகம் | 9. நேபாளம்          |
| a. 1, 2, 3, 4, 7, 8 | b. 1, 3, 4, 5, 6, 8    | c. 1, 3, 4, 5, 7, 9 |
| d. 1, 3, 4, 5, 7, 8 | e. விடை தெரியவில்லை    |                     |

37. Who was declared as the Election commission of India's (ECI) National icon?

- |                     |                     |                |
|---------------------|---------------------|----------------|
| a. Sachin Tendulkar | b. M.S. Dhoni       | c. Virat Kohli |
| d. Rohit Sharma     | e. Answer not known |                |

இந்திய தேர்தல் ஆணையத்தின் (ECI) தேசிய பிரபலமாக அறிவிக்கப்பட்டவர் யார்?

- |                        |                     |                |
|------------------------|---------------------|----------------|
| a. சச்சின் டெண்டுல்கர் | b. எம். எஸ். தோனி   | c. விராட் கோலி |
| d. ரோஹித் சர்மா        | e. விடை தெரியவில்லை |                |

38. Who is called as the most learned among learned?

- |  |
|--|
| a. Those who can agreeably set forth their acquirements before the learned               |
| b. Those who can agreeably set forth their acquirements before the unlearned             |
| c. Those who can agreeably set forth their acquirements before the learned and unlearned |
| d. None  |
| e. Answer not known  |

கற்றாறுள் கற்றார் எனப்படுபவர் யார்?

- |   |
|---|
| a. கற்றவரின் முன் தாம் கற்றவற்றை அவர் மனதில் பதியுமாறு சொல்லவல்லவர்             |
| b. கல்லாதவரிடத்தில் தாம் கற்றவற்றை அவர் மனதில் பதியுமாறு சொல்லவல்லவர்           |
| c. கற்றார், கற்றாதர் இடத்தில் தாம் கற்றவற்றை அவர் மனதில் பதியுமாறு சொல்லவல்லவர் |
| d. மேற்கூறிய எவையுமில்லை  |
| e. விடை தெரியவில்லை   |

39. \_\_\_\_\_ encountering death in the face of foe will hold their ground;

Who speak undaunted in the council hall are \_\_\_\_\_ found

- |               |               |                          |
|---------------|---------------|--------------------------|
| a. Rare, Many | b. Many, Rare | c. Learned among learned |
|---------------|---------------|--------------------------|

d. learned yet useless e. Answer not known

பகையகத்துச் சாவார் \_\_\_\_\_, \_\_\_\_\_

அவையகத்து அஞ்சா தவர்

- a. அரியர், எளியர் b. எளியர், அரியர் c. கற்றாருள், கற்றார்  
d. கற்றும், பயமில்லரே e. விடை தெரியவில்லை

40. Identify the correctly matched pairs among the following:

- I. Thanjavur Big Temple - 243 Feet  
II. Gangaikonda Cholapuram Temple - 180 Feet  
III. Dharasuram Temple - 80 Feet

- a. I and II only b. I and III only c. II and III only  
d. All the above e. Answer not known

பின்வருவனவற்றுள் சரியாக பொருத்தப்பட்டுள்ள இணைகளை அடையாளம் காட்டுக.

- I. தஞ்சை பெரிய கோவில் - 243 அடி  
II. கங்கை கொண்ட சோழபுரம் கோயில் - 180 அடி  
III. தாராசுரம் கோயில் - 80 அடி  
a. I மற்றும் II மட்டும் b. I மற்றும் III மட்டும் c. II மற்றும் III மட்டும்  
d. மேற்கண்ட அனைத்தும் e. விடை தெரியவில்லை

41. Kazhugumalai Jain rock-cut temple was built by,

- a. Narasimhavarman II b. Parantaka Nedunjadaiyan  
c. Arikesaro Maravarmar d. Sadaiyavarman Sundarapandyan  
e. Answer not known

கழுகுமலை சமண குடைவரைக்கோவில் யாரால் உருவாக்கப்பட்டது?

- a. இரண்டாம் நரசிம்மன் b. பராந்தக நெடுஞ்சடையன்  
c. அரிகேசரி மாறவர்மன் d. சடையவர்மன் சுந்தரபாண்டியன்  
e. விடை தெரியவில்லை

42. The perimeter of a triangular plot is 600 m. If the sides are in the ratio 5 : 12 : 13 then find the area of the plot.

- a. 11000 sq.m. b. 14000 sq.m. c. 12000 sq.m.  
d. 13000 sq.m. e. Answer not known

ஒரு முக்கோண வடிவிலான மனையின் சுற்றளவு 600மீ. அதன் பக்கங்கள் 5 : 12 : 13 என்று விகிதத்தில் உள்ளன எனில் அந்த மனையின் பரப்பு காண்க.

- a. 11000 ச.மீ b. 14000 ச.மீ c. 12000 ச.மீ  
d. 13000 ச.மீ e. விடை தெரியவில்லை

43. Examine the following statements

Statement (A): Gods of the Early Vedic period like Indra and Agni lost their importance in later Vedic period.

Reason (R): Prajapathi, Vishnu and Rudra became prominent during the Later Vedic Period.

- a. A and R are right 'R' is the correct explanation for A
- b. A and R are right but 'R' is not the correct explanation for A
- c. A is right but 'R' is wrong
- d. A is wrong but 'R' is right
- e. Answer not known

கீழ்க்கண்ட கூற்றுகளை கவனி:

கூற்று (A): முந்தைய வேதகாலக் கடவுளான இந்திரனும் அக்னியும் பிந்தைய வேத காலத்தில் செல்வாக்கிழந்தனர்

காரணம் (R): பிந்தைய வேதகாலத்தில் பிரஜாபதி, விஷ்ணு, ருத்ரன் ஆகிய கடவுளார் முக்கியத்துவம் பெற்றனர்.

- a. (A) மற்றும் (R) இரண்டும் சரி மேலும் (R) என்பது (A) விற்கு சரியான விளக்கம்
- b. (A) மற்றும் (R) இரண்டும் சரி மேலும் (R) என்பது (A) விற்கு சரியான விளக்கமல்ல
- c. (A) சரி ஆனால் (R) தவறு
- d. (A) தவறு ஆனால் (R) சரி
- e. விடை தெரியவில்லை

44. Match the following

- A. Eastern Chalukyas
- B. Yadavas
- C. Kakatiyas
- D. Hoysalas

- 1. Warangal
- 2. Vengi
- 3. Dwarasamudra
- 4. Devagiri
- 5. Talkad

	A	B	C	D
a.	1	2	3	4
b.	5	3	1	2
c.	2	4	1	3
d.	2	5	1	4

e. Answer not known

பொருத்துக

- A. கிழக்கு சாளுக்கியர்கள்
- B. யாதவர்கள்
- C. காகதீயர்கள்
- D. ஹொய்சாளர்கள்

- 1. வாரங்கல்
- 2. வெங்கி
- 3. துவார சமுத்திரம்
- 4. தேவகிரி
- 5. தலைக்காடு

	A	B	C	D
a.	1	2	3	4
b.	5	3	1	2
c.	2	4	1	3
d.	2	5	1	4

e. விடை தெரியவில்லை



45. Choose the correct statement
1. The Allahabad Pillar Inscription describes the extensive conquests of Samudragupta
  2. The famous Mehrauli Iron Pillar Inscription describes the conquest of Chandragupta Maurya
- a. 1 only                      b. 2 only                      c. both  
d. none                      e. answer not known

சரியான கூற்றைத் தேர்வ

1. அலகாபாத் கல்வெட்டு சமுத்திரகுப்தரின் விரிவான வெற்றியை விளக்குகிறது.
2. மெஹ்ராலி இரும்புத்தூண் கல்வெட்டு சந்திரகுப்த மௌரியரின் வெற்றியை விளக்குகிறது.

- a. 1 மட்டும்                      b. 2 மட்டும்                      c. இரண்டும்  
d. இரண்டுமல்ல                      e. விடை தெரியவில்லை

46. Which one of the following is correctly matched

- a. First Buddhist council - Kashmir
- b. Second Buddhist council - Vaisali
- c. Third Buddhist Council - Rajagriha
- d. Fourth Buddhist Council - Pataliputra
- e. Answer not known

கீழ்க்கண்டவற்றுள் எந்த ஒன்று மட்டும் சரியாக பொருந்துகிறது?

- a. முதல் புத்த மாநாடு - காஷ்மீர்
- b. இரண்டாம் புத்த மாநாடு - வைசாலி
- c. மூன்றாம் புத்த மாநாடு - ராஜகிரிகம்
- d. நான்காம் புத்த மாநாடு - பாடலிபுத்திரம்
- e. விடை தெரியவில்லை

47. Arrange the correct order of Malik Kafur's South Indian expeditions  
I. Madurai              II. Warrangal              III. Devagiri IV. Dwara Samudhram

The correct order is

- a. II, III, I, IV              b. III, II, IV, I                      c. IV, I, II, III  
d. IV, III, I, II              e. Answer not known

மாலிக்காபூரின் தென்னிந்திய படையெடுப்புகளை சரியாக வரிசைப்படுத்துக:

- I. மதுரை              II. வாரங்கல்              III. தேவகிரி IV. துவாரக சமுத்திரம்

சரியான வரிசை:

- a. II, III, I, IV              b. III, II, IV, I                      c. IV, I, II, III  
d. IV, III, I, II              e. விடை தெரியவில்லை

48. Match the following

- |             |            |
|-------------|------------|
| A. Kabir    | 1. Weaver  |
| B. Ravidas  | 2. Barber  |
| C. Namadeva | 3. Tailor  |
| D. Sena     | 4. Cobbler |

	a	b	c	d
a.	1	4	3	2
b.	3	2	1	4
c.	3	2	4	1
d.	1	4	2	3

e. Answer not known

பொருத்துக

A. கபீர்	1. நெசவாளி
B. ரவிதாஸ்	2. சிகையலங்காரிப்பவர்
C. நாமதேவர்	3. தையல் தொழிலாளி
D. சேனா	4. காலணி செய்பவர்

	A	B	C	D
a.	1	4	3	2
b.	3	2	1	4
c.	3	2	4	1
d.	1	4	2	3

e. விடை தெரியவில்லை

49. Match the following

Dynasty	Period of Rule
A. The Slave Dynasty	1. AD 1206 - 1290
B. The Khiljis	2. AD 1290 - 1320
C. The Tughlaks	3. AD 1320 - 1414
D. The Syeds	4. AD 1414 - 1451

	A	B	C	D
a.	1	2	3	4
b.	2	3	4	1
c.	1	4	3	2
d.	1	3	2	4

e. Answer not known

பொருத்துக

மரபு

A. அடிமை மரபு	1. கி.பி.1206 முதல் 1290 வரை
B. கில்ஜி மரபு	2. கி.பி.1290 முதல் 1320 வரை
C. துக்ளக் மரபு	3. கி.பி.1320 முதல் 1414 வரை
D. சையத் மரபு	4. கி.பி.1414 முதல் 1451 வரை

	A	B	C	D
a.	1	2	3	4
b.	2	3	4	1
c.	1	4	3	2
d.	1	3	2	4

e. விடை தெரியவில்லை

50. A ground is in the shape of parallelogram. The height of the parallelogram is 14 metres and the corresponding base is 8 metres longer than its height. Find the cost of levelling the ground at the rate of 15 per sq.m.

- a. Rs. 4800                      b. Rs. 4620                      c. Rs. 4350  
d. Rs. 4600                      e. Answer not known

ஓர் இணைகர வடிவிலான மைதானத்தின் உயரம் 14 மீ மேலும் அதன் அடிப்பக்கம், உயரத்தை விட 8 மீ கூடுதல் எனில், மைதானத்தைச் சமப்படுத்த ஒரு ச.மீ க்கு ₹ 15 வீதம் எவ்வளவு செலவு ஆகும்.

- a. Rs. 4800                      b. Rs. 4620                      c. Rs. 4350  
d. Rs. 4600                      e. விடை தெரியவில்லை

51. Match the following:

Archaeological Material/Pottery  
A. PGW - Painted Grey Ware  
B. Black and Red Ware  
C. NBPW - Northern Black  
D. RPW - Red Polished Ware

Historical Phase

1. Gupta age  
2. Harappan age  
3. Early historic age Polished Ware  
4. Mauryan age

- |    | A | B | C | D |
|----|---|---|---|---|
| a. | 2 | 3 | 4 | 1 |
| b. | 1 | 4 | 3 | 2 |
| c. | 2 | 4 | 3 | 1 |
| d. | 1 | 3 | 4 | 2 |

e. Answer not known

பொருத்துக

அகழ்வாய்வு பொருட்கள் பாண்டங்கள்

A. வண்ணம் பூசப்பட்ட பழுப்பு பொருட்கள்

B. கருப்பு சிவப்பு பொருட்கள்

C. வடக்கத்திய கருப்பு மினுமினுப்பு பொருட்கள்

D. சிவப்பு மினுமினுப்பு பொருட்கள்

- |    | A | B | C | D |
|----|---|---|---|---|
| a. | 2 | 3 | 4 | 1 |
| b. | 1 | 4 | 3 | 2 |
| c. | 2 | 4 | 3 | 1 |
| d. | 1 | 3 | 4 | 2 |

e. விடை தெரியவில்லை

வரலாற்று காலம்

1. குப்தர் காலம்

2. ஹரப்பா காலம்

3. சரித்திரகால துவக்கம்

4. மௌரியர் காலம்

52. Choose the correct statement

1. Malabar Naval exercise takes place among the QUAD Members

2. QUAD members are USA, India, Australia and Israel

- a. 1 only                      b. 2 only                      c. Both 1, 2 are correct  
d. Both 1, 2 are incorrect                      e. Answer not known

பின்வருவனவற்றில் சரியான அறிக்கைகளைத் தேர்ந்தெடுக்கவும் :

1. மலபார் கடற்படை பயிற்சி குவாட் உறுப்பினர்களிடையே நடைபெறுகிறது
2. QUAD உறுப்பினர் நாடுகள் அமெரிக்கா, இந்தியா, ஆஸ்திரேலியா மற்றும் இஸ்ரேல்.
 

a. 1 மட்டும்	b. 2 மட்டும்	c. 1, 2 சரி
d. 1, 2 இரண்டும் தவறு	e. விடை தெரியவில்லை	

53. Match the following

List I Tamil Historians					Period of Sangam Literature
A. S.Vaiyapuri pillai					1. 320 BC to 300 AD
B. K.A.Nilakantha Sastri					2. 500 BC to 500 AD
C. V.R.Ramachandra Dikshitar					3. 300 AD to 500 AD
D. N.Subrahmaniam					4. 1 <sup>st</sup> AD to 300 AD
	A	B	C	D	
a.	3	4	2	1	
b.	1	3	2	4	
c.	4	3	1	2	
d.	3	1	2	4	

e. Answer not known

பொருத்துக

தமிழ் வரலாற்றறிஞர்கள்

- A. S. வையாபுரி பிள்ளை
- B. K. நீலகண்ட சாஸ்திரி
- C. V.R. ராமச்சந்திர தீட்சிதர்
- D. N. சுப்ரமணியம்

தமிழ் இலக்கிய காலம்

1. கி.மு. 320 முதல் கி.பி. 300 வரை
2. கி.மு. 500 முதல் கி.பி. 500 வரை
3. கி.பி. 300 முதல் கி.பி. 500 வரை
4. கி.பி. 1 முதல் கி.பி.300 வரை

	A	B	C	D
a.	3	4	2	1
b.	1	3	2	4
c.	4	3	1	2
d.	3	1	2	4

e. விடை தெரியவில்லை

54. Assertion (A): Construction of temples as tributes to dead kings was a special feature of the Chola period.

Reason(R): The famous Siva temple at Gangaikonda Cholapuram was built by Rajendra-I as attribute to his father.

- a. Both A and R are true and R is the correct explanation of A
- b. Both A and R are true and R is the not a correct explanation of A
- c. A is true but R is false
- d. A is false but R is true
- e. Answer not known

கூற்று (A): இறந்த மன்னர்களுக்கு அஞ்சலி செலுத்தும் வகையில் கோயில்களைக் கட்டுவது சோழர் காலத்தின் சிறப்பு அம்சமாக இருந்தது.

காரணம் (R): கங்கைகொண்ட சோழபுரத்தில் உள்ள புகழ்பெற்ற சிவன் கோயில் முதலாம் ராஜேந்திரன் என்பவரால் அவரது தந்தையின் நினைவாக கட்டப்பட்டது.

- A மற்றும் R இரண்டும் சரி மற்றும் R என்பது A இன் சரியான விளக்கம்.
- A மற்றும் R இரண்டும் சரி மற்றும் R என்பது A இன் சரியான விளக்கம் அல்ல.
- A சரி ஆனால் R என்பது தவறு
- A தவறு ஆனால் R சரி
- விடை தெரியவில்லை

55. Which among the following was not the cause of continuous war between Cholas and Chalukyas of Kalyana?

- The economic factor
- Rivalry between the chalukyas of Kalyana and Chalukyas of Vengi
- The geo-political factors
- Rivalry to capture South India's foreign trade with China and South eastern Asia
- Answer not known

சோழர்களுக்கும், கல்யாணி சாளுக்கியர்களுக்கும் இடையேயான தொடர்ச்சியான போருக்கு பின்வருவனவற்றில் எது காரணமல்ல?

- பொருளாதார காரணி
- கல்யாணி சாளுக்கியர்களுக்கும் வெங்கி சாளுக்கியர்களுக்கும் இடையேயான போட்டி
- புவி-அரசியல் காரணிகள்
- சீனா மற்றும் தென்கிழக்கு ஆசியாவுடனான தென்னிந்தியாவின் வெளிநாட்டு வர்த்தகத்தைக் கைப்பற்றுவதற்கான போட்டி
- விடை தெரியவில்லை

56. Match the List I with List II and select the correct using the codes given below:-

List I

A. Paramars

B. Chalukyas

C. Senas

D. Gahadavalas

List II

1. Gujarat

2. Modern Uttar Pradesh

3. Bengal

4. Malwa

- |    | A | B | C | D |
|----|---|---|---|---|
| a. | 4 | 2 | 1 | 3 |
| b. | 1 | 4 | 3 | 2 |
| c. | 3 | 1 | 2 | 4 |
| d. | 4 | 1 | 3 | 2 |

e. Answer not known

பொருத்துக

A. பரமர்கள்

B. சாளுக்கியர்கள்

C. சேனர்கள்

D. கஹதவாளர்கள்

1. குஜராத்

2. நவீன உத்திரபிரதேசம்

3. வங்காளம்

4. மாளவம்

A B C D

a. 4 2 1 3

b. 1 4 3 2

c. 3 1 2 4

d. 4 1 3 2

e. விடை தெரியவில்லை

57. What is the volume of a cube whose diagonal measures  $4\sqrt{3}$  cm?

a.  $8 \text{ cm}^3$  b.  $16 \text{ cm}^3$  c.  $27 \text{ cm}^3$  d.  $64 \text{ cm}^3$  e. Answer not known

$4\sqrt{3}$  செ.மீ ஐ மூலைவிட்டமாகக் கொண்ட கனசதுரத்தின் கனஅளவு என்ன?

a.  $8 \text{ cm}^3$  b.  $16 \text{ cm}^3$  c.  $27 \text{ cm}^3$  d.  $64 \text{ cm}^3$  e. விடை தெரியவில்லை

58. Match the following

A. Thagaisal Thamizhar Award

1. Dr.W.B.Vasantha Gandaswamy

B. A.P.J. Abdul Kalam Award

2. Dr. K. Veeramani

C. Kalpana Chawla Award for  
Courage and Adventure

3. Narendra Modi

D. Lokmanya Tilak National Award

4. Na. Muthamilselvi

A B C D

a. 2 1 4 3

b. 1 4 2 3

c. 2 4 1 3

d. 1 2 4 3

e. Answer not known

பின்வருவனவற்றைப் பொருத்தவும்

A. தகைசால் தமிழர் விருது

1. டாக்டர்.W. B. வசந்தா கந்தசாமி

B. ஏ. பி. ஜே. அப்துல் கலாம் விருது

2. டாக்டர். மு. வீரமணி

C. தைரியம் மற்றும் சாகசத்திற்கான  
கல்பனா சாவ்லா விருது

3. நரேந்திர மோடி

D. லோக்மண்யா திலக் தேசிய விருது

4. நா. முத்தமிழ்செல்வி

A B C D

a. 2 1 4 3

b. 1 4 2 3

c. 2 4 1 3

d. 1 2 4 3

e. விடை தெரியவில்லை

59. Choose the correct statement about Corporate Social Responsibility (CSR) is applicable to companies with
1. Net worth of Rs. 500 crore or more
  2. Turnover of Rs. 1000 crore or more
  3. Net profit of Rs. 5 crore or more
- a. 1, 2      b. 2, 3      c. 1, 3      d. 1, 2 3      e. Answer not known
- கார்ப்பரேட் சமூகப் பொறுப்பு (CSR) பற்றிய சரியான அறிக்கையைத் தேர்வுசெய்யும் நிறுவனங்களுக்கான
1. நிகர மதிப்பு ரூ. 500 கோடி அல்லது அதற்கு மேல்
  2. விற்பனை அளவு ரூ. 1000 கோடி அல்லது அதற்கு மேல்
  3. நிகர லாபம் ரூ. 5 கோடி அல்லது அதற்கு மேல்
- a. 1 மற்றும் 2      b. 2 மற்றும் 3      c. 1, மற்றும் 3  
d. 1, 2 மற்றும் 3      e. விடை தெரியவில்லை
60. The Chapter undaunted in the council is \_\_\_\_\_
- a. 63      b. 68      c. 73      d. 62      e. Answer not known
- அவை அஞ்சாமையின் அதிகார எண் \_\_\_\_\_
- a. 63      b. 68      c. 73      d. 62      e. விடை தெரியவில்லை
61. Chapter 75 is \_\_\_\_\_
- a. Greatness      b. The Fortification      c. The Land  
d. None of these      e. Answer not known
- அதிகார எண் 74 \_\_\_\_\_
- a. பெருமை      b. அரண்      c. நாடு  
d. ஏதுமில்லை      e. விடை தெரியவில்லை
62. Who, among the following Mughul emperors hung a chain with bells outside his palace to call him by the people for grant of justice?
- a. Akbar      b. Jahangir      c. Shah Jhan  
d. Aurangzeb      e. Answer not known
- கீழ்க்கண்ட முகலாயப் பேரரசர்களில் மக்கள் நீதி கோருவதற்கு ஏற்ற வகையில் தன் அரண்மனைக்கு வெளியே ஆராய்ச்சி மணி அமைத்தவர் யார்?
- a. அக்பர்      b. ஜஹாங்கீர்      c. ஷாஜகான்  
d. அவ்ரங்கசீப்      e. விடை தெரியவில்லை
63. The area known as Aryavarttha is
- a. The area between Suvat and Punjab      b. The Gangetic plain  
c. Sindhu Suvat plain      d. Baluchistan  
e. Answer not known
- ஆரிய வர்த்தம் என்று அழைக்கப்பட்ட பகுதி \_\_\_\_\_
- a. சுவாட், பஞ்சாபிற்கு இடைப்பட்ட பகுதி      b. கங்கைச் சமவெளி  
c. சிந்து, சுவாட் பள்ளத்தாக்கு      d. பலுசிஸ்தான்  
e. விடை தெரியவில்லை

64. Match the following

- A. Tukaram  
B. Guru Ramdas  
C. Guru Arjun Dev  
D. Guru Teg Bahadur

1. Executed by Aurangzeb  
2. Compilation of Adi Granth  
3. Founded city of Amristar  
4. Devotional songs

	A	B	C	D
a.	1	2	3	4
b.	2	4	1	3
c.	3	1	4	2
d.	4	3	2	1

e. Answer not known

பொருத்துக

- A. துகாராம்  
B. குரு ராம்தாஸ்  
C. குரு அர்ஜுன் தேவ்  
D. குரு தேஜ் பகதூர்

1. ஓளரங்கசீப்பால் கொல்லப்பட்டவர்  
2. ஆதி கிரந்தம் என்ற நூலைத் தொகுத்தவர்  
3. அமிர்தசரஸ் நகரை நிறுவியவர்  
4. பக்தி தோத்திர பாடல்களுக்கு புகழ்

பெற்றவர்

	A	B	C	D
a.	1	2	3	4
b.	2	4	1	3
c.	3	1	4	2
d.	4	3	2	1

e. விடை தெரியவில்லை

65. The person who made the invasion of Madurai

- a. Kumara Kambanna      b. Ganga Devi      c. Krishna Deva Raya  
d. None of these      e. Answer not known

மதுராவிஜயம் நூலில் குறிப்பிடப்பட்ட மதுரைப் படையெடுப்பை நிகழ்த்தியவர்

- a. குமார கம்பணர்      b. கங்காதேவி      c. கிருஷ்ண தேவராயர்  
d. இவற்றில் எதுவுமில்லை      e. விடை தெரியவில்லை

66. Identify the wrong statement

- a. Vijayalaya Chola established his capital at Tanjore  
b. Rajendra I shifted the capital to Gangai KondaChola puram  
c. Kulottunga Chola shifted the capital to Kalyani  
d. Rajaraja III shifted the capital to Darasuram  
e. Answer not known

தவறான வாக்கியத்தைக் கண்டுபிடி

- a. விஜயாலய சோழன் தஞ்சாவூரில் தலைநகரை உருவாக்கினான்  
b. முதலாம் இராசேந்திர சோழன் கங்கை கொண்ட சோழபுரத்திற்கு தலைநகரை மாற்றினான்  
c. முதலாம் குலோத்துங்கன் கல்யாணிக்குத் தலைநகரை மாற்றினான்  
d. மூன்றாம் ராஜராசன் தாராசுரத்திற்கு தலைநகரை மாற்றினான்



e. விடை தெரியவில்லை

67. If the curved surface area of a right circular cylinder is 704 sq.cm and height is 8 cm, find the volume of the cylinder.

- a. 5048 cm<sup>3</sup>                      b. 4928 cm<sup>3</sup>                      c. 5442 cm<sup>3</sup>  
d. 4864 cm<sup>3</sup>                      e. Answer not known

ஒரு நேர்வட்ட உருளையின் வளைபரப்பு 704 ச.செ.மீ மற்றும் அதன் உயரம் 8 செ.மீ எனில் அவ்வுருளையின் கன அளவை காண்க.

- a. 5048 cm<sup>3</sup>                      b. 4928 cm<sup>3</sup>                      c. 5442 cm<sup>3</sup>  
d. 4864 cm<sup>3</sup>                      e. விடை தெரியவில்லை

68. The stone inscriptions helping us to know about the old tamil brahmi letter

- a. Hathigumba inscriptions                      b. Chinnamanur inscriptions  
c. Kalugumalai inscriptions                      d. Thirukoviloor inscriptions  
e. Answer not known

பழங்காலத் தமிழ் பிராமி எழுத்துக்களைப் பற்றி அறிந்து கொள்ள உதவுவது

- a. அதிகும்பா கல்வெட்டு                      b. சின்னமனூர் கல்வெட்டு  
c. கழுகு மலைக்கல்வெட்டு                      d. திருக்கோவிலூர் கல்வெட்டு  
e. விடை தெரியவில்லை

69. Match the following  
List I (Chola Rulers)

- A. Rajaraja I  
B. Rajendra I  
C. Vira Rajendra I  
D. Kulothunga I

List II (Titles)

1. Sungam thavirtha Chola  
2. Vallabha Vallabha  
3. Kadarangonda  
4. Sivapadhasekara

- |    | A | B | C | D |
|----|---|---|---|---|
| a. | 1 | 2 | 4 | 3 |
| b. | 3 | 1 | 4 | 2 |
| c. | 4 | 3 | 1 | 2 |
| d. | 4 | 3 | 2 | 1 |

e. Answer not known

பொருத்துக

பட்டியல் I

சோழ மன்னர்கள்

- A. முதலாம் இராஜராஜன்  
B. முதலாம் இராஜேந்திரன்  
C. முதலாம் வீரராஜேந்திரன்  
D. முதலாம் குலோத்துங்கன்

பட்டியல் II

பட்டப்பெயர்கள்

1. சுங்கம் தவிர்த்த சோழன்  
2. வல்லபவல்லபன்  
3. கடாரங்கொண்டான்  
4. சிவபாதசேகரன்

	A	B	C	D
a.	1	2	4	3
b.	3	1	4	2
c.	4	3	1	2
d.	4	3	2	1

e. விடை தெரியவில்லை

70. Match the following

List I (Age)

- A. Kushanas  
B. Guptas  
C. Chalukyas  
D. Cholas

List II (Art Style)

1. Dravidan Style  
2. Vesara style  
3. Nagara style  
4. Gandhara Art style

	A	B	C	D
a.	4	3	2	1
b.	4	2	1	3
c.	3	2	1	4
d.	3	1	2	4

e. Answer not known

பொருத்துக

காலம்

- A. குஷாணர்கள்  
B. குப்தர்கள்  
C. சாளுக்கியர்கள்  
D. சோழர்கள்

கலைபாணி

1. திராவிட பாணி  
2. வேசரா பாணி  
3. நகரா பாணி  
4. காந்தாரக் கலை பாணி

	A	B	C	D
a.	4	3	2	1
b.	4	2	1	3
c.	3	2	1	4
d.	3	1	2	4

e. விடை தெரியவில்லை

71. Which among the given statements is correct?

- a. Paleolithic people - agriculturist  
b. Mesolithic people - food producers  
c. Neolithic people - food gatherers  
d. Chalcolithic people - urban classified

e. Answer not known

சரியான வாக்கியத்தைக் கண்டறிக.

- a. பழைய கற்கால மக்கள் - விவசாயம் செய்தனர்  
b. நடுகற்கால மக்கள் - உணவு தயாரிப்பவர்கள்  
c. புதிய கற்கால மக்கள் - உணவு சேகரிப்பவர்கள்  
d. செம்பு கால மக்கள் - நகர்ப்புற வகைப்பாட்டாளர்கள்  
e. விடை தெரியவில்லை

72. Match the following :

Upaveda

A. Gandharva Veda

B. Dhanur Veda

C. Shilpa Veda

D. Ayur Veda

About

1. Architecture

2. Medicine

3. Archery

4. Art of Music

	A	B	C	D
a.	1	2	3	4
b.	2	1	3	4
c.	4	3	1	2
d.	4	3	2	1

e. Answer not known

பொருத்துக.

உபவேதம்

A. காந்தர்வ வேதம்

B. தனுர் வேதம்

C. சில்ப வேதம்

D. ஆயுர் வேதம்

எதைப் பற்றியது?

1. கட்டிடக் கலை

2. மருத்துவம்

3. வில்வித்தை

4. இசைக் கலை

	A	B	C	D
a.	1	2	3	4
b.	2	1	3	4
c.	4	3	1	2
d.	4	3	2	1

e. விடை தெரியவில்லை

73. Who is the first woman to reach the rank of Major General in the Military Nursing service

a. Ignatius Delos Flora

b. Fathima Beevi

c. Babitha Punya

d. Shivangi Singh

e. Answer not known

இராணுவ செவிலியர் சேவையில் மேஜர் ஜெனரல் பதவியை அடைந்த முதல் பெண் யார்?

a. இக்னேஷியஸ் டெலோஸ் ஃப்ளோரா

b. பாத்திமா பீவி

c. பபிதா புண்யா

d. ஷிவாங்கி சிங்

e. விடை தெரியவில்லை

74. How many pairs are correctly matched?

1. Miss Diva Universe 2023 – Shweta Sharda

2. Miss Diva Supranational 2023 – Sonal Kukreja

3. Miss Earth India 2023 – Priyan Sain

4. Prime Minister of Thailand – Srettha Thavisin

a. one pair

b. Two pairs

c. Three pairs

d. Four pairs

e. Answer not known

பின்வருவனவற்றில் எத்தனை இணைகள் சரியாகப் பொருந்துகின்றன?

1. மிஸ் திவா யுனிவர்ஸ் 2023 – ஸ்வேதா ஷர்தா
  2. மிஸ் திவா சுப்ராநேஷனல் 2023 – சோனல் குக்ரேஜா
  3. மிஸ் எர்த் இந்தியா 2023 – பிரியான் சைன்
  4. தாய்லாந்து பிரதமர் – ஸ்ரேத்தா தவிசின்
- a. ஒரு இணை                      b. இரண்டு இணைகள்                      c. மூன்று இணைகள்  
d. நான்கு இணைகள்                      e. விடை தெரியவில்லை

75. Alberuni's Kitab-ul-Hind is:

1. A sympathetic study of Indian Civilization
  2. Mainly a political history of India
  3. Critical of Mahmeud Ghaznavi's plundering raids of India
  4. Mainly a study of India's cultural, social and intellectual history
- Which of the above ststement(s) is / are correct?

- a. 1, 3 and 4                      b. 1 and 4                      c. 2 and 3  
d. 4 alone                      e. Answer not known

அல்பெருனியின் கிதாப்-உல்-ஹிந்த் என்பது

1. இந்திய நாகரிகம் குறித்த ஆய்வு
2. இந்திய அரசியல் வரலாறு குறித்த ஆய்வு
3. மஹ்மூத் கஸ்னவி இந்தியாவில் கொள்ளையடித்ததை விளக்குகிறார்
4. இந்தியாவின் கலாச்சார, சமூக மற்றும் அறிவுசார் வரலாறு பற்றிய ஆய்வு சரியான கூற்றுகளை கண்டறிக

- a. 1, 3 மற்றும் 4                      b. 1 மற்றும் 4                      c. 2 மற்றும் 3  
d. 4 மட்டும்                      e. விடை தெரியவில்லை

76. Find the sum of the following

- a. 1240                      b. 1420                      c. 24525                      d. 25425                      e. Answer not known

பின்வரும் தொடரின் கூடுதலைக் காண்க.  $1 + 4 + 9 + 16 + \dots + 225$

- a. 1240                      b. 1420                      c. 24525                      d. 25425                      e. விடை தெரியவில்லை

77. The Muslim conqueror who continued to issue coins with the figure of a Hindu Goddess was

- a. Qutubuddin Aibak                      b. Babur                      c. Mohammed Ghori  
d. Mahmud Ghaznavi                      e. Answer not known

இந்து கடவுள்களின் உருவம் கொண்ட நாணயங்களை தொடர்ந்து வெளியிட்ட முஸ்லீம் மன்னர் யார் ?

- a. குதுபுதீன் ஐபக்                      b. பாபர்                      c. முகமது கோரி  
d. மஹ்மூத் கஸ்னவி                      e. விடை தெரியவில்லை

78. Who among the following Sultans of Delhi favoured rotation of corps?

- a. Balban                      b. Alauddin Khalji  
c. Muhammad Bib Tughlug                      d. Firuz Shah Tughlug  
e. Answer not known

பயிர் சுழற்சி முறையை ஆதரித்த டெல்லி மன்னர் யார்?

- a. பால்பன்                      b. அலாவுதீன் கல்ஜி                      c. முஹம்மது பிப் துக்ளக்  
d. ஃபிருஸ் ஷா துக்ளக்                      e. விடைதெரியவில்லை

79. Choose the correct pair

1. FIDE chess world cup 2023 winner – Magnus carlsen  
2. Asian champions Trophy Hockey 2023 – Malaysia (Winner)  
3. India's number one Chess Player – R. Praggnanandhaa  
4. World Athletics championship 2023 – Budapest, Hungary  
a. 1, 2                      b. 2, 3                      c. 1, 4                      d. 2, 4                      e. Answer not known

பின்வருவனவற்றில் சரியான இணையைத் தேர்ந்தெடுக்கவும் :

1. FIDE செஸ் உலகக் கோப்பை 2023 வெற்றியாளர் - மேக்னஸ் கார்ல்சன்  
2. ஆசிய சாம்பியன்ஸ் டிராபி ஹாக்கி 2023 - மலேசியா (வெற்றியாளர்)  
3. இந்தியாவின் நம்பர் ஒன் செஸ் வீரர் - ஆர். பிரக்ஞானந்தா  
4. உலக தடகள சாம்பியன்ஷிப் 2023 - புடாபெஸ்ட், ஹங்கேரி  
a. 1 மற்றும் 2                      b. 2 மற்றும் 3                      c. 1 மற்றும் 4  
d. 2 மற்றும் 4                      e. விடை தெரியவில்லை

80. Which one of the following is not mentioned by Valluvar to make a land?

- a. River water                      b. Fountain water                      c. Rain  
d. Forest                      e. Answer not known

பின்வருவனவற்றுள் நாட்டின் உறுப்புகளாக வள்ளுவர் குறிப்பிடாதது எது?

- a. ஆற்றுநீர்                      b. ஊற்றுநீர்                      c. மழை  
d. காடு                      e. விடை தெரியவில்லை

81. According to learned what four makes a fortress?

- a. Height, breath, length, strength  
b. Height, breath, strength, inaccessibility  
c. Height, breath, strength, length  
d. Height, breath, length, water  
e. Answer not known

நூலோர் அரணுக்குத் தேவையான நான்கு என எதனைக் கூறுவர்?

- a. உயர்வு, அகலம், நீளம், திடம்                      b. உயர்வு, அகலம், திடம், அருமை  
c. உயர்வு, அகலம், திடம், நீளம்                      d. உயர்வு, அகலம், நீளம், நீர்  
e. விடை தெரியவில்லை

82. Choose the correct statements

1. The Later Vedic Period is 1000 – 600 BC  
2. The Allahabad Pillar Inscription consists of 33 lines in Sanskrit composed by Samudra Gupta  
a. 1 only                      b. 2 only                      c. Both  
d. None                      e. Answer not known

சரியான கூற்றைத் தேர்வ

1. பின் வேதகால மக்களின் காலம் 1000 – 600 B.C
  2. சமஸ்கிருத மொழியில் 33 வரிகளைக் கொண்ட அலகாபாத் தூண் கல்வெட்டுக்களை இயற்றியது சமுத்திர குப்தர்
- a. 1 மட்டும்                      b. 2 மட்டும்                      c. இரண்டும்  
d. இரண்டுமில்லை              e. விடை தெரியவில்லை

83. Choose the correct statements

1. Iltutmish was the first Turkish ruler to introduce a purely Arabic Coinage
  2. Muhammad Gawan was the Minister of Muhammad Shah II
- a. 1 only                      b. 2 only                      c. Both  
d. None                      e. Answer not known

சரியான கூற்றுகளை தேர்வ

1. தூய அரேபிய நாணய முறையை அறிமுகம் செய்த டெல்லி சுல்தான் இல்துத்மிஷ் ஆவார்
  2. முகமது கவான் அரசர் இரண்டாம் முகமது ஷாவிடம் அமைச்சராக இருந்தார்
- a. 1 மட்டும்                      b. 2 மட்டும்                      c. இரண்டும்  
d. இரண்டுமல்ல                      e. விடை தெரியவில்லை

84. Match the following

- |                  |                       |
|------------------|-----------------------|
| A. Qutab Minar   | 1. Mohammed Adil Shah |
| B. Gol Gumbaz    | 2. Iltutmish          |
| C. Bulan Darwaza | 3. Aurangzeb          |
| D. Moti Masjid   | 4. Jahangir           |
|                  | 5. Akbar              |

- |    | A | B | C | D |
|----|---|---|---|---|
| a. | 2 | 4 | 5 | 1 |
| b. | 2 | 1 | 5 | 3 |
| c. | 4 | 3 | 2 | 5 |
| d. | 5 | 1 | 3 | 4 |

e. Answer not known

பொருத்துக

- |                  |                      |
|------------------|----------------------|
| A. குதுப்மினார்  | 1. முகம்மது அடில் ஷா |
| B. கோல் கும்பாஸ் | 2. இல்துத்மிஷ்       |
| C. புலந்தர்வாசா  | 3. அவுரங்கசீப்       |
| D. மோதி மஸ்ஜித்  | 4. ஜஹாங்கீர்         |
|                  | 5. அக்பர்            |

- |    | A | B | C | D |
|----|---|---|---|---|
| a. | 2 | 4 | 5 | 1 |
| b. | 2 | 1 | 5 | 3 |
| c. | 4 | 3 | 2 | 5 |
| d. | 5 | 1 | 3 | 4 |

- e. விடை தெரியவில்லை
85. Find the sum  $3 + 1 + \frac{1}{3} + \dots\infty$
- a.  $\frac{3}{2}$       b.  $\frac{4}{3}$       c.  $\frac{9}{2}$       d.  $2\frac{1}{2}$       e. Answer not known
- $3 + 1 + \frac{1}{3} + \dots\infty$  என்ற தொடரின் கூடுதல் காண்க.
- a.  $\frac{3}{2}$       b.  $\frac{4}{3}$       c.  $\frac{9}{2}$       d.  $2\frac{1}{2}$       e. விடை தெரியவில்லை
86. The Bakti movement in south India started during
- a. From BC Third Century to AD Third Century  
b. From BC Third Century to AD Sixth Century  
c. From AD Seventh Century to AD Twelfth Century  
d. From AD Ninth Century to AD fourteenth Century  
e. Answer not known
- தென்னிந்தியாவில் பக்தி இயக்கம் தோன்றிய காலகட்டம் \_\_\_\_\_
- a. கி.மு.3ஆம் நூற்றாண்டு முதல் கி.பி.3ஆம் நூற்றாண்டு வரை  
b. கி.பி.3ஆம் நூற்றாண்டு முதல் கி.பி.6ஆம் நூற்றாண்டு வரை  
c. கி.பி.7ஆம் நூற்றாண்டு முதல் கி.பி.12ஆம் நூற்றாண்டு வரை  
d. கி.பி.9ஆம் நூற்றாண்டு முதல் கி.பி.14ஆம் நூற்றாண்டு வரை  
e. விடை தெரியவில்லை
87. Which Achaeminian ruler enlisted Indian soldiers to fight against Alexander?
- a. Darius I      b. Cambyses      c. Xerxes  
d. Darius III      e. Answer not known
- அலெக்ஸாண்டருக்கு எதிராகப் போரிட இந்திய வீரர்களைத் திரட்டிய அக்காமேனிய அரசர் யார்?
- a. டேரியஸ் I      b. கேம்பைசிஸ்      c. செர்செக்சஸ்  
d. டேரியஸ் III      e. விடை தெரியவில்லை
88. Which department was created by Firoz Tughlaq to help orphans and widows?
- a. Diwan-i-Khairat      b. Diwan-i-Kohi      c. Diwan-i-Rasalat  
d. Diwan-i-Ariz      e. Answer not known
- அனாதைகளையும், விதவைகளையும் பராமரிக்க பிரோஸ் துக்ளக் எந்தத் துறையை உருவாக்கினார்?
- a. திவான்-ஐ-கைராட்      b. திவான்-ஐ-கோஹி      c. திவான்-ஐ-ரஸாலத்  
d. திவான்-ஐ-அரிஸ்      e. விடை தெரியவில்லை
89. Which one of the following is incorrectly matched?
- a. Ibn Battuta      - Morocco  
b. Nicolo de Conti      - Venice  
c. Abdul Razzak      - Persia

d. Domingo Paes - France

e. Answer not known

கீழ்க்கண்டவற்றுள் எது சரியாக பொருந்தவில்லை?

a. இபன் பதூதா - மொரோக்கா

b. நிக்கோலோ டி கோண்டி - வெனிஸ்

c. அப்துல் ரசாக் - பாரசீகம்

d. டோமிங்கோ பயஸ் - பிரான்சு

e. விடை தெரியவில்லை

90. Who was known as Amitrochates?

a. Bindusara b. Iltutmish c. Samudra Gupta

d. Vikramaditya e. Answer not known

அமித்ரோகடஸ் என அறியப்பட்டவர் யார்?

a. பிந்துசாரர் b. இல்துஸ்மிஷ் c. சமுத்திரகுப்தர்

d. விக்ரமதித்தர் e. விடை தெரியவில்லை

91. Who among them was/were the Greek ambassador sent to court of pataliputra?

1. Megasthenese 2. Herodotus 3. Deimachus 4. Dionysios

a. 1 only b. 1, 2, 3 c. 1, 3 and 4

d. 2 and 4 e. Answer not known

கீழே குறிப்பிட்டவர்களில் கிரேக்க நாட்டின் தூதுவராக பாடலிபுத்திரத்திற்கு வந்தவர் / வந்தவர்கள் யார்?

1. மெகஸ்தனீஸ் 2. ஹெரடோடஸ் 3. டெய்மேகோஸ் 4. டயோனைசியோஸ்

a. 1 மட்டும் b. 1, 2, 3 c. 1, 3 மற்றும் 4

d. 2 மற்றும் 4 e. விடை தெரியவில்லை

92. What type of Sampradaya of Vaishnavism was propagated by Ramanuja?

a. Shri Sampradaya b. Brahma Sampradaya

c. Rudra Sampradaya d. Sanakadi Sampradaya

e. Answer not known

ராமானுஜர் வைஷ்ணவ சமயத்தின் எந்த வகை சம்பிரதாயங்களை போதித்தார்?

a. ஸ்ரீசம்பிரதாயம் b. பிரம்ம சம்பிரதாயம்

c. ருத்ரசம்பிரதாயம் d. சனாகதி சம்பிரதாயம்

e. விடை தெரியவில்லை

93. Choose the correct statement

1. The spot where the Chandrayaan - 3 Vikram lander made a soft landing would be named "Shiv shakti Point"

2. The site where the Chandrayaan - 2 Lander Crash landed on the Moon Surface in 2019 would be known as "Tiranga"

3. August 23, the day the Chandrayaan - 3 lander touched down on the Lunar surface would be celebrated as "National Space Day"



a. 1, 2      b. 2, 3      c. 1, 3      d. 1, 2, 3      e. Answer not known

பின்வருவனவற்றில் சரியான அறிக்கைகளைத் தேர்ந்தெடுக்கவும் :

1. சந்திரயான் - 3 விக்ரம் லேண்டர் தரையிறங்கிய இடத்திற்கு “சிவ சக்தி புள்ளி” என்று பெயரிடப்படும்.
  2. சந்திரயான் - 2 லேண்டர் 2019 இல் நிலவின் மேற்பரப்பில் மோதிய இடம் “திரங்கா” என்று அழைக்கப்படும்.
  3. சந்திரயான் 3 விண்கலம் நிலவின் மேற்பரப்பில் தரையிறங்கிய ஆகஸ்ட் 23 ஆம் தேதி, தேசிய விண்வெளி தினமாக கொண்டாடப்படுகிறது.
- a. 1 மற்றும் 2      b. 2 மற்றும் 3      c. 1 மற்றும் 3  
d. 1, 2 மற்றும் 3      e. விடை தெரியவில்லை

94. Which mission was the first dedicated Indian space mission for observations of the sun?

- a. Aditya - L1      b. Aditya - L2      c. Aditya - L3  
d. Aditya - L4      e. Answer not known

சூரியனைக் கண்காணிப்பதற்காக அர்ப்பணிக்கப்பட்ட முதல் இந்திய விண்வெளித் திட்டம் எது?

- a. ஆதித்யா - எல்1      b. ஆதித்யா - எல்2      c. ஆதித்யா - எல்3  
d. ஆதித்யா - எல்4      e. விடை தெரியவில்லை

95. Which one of the following combinations indicates the correct chronological order of the medieval historical figures?

- a. Gulbadan Begum, Chand Bibi, Jahan Ara, Raziya Sultan  
b. Jahan Ara, Chand Bibi, Gulbadan Begum, Raziya Sultan  
c. Raziya Sultan, Gulbadan Begum, Chand Bibi, Jahan Ara  
d. Chand Bibi, Raziya Sultan, Gulbadan Begum, Jahan Ara  
e. Answer not known

இடைக்கால வரலாற்று நபர்களின் சரியான காலவரிசையை கண்டறியவும்?

- a. குல்பதன் பேகம், சந்த் பீபி, ஜஹான் ஆரா, ரசியா சுல்தான்  
b. ஜஹான் ஆரா, சந்த் பீபி, குல்பதன் பேகம், ரசியா சுல்தான்  
c. ரசியா சுல்தான், குல்பதன் பேகம், சந்த் பீபி, ஜஹான் ஆரா  
d. சந்த் பீபி, ரசியா சுல்தான், குல்பதன் பேகம், ஜஹான் ஆரா  
e. விடைதெரியவில்லை

96. Assertion (A): According to the foreign traveller pates the Devdasis, held a highly respectable position in the Vijayanagar society.

Reason(R): The Devadasi system of offering dancing girls to the temples in south india came into existence for the first time under the Vijayanagar rulers.

- a. Both A and R are true and R is the correct explanation of A  
b. Both A and R are true and R is the not a correct explanation of A  
c. A is true but R is false  
d. A is false but R is true

e. Answer not known

கூற்று (A): வெளிநாட்டுப் பயணி பேஸின் கூற்றுப்படி, விஜயநகர சமுதாயத்தில் தேவதாசிகள் மிகவும் மரியாதைக்குரிய பதவியில் இருந்தனர்.

காரணம் (R): தென்னிந்தியாவில் உள்ள கோவில்களுக்கு நடனமாடும் பெண்களை வழங்கும் தேவதாசி முறை விஜயநகர ஆட்சியாளர்களின் கீழ் முதல் முறையாக நடைமுறைக்கு வந்தது.

- a. A மற்றும் R இரண்டும் சரி மற்றும் R என்பது A இன் சரியான விளக்கம்.  
b. A மற்றும் R இரண்டும் சரி மற்றும் R என்பது A இன் சரியான விளக்கம் அல்ல.  
c. A சரி ஆனால் R என்பது தவறு  
d. A தவறு ஆனால் R சரி  
e. விடைதெரியவில்லை

97. Kannan on seeing a boy said, that, he is the son of his father's only son, Who is Kannan to that boy?

- a. Son                                      b. Grand Son                                      c. Grand Father  
d. Father                                      e. Answer not known

ஒரு பையனைப் பார்த்து கண்ணன், இவன் என் தந்தையின் ஒரே மகனின் மகன் என்று கூறினார் எனில் கண்ணன் அந்தப் பையனுக்கு என்ன வேண்டும்?

- a. மகன்                                      b. பேரன்                                      c. பாட்டன்  
d. தந்தை                                      e. விடை தெரியவில்லை

98. Who among the following were the sons and grandson of Bahadur Shah-II and played a prominent role in rebellion of 1857, and were captured and shot?

- a. Bakht khan, Ahsahullah Khan and Mabbub Ali  
b. Mirza Moghut, Mirza khawaja Sultan and Mirza Abu Bakr  
c. Prince Azam, Azim-ush-Shan and Muazzam  
d. Asad Khan, Azim-ush-shan and Muazzam  
e. Answer not known

பின்வருவனவற்றில் 1857 கிளர்ச்சியில் முக்கிய பங்கு வகித்து கைது செய்யப்பட்டு சுட்டுக் கொல்லப்பட்ட இரண்டாம் பகதூர் ஷா இன் மகன்களும் பேரனும் யாவர்?

- a. பக்த் கான், அஹ்சாலுல்லா கான் மற்றும் மப்புப் அலி  
b. மிர்சா மொகுத், மிர்சா கவாஜா சுல்தான் மற்றும் மிர்சா அபு பக்கர்  
c. இளவரசர் ஆசாம், அசிம்-உஷ்-ஷான் மற்றும் மௌஸ்ஸாம்  
d. ஆசாத் கான், அசிம்-உஷ்-ஷான் மற்றும் மௌஸ்ஸாம்  
e. விடைதெரியவில்லை

99. Which one of the following statements correctly defines the term Hindu Pad-padshahi?

- a. Maratha Swarjaya                      b. Maratha Empire                      c. Maratha imperialism  
d. Hindu Swarajya                      e. Answer not known

பின்வரும் கூற்றுகளில் எது இந்து பட்-பாட்ஷாஹி என்ற சொல்லை சரியாக வரையறுக்கிறது

- a. மராட்டிய சுயராஜ்ஜியம்  
b. மராட்டியப் பேரரசு  
c. மராட்டிய ஏகாதிபத்தியம்  
d. இந்து சுயராஜ்ஜியம்  
e. விடைதெரியவில்லை

100. Match the following:

- A. World Elephant Day  
B. World Organ Donation Day  
C. World Senior Citizen Day  
D. National Sports Day
1. August 13  
2. August 29  
3. August 12  
4. August 21

- |    | A | B | C | D |
|----|---|---|---|---|
| a. | 1 | 4 | 3 | 2 |
| b. | 1 | 3 | 2 | 4 |
| c. | 3 | 1 | 4 | 2 |
| d. | 3 | 1 | 2 | 4 |

e. Answer not known

பொருத்துக

- A. உலக யானைகள் தினம்  
B. உலக உடல் உறுப்புகள் தான தினம்  
C. உலக முதியோர்கள் தினம்  
D. தேசிய விளையாட்டு தினம்
1. ஆகஸ்ட் 13  
2. ஆகஸ்ட் 29  
3. ஆகஸ்ட் 12  
4. ஆகஸ்ட் 21

- |    | A | B | C | D |
|----|---|---|---|---|
| a. | 1 | 4 | 3 | 2 |
| b. | 1 | 3 | 2 | 4 |
| c. | 3 | 1 | 4 | 2 |
| d. | 3 | 1 | 2 | 4 |

e. விடை தெரியவில்லை

101. enaimaatchith thaakiyak kaNNum vinaimaatchi  
illaarkaN illadhu araN

In this Kural what is the meaning of the term vinaimaatchi?

- a. Excellence of action  
b. Modes of Action  
c. way accumulating wealth  
d. purity in action  
e. Answer not known

பின்வரும் குறளில் வினைமாட்சி என்பதன் பொருள் யாது?

எனைமாட்சித் தாகியக் கண்ணும் வினைமாட்சி

இல்லார்கண் இல்லது அரண்

- a. செயல் திறன்  
b. செயல் வகை  
c. பொருள் செயல்வகை  
d. வினைத் தூய்மை  
e. விடை தெரியவில்லை

102. According to Thiruvalluvar, \_\_\_\_\_ are the best qualities of the army
1. valor
  2. honour
  3. behaving the best way
  4. Trust-worthiness
  5. war injury
- a. 1, 3, 5                      b. 1, 2, 4, 5                      c. 1, 2, 3, 4  
d. 1, 2, 3, 4, 5                      e. Answer not known
- படைக்குரிய சிறந்த பண்புகளாக திருவள்ளுவர் கூறுவது யாது?
1. மறம்
  2. மானம்
  3. சிறந்த வழியில் நடத்தல்
  4. தலைவரால் நம்பி தெளியப்படுதல்
  5. விழுப்புண் படுதல்
- a. 1, 3, 5                      b. 1, 2, 4, 5                      c. 1, 2, 3, 4  
d. 1, 2, 3, 4, 5                      e. விடை தெரியவில்லை
103. If "GIVE" is coded as 5137 and "BAT" is coded as 924. How is "GATE" coded?
- a. 2547      b. 5247      c. 5427      d. 5724      e. Answer not known
- "GIVE" என்பதன் குறியீடு 5137 மற்றும் "BAT" என்பதன் குறியீடு 924 எனில் "GATE" என்பது எப்படி குறிக்கப்படும்?
- a. 2547      b. 5247      c. 5427      d. 5724      e. விடை தெரியவில்லை
104. Who was the Poet responsible for the release of Cheran Kanaikkal Irumporai from the Chola Prison?
- a. Poigaiyar                      b. Avvaiyar                      c. Kakkai Padiniyar  
d. Nakkirar                      e. Answer not known
- சேரன் கணைக்கால் இரும்பொறையை சோழர் சிறையிலிருந்து மீட்க உதவியாய் இருந்த புலவர் யார்?
- a. பொய்கையார்                      b. ஓளவையார்                      c. காக்கை பாடினியார்  
d. நக்கீரர்                      e. விடை தெரியவில்லை
105. Which historical monument in Delhi is a synthesis of Persian and Indian styles of architectures?
- a. Qutub Minar                      b. Lodi's Tomb                      c. Humayun's Tomb  
d. Red Fort                      e. Answer not known
- டெல்லியில் உள்ள எந்த வரலாற்று நினைவுச்சின்னம் பாரசீக மற்றும் இந்திய கட்டிடக்கலைகளின் தொகுப்பு ஆகும்?
- a. குதுப்மினார்                      b. லோடியின் கல்லறை                      c. ஹுமாயூனின் கல்லறை  
d. செங்கோட்டை                      e. விடை தெரியவில்லை
106. Which of the following statements are associated with the Sangam Age in South Indian history?
1. The whole of South India was politically unified.
  2. Successive assemblies of the Tamil poets were held at Madurai.
  3. Several anthologies of Tamil poems were compiled.
  4. Buddhism rose to the position of pre-eminence in South India.

- a. 1 and 2                                      b. 2 and 3                                      c. 1, 3 and 4  
 d. 1, 2, 3 and 4                                e. Answer not known

கீழ்க்கண்ட கூற்றுகளில் எவை தென்னிந்திய வரலாற்றின் சங்ககாலத்துடன் தொடர்புடையவை?

1. தென்னிந்தியா முழுவதும் அரசியல் ரீதியாக ஒன்றுபட்டு இருந்தது
2. தமிழ்ப்புலவர்களின் தொடர்ச்சியான கூட்டங்கள் மதுரையில் நடைபெற்றன
3. தமிழ் கவிதைகளின் பல நூல்கள் தொகுக்கப்பட்டுள்ளன
4. தென்னிந்தியாவில் புத்த சமயம் முன்னிலைப் பெற்றது

- a. 1 மற்றும் 2                                      b. 2 மற்றும் 3                                      c. 1, 3 மற்றும் 4  
 d. 1, 2, 3 மற்றும் 4                              e. விடை தெரியவில்லை

107. Match the following

- |                   |                |
|-------------------|----------------|
| A. Khajuraho      | 1. Vijayanagar |
| B. Konark Temple  | 2. Pallavas    |
| C. Mahabalipuram  | 3. Pratiharas  |
| D. Hampi Monument | 4. Chandellas  |

	A	B	C	D
a.	4	3	2	1
b.	4	2	3	1
c.	3	4	2	1
d.	3	1	2	4

e. Answer not known

பொருத்துக

- |                    |                  |
|--------------------|------------------|
| A. கஜுராஹோ         | 1. விஜயநகரம்     |
| B. கோனார்க் கோயில் | 2. பல்லவர்கள்    |
| C. மகாபலிபுரம்     | 3. பிரதிகாரர்கள் |
| D. ஹம்பி சின்னம்   | 4. சந்தேலர்கள்   |

	A	B	C	D
a.	4	3	2	1
b.	4	2	3	1
c.	3	4	2	1
d.	3	1	2	4

e. விடை தெரியவில்லை

108. Which of the following statements about the society of the Sangam Age are not true?

1. Brahmins emerged as a regular Varna.
2. They abstained from eating meat and drinking wine.
3. There were regular varnas of Kshatriyas and Vaishyas.
4. The ruling class could come from only the Kshatriyas.

- a. 2, 3 and 4                                      b. 1 and 2                                      c. 2 and 3  
 d. All of them                                      e. Answer not known

பின்வருவனவற்றுள் எவை சங்ககால சமுதாயம் பற்றிய தவறான கூற்றுகள் ஆகும்?

1. அந்தணர்கள் வழக்கமான வர்ணமாக உருவானார்கள்
  2. அவர்கள் மாமிசம் உண்பதையும் திராட்சை பழரசத்தை குடிப்பதையும் தவிர்த்தனர்
  3. சத்திரியர்கள் மற்றும் வைசியர்கள் வழக்கமான வர்ணர்களாக இருந்தனர்
  4. ஆளும் பிரிவினர் சத்திரியர்களிலிருந்தே வந்தனர்
- a. 2, 3 மற்றும் 4                      b. 1 மற்றும் 2                      c. 2 மற்றும் 3  
d. அனைத்தும்                      e. விடை தெரியவில்லை

109. While Megasthenes was the first foreigner to make a mention of the Pandyas, a grammarian of the fourth century BC who was probably a southerner was the first Indian to make a mention of the Pandya, Chola and Chera Kingdoms. Who was he?

- a. Panini                      b. Patanjali                      c. Bavari  
d. Katyayana                      e. Answer not known

பாண்டியர்களைப் பற்றி குறிப்பிட்ட முதல் வெளிநாட்டவர் மெகஸ்தனிஸ் எனில், கிமு நான்காம் நூற்றாண்டின் இலக்கணப் படைப்பாளியான தென்னிந்தியாவைச் சேர்ந்த ஒருவர் பாண்டிய, சோழ மற்றும் சேர அரசுகளைப் பற்றி குறிப்பிட்டுள்ளார். அவர் யார்?

- a. பாணினி                      b. பதஞ்சலி                      c. பாவரி  
d. கத்யாயனர்                      e. விடை தெரியவில்லை

110. The circumference of a circular park is 352 m. Find the area of the park.

- a. 8956 m<sup>2</sup>                      b. 448 m<sup>2</sup>                      c. 1452 m<sup>2</sup>  
d. 9856 m<sup>2</sup>                      e. Answer not known

ஒரு வட்ட வடிவப் பூங்காவின் சுற்றளவு 352 மீ, எனில் பூங்காவின் பரப்பளவு காண்க.

- a. 8956 மீ<sup>2</sup>                      b. 448 மீ<sup>2</sup>                      c. 1452 மீ<sup>2</sup>  
d. 9856 மீ<sup>2</sup>                      e. விடை தெரியவில்லை

111. Consider the following statements

Assertion (A): Some Pallava grants prohibited the entry of the royal officers in the granted village.

Reason (R): The granted villages were directly administered by the king.

- a. Both (A) and (R) are true and (R) is the correct explanation of (A).
- b. Both (A) and (R) are true, but (R) is not the correct explanation of (A).
- c. A is true, but (R) is false.
- d. A is false, but (R) is true.
- e. Answer not known

பின்வரும் கூற்றுகளை ஆய்க

கூற்று (A): சில பல்லவ மானியங்கள் அங்கீகரிக்கப்பட்ட கிராமத்தில் அரசு அதிகாரிகள் நுழைவதை தடை செய்தது

காரணம் (R): அங்கீகரிக்கப்பட்ட கிராமங்கள் அரசரால் நேரடியாக நிர்வகிக்கப்பட்டன

- (A) மற்றும் (R) சரி, (R) ஆனது (A) யின் சரியான விளக்கம்
- (A) மற்றும் (R) சரி, (R) ஆனது (A)யின் சரியான விளக்கமல்ல
- (A) சரி, (R) தவறு
- (A) தவறு, (R) சரி
- விடை தெரியவில்லை

112. Which Chola king patronised Buddhism despite himself following Saivism?

- Rajaraja
- Rajendra I
- Rajendra II
- Rajadhiraja
- Answer not known

சைவ சமயத்தைப் பின்பற்றிய போதிலும் எந்த சோழ மன்னர் புத்த சமயத்தை ஆதரித்தார்?

- இராஜராஜன்
- முதலாம் இராஜேந்திரன்
- இரண்டாம் இராஜேந்திரன்
- இராஜாதிராஜன்
- விடை தெரியவில்லை

113. What was the association of peasants known as during and after the period of the Cholas?

- Nanadesi
- Cittirameli
- Alumganam
- Ainnurruvar
- Answer not known

சோழர்களின் காலத்திலும், அதற்குப் பின்னரும் விவசாயிகளின் சங்கம் எவ்வாறு குறிப்பிடப்பட்டது?

- நானாதேசி
- சித்திரமேழி
- ஆளும்கனம்
- ஐந்நூறுவர்
- விடை தெரியவில்லை

114. Which of the following statements are true with regard to the Sangam age?

- A group of learned scholars produced valuable Tamil Literature under the patronage of Pandyas, Cheras, Cholas.
  - People worshipped the local god Murugan, later known as Subramaniam.
  - The Peasants occupied a higher social status.
- I and II
  - II, III
  - I, III
  - All of these
  - Answer not known

பின்வருவனவற்றுள் சங்க காலத்தைப் பற்றிய சரியான கூற்றுகள் யாவை?

- பாண்டியர்கள், சேரர்கள், சோழர்களின் ஆதரவின் கீழ் மதிப்பு மிக்க தமிழ் இலக்கியங்கள் ஒரு கல்வி கற்ற அறிஞர்கள் கொண்ட குழுவால் உருவாக்கப்பட்டது
- மக்கள் சுப்பிரமணியம் என்று அழைக்கப்பட்ட முருகனை வழிபட்டனர்
- விவசாயிகள் தாழ்ந்த உயர்ந்த சமூக நிலைபாட்டில் இருந்தனர்

- a. I மற்றும் II                      b. II, III                      c. I, III  
d. இவை அனைத்தும்              e. விடை தெரியவில்லை
115. Choose the correct statements about Adichanallur.  
I. Adichanallur Museum is the first onsite archaeological Museum in the country  
II. It belongs to the Tamirabarani river civilization  
III. First time it was excavated in 1876  
a. I, II              b. I, III              c. II, III              d. I, II, III              e. Answer not known  
ஆதிச்சநல்லூர் பற்றிய சரியான கூற்றுகளைத் தேர்வு செய்க.  
I. ஆதிச்சநல்லூர் அருங்காட்சியகம் தொல்லியல் தளத்திலேயே நிறுவப்பட்டுள்ள நாட்டின் முதல் அருங்காட்சியகம்  
II. இது தாமிரபரணி ஆற்று நாகரிகத்தைச் சார்ந்தது.  
III. 1876-ஆம் ஆண்டு முதன் முதலில் அகழ்வாராய்ச்சி செய்யப்பட்டது.  
a. I, II              b. I, III              c. II, III              d. I, II, III              e. விடை தெரியவில்லை
116. Choose the correct statement about Elephant population Estimation 2023 report  
I. Mudumalai Tiger reserve had the highest density of Elephants in Tamil Nadu  
II. Tamil Nadu has the largest number of elephants in the country.  
III. Maharashtra has the lowest elephant population in India  
a. I, II              b. I, III              c. II, III              d. I, II, III              e. Answer not known  
யானைகள் கணக்கெடுப்பு அறிக்கை 2023 பற்றிய சரியான கூற்றுகளைத் தேர்வு செய்க.  
I. தமிழ்நாட்டிலேயே முதுமலை புலிகள் காப்பகத்தில் யானைகள் மிக அதிக அடர்த்தியில் காணப்படுகின்றன.  
II. நாட்டிலேயே தமிழ்நாட்டில் தான் மிக அதிக எண்ணிக்கையிலான யானைகள் உள்ளன.  
III. நாட்டிலேயே மகாராஷ்டிரா மாநிலத்தில் மிக குறைவான எண்ணிக்கையில் யானைகள் உள்ளன.  
a. I, II              b. I, III              c. II, III              d. I, II, III              e. விடை தெரியவில்லை
117. The parallel sides of a trapezium are 23 cm and 12 cm. The distance between the parallel sides is 9 cm. Find the area of the trapezium.  
a. 177.5 sq.cm                      b. 167.5 sq.cm                      c. 157.5 sq.cm  
d. 147.5 sq.cm                      e. Answer not known  
சரிவகத்தின் இணைப்பக்கங்கள் முறையே 23 செ.மீ, 12 செ.மீ. இணைப்பக்கங்களுக்கு இடையே உள்ள தூரம் 9 செ.மீ எனில், சரிவகத்தின் பரப்பளவு காண்க.  
a. 177.5 sq.cm                      b. 167.5 sq.cm                      c. 157.5 sq.cm  
d. 147.5 sq.cm                      e. விடை தெரியவில்லை



118. Choose the correct statements regarding the Freedom filling station.

- I. Located at Puzhal central prison  
II. Nation's first retail fuel outlet run by women convicts.
- a. I only                      b. II only                      c. Both  
d. None                      e. Answer not known

சுதந்திர எரிபொருள் நிரப்பு நிலையம் பற்றிய சரியான கூற்றுகளைத் தேர்வு செய்க.

- I. இது புழல் மத்திய சிறையில் அமைந்துள்ளது.  
II. இது நாட்டின் பெண் குற்றவாளிகளால் நடத்தப்படும் முதல் எரிபொருள் நிலையம் ஆகும்.

- a. I மட்டும்                      b. II மட்டும்                      c. இரண்டும்  
d. ஏதுமில்லை                      e. விடை தெரியவில்லை

119. uRuppamaindhu ooRanjaa velpadai vaendhan  
veRukkaiyuL ellaam thalai

In this Kural the term verukkai means

- a. Selvam                      b. inbam                      c. matchimai  
c. seruku                      e. Answer not known

உறுப்பமைந்து ஊறுஅஞ்சா வெல்படை வேந்தன்  
வெறுக்கையுள் எல்லாம் தலை

என்ற குறளில் வரும் “வெறுக்கை” என்ற சொல்லின் பொருள் என்ன?

- a. செல்வம்                      b. இன்பம்                      c. மாட்சிமை  
d. செருக்கு                      e. விடை தெரியவில்லை

120. ennaimun nillanmin thevvir palarennai  
munnhindru kalnhin Ravar

In this Kural the term ‘ஐ’ means

- a. Poet                      b. Citizens                      c. King  
c. Knight                      e. Answer not known

“என்னைமுன் நிலன்மின் தெவ்வீர் பலர்என்னை

முன்நின்று கல்நின் றவர் - என்ற குறளில் உள்ள “ஐ” என்ற சொல்லின் பொருள் என்ன?

- a. புலவன்                      b. குடிக்கள்                      c. தலைவன்  
d. போர்வீரன்                      e. விடை தெரியவில்லை

121. Which of the following is the oldest dynasty?

- a. Satavahanas                      b. Pallavas                      c. Chalukyas  
d. Cheras                      e. Answer not known

பின்வருவனவற்றுள் மிகப்பழமையான சாம்ராஜ்யம் எது?

- a. சாதவாகனர்கள்                      b. பல்லவர்கள்                      c. சாளுக்கியர்கள்  
d. சேரர்கள்                      e. விடை தெரியவில்லை

122. The Arabs were established traders on the west coast of India and had the support of the rulers of Kerala. Which one of the following rulers first conducted a naval campaign on important Arab trade centres to check their monopoly?

- a. Mahendravarman  
b. Rajaraja Chola  
c. Dantidurga  
d. Chalukya Vikramaditya VI  
e. Answer not known

அரேபியர்கள் இந்தியாவின் மேற்கு கடலோரங்களில் நிலைய வர்த்தகங்களை நிறுவி, கேரள ஆட்சியாளர்களின் ஆதரவைக் கொண்டிருந்தனர். பின்வரும் ஆட்சியாளர்களில் யார் முக்கியமான அரபு வணிக மையங்களில் கடற்படை நடவடிக்கையை மேற்கொண்டு அவர்களுடைய ஏகபோகத்திற்கு முடிவு கட்டினார்

- a. மகேந்திரவர்மன்  
b. இராஜராஜ சோழன்  
c. தந்திதூர்கர்  
d. சாளுக்கிய விக்கிரமாதியா VI  
e. விடை தெரியவில்லை

123. Choose the correct statements

1. The originators of the Dravidian style of architecture and sculpture in South India were Cholas  
2. The new element of 'Gopuram' was encouraged in temples of South India by Padyas

- a. 1 only  
b. 2 only  
c. Both  
d. None  
e. answer not known

சரியான கூற்றுகளை தேர்வ

1. தென்னிந்தியாவின் திராவிட கட்டிடக்கலை மற்றும் சிற்பத்தினை தோற்றுவித்தவர்கள் சோழர்கள்  
2. தென்னிந்திய கோயில்களில் ஒரு புதிய அம்சமாக கோபுரம் பாண்டியர்களால் புகுத்தப்பட்டது

- a. 1 மட்டும்  
b. 2 மட்டும்  
c. இரண்டும்  
d. இரண்டுமல்ல  
e. விடை தெரியவில்லை

124. Choose the correct statements

1. The oldest Indian Linguistic text is Ashtadhyayi  
2. Kanchipuram has revealed evidence of India's contact with Rome during the early centuries of the Christian era

- a. 1 only  
b. 2 only  
c. Both  
d. None  
e. Answer not known

சரியான கூற்றுகளை தேர்வ

1. இந்தியாவின் மிகப்பழமையான மொழியியல் உரை அஷ்டாத்தியாயி  
2. கிளிஸ்துவ சகாப்தத்தின் ஆரம்ப நூற்றாண்டுகளில் ரோமுடன் இந்தியாவின் தொடர்பு பற்றிய ஆதாரங்களை கொண்ட இடம் காஞ்சிபுரம்

- a. 1 மட்டும்  
b. 2 மட்டும்  
c. இரண்டும்  
d. இரண்டுமல்ல  
e. விடை தெரியவில்லை

125. Consider the following statements

Assertion (A): The discovery of trident or Vel in some of the urns of Megalithic Age suggests that the people of that age worshipped Lord Muruga

Reason (R): The hook or alagu, which is still used in religious ceremonies, has been found in Adhichanallur

- Both (A) and (R) are true and (R) is the correct explanation of (A).
- Both (A) and (R) are true, but (R) is not the correct explanation of (A).
- A is true, but (R) is false.
- A is false, but (R) is true.
- Answer not known

கூற்றுக்களை ஆய்க

கூற்று (A): பெருங்கல் காலத்தின் சில தாழிகளில் கண்டெடுக்கப்பட்ட வேல் மூலம் அக்கால மக்கள் முருகனை வழிபட்டனர் எனத்தொடிகிறது

காரணம் (R): தற்பொழுதும் சமய விழாக்களில் உபயோகிக்கும் அலகு, ஆதிச்சநல்லூரில் கண்டெடுக்கப்பட்டுள்ளது

- (A) மற்றும் (R) சரி, (R) ஆனது (A) யின் சரியான விளக்கம்
- (A) மற்றும் (R) சரி, (R) ஆனது (A)யின் சரியான விளக்கமல்ல
- (A) சரி, (R) தவறு
- (A) தவறு, (R) சரி
- விடை தெரியவில்லை

126. The radius of a circular flower garden is 21 m. A circular path of 14 m wide is laid around the garden. Find the area of the circular path.

- 2468 m<sup>2</sup>
- 2464 m<sup>2</sup>
- 2400 m<sup>2</sup>
- 2450 m<sup>2</sup>
- Answer not known

ஒரு வட்ட வடிவப் பூந்தோட்டத்தின் ஆரம் 21 மீ. அந்தத் தோட்டத்தைச் சுற்றி, 14 மீ அகலம் உள்ள வட்ட நடைபாதை உள்ளது எனில், அந்த வட்டப்பாதையின் பரப்பளவு காண்க.

- 2468 m<sup>2</sup>
- 2464 m<sup>2</sup>
- 2400 m<sup>2</sup>
- 2450 m<sup>2</sup>
- விடை தெரியவில்லை

127. Choose the correct statements

- The inscriptions found at Arnattar hills furnish information regarding the kings of Cholas
- Thirupparankundrum inscriptions mention the gift of cave beds to the Jain monks

- 1 only
- 2 only
- Both
- None
- Answer not known

சரியான கூற்றுக்களை தேர்வ

- ஆர்நாட்டார் மலைக்கல்வெட்டு சோழ மன்னர்களைப் பற்றி கூறுகிறது
- சமணத்துறவிகளுக்கு கற்படுக்கைகளை கொடையாக வழங்கப்பட்டதை பற்றி திருப்பரங்குன்றம் கல்வெட்டுகள் குறிப்பிடுகின்றன

- 1 மட்டும்
- 2 மட்டும்
- இரண்டும்
- இரண்டுமல்ல
- விடை தெரியவில்லை

128. Consider the following statements

Assertion (A): Mudhukudumi Peruvazhthi was given the title  
Palyagasalai

Reason (R): He performed many sacrifices to celebrate his victories

- Both (A) and (R) are true and (R) is the correct explanation of (A).
- Both (A) and (R) are true, but (R) is not the correct explanation of (A).
- A is true, but (R) is false.
- A is false, but (R) is true.
- Answer not known

பின்வரும் கூற்றுகளை ஆய்க

கூற்று (A): பல்யாகசாலை என்ற சிறப்புப்பெயர் முதுகுடுமிப் பெருவழுதிக்கு  
வழங்கப்பட்டது

காரணம் (R): அவர் தனது வெற்றிகளைப் போற்றும் வகையில் பல  
வேள்விகளைச் செய்தார்

- (A) மற்றும் (R) சரி, (R) ஆனது (A) யின் சரியான விளக்கம்
- (A) மற்றும் (R) சரி, (R) ஆனது (A)யின் சரியான விளக்கமல்ல
- (A) சரி, (R) தவறு
- (A) தவறு, (R) சரி
- விடை தெரியவில்லை

129. Choose the correct statements

- Perungoppendu, the wife of Pandiya king Bootha Pandiyan was a great dancer
- Perungoppendu committed self-immolation at the death of her husband

- I only
- II only
- Both I and II
- Neither I nor II
- Answer not known

சரியான கூற்றுகளைக் காண்க

- பாண்டிய அரசரான பூதப்பாண்டியனின் மனைவி பெருங்கோப்பெண்டு ஒரு சிறந்த நடனக்கலைஞர் ஆவார்
- பெருங்கோப்பெண்டு தனது கணவரின் மறைவிற்கு பிறகு உடன்கட்டை ஏறினார்

- I மட்டும்
- II மட்டும்
- I மற்றும் II
- இரண்டுமில்லை
- விடை தெரியவில்லை

130. Consider the following statements

Assertion (A): Local markets came up during Sangam age and they  
were known as Angadis

Reason (R): Both Day Market (Allangadi) and Evening Bazaar  
(Nalangadi) existed in port towns during Sangam age

- Both (A) and (R) are true and (R) is the correct explanation of (A).
- Both (A) and (R) are true, but (R) is not the correct explanation of (A).

c. A is true, but (R) is false.

d. A is false, but (R) is true.

e. Answer not known

பின்வரும் கூற்றுகளை ஆய்க

கூற்று (A): அங்காடிகள் என்றழைக்கப்பட்ட உள்நாட்டு சந்தைகள் சங்கக் காலத்தில் உருவாகின

காரணம் (R): சங்க காலத்தில் துறைமுக நகரங்களில் பகல் நேர சந்தை (அல்லங்காடி) மற்றும் மாலை நேர சந்தை (நாளங்காடி) ஆகிய இரு சந்தைகளும் இருந்தன

a. (A) மற்றும் (R) சரி, (R) ஆனது (A) யின் சரியான விளக்கம்

b. (A) மற்றும் (R) சரி, (R) ஆனது (A)யின் சரியான விளக்கமல்ல

c. (A) சரி, (R) தவறு

d. (A) தவறு, (R) சரி

e. விடை தெரியவில்லை

131. Which excavations remain as the important evidence for the Greek and Roman trade in the Tamil country?

a. Adhichanallur

b. Ariyalur

c. Keezhadi

d. Arikamedu

e. Answer not known

எந்த அகழ்வாய்வுகள் கிரேக்க மற்றும் உரோமானிய வர்த்தகம் குறித்து அறிய உதவும் முக்கிய தொல்லியல் சான்றாகும்?

a. ஆதிச்சநல்லூர்

b. அரியலூர்

c. கீழடி

d. அரிக்கமேடு

e. விடை தெரியவில்லை

132. Choose the correct statements about Porpanaikkottai

I. It is located in Pudukkottai district

II. A circular brick structure was unearthed by Archaeologist from here

III. This site belongs to post Sangam period

a. I, II

b. I, III

c. II, III

d. I, II, III

e. Answer not known

பொற்பனைக் கோட்டை பற்றிய சரியான கூற்றுகளைத் தேர்வு செய்க.

I. இது புதுக்கோட்டை மாவட்டத்தில் அமைந்துள்ளது.

II. இங்கு வட்டவடிவ செங்கல் கட்டமைப்பு அகழ்வாராய்ச்சியாளர்களால் கண்டறியப்பட்டுள்ளது.

III. இவ்விடம் சங்கம் மருவிய காலத்தைச் சார்ந்தது.

a. I, II

b. I, III

c. II, III

d. I, II, III

e. விடை தெரியவில்லை

133. The ULLAS mobile application was introduced by

a. Union ministry of Education

b. Union Ministry of Health

c. Union Ministry of Agriculture and farmers welfare

d. Union Ministry Labour

e. Answer not known

ULLAS எனும் கைப்பேசி செயலியை அறிமுகப்படுத்தியது

- மத்திய கல்வி அமைச்சகம்
- மத்திய சுகாதார அமைச்சகம்
- மத்திய வேளாண்மை மற்றும் விவசாயிகள் மேம்பாட்டு அமைச்சகம்
- மத்திய தொழிலாளர்கள் அமைச்சகம்
- விடை தெரியவில்லை

134. Choose the correct statements about PM Vishwakarma Yojana

- It was announced in 2023 - 24 union Budget
- It aims to empower skilled artisans and craftsman
- Rs. 13000 cores allocated for this scheme

- I, II
- I, III
- II, III
- I, II, III
- Answer not known

பிரதம மந்திரி விஸ்வகர்மா திட்டம் பற்றிய சரியான கூற்றுகளைத் தேர்வு செய்க.  
I. இத்திட்டம் 2023 - 24 ஆம் ஆண்டின் மத்திய பட்ஜெட்டில் அறிமுகப்படுத்தப்பட்டது.

II. இது திறமையான கைவினைஞர்களுக்கு அதிகாரமளிப்பதை நோக்கமாகக் கொண்டது.

III. இத்திட்டத்திற்காக ரூ 13,000 கோடி ஒதுக்கப்பட்டுள்ளது.

- I, II
- I, III
- II, III
- I, II, III
- விடை தெரியவில்லை

135. The capacity of a tank of dimension (8 m × 6 m × 2.5 m) is

- 120000 litre
- 100000 litre
- 50000 litre
- 80000 litre
- Answer not known

(8 m × 6 m × 2.5 m) பரிமாணங்கள் கொண்ட கலனின் கொள்ளளவு

- 120000 லிட்டர்
- 100000 லிட்டர்
- 50000 லிட்டர்
- 80000 லிட்டர்
- விடை தெரியவில்லை

136. Match the following

- |            |           |
|------------|-----------|
| A. தறுகண்  | 1. Foe    |
| B. ஊராண்மை | 2. Help   |
| C. தெவ்வர் | 3. Forest |
| D. கானம்   | 4. Valor  |

- |    | A | B | C | D |
|----|---|---|---|---|
| a. | 4 | 2 | 3 | 1 |
| b. | 3 | 2 | 1 | 4 |
| c. | 1 | 2 | 3 | 4 |
| d. | 4 | 2 | 1 | 3 |

e. Answer not known

பொருத்துக

- |            |           |
|------------|-----------|
| A. தறுகண்  | 1. பகைவர் |
| B. ஊராண்மை | 2. உதவி   |
| C. தெவ்வர் | 3. காடு   |

D. கானம்				4. மறம்
	A	B	C	D
a.	4	2	3	1
b.	3	2	1	4
c.	1	2	3	4
d.	4	2	1	3
e.	விடை தெரியவில்லை			

137. vizhuppuN pataadhanhaal ellaam vazhukkinuL  
vaikkumdhan naaLai eduththu

In this Kural the term VizhuppuN means

- a. angry stare                      b. wound                      c. monarch's eyes  
d. None of these                      e. Answer not known

\_\_\_\_\_ படாதநாள் எல்லாம் வழக்கினுள்  
வைக்கும்தன் நாளை எடுத்து

- a. விழித்தகண்                      b. விழுப்புண்                      c. புரந்தார்க்கண்  
d. இவை ஏதுமில்லை                      e. விடை தெரியவில்லை

138. Which kingdom was the first to get the benefit of the Roman trade?

- a. Chola                      b. Pandiya                      c. Chera  
d. Pallava                      e. Answer not known

ரோமானிய வர்த்தகத்தினால் முதன்முதலில் பெரிதும் பயனடைந்த அரசு எது?

- a. சோழர்கள்                      b. பாண்டியர்கள்                      c. சேரர்கள்  
d. பல்லவர்கள்                      e. விடை தெரியவில்லை

139. Match the following

- |                |  |  |  |                  |
|----------------|--|--|--|------------------|
| A. Plutarch    |  |  |  | 1. Arikamedu     |
| B. Dyeing tub  |  |  |  | 2. Roman Emperor |
| C. Alagankulam |  |  |  | 3. Greek writer  |
| D. Nero        |  |  |  | 4. Excavations   |

	A	B	C	D
a.	3	4	1	2
b.	4	3	2	1
c.	1	2	3	4
d.	2	1	4	3

e. Answer not known

பொருத்துக

- |                |                       |
|----------------|-----------------------|
| A. புளுடார்க்  | 1. அரிக்கமேடு         |
| B. சாயத்தொட்டி | 2. ரோமானிய அரசன்      |
| C. அழகன்குளம்  | 3. கிரேக்க எழுத்தாளர் |
| D. நீரோ        | 4. அகழ்வாய்வு         |

	A	B	C	D
a.	3	4	1	2
b.	4	3	2	1
c.	1	2	3	4
d.	2	1	4	3

e. விடை தெரியவில்லை

140. Sanskrit and Prakrit languages had been introduced in the Tamil region. This had resulted in the development of a new script called

- a. Suttezhththu                      b. Vattezhththu                      c. Nettezhththu  
d. Kuttezhththu                      e. Answer not known

தமிழகத்தில் சமஸ்கிருதமும் பிராகிருதமும் அறிமுகப்படுத்தப்பட்டன. இதனால் வளர்ச்சிப்பெற்ற புதிய வரிவடிவம் எது?

- a. சுட்டெழுத்து                      b. வட்டெழுத்து                      c. நெட்டெழுத்து  
d. குட்டெழுத்து                      e. விடை தெரியவில்லை

141. Match the following

- |                               |                       |
|-------------------------------|-----------------------|
| A. Avani Sundari Katha        | 1. Parameshwaravarman |
| B. Loga Vibagam               | 2. Dandin             |
| C. Kuram Copper Plates        | 3. Nandivarman III    |
| D. Velurpalayam Copper Plates | 4. Sarva Nandi        |

	A	B	C	D
a.	1	2	3	4
b.	2	4	1	3
c.	4	3	2	1
d.	3	1	4	2

e. Answer not known

பொருத்துக

- |                              |                         |
|------------------------------|-------------------------|
| A. அவனி சுந்தரி கதை          | 1. பரமேஸ்வரவர்மன்       |
| B. லோக விபாகம்               | 2. தண்டின்              |
| C. கூரம் செப்பேடுகள்         | 3. மூன்றாம் நந்திவர்மன் |
| D. வேலூர்பாளையம் செப்பேடுகள் | 4. சர்வநந்தி            |

	A	B	C	D
a.	1	2	3	4
b.	2	4	1	3
c.	4	3	2	1
d.	3	1	4	2

e. விடை தெரியவில்லை



142. Match the following

- |               |                           |
|---------------|---------------------------|
| A. Manigramam | 1. Measurement unit       |
| B. Nanadesi   | 2. Foreign merchants      |
| C. Videl      | 3. Land unit              |
| D. Hala       | 4. Merchants organization |

- |    | A | B | C | D |
|----|---|---|---|---|
| a. | 1 | 2 | 3 | 4 |
| b. | 2 | 3 | 4 | 1 |
| c. | 4 | 3 | 2 | 1 |
| d. | 4 | 2 | 1 | 3 |

e. Answer not known

பொருத்துக

- |               |                         |
|---------------|-------------------------|
| A. மணிகிராமம் | 1. அளவின் அலகு          |
| B. நானதேசி    | 2. அயல்நாட்டு வணிகர்கள் |
| C. விடேல்     | 3. நிலத்தின் அலகு       |
| D. ஹாலா       | 4. வணிகர்கள் சங்கம்     |

- |    | A | B | C | D |
|----|---|---|---|---|
| a. | 1 | 2 | 3 | 4 |
| b. | 2 | 3 | 4 | 1 |
| c. | 4 | 3 | 2 | 1 |
| d. | 4 | 2 | 1 | 3 |

e. விடை தெரியவில்லை

143. During whose rule, the Saiva saint, Sundaramoorthi Nayanar visited Madurai?

- |                    |                      |                   |
|--------------------|----------------------|-------------------|
| a. Kongar Koman    | b. Nelveli Nedumaran | c. Maaran Sendhan |
| d. Vendhar Vendhan | e. Answer not known  |                   |

யாருடைய காலத்தில், சைவத் துறவியான சுந்தரமூர்த்தி நாயனார் மதுரைக்கு வருகைப் புரிந்தார்?

- |                    |                       |                  |
|--------------------|-----------------------|------------------|
| a. கொங்கர் கோமான்  | b. நெல்வேலி நெடுமாறன் | c. மாறன் சேந்தன் |
| d. வேந்தர் வேந்தன் | e. விடை தெரியவில்லை   |                  |

144. Consider the following statements

Assertion (A): The ceilings and pillars of the Chittannavasal cave temples bear the painted figures and the technique is known as fresco.

Reason (R): The paintings represent the dancing girls, the king and queen, plants and animals

- Both (A) and (R) are true and (R) is the correct explanation of (A).
- Both (A) and (R) are true, but (R) is not the correct explanation of (A).
- A is true, but (R) is false.
- A is false, but (R) is true.

e. Answer not known

பின்வருவனவற்றை ஆய்க

கூற்று (A): சித்தன்னவாசல் குகை கோயிலில் உட்பக்க கூரை மீதும் தூண்கள் மீதும் அழகிய வண்ண ஓவியங்கள் தீட்டப்பட்டுள்ளன.

காரணம் (R): அந்த ஓவியங்கள் நடனமங்கைகள், அரசர், அரசி, செடிகள் மற்றும் விலங்குகள் பற்றி குறிக்கின்றன

- (A) மற்றும் (R) சரி, (R) ஆனது (A) யின் சரியான விளக்கம்
- (A) மற்றும் (R) சரி, (R) ஆனது (A)யின் சரியான விளக்கமல்ல
- (A) சரி, (R) தவறு
- (A) தவறு, (R) சரி
- விடை தெரியவில்லை

145. The heights of two circular cones are in the ratio 2 : 3 and the perimeter of their bases are 3 : 5. The ratio of their volumes, is

- 2 : 5
- 6 : 15
- 6 : 25
- 3 : 5
- Answer not known

இரு வட்டக் கூம்புகளின் உயரங்களின் விகிதம் 2 : 3. அவற்றின் அடிச் சுற்றளவுகளின் விகிதம் 3 : 5. அவற்றின் கன அளவுகளின் விகிதம்

- 2 : 5
- 6 : 15
- 6 : 25
- 3 : 5
- விடை தெரியவில்லை

146. Consider the following statements

Assertion (A): The Pandiyas were well known for their bronze images.

Reason (R): The Nataraja and Arthanareeswarar idols of Nageshwarar Temple, Kumbakonam are the best examples of Pandiyas Sculptures

- Both (A) and (R) are true and (R) is the correct explanation for (A)
- Both (A) and (R) are true but (R) is not the correct explanation for (A)
- (A) is true but (R) is false
- Both (A) and (R) are false
- Answer not known

கூற்றுகளை ஆய்க

கூற்று (A): பாண்டியர்கள் உலோகச் சிலைகளுக்குப் பெயர்ப்பெற்றவர்கள்

காரணம் (R): கும்பகோணம் நாகேஸ்வரர் கோயிலில் உள்ள நடராசர், அர்த்தநாரீஸ்வரர் ஆகிய உலோகச் சிலைகள் பாண்டியர் கலை அம்சத்திற்கு சிறந்த எடுத்துக்காட்டுகள் ஆகும்

- A மற்றும் R சரி, R என்பது Aக்கு சரியான விளக்கம்.
- A மற்றும் R சரி, R என்பது Aக்கு சரியான விளக்கமல்ல.
- A சரி, R தவறு.
- A, R தவறு.
- விடை தெரியவில்லை

147. Choose the incorrect statements

- I. Maravarma Sundara Pandiya I assumed the titles “Emmandalamum Kondaruliya Maharajathiraja, Sri Paramesvaran”
  - II. Maravarma Sundara Pandiya II assumed the title “Ponveintha Perumal”
  - III. Jatavarman Sundara Pandya I assumed the title “Kollam Konda Pandya”
- a. I, III only                      b. II, III only                      c. I, II only  
d. All of these                      e. Answer not known

தவறான இணைகளை காண்க

- I. “எம்மண்டலமும் கொண்டருளிய மகாராஜாதிராஜா, ஸ்ரீபரமேஸ்வரன் என்றெல்லாம் முதலாம் மாறவர்மன் சுந்தர பாண்டியன் பட்டம் சூட்டிக்கொண்டார்.
  - II. “பொன்வேய்ந்த பெருமாள்” என்ற பட்டத்தை இரண்டாம் மாறவர்மன் சுந்தர பாண்டியன் சூட்டிக்கொண்டார்
  - III. “கொல்லம்கொண்ட பாண்டியன்” என்ற பட்டத்தை முதலாம் ஜடாவர்ம சுந்தர பாண்டியன் சூட்டிக்கொண்டார்.
- a. I, III மட்டும்                      b. II, III மட்டும்                      c. I, II மட்டும்  
d. இவை அனைத்தும்                      e. விடை தெரியவில்லை

148. Choose the incorrect statement

- a. The major imports of the Sangam age were gold, horses and sweet wine
- b. There was great demand in the western world for the woollen clothes woven at Uraiyur
- c. Paddy was the chief crop in the Chola and Pandiya countries
- d. The major exports of the Sangam age were cotton fabrics, species, ivory products, pearls and precious stones
- e. Answer not known

தவறானக் கூற்றைக் காண்க

- a. தங்கம், குதிரைகள் மற்றும் இனிப்பான மது ஆகியவை சங்ககாலத்தின் முக்கிய இறக்குமதிகள் ஆகும்
- b. உறையூரில் உற்பத்தி செய்யப்பட்ட கம்பளி ஆடைகளுக்கு மேலை நாடுகளில் பெருந்தேவைக் காணப்பட்டது
- c. சோழ மற்றும் பாண்டிய நாடுகளில் நெல் முக்கிய பயிராகும்
- d. பருத்தி ஆடைகள், நறுமணப்பொருட்கள், தந்தம் வேலைப்பாடு நிறைந்த பொருட்கள், முத்துக்கள் மற்றும் விலையுயர்ந்த கற்கள் ஆகியவை சங்ககாலத்தின் முக்கிய ஏற்றுமதி பொருட்கள் ஆகும்
- e. விடை தெரியவில்லை

149. Which of the following involved in the longest scorpene class submarine deployment of India?

- a. INS Arihant                      b. INS Kalvari                      c. INS Vagir  
d. INS Vikrant                      e. Answer not known

பின்வருவனவற்றுள் நீண்டதூரப் பயணம் மேற்கொண்ட இந்தியாவின் ஸ்கார்பியன் ரக நீர்மூழ்கிக் கப்பல் எது?

- a. INS அரிஹண்ட்                      b. INS கல்வார்                      c. INS வகிர்  
d. INS விக்ராந்த்                      e. விடை தெரியவில்லை

150. Choose the correctly matched pairs

- |                           |                                   |               |
|---------------------------|-----------------------------------|---------------|
| Joint Defence exercise    | Countries                         |               |
| i. BRIGHT STAR 23         | - India and England               |               |
| ii. PASSEX                | - India and Saudi Arabia          |               |
| iii. Malabar              | - India, Japan, USA and Australia |               |
| iv. Nomadic Elephant - 23 | - India and Mongolia              |               |
| a. i, ii, iv              | b. ii, iii, iv                    | c. i, iii, iv |
| d. All the above          | e. Answer not known               |               |

சரியாகப் பொருந்திய இணைகளைத் தேர்வு செய்க.  
கூட்டு பாதுகாப்பு பயிற்சிகள்                      நாடுகள்

- |                        |   |               |
|------------------------|---|---------------|
| i. BRIGHT STAR 23      | - இந்தியா மற்றும் இங்கிலாந்து                     |               |
| ii. PASSEX             | - இந்தியா மற்றும் சவுதி அரேபியா                   |               |
| iii. மலபார்            | - இந்தியா, ஜப்பான், அமெரிக்கா மற்றும் ஆஸ்திரேலியா |               |
| iv. நொமேடிக் யானை      | - இந்தியா மற்றும் மங்கோலியா                       |               |
| a. i, ii, iv           | b. ii, iii, iv                                    | c. i, iii, iv |
| d. மேற்கூறிய அனைத்தும் | e. விடை தெரியவில்லை                               |               |

151. Match the following:

- |                       |                        |
|-----------------------|------------------------|
| Defence exercise      | Countries              |
| A. AUSINDEX           | 1. India and Australia |
| B. Cope India         | 2. India and USA       |
| C. FALCON Shield - 23 | 3. China and UAE       |
| D. Varuna - 23        | 4. India and France    |

- |    |   |   |   |   |
|----|---|---|---|---|
|    | A | B | C | D |
| a. | 1 | 2 | 3 | 4 |
| b. | 1 | 2 | 4 | 3 |
| c. | 2 | 1 | 3 | 4 |
| d. | 2 | 1 | 4 | 3 |

e. Answer not known

பொருத்துக:

- |                     |                                     |
|---------------------|-------------------------------------|
| A. AUSINDEX         | 1. இந்தியா மற்றும் ஆஸ்திரேலியா      |
| B. COPE INDIA       | 2. இந்தியா மற்றும் அமெரிக்கா        |
| C. FALCON Shield 23 | 3. சீனா மற்றும் ஐக்கிய அரபு அமீரகம் |
| D. வருணா - 23       | 4. இந்தியா மற்றும் பிரான்ஸ்         |

- |    |   |   |   |   |
|----|---|---|---|---|
|    | A | B | C | D |
| a. | 1 | 2 | 3 | 4 |
| b. | 1 | 2 | 4 | 3 |

- c. 2 1 3 4  
d. 2 1 4 3  
e. விடை தெரியவில்லை

152. \_\_\_\_\_ will give you the right to make friends  
a. communication and habits b. creativity and motivation  
c. similar emotion d. wealth and position  
d. answer not known

- \_\_\_\_\_ நட்பு ஏற்படுவதற்கு வேண்டிய உரிமையைக் கொடுக்கும்  
a. தொடர்பும் பழக்கமும் b. ஆக்கமும் ஊக்கமும் c. ஒத்த உணர்ச்சி  
d. பொருளும் பதவியும் e. விடை தெரியவில்லை

153. If the base area of a hemispherical solid is 1386 sq. metres, then find its total surface area.

- a. 4158 m<sup>3</sup> b. 4158 m<sup>2</sup> c. 4185 m<sup>2</sup> d. 4185 m e. Answer not known  
ஒரு திண்ம அரைக் கோளத்தின் அடிப்பரப்பு 1386 ச.மீ எனில், அதன் மொத்தப் புறப்பரப்பைக் காண்க.  
a. 4158 மீ<sup>3</sup> b. 4158 மீ<sup>2</sup> c. 4185 மீ<sup>2</sup> d. 4185 மீ e. விடை தெரியவில்லை

154. azhivi navainheekki aaRuyththu azhivin-kaN  
allal uzhappadhaam natpu

- In this Kural the term allal means  
a. valor b. giving c. majesty  
d. suffering e. answer not known

- அழிவின் அவைநீக்கி ஆறுய்த்து அழிவின்கண்  
அல்லல் உழப்பதாம் நட்பு – என்ற குறளில் “அல்லல்” என்ற சொல்லின் பொருள் யாது?  
a. வீரம் b. ஈகை c. மாட்சிமை  
d. துன்பம் e. விடை தெரியவில்லை

155. Consider the following statements.

- I. He was converted to Saivism by the influence of the Saiva saint, Thirunavukkarasar.  
II. He built a Siva temple at Tiruvadi.  
III. He assumed a number of titles like Gunabhara, Satyasandha and Vichitrachitta.

Who is referred in the above statements?

- a. Narasimhavarman I b. Mahendravarman I  
c. Parameswaravarman II c. Nandivarman II  
e. Answer not known

கூற்றுகளை ஆராய்க

- I. இவர் திருநாவுக்கரசர் என்ற சைவப்பெரியாரால் சைவ சமயத்திற்கு மாற்றப்பட்டார்.
  - II. இவர் திருவதி என்னும் இடத்தில் ஒரு சிவாலயத்தை கட்டினார்
  - III. இவர் குணபரன், சத்தியசந்தன் மற்றும் விசித்திரசித்தன் ஆகிய பட்டங்களை சூட்டிக்கொண்டார்
- மேற்கண்ட கூற்றுகளில் குறிப்பிடப்படுபவர் யார்?
- a. முதலாம் நரசிம்மவர்மன்
  - b. முதலாம் மகேந்திரவர்மன்
  - c. இரண்டாம் பரமேஸ்வரவர்மன்
  - d. இரண்டாம் நந்திவர்மன்
  - e. விடை தெரியவில்லை

156. Identify the correct statements

- I. The Nayaks ruled over Madurai, Tanjore and Senji
  - II. The Nayaks followed Paligar system
  - III. The Nayaks not upheld varnasrama system in the society
  - IV. Thirumalai Nayak Mahal is a classical fusion of Dravidian, Islamic and European style
- a. I, II only
  - b. I, II, IV only
  - c. II, III only
  - d. All of these
  - e. Answer not known

சரியானக் கூற்றுகளை கண்டறிக

- I. நாயக்கர்கள் மதுரை, தஞ்சாவூர், செஞ்சி ஆகிய நகரங்களை ஆட்சி புரிந்தனர்
  - II. நாயக்கர்கள் பாலையப் பட்டு முறையை பின்பற்றினர்
  - III. நாயக்கர்கள் ஆட்சியில் வர்ணாசிரம அடிப்படையிலான சமுதாய முறை காணப்படவில்லை
  - IV. திருமலை நாயக்கர் மகால் திராவிட, இஸ்லாமிய மற்றும் ஐரோப்பிய கலை அம்சங்களை கொண்டுள்ளது
- a. I, II மட்டும்
  - b. I, II, IV மட்டும்
  - c. II, III மட்டும்
  - d. இவை அனைத்தும்
  - e. விடை தெரியவில்லை

157. Match the following:

- |  |                     |
|--|---------------------|
| A. Restored peace between Vaishnavas and Jains | 1. Devaraya II      |
| B. Dam across Tungabhadra                      | 2. Devaraya I       |
| C. Title "Ganga Betekara"                      | 3. Krishna Devaraya |
| D. Title "Yavanaraja Sthapanachaya"            | 4. Bukka I          |

- |    | A                | B | C | D |
|----|------------------|---|---|---|
| a. | 4                | 3 | 2 | 1 |
| b. | 3                | 2 | 4 | 1 |
| c. | 4                | 2 | 1 | 3 |
| d. | 4                | 3 | 1 | 2 |
| e. | Answer not known |   |   |   |

பொருத்துக:

- A. வைணவர், சமண சமயத்தவரிடையே அமைதியை  
நிலைநாட்டியவர் 1. இரண்டாம் தேவராயர்  
B. துங்கபத்ரா குறுக்கே அணை 2. முதலாம் தேவராயர்  
C. 'கங்கா பட்டகாரா' பட்டம் 3. கிருஷ்ண தேவராயர்  
D. 'யவனராஜா ஸ்தாபநாச்சியா' 4. முதலாம் புக்கர்

	A	B	C	D
a.	4	3	2	1
b.	3	2	4	1
c.	4	2	1	3
d.	4	3	1	2

e. விடை தெரியவில்லை

158. Consider the following statements.

Assertion (A): Kumara Gupta I, who founded Nalanda university was called Sakraditya.

Reason (R): Fahien, visited Nalanda university, studied Buddhist Philosophy.

- a. Both A and R are correct and R is the correct explanation to A  
b. Both A and R are correct but R is not the correct explanation to A  
c. A is true but R is false  
d. A is false but R is true  
e. Answer not known

பின்வரும் கூற்றுகளை கவனி:

கூற்று (A): நாளந்தா பல்கலைக்கழகத்தைத் தோற்றுவித்த குமாரகுப்தர், சக்ராத்தியர் என்றும் அழைக்கப்படுகிறார்.

காரணம் (B): பாஹின் நாளந்தா பல்கலைக்கழகத்திற்கு வருகை தந்து புத்த தத்துவங்களை பயின்றார்.

- a. (A) மற்றும் (R) இரண்டும் சரி, மேலும் (R) என்பது (A) விற்கு சரியான விளக்கம்.  
b. (A) மற்றும் (R) இரண்டும் சரி, மேலும் (R) என்பது (A) விற்கு சரியான விளக்கம் அல்ல  
c. (A) சரி, ஆனால் (R) தவறு  
d. (A) தவறு, ஆனால் (R) சரி  
e. விடை தெரியவில்லை

159. Match the following

- |                       |                     |
|-----------------------|---------------------|
| A. Chidambarapuranam  | 1. Thiruvekatam     |
| B. Chidambarapattial  | 2. Paranjothiar     |
| C. Irusamaya Vilakkam | 3. Kumaraguruparar  |
| D. Kandar Kali Venba  | 4. Haridasa         |
| E. Meyngnana Vilakkam | 5. Thirumalai Nayak |

	A	B	C	D	E
a.	5	2	4	3	1
b.	5	2	3	4	1
c.	5	2	1	4	3
d.	4	3	2	1	5

e. Answer not known

பொருத்துக

- |                      |                     |
|----------------------|---------------------|
| A. சிதம்பர புராணம்   | 1. திருவேங்கடம்     |
| B. சிதம்பர பாட்டியல் | 2. பரஞ்சோதியார்     |
| C. இருசமய விளக்கம்   | 3. குமரகுருபரர்     |
| D. கந்தர் கலிவெண்பா  | 4. ஹரிதாசர்         |
| E. மெய்ஞான விளக்கம்  | 4. திருமலை நாயக்கர் |

	A	B	C	D	E
a.	5	2	4	3	1
b.	5	2	3	4	1
c.	5	2	1	4	3
d.	4	3	2	1	5

e. விடை தெரியவில்லை

160. What is the condition that three non-zero numbers a, b, c are in Arithmetic progression

- a.  $2b = a + c$       b.  $2a = b + c$       c.  $2c = a + b$   
d.  $a = \frac{b+c}{2}$       e. Answer not known

மூன்று பூச்சியமற்ற எண்கள் a, b, c என்பன ஒரு கூட்டுத்தொடர் வரிசையில் இருந்தால் நிபந்தனை

- a.  $2b = a + c$       b.  $2a = b + c$       c.  $2c = a + b$   
d.  $a = \frac{b+c}{2}$       e. விடை தெரியவில்லை

161. The commentary called Dakshinchitra was compiled during the reign of

- a. Mahendravarman I      b. Nandivarman II  
c. Narasimhavarman I      d. Parameswaravarman II  
e. Answer not known

யார் காலத்தில் தட்சிணசித்திரம் என்ற ஓவியக்கலை விளக்க நூல் தொகுக்கப்பட்டது?

- a. முதலாம் மகேந்திரவர்மன்      b. இரண்டாம் நந்திவர்மன்  
c. முதலாம் நரசிம்மவர்மன்      d. இரண்டாம் பரமேஸ்வரவர்மன்  
e. விடை தெரியவில்லை

162. Match the following :

- |                  |                             |
|------------------|-----------------------------|
| A. Gol Gumbaz    | 1. Muhammad Quli Qutub Shah |
| B. Golconda Fort | 2. Muhammad Adil Shah       |



C. City of Hyderabad and Charminar

D. Introduction of Dakhini in place of Persian

3. Ibrahim Adil Shah

4. Quli Qutub Shah

	A	B	C	D
a.	4	3	2	1
b.	2	4	1	3
c.	1	2	3	4
d.	4	2	3	1

e. Answer not known

பொருத்துக:

A. கோல் கும்பாஸ்

B. கோல்கொண்டா கோட்டை

C. ஹைதராபாத் நகரம், சார்மினார்

D. பாரசீகத்திற்கு பதில் தாகினி அறிமுகம்

1. முகமது குலி குதாப்ஷா

2. முகமது அடில் ஷா

3. இப்ராஹிம் அடில் ஷா

4. குலி குதாப் ஷா

	A	B	C	D
a.	4	3	2	1
b.	2	4	1	3
c.	1	2	3	4
d.	4	2	3	1

e. விடை தெரியவில்லை

163. Match the following:

A. Mahendravarman I

B. Narasimhavarman I

C. Rajasimha

D. Nandivarman

1. Rock-cut temples

2. Rathas and Mandapas

3. Structural temples with soft sand rocks

4. Structural temples

i. Varaha Mandapam

ii. Dalavanur Temple

iii. Muktheeswara temple

iv. Mamallapuram shore temple

a. A-1-i, B-2-ii, C-3-iii, D-4-iv

b. A-2-iii, B-1-iv, C-4-i, D-3-ii

c. A-4-iv, B-3-iii, C-2-ii, D-1-i

d. A-1-ii, B-2-i, C-3-iv, D-4-iii

e. Answer not known

பொருத்துக

A. மகேந்திரவர்மன் I

B. நரசிம்மவர்மன் I

C. ராஜசிம்மன்

D. நந்திவர்மன்

1. குடைவரைக் கோயில்கள்

2. ரதம் மற்றும் மண்டபம்

3. மணற்பாறைக் கற்களால் ஆன கட்டுமான கோயில்கள்

4. கட்டுமானக் கோயில்கள்

i. வராகமண்டபம்

ii. தளவானூர் கோயில்

iii. முக்தீஸ்வரர் கோயில்

iv. மாமல்லபுரம் கடற்கரை கோயில்

a. A-1-i, B-2-ii, C-3-iii, D-4-iv

b. A-2-iii, B-1-iv, C-4-i, D-3-ii

- c. A-4-iv, B-3-iii, C-2-ii, D-1-i  
d. A-1-ii, B-2-i, C-3-iv, D-4-iii  
e. விடை தெரியவில்லை

164. Match the following

- |              |                  |
|--------------|------------------|
| A. Viraliyar | 1. Dancer        |
| B. Anthanar  | 2. Wiseman       |
| C. Umanar    | 3. Salt merchant |
| D. Panar     | 4. Bards         |

- |    |   |   |   |   |
|----|---|---|---|---|
|    | A | B | C | D |
| a. | 4 | 3 | 2 | 1 |
| b. | 3 | 4 | 1 | 2 |
| c. | 2 | 1 | 4 | 3 |
| d. | 1 | 2 | 3 | 4 |

e. Answer not known

பொருத்துக

- |             |                   |
|-------------|-------------------|
| A. விரலியர் | 1. நடனக்கலைஞர்    |
| B. அந்தணர்  | 2. ஞானம் பெற்றவர் |
| C. உமணர்    | 3. உப்பு வணிகர்   |
| D. பாணர்    | 4. பாடகர்         |

- |    |   |   |   |   |
|----|---|---|---|---|
|    | A | B | C | D |
| a. | 4 | 3 | 2 | 1 |
| b. | 3 | 4 | 1 | 2 |
| c. | 2 | 1 | 4 | 3 |
| d. | 1 | 2 | 3 | 4 |

e. விடை தெரியவில்லை

165. Which age weapons were found in Tirunelveli, Thandikkudi, Pudukottai, Tiruchirapalli and Salem?

- |                  |                     |                  |
|------------------|---------------------|------------------|
| a. Iron age      | b. Copper age       | c. New stone age |
| d. Old stone age | e. Answer not known |                  |

திருநெல்வேலி, தாண்டிக்குடி, புதுக்கோட்டை, திருச்சிராப்பள்ளி மற்றும் சேலம் ஆகிய இடங்களில் எக்காலக் கருவிகள் கிடைத்துள்ளன?

- |                    |                     |                   |
|--------------------|---------------------|-------------------|
| a. இரும்புக் காலம் | b. செம்புக் காலம்   | c. புதிய கற்காலம் |
| d. பழைய கற்காலம்   | e. விடை தெரியவில்லை |                   |

166. How many pairs are correctly matched?

- |                                 |                    |
|---------------------------------|--------------------|
| Books                           | Author             |
| I. Kargil                       | - Rishi Raj        |
| II. Monsoon                     | - Abhay Kumar      |
| III. How prime Ministers decide | - Neeraj Chowdhury |

- |             |              |                |
|-------------|--------------|----------------|
| a. one pair | b. Two pairs | c. Three pairs |
|-------------|--------------|----------------|

d. None

e. Answer not known

சரியாகப் பொருந்திய இணைகள் எத்தனை?

புத்தகங்கள்

ஆசிரியர்

I. கார்பில்

- ரிஷிராஜ்

II. மான்குன்

- அபய்குமார்

III. ஹொவ் பிரைம் மினிஸ்டர்ஸ் டிசைட்

- நீரஜ் செளத்ரி

a. ஓர் இணை

b. இரண்டும் இணைகள்

c. மூன்று இணைகள்

d. ஏதுமில்லை

e. விடை தெரியவில்லை

167. Choose the correctly matched pairs

Conference

Place

I. BRICS summit 2023

Johannesburg

II. G20 summit 2023

New Delhi

III. First ever Global AI summit

India

IV. ASEAN Summit 2023

Jakarta

a. I, II

b. I, II, III

c. I, II, IV

d. I, II, III, IV

e. Answer not known

சரியாகப் பொருந்திய இணைகளைத் தேர்வு செய்க.

மாநாடுகள்

இடம்

I. பிரிக்ஸ் உச்சிமாநாடு 2023

- ஜோஹன்ஸ்பர்க்

II. G20 உச்சிமாநாடு 2023

- புதுடெல்லி

III. உலகளாவிய முதல் AI மாநாடு

- இந்தியா

IV. ஆசியான் உச்சிமாநாடு 2023

- ஜகர்த்தா

a. I, II

b. I, II, III

c. I, II, IV

d. I, II, III, IV

e. விடை தெரியவில்லை

168. What is the sum of the series  $1 + 8 + 27 + 64 + \dots + 1000$ .

a. 1100

b. 1064

c. 2027

d. 3025

e. Answer not known

$1 + 8 + 27 + 64 + \dots + 1000$  என்ற தொடரின் கூடுதல் என்ன?

a. 1100

b. 1064

c. 2027

d. 3025

e. விடை தெரியவில்லை

169. Choose the correct statements about the International Big cat Alliance

I. It was launched by India

II. It aims to conserve seven big cats

III. It aims to reach to 97 countries

a. I, II

b. I, III

c. II, III

d. I, II, III

e. Answer not known

சர்வதேச பெரும்பூனைகள் கூட்டமைப்பு பற்றிய சரியான கூற்றுகளைத் தேர்வு செய்க.

I. இது இந்தியாவால் தொடங்கப்பட்டது.

II. இது ஏழு பெரும்பூனை இனங்களைப் பாதுகாப்பதை நோக்கமாகக் கொண்டது.

III. இது 97 நாடுகளைச் சென்றடைவதை நோக்கமாகக் கொண்டுள்ளது

a. I, II

b. I, III

c. II, III

d. I, II, III

e. விடை தெரியவில்லை

170. Alliance with the man you have not proved and proved again,  
In length of days will give you mortal pain.  
In this Kural the term Alliance means
- a. Valor                      b. Hatred                      c. Friendship  
d. Defect                      e. Answer not known
- ஆய்ந்தாய்ந்து கொள்ளாதான் கேண்மை கடைமுறை  
தான்சாம் துயரம் தரும் - என்ற குறளில் வரும் “கேண்மை” என்ற சொல்லின்  
பொருள் என்ன?
- a. வீரம்                      b. பகைமை                      c. நட்பு  
d. குற்றம்                      e. விடை தெரியவில்லை
171. By knowing the nature \_\_\_\_\_ befriend someone
- a. one's Character                      b. one's defect                      c. one's descent  
d. All of these                      e. Answer not known
- \_\_\_\_\_ இயல்பை அறிந்து ஒருவனோடு நட்புக் கொள்ளவேண்டும்
- a. ஒருவனின் குணம்                      b. ஒருவனின் குற்றம்                      c. ஒருவனின் குடிப்பிறப்பு  
d. இவை அனைத்தும்                      e. விடை தெரியவில்லை
172. The famous Kohinoor Diamond belonged to the
- a. Hoysalas                      b. Kakatiyas                      c. Rashtrakutas  
d. Yadavas                      e. Answer not known
- புகழ்பெற்ற கோஹினூர் வைரம் யாருடையது?
- a. ஹொய்சாளர்கள்                      b. காகதீயர்கள்                      c. இராட்டிரகூடர்கள்  
d. யாதவர்கள்                      e. விடை தெரியவில்லை
173. Match the following
- |                               |                   |
|-------------------------------|-------------------|
| A. Kamappullur inscription    | 1. Parantaka I    |
| B. Aniyur inscription         | 2. Raja Raja I    |
| C. Ennore inscription         | 3. Rajendra I     |
| D. Thirumukkoodal inscription | 4. Veera Rajendra |
| E. Thiruvotriyur inscription  | 5. Vikrama Chola  |
- |    |   |   |   |   |   |
|----|---|---|---|---|---|
|    | A | B | C | D | E |
| a. | 2 | 3 | 5 | 1 | 4 |
| b. | 4 | 3 | 1 | 2 | 5 |
| c. | 1 | 2 | 3 | 4 | 5 |
| d. | 3 | 5 | 4 | 1 | 2 |
- e. Answer not known
- பொருத்துக:
- |                             |                         |
|-----------------------------|-------------------------|
| A. காமப்புல்லூர் கல்வெட்டு  | 1. முதலாம் பராந்தகன்    |
| B. அணியூர் கல்வெட்டு        | 2. முதலாம் இராஜ ராஜன்   |
| C. எண்ணூர் கல்வெட்டு        | 3. முதலாம் இராஜேந்திரன் |
| D. திருமுக்கூடல் கல்வெட்டு  | 4. வீரராஜேந்திரன்       |
| E. திருவொற்றியூர் கல்வெட்டு | 5. விக்கிரம சோழன்       |

	A	B	C	D	E
a.	2	3	5	1	4
b.	4	3	1	2	5
c.	1	2	3	4	5
d.	3	5	4	1	2

e. விடை தெரியவில்லை

174. Match the following

A. Rajasimha	1. Simhavishnu
B. Mamalla	2. Mahendravarma I
C. Chittirakarapuli	3. Narasimhavarman I
D. Avanisimha	4. Narasimhavarman II

	A	B	C	D
a.	1	2	3	4
b.	4	3	1	2
c.	4	3	2	1
d.	2	3	1	4

e. Answer not known

பொருத்துக

A. இராஜசிம்மன்	1. சிம்மவிஷ்ணு
B. மாமல்லன்	2. முதலாம் மகேந்திரவர்மன்
C. சித்திரக்காரப்புலி	3. முதலாம் நரசிம்மவர்மன்
D. அவனிசிம்மன்	4. இரண்டாம் நரசிம்மவர்மன்

	A	B	C	D
a.	1	2	3	4
b.	4	3	1	2
c.	4	3	2	1
d.	2	3	1	4

e. விடை தெரியவில்லை

175. During Rajaraja's reign a revenue survey was undertaken in 1001 AD by a revenue officer named

a. Senathipathi Kuravan	b. Senathipathi Adhityan
c. Senathipathi Sundaran	d. Senathipathi Kuyavan

e. Answer not known

ராஜராஜன் காலத்தில் கி.பி.1001-இல் வரிவிதிப்புக்கான கணக்கெடுப்புப் பணியாரால் மேற்கொள்ளப்பட்டது?

a. சேனாதிபதி குரவன்	b. சேனாதிபதி ஆதித்யன்
c. சேனாதிபதி சுந்தரன்	d. சேனாதிபதி குயவன்

e. விடை தெரியவில்லை

176. Through which temple's inscription we come to know that drama was divided into two types such as 'Santhikoothu' and 'Vinodhakoothu'?
- a. Tanjore                      b. Chidambaram                      c. Atthur  
d. Saththur                      e. Answer not known
- கூத்துக்களில் 'சாந்திக்கூத்து', 'வினோதக் கூத்து' என இருவகைக் கூத்துகள் இருந்தன என்று எந்த கோவில் கல்வெட்டு மூலம் அறிகின்றோம்?
- a. தஞ்சாவூர்                      b. சிதம்பரம்                      c. ஆத்தூர்  
d. சாத்தூர்                      e. விடை தெரியவில்லை
177. The first term and sixth term of a G.P and 2 and 486 respectively. The sum of its first six terms is
- a. 628                      b. 828                      c. 728                      d. 928                      e. Answer not known
- முதல் உறுப்பு 2 எனவும் ஆறாம் உறுப்பு 486 என்றவாறும் அமைந்த பெருக்குத் தொடரின் முதல் 6 உறுப்புகளின் கூடுதல்.
- a. 628                      b. 828                      c. 728                      d. 928                      e. விடை தெரியவில்லை
178. Which of the following deals with the history of the rise of the Mughal power in India?
- a. Tabakat-i-Nasiri                      b. Taj-ul-Ma'asir                      c. Tarikh-i-Firozshahi  
d. Tarikh-i-Frishta e. Answer not known
- கீழ்க்கண்டவற்றுள் எது இந்தியாவில் முகலாய ஆட்சியின் எழுச்சி குறித்து விவரிக்கின்றது?
- a. தபகத்-இ-நஸிரி                      b. தாஜ்-உல்-மா-அசிர்                      c. தாரிக்-இ-பிரோஷாகி  
d. தாரிக்-இ-பெரிஷ்டா                      e. விடை தெரியவில்லை
179. How many pairs are correctly matched?
- I. Devedana villages - Temples  
II. Pallichandam - Jain institutions  
III. Ulukudi - Land owners of vellanvagai  
IV. Brahmadeya - Land grants to Brahmins
- a. One pair                      b. Two pairs                      c. Three pairs  
d. Four pairs                      e. Answer not known
- கீழ்க்கண்டவற்றுள் சரியாகப் பொருந்திய இணைகள் எத்தனை?
- I. தேவதான கிராமங்கள் - கோவில்கள்  
II. பள்ளிச்சந்தம் - சமண சமய நிறுவனங்கள்  
III. உழுகுடி - வேளாண்வகை நிலத்தின் உடைமையாளர்கள்  
IV. பிரம்மதேயம் - பிராமணர்களுக்கு தானமாக வழங்கப்பட்ட நிலங்கள்
- a. ஒர் இணை                      b. இரு இணைகள்                      c. மூன்று இணைகள்  
d. நான்கு இணைகள்                      e. விடை தெரியவில்லை
180. In the period of later Cholas, the trade guild Anjuvannattar comprised
- I. East Asians                      II. Arabs                      III. Jews  
IV. Christians                      V. Muslims

a. I, II, III                      b. II, III, IV, V                      c. I, IV, V

d. All of these                      e. Answer not known

பிற்கால சோழர்கள் காலத்தில் அஞ்ச வண்ணத்தார் எனும் வணிகக்குழு அமைப்பில் இருந்தவர்கள்

I. கிழக்கு ஆசியர்கள்                      II. அரேபியர்கள்                      III. யூதர்கள்

IV. கிறித்தவர்கள்                      V. இஸ்லாமியர்கள்

a. I, II, III                      b. II, III, IV, V                      c. I, IV, V

d. இவை அனைத்தும்                      e. விடை தெரியவில்லை

181. How many pairs are correctly matched?

I. Balban - abolition of the forty nobles

II. Tughri Khan - provincial Governor of Sind

III. Iltumish - Establishment of department of spies

IV. Hulagukhan - Grand son of Chengiz Khan

a. One pair                      b. Two pairs                      c. Three pairs

d. Four pairs                      e. Answer not known

கீழ்க்கண்டவற்றுள் எத்தனை இணைகள் சரியாக பொருத்தப்பட்டுள்ளன?

I. பால்பன் - நாற்பதின்பர் பிரபுக்கள் ஒழிக்கப்படுதல்

II. துக்ரில்கான் - சிந்து மாகாண ஆளுநர்

III. இல்துமிஷ் - ஒற்றர்கள் துறை நிறுவப்படுதல்

IV. குலகுகான் - செங்கிஸ்கானின் பேரன்

a. ஒர் இணை                      b. இரு இணைகள்                      c. மூன்று இணைகள்

d. நான்கு இணைகள்                      e. விடை தெரியவில்லை

182. Choose the correct statements about Mansabdari system

I. According to this system the Nobles, civil and military officials were combined to form one single service

II. Mansabdar rank was dependent on Zat and Sawar

III. Zat was the number of horses and horsemen he had to maintain

a. I, II                      b. I, III                      c. II, III                      d. I, II, III                      e. Answer not known

மன்சப்தாரி முறை பற்றிய சரியான கூற்றுகளைத் தேர்வு செய்க

I. இம்முறையின் கீழ் பிரபுக்கள், ராணுவ அதிகாரிகள் குடிமைப்பணி அதிகாரிகள் ஆகியோரின் பணிகள் ஒன்று சேர்க்கப்பட்டு ஒரே பணியாக மாற்றப்பட்டன

II. மன்சப்தார் சாட், சவார் எனும் இரு விடயங்களைச் சார்ந்திருந்தன

III. சாட் என்பது ஒரு மன்சப்தார் பராமரிக்க வேண்டிய குதிரைகள், குதிரைவீரர்களின் எண்ணிக்கையைக் குறிப்பதாகும்.

a. I, II                      b. I, III                      c. II, III                      d. I, II, III                      e. விடை தெரியவில்லை

183. Choose the correct statements about Dholpur - Karauli Tiger reserve.

I. 54<sup>th</sup> Tiger reserve of India

II. Fifth Tiger reserve of Rajasthan State

a. I only                      b. II only                      c. Both                      d. None                      e. Answer not known

தோல்பூர் - கரௌலி புலிகள் காப்பகம் பற்றிய சரியான கூற்றுகளைத் தேர்வு செய்க.

- I. இது இந்தியாவின் 54வது புலிகள் காப்பகம்  
 II. ராஜஸ்தானின் 5-வது புலிகள் காப்பகம்  
 a. I மட்டும் b. II மட்டும் c. இரண்டும்  
 d. ஏதுமில்லை e. விடை தெரியவில்லை

184. Choose the correct statements

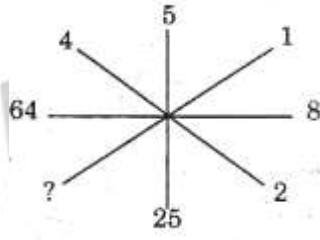
- I. India's first Hydrogen bus started a trial run in Leh.  
 II. Tamilnadu's first honey bee park is setup in Athipattu  
 a. I only b. II only c. Both d. None e. Answer not known

சரியான கூற்றுகளைத் தேர்வு செய்க.

- I. ஹைட்ரஜன் எரிபொருளில் இயங்கும் இந்தியாவின் முதல் பேருந்து சோதனை ஓட்டம் லே - நகரில் தொடங்கப்பட்டது.  
 II. தமிழ்நாட்டின் முதல் தேனீக்கள் பூங்கா அத்திப்பட்டில் நிறுவப்பட்டுள்ளது.  
 a. I மட்டும் b. II மட்டும் c. இரண்டும்  
 d. ஏதுமில்லை e. விடை தெரியவில்லை

185. What will come in the place of a question mark?

கேள்விக் குறியிட்ட இடத்தில் வரும் எண் யாது?



- a. 1 b. 2 c. 3 d. 4 e. Answer not known

186. pazhaimai enappaduvadhu yaadhenin yaadhun  
 kizhamaiyaik keezhndhitaa natpu

In this Kural the term Kizhamai means

- a. thonmai b. urimai c. mudhumai  
 d. ilamai e. Answer not known

பழமை எனப்படுவது யாதெனின் யாதும்

கிழமையைக் கீழ்ந்திடா நட்பு. - என்ற குறளில் உள்ள "கிழமை" என்ற சொல்லின் பொருள் யாது?

- a. தொன்மை b. உரிமை c. முதுமை  
 d. இளமை e. விடை தெரியவில்லை

187. Match the following

- |              |            |
|--------------|------------|
| பகுதி I      | பகுதி II   |
| A. கெழுதகைமை | 1. willing |
| B. இழுக்கம்  | 2. fault   |
| C. விழைவு    | 3. foe     |



D. விழையார் 4. right

	A	B	C	D
a.	3	1	2	4
b.	3	2	4	1
c.	4	2	1	3
d.	3	4	1	2

e. Answer not known

பொருத்துக:

பகுதி I

A. கெழுதகைமை

B. இழுக்கம்

C. விழைவு

D. விழையார்

	A	B	C	D
a.	3	1	2	4
b.	3	2	4	1
c.	4	2	1	3
d.	3	4	1	2

e. விடை தெரியவில்லை

பகுதி II

1. விருப்பம்

2. பிழை

3. பகைவர்

4. உரிமை

188. Choose the correct statement regarding land revenue administration of Mughals

I. Land revenue administration was toned up during the reign of Akbar

II. Raja Mansingh, Revenue Minister of Akbar, adopted and refined the system introduced by Shershah

a. I only

b. II only

c. Both I and II

d. None of these

e. Answer not known

முகலாயர்களின் நிலவருவாய் நிர்வாகம் பற்றிய சரியான கூற்றுகளைத் தேர்வு செய்க

I. அக்பரின் ஆட்சியின் போது நிலவருவாய் நிர்வாகம் சீரமைக்கப்பட்டது

II. அக்பரின் வருவாய்த்துறை அமைச்சரான ராஜாமான் சிங் ஷெர்ஷா அறிமுகம் செய்த முறையைப் பின்பற்றினார். அம்முறையை மேலும் சீர் செய்தார்

a. I மட்டும்

b. II மட்டும்

c. I மற்றும் II

d. ஏதுமில்லை

e. விடை தெரியவில்லை

189. Choose the correct statements about Jagirdar system

I. Under the system, the collection of the revenue of an area and the power of governing were bestowed upon a military or civil official named jagirdar

II. Every Mansabdar was a jagirdar if he was not paid in cash

III. The Jagirdar collected the revenue through his own officials

a. I, II      b. I, III      c. II, III      d. I, II, III      e. Answer not known

ஜாகீர்தார் முறை பற்றிய சரியான கூற்றுகளைத் தேர்வு செய்க

I. இம்முறையின் கீழ் குறிப்பிட்ட ஒரு பகுதியில் நிலவரி வசூல் செய்யும் பொறுப்பும் அப்பகுதியை நிர்வகிக்கும் பொறுப்பும் இராணுவ அல்லது சிவில் அதிகாரி ஒப்படைக்கப்பட்டது இவரே ஜாகீர்தார் ஆவர்

II. தங்களது ஊதியத்தைப் பணமாக பெறாத ஒவ்வொரு மன்சப்தாரும் ஜாகீர்தார் ஆவர்

III. ஜாகீர்தார் தம் அதிகாரிகள் மூலம் நிலவரியை வசூல் செய்தார்

a. I, II      b. I, III      c. II, III      d. I, II, III      e. விடை தெரியவில்லை

190. Which of the following were common to both Buddhism and Jainism?

1. Avoidance of extremities of penance and enjoyment

2. Indifferent to the authority of the Vedas

3. Denial of efficacy of rituals

4. Non injury to animal life

Select the correct answer using the codes given below:

a. 1, 2, 3 and 4

b. 2, 3 and 4

c. 1, 3 and 4

d. 1 and 2

e. Answer not known

கீழ்க்கண்டவற்றுள் எந்த குறிப்புகள் புத்த மதத்திற்கும் சமண சமயத்திற்கும் பொதுவானதாக கருதப்படுகிறது?

1. பிராயசித்தம் தேடுதல் மற்றும் சுகபோகங்களை அனுபவிக்காமல் முற்றிலுமாக ஒதுக்குதல்.

2. வேதகால அதிகாரவர்க்கத்தோடு அடிபணிய மறுத்தல்.

3. வேள்வியினால் பயன் என்ற கொள்கையை மறுத்தல்

4. வனவிலங்குகளை துன்புறுத்தாமல் இருத்தல்

கீழ்க்கண்ட குறிப்பின் துணையோடு சரியான பதிலை தருக.

a. 1, 2, 3 மற்றும் 4

b. 2, 3 மற்றும் 4

c. 1, 3 மற்றும் 4

d. 1 மற்றும் 2

e. விடை தெரியவில்லை

191. Raju starts walking towards south. After walking 20 m he turns towards North and Walks 8 m. Again he turns towards East and walks 5 m. How far and in which direction is he from his starting point.

a. 15 m, South

b. 17 m, North-West

c. 7 m, East

d. 13 m, South-East

e. Answer not known

ராஜு என்பவர் தெற்கு நோக்கி நடக்கத் தொடங்குகிறார். 20 மீ தூரம் நடந்த அவர் வடக்கு நோக்கி திரும்பி 8 மீ தூரம் நடக்கிறார். மறுபடியும் கிழக்கு நோக்கி திரும்பி 5 மீ தூரம் நடக்கிறார் எனில், ஆரம்ப இடத்திலிருந்து எவ்வளவு தூரம் எந்தத் திசையில் அவர் இருப்பார்?

a. 15m, தெற்கு

b. 17m, வடகிழக்கு

c. 7m, கிழக்கு

d. 13m, தென்கிழக்கு

e. விடை தெரியவில்லை

192. Consider the following

Assertion (A): Asoka annexed Kalinga to the Mauryan Empire.

Reason (R): Kalinga controlled the land and sea routes to North India.

- Both 'A' and 'R' are individually true and 'R' is the correct explanation of 'A'.
- Both 'A' and 'R' are individually true but 'R' is not the correct explanation of 'A'.
- 'A' is true, but 'R' is false.
- 'A' is false, but 'R' is true.
- Answer not known

பின்வருவனவற்றை ஆய்க.

கூற்று (A): அசோகர் கலிங்க நாட்டை மௌரியப் பேரரசுடன் இணைத்தார்.

காரணம் (R): வடஇந்தியாவிற்கு செல்லும் கடல் மற்றும் நில மார்க்கத்தை கலிங்கா தன் கட்டுப்பாட்டில் வைத்திருந்தது.

- (A) மற்றும் (R) இரண்டும் சரி, மேலும் (R) என்பது (A) விற்கு சரியான விளக்கம்.
- (A) மற்றும் (R) இரண்டும் சரி, மேலும் (R) என்பது (A) விற்கு சரியான விளக்கம் அல்ல
- (A) சரி, ஆனால் (R) தவறு
- (A) தவறு, ஆனால் (R) சரி
- விடை தெரியவில்லை

193. Consider the following:

- Tughlaqabad fort
- Lodi Garden
- Qutub Minar
- Fatehpur Sikri

The correct chronological order in which they were built is

- 3, 1, 4, 2
- 3, 1, 2, 4
- 1, 3, 2, 4
- 1, 3, 4, 2
- Answer not known

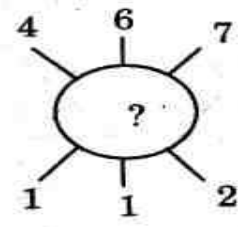
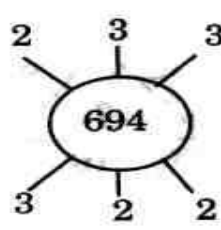
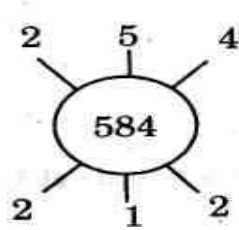
கீழ்க்கண்டவற்றை சரியான காலவரிசைப்படி எழுதவும்.

- துக்ளகாபாத் கோட்டை
- லோடி தோட்டம்
- குதுப்மினார்
- பதேபூர் சிக்ரி

- 3, 1, 4, 2
- 3, 1, 2, 4
- 1, 3, 2, 4
- 1, 3, 4, 2
- விடை தெரியவில்லை

194. What will come in the place of a question mark?

கேள்விக் குறியிட்ட இடத்தில் வரும் எண் யாது?



- 937
- 824
- 769
- 678
- Answer not known

195. Consider the followings statements.  
 Assertion (A): Saluva Narasimha put an end to the old dynasty and assumed the royal title.  
 Reason (R): He wanted to save the kingdom from further degeneration and disintegration.
- Both 'A' and 'R' are individually true and 'R' is the correct explanation of 'A'.
  - Both 'A' and 'R' are individually true but 'R' is not the correct explanation of 'A'.
  - 'A' is true, but 'R' is false.
  - 'A' is false, but 'R' is true.
  - Answer not known
- பின்வருவனவற்றை ஆய்க.  
 கூற்று (A): சாலுவ நரசிம்மன் பழைய வம்சத்தின் ஆட்சிக்கு முற்றுபுள்ளி வைத்து தான் உயர்ந்த பொறுப்பை ஏற்றுக்கொண்டார்.  
 காரணம் (R): தன்னுடைய ஆட்சி மேலும் சிதறாமல், பிரிந்துவிடாமல் பாதுகாக்க விரும்பினார்.
- (A) மற்றும் (R) இரண்டும் சரி, மேலும் (R) என்பது (A) விற்கு சரியான விளக்கம்.
  - (A) மற்றும் (R) இரண்டும் சரி, மேலும் (R) என்பது (A) விற்கு சரியான விளக்கம் அல்ல
  - (A) சரி, ஆனால் (R) தவறு
  - (A) தவறு, ஆனால் (R) சரி
  - விடை தெரியவில்லை
196. Which one of the following inscriptions of Asoka refers to the grant of concession in land revenue to a village?  
 a. Lumbini pillar edict    b. Saranath pillar edict    c. Girnar rock edict  
 d. Sanchi pillar edict    e. Answer not known
- அசோகரின் பின்வரும் எந்த ஆணை, ஒரு கிராமத்திற்கு நில வருவாயில் சலுகை வழங்குவதைக் குறிக்கிறது?  
 a. லும்பினி தூண் ஆணை    b. சரநாத் தூண் ஆணை    c. கிர்னார் பாறை ஆணை  
 d. சாஞ்சி தூண் ஆணை    e. விடைதெரியவில்லை
197. James Princep took clues to decipher Asoka's inscriptions from bilingual records involving:  
 a. Brahmi and Aramaic    b. Brahmi and Cuneiform  
 c. Brahmi and Greek    d. Brahmi and Hieroglyphics  
 e. Answer not known
- ஜேம்ஸ் பிரின்செப் அசோகாவின் கல்வெட்டுகளை இருமொழிப் பதிவுகளில் இருந்து புரிந்து கொள்ள எந்த தடயங்களை எடுத்துக் கொண்டார்:  
 a. பிராமி மற்றும் அராமிக்    b. பிராமி மற்றும் கியூனிஃபார்ம்  
 c. பிராமி மற்றும் கிரேக்கம்    d. பிராமி மற்றும் ஹைரோகிளிஃபிக்ஸ்  
 e. விடைதெரியவில்லை

198. With which of the following regions did India have the closest contact during the Gupta period?
- a. South –East Asia      b. Central Asia      c. Iran  
d. Western Asia      e. Answer not known
- குப்தர் காலத்தில் பின்வரும் எந்தப் பகுதியுடன் இந்தியா நெருக்கமான தொடர்பு கொண்டிருந்தது?
- a. தென்கிழக்கு ஆசியா      b. மத்திய ஆசியா      c. ஈரான்  
d. மேற்கு ஆசியா      e. விடைதெரியவில்லை
199. The medium of exchange prevalent during the Mauryan period was:
- a. Kapaddaka-purana      b. Churni      c. Pana  
d. Dinara      e. Answer not known
- மௌரியர் காலத்தில் நிலவிய பரிமாற்ற ஊடகம்:
- a. கபாடக-புராணம்      b. சர்னி      c. பனா  
d. தினரா      e. விடைதெரியவில்லை
200. The radius of a spherical balloon increases from 7 cm to 14 cm as air is being pumped into it. Find the ratio of volumes of the balloon in the two cases.
- a. 1 : 2      b. 1 : 4      c. 1 : 8      d. 7 : 14      e. Answer not known
- 7 செ.மீ ஆரம் கொண்ட கோள வடிவ பலூனில் காற்று செலுத்தப்படும் போது அதன் ஆரம் 14 செ.மீ ஆக அதிகரித்தால், அவ்விரு நிலைகளில் பலூனின் கன அளவுகளின் விகிதத்தைக் காண்க.
- a. 1 : 2      b. 1 : 4      c. 1 : 8      d. 7 : 14      e. விடை தெரியவில்லை







வாழ்க்கையின் லட்சியமே  
மனித சமுதாயத்திற்கு தொண்டாற்றுவது -

தந்தை பெரியார்

APP  
STUDY CENTRE