

## TNUSRB – SUB INSPECTOR RECRUITMENT TRAINING – 2022 TEST XVI – REVISION III – ECONOMICS, INDIAN POLITY, PSYCHOLOGY

1. \_\_\_\_\_ was the first country to practice economic planning on a national scale  
a. Soviet Russia      b. England      c. Germany      d. India  
பொருளாதார திட்டமிடுதலை முதன் முறையாக செயல்படுத்திய நாடு  
a. சோவியத் ரஷ்யா      b. இங்கிலாந்து      c. ஜெர்மனி      d. இந்தியா
2. Human Development Index measures  
I. Life expectancy at birth      II. Adult Literacy rate  
III. Infant Mortality      IV. Morbidity  
a. I and II are correct      b. II and III are correct  
c. III and IV are correct      d. I,II,III and IV are correct  
மனிதவள முன்னேற்ற குறியீடு கூறுவது  
I. வாழ்வு கால அளவு      II. வயது வந்தோரின் கல்வியறிவு  
III. பிறப்பு விகிதம்      IV. நோய்த்தடுப்பு  
a. I மற்றும் II மட்டும் சரி      b. II மற்றும் III மட்டும் சரி  
c. III மற்றும் IV மட்டும் சரி      d. I, II, III மற்றும் IV மட்டும் சரி
3. Which one of the following is not a direct tax?  
a. Income Tax      b. Wealth Tax  
c. Expenditure Tax      d. Service Tax  
பின்வருவனவற்றுள் எது நேர்முக வரி அல்ல?  
a. வருமான வரி      b. சொத்து வரி  
c. செலவு வரி      d. சேவை வரி
4. Match the following:  
A. Monetary policy      1. SEBI  
B. Insurance      2. RBI  
C. Fiscal policy      3. IRDA  
D. Stock market      4. Central Govt.  
பொருத்துக.  
A. பணக்கொள்கை      1. SEBI  
B. காப்பீடு      2. RBI  
C. நிதிக்கொள்கை      3. IRDA  
D. பங்குச்சந்தை      4. மத்திய அரசாங்கம்



10. Which industrial policy restructured the public sector and encouraged private participation in the economy?

- a. 1817                      b. 1960                      c. 1990                      d. 1991

எந்த ஆண்டின் புதிய தொழிற்கொள்கையானது, பொது துறை நிறுவனங்களின் மறு சீரமைப்பினையும் தனியார்த்துறை பங்கேற்பையும் ஊக்குவித்தன.

- a. 1817                      b. 1960                      c. 1990                      d. 1991

11. In India, disguised unemployment is more prevalent in the

- a. Industrial sector                      b. Agricultural sector  
c. Service sector                      d. External sector

இந்தியாவில் மறைமுக வேலையின்மை அதிகமாகக் காணப்படுவது

- a. தொழில்துறையில்                      b. வேளாண் துறையில்  
c. சேவை துறையில்                      d. அயலக துறையில்

12. In which of the Industrial Policy Resolution (IPR) the establishment of socialistic pattern of society was adopted?

- a. Industrial Policy Resolution of 1948  
b. Industrial Policy Resolution of 1956  
c. Industrial Policy Resolution of 1985  
d. Industrial Policy Resolution of 1991

எந்த தொழிற்கொள்கை தீர்மானத்தில் “சமதர்ம மாதிரி சமுதாயத்தை” ஏற்படுத்துதல் என்பது ஏற்றுக்கொள்ளப்பட்டது?

- a. 1948 ஆம் ஆண்டு தொழிற்கொள்கை தீர்மானம்  
b. 1956 ஆம் ஆண்டு தொழிற்கொள்கை தீர்மானம்  
c. 1985 ஆம் ஆண்டு தொழிற்கொள்கை தீர்மானம்  
d. 1991 ஆம் ஆண்டு தொழிற்கொள்கை தீர்மானம்

13. Which one of the following committee is related to public sector disinvestment?

- A. Narasimman Committee                      B. G.V. Ramakrishna Committee  
C. Urjit Patel Committee                      D. Jha Committee

கீழே கொடுக்கப்பட்டவைகளில் பொதுத்துறை மூலதன விலக்கல் தொடர்பான குழு எது?

- A. நரசிம்மன் கமிட்டி                      B. ஜி.வி. ராமகிருஷ்ணா கமிட்டி  
C. உர்ஜித் பட்டேல் கமிட்டி                      D. ஜாகமிட்டி

14. In the year 1951, population growth rate is called

- A. Year of Great Divide                      B. Year of Population Explosion  
C. Year of Population                      D. Year of Small Divide

1951ஆம் ஆண்டு மக்கள்தொகை பெருக்க வீதம் இவ்வாறு அழைக்கப்படுகிறது

- A. பெரும் பிரிவினை ஆண்டு                      B. மக்கள்தொகை வெடிப்பு ஆண்டு  
C. மக்கள்தொகை ஆண்ட                      D. சிறுபிளவு ஆண்டு

15. The sources of Non-Tax Revenue are

- I. Earnings from public enterprises                      II. Escheats  
III. Sales tax                      IV. Cess

From the above which are correct answers?

- a. II and III      b. I and IV      c. I and II      d. III and IV  
e. Answer not known

வரி சாரா வருவாயின் ஆதாரங்களாவன:

- I. பொதுத் துறை நிறுவனங்களின் வருவாய்கள்      II. மரண தீர்வை  
III. விற்பனை வரி      IV. செஸ்

மேலே கண்டவற்றுள் எவை சரியான விடைகள்?

- a. II மற்றும் III      b. I மற்றும் IV      c. I மற்றும் II      d. III மற்றும் IV  
e. விடை தெரியவில்லை

16. Match the following:

Name of the Initiative

Year of Initiation

- A. Human Development Index (HDI)      1. 2000  
B. Gender Related Development Index (GDI)      2. 1997  
C. Human Poverty Index (HPI)      3. 1995  
D. Millennium Development Goals (MDG)      4. 1990

e. Answer not known

கீழ்க்கண்டவற்றை பொருத்துக:

குறியீட்டின் பெயர்

உருவாக்கப்பட்ட ஆண்டு

- A. மனித மேம்பாட்டு குறியீடு (HDI)      1. 2000  
B. பாலின-தொடர்பான மேம்பாட்டு குறியீடு (GDI)      2. 1997  
C. மனித வறுமை குறியீடு (HPI)      3. 1995  
D. ஆயிரமாண்டு மேம்பாட்டு இலக்கு (MDG)      4. 1990

- |    | A | B | C | D |
|----|---|---|---|---|
| a. | 1 | 2 | 3 | 4 |
| b. | 4 | 3 | 2 | 1 |
| c. | 3 | 2 | 1 | 4 |
| d. | 2 | 1 | 4 | 3 |

17. The Instruments of monetary policy are

I. Bank rate      II. Tax rate      III. Cash reserve ratio

- a. I alone is correct      b. I and II are correct  
c. I and III are correct      d. I, II and III are correct

பணக் கொள்கையின் கருவிகள்

I. வங்கி விகிதம்      II. வரி விகிதம்      III. ரொக்க இருப்பு விகிதம்

- a. I மட்டும் சரி      b. I மற்றும் II மட்டும் சரி  
c. I மற்றும் III மட்டும் சரி      d. I, II மற்றும் III மட்டும் சரி

18. Pradhan mantri mudra yojana (PMMY) was introduced on

- A. 8 March, 2015      B. 8 April, 2015  
C. 1 May, 2015      D. 15 July, 2015

பிரதம மந்திரியின் முத்ரா யோஜனா (PMMY) அறிமுகப்படுத்தப்பட்ட நாள்

- A. 8 மார்ச், 2015      B. 8 ஏப்ரல், 2015  
C. 1 மே, 2015      D. 15 ஜூலை, 2015

19. Which of the following two products are excluded from the ambit GST?

1. Petroleum      2. Cotton      3. Steel      4. Tobacco

- a. 1 and 4 only      b. 2 and 3 only      c. 1 and 3 only      d. 2 and 4 only

கீழே காணப்படும் பொருள்களில், பொருள்கள் மற்றும் சேவைகள் வரியிலிருந்து தவிர்க்கப்பட்ட இரண்டு பொருட்கள் எவை?

1. பெட்ரோலியம்      2. பருத்தி      3. எஃகு      4. புகையிலை

- a. 1 மற்றும் 4 மட்டும்      b. 2 மற்றும் 3 மட்டும்

- c. 1 மற்றும் 3 மட்டும்      d. 2 மற்றும் 4 மட்டும்

20. Which of the following are denotes the meaning of Goods and Services Tax?

1. It is a consolidated indirect tax  
2. It is a single unified tax  
3. It is imposed only by Central Government  
4. it is payable at final point of consumption

- a. 1 and 3 only      b. 1, 2 and 3 only

- c. 2, 3 and 4 only      d. 1, 2 and 4 only

கீழ்க்கண்டவற்றுள் பொருட்கள் மற்றும் சேவைகள் வரி என்பதன் பொருள் யாவை?

1. இது மறைமுக வரியின் தொகுப்பாகும்  
2. ஒரே மாதிரியான தனி வரியாகும்  
3. மத்திய அரசால் மட்டுமே விதிக்கப்படுவதாகும்  
4. நுகர்வு இறுதிப் புள்ளியில் செலுத்தவதாகும்

- a. 1 மற்றும் 3 மட்டும்      b. 1, 2 மற்றும் 3 மட்டும்

- c. 2, 3 மற்றும் 4 மட்டும்      d. 1, 2 மற்றும் 4 மட்டும்

21. The first blue print for Indian planning came from an engineer administrator

- a. M. Visvesvaraya      b. Nehru      c. S.N. Agarwal      d. M.N. Roy

இந்தியாவின் திட்டமிடலுக்கான வரைபடங்கள் முதலில் எந்த பொறியாளர் நிர்வாகியிடமிருந்து வந்தன

- a. M. விஸ்வேஸ்வரயா      b. நேரு      c. S.N. அகர்வால்      d. M.N ராய்

22. Assertion (A) : Ramachandra Guha calls Kumarappa as "Green Gandhian".

Reason (R) : Kumarappa was the founder of modern environmentalism in India.

- a. (A) is true, (R) is false.

- b. Both (A) and (R) are true and (R) is the correct explanation to (A)

- c. (A) is false, (R) is true.

- d. Both (A) and (R) are true and (R) is not the correct explanation of (A)

கூற்று (A) : இராமச்சந்திர குகா அவர்கள் குமரப்பாவை 'பச்சை காந்தி' என்று அழைத்தார்.

காரணம்(R): குமரப்பா இந்தியாவின் சுற்றுச் சூழலியல் குறித்து அடித்தளமிட்டார்.

- a. (A) சரி, ஆனால் (R) தவறு.

- b. (A) மற்றும் (R) இரண்டும் சரி, மேலும் (R) என்பது (A)-விற்கு சரியான விளக்கம்.

- c. (A) தவறு ஆனால் (R) சரி.

- d. (A) மற்றும் (R) இரண்டும் சரி, ஆனால் (R) என்பது (A)-விற்கு சரியான விளக்கமல்ல.

23. 'NITI Aayog' substituted Planning Commission was effect from
- a. January 1, 2015                      b. February 2, 2015  
c. January 5, 2018                      d. March 15, 2015

திட்டக்குழுவிற்கு மாற்றாக 'நிதி ஆயோக்' நடைமுறைக்கு வந்தது

- a. ஜனவரி 1, 2015                      b. பிப்ரவரி 2, 2015  
c. ஜனவரி 5, 2018                      d. மார்ச் 15, 2015

24. Match the following:

- |              |   |
|--------------|---|
| A. VAT       | 1. Multipoint tax with cascading effect                       |
| B. GST       | 2. One point tax without cascading effect                     |
| C. Sales Tax | 3. Multipoint tax without cascading effect                    |
| D. CGST      | 4. Collected by the Central Government for Interstate sale    |
| D. IGST      | 5. Collected by the Central Government on an intra-State sale |

பின்வருபவனவற்றை பொருத்துக:

- |               |  |
|---------------|--|
| A. VAT        | 1. அடித்தள விளைவுள்ள பல்முனை வரியாகும்   |
| B. GST        | 2. அடித்தள விளைவில்லாத ஒரு முனை வரியாகும்                                      |
| C. விற்பனைவரி | 3. அடித்தள விளைவில்லாத பல்முனை வரியாகும்                                       |
| D. CGST       | 4. மாநில அரசுகளுக்கு இடையேயான விற்பனையில்                                      |
| E. IGST       | 5. மாநிலத்திற்குள்ளே நடைபெறுகிற விற்பனையில் மத்திய அரசால் வசூலிக்கப்படுவதாகும் |

- |    | A | B | C | D | E |
|----|---|---|---|---|---|
| a. | 1 | 2 | 4 | 5 | 3 |
| b. | 3 | 2 | 1 | 5 | 4 |
| c. | 4 | 3 | 1 | 2 | 5 |
| d. | 2 | 1 | 3 | 5 | 4 |

25. What does 'BIMARU' implies?

- a. States with the lowest birth rates  
b. States with the Highest mortality rates  
c. The most populous states  
d. The least populous states  
e. Answer not known

'BIMARU' என்பது எதை குறிக்கிறது?

- a. குறைந்த பிறப்பு விகிதத்தை கொண்ட மாநிலங்கள்  
b. அதிக இறப்பு விகிதத்தை கொண்ட மாநிலங்கள்  
c. அதிக மக்கள் தொகை கொண்ட மாநிலங்கள்  
d. குறைந்த மக்கள் தொகை கொண்ட மாநிலங்கள்  
e. விடை தெரியவில்லை

26. Choose the correct statements.

- I. Inflation refers to the prices are rising, the value of money will fall.  
II. Deflation refers to the prices are falling, the value of money will decrease.
- a. I, II are correct                      b. I only is correct  
c. II only is correct                      d. I, II are incorrect

சரியான கூற்றினைக் கண்டறிக

- I. பணவீக்கம் என்பது விலைகள் உயர்ந்து, பணத்தின் மதிப்பு வீழ்ச்சியடைவதைக் குறிக்கும்  
II. பணவாட்டம் என்பது விலைகள் குறைந்து பணத்தின் மதிப்பு குறைவதைக் குறிக்கும்  
a. I, II சரி      b. I மட்டும் சரி      c. II மட்டும் சரி      d. I, II தவறு

27. The Government of India announced demonetization of all ₹500 and ₹1000 bank notes against Black money on \_\_\_\_\_.

- a. 8 November, 2016      b. 7 November, 2016  
c. 12 November, 2016      d. 18 November, 2016

இந்திய அரசாங்கம் கருப்பு பணத்திற்கு எதிராக அனைத்து ரூ.500 மற்றும் ரூ 1000 நோட்டுக்களை பணமதிப்பிழப்பு செய்த நாள் \_\_\_\_\_.

- a. 8 நவம்பர், 2016      b. 7 நவம்பர், 2016  
c. 12 நவம்பர், 2016      d. 18 நவம்பர், 2016

28. As per 2017 data, which of the following is/are correct?

- i. Maharatna Industries - 8  
ii. Navratna Industries - 19  
iii. Miniratna Industries - 74

- a. i, ii, iii      b. i, ii      c. i, iii      d. ii, iii

பின்வருவனவற்றுள், 2017- புள்ளிவிவரப்படி சரியானவை எவை?

- i. மகாரத்னா தொழில்கள் - 8  
ii. நவரத்னா தொழில்கள் - 19  
iii. மினிரத்னா தொழில்கள் - 74

- a. i, ii, iii      b. i, ii      c. i, iii      d. ii, iii

29. The concept of national income was first introduced by

- a. J.M. Keynes      b. Samuelson      c. Simon Kuznets      d. Fisher

தேசிய வருவாய் எனும் கருத்துருவை முதலில் அறிமுகப்படுத்தியவர் \_\_\_\_\_.

- a. J.M. கீன்ஸ்      b. சாமுவேல்சன்      c. சைமன் குஷ்நெட்ஸ்      d. பிஷர்

30. The Automated Teller Machine was first introduced in the year \_\_\_\_\_

- a. 1961      b. 1967      c. 1969  
d. 1972      e. Answer not known

தானியங்கி பணம் வழங்கும் இயந்திரமுறை அறிமுகப்படுத்தப்பட்ட ஆண்டு.

- a. 1961      b. 1967      c. 1969  
d. 1972      e. விடை தெரியவில்லை

31. Which statement is correct for Indian planning commission?

- I. It is not defined in Indian Constitution  
II. Members and Vice - Chairman of it do not have fixed working Duration  
III. Members do not require any minimum education  
IV. Vice - Chairman should be appointed by the Prime minister

- a. I and II      b. I and III      c. I, II, III and IV      d. I and IV

கீழ்க்கண்ட கூற்றில் இந்திய திட்டக் கமிஷனுக்கு எது சரியானவை?

- I. இந்திய அரசியலமைப்புக்கு வரையறுக்கப்பட்டவை அல்ல  
II. உறுப்பினர்கள் மற்றும் உதவித் தலைவர் நிரந்தர ஊழியர்கள் அல்ல  
III. உறுப்பினர்களுக்கு குறைந்தளவு கல்வித்தரம் வேண்டியதில்லை  
IV. உதவித் தலைவரை நியமிப்பது பிரதமமந்திரி  
a. I மற்றும் II      b. I மற்றும் III      c. I, II, III மற்றும் IV      d. I மற்றும் IV

32. According to 2011 census the state having maximum population?

- a. Uttar Pradesh      b. Maharashtra  
c. Tamil Nadu      d. Kerala

2011 மக்கள் தொகை கணக்கெடுப்பின்படி, எந்த மாநிலத்தில் மக்கள் தொகை அதிகமாக உள்ளது?

- a. உத்திரப் பிரதேசம்      b. மகாராஷ்டிரா  
c. தமிழ்நாடு      d. கேரளா

33. Which one has the sole right to issue bank notes of all denominations?

- A. RBI  
B. Ministry of Finance  
C. Cabinet Committee on Economic affairs  
D. Both (A) and (B)

கீழ்க்கண்டவற்றுள், இந்தியாவில் பணத்தை அச்சிட்டு வெளியிடும் அதிகாரம் யாருடையது?

- A. ரிசர்வ் பேங்க் ஆப் இந்தியா  
B. நிதி அமைச்சகம்  
C. பொருளாதார விவகார அமைச்சகக் குழு  
D. A மற்றும் B

34. Select the followings tax is not a direct tax?

- I. GST      II. Wealth Tax      III. Gift tax  
a. I only      b. I and II only      c. II and III only      d. III only

கீழ்க்கண்ட வரி நேரடி வரி அல்ல

- I. சரக்கு மற்றும் சேவை வரி      II. சொத்து வரி      III. கொடை வரி

- a. I மட்டும்      b. I மற்றும் II மட்டும்      c. II மற்றும் III மட்டும்      d. III மட்டும்

35. Consider the following statements.

Assertion (A): Chennai is nicknamed as "The Detroit of Asia".

Reason (R): Chennai has the largest number of electronic industries in Asia.

- a. Both (A) and (R) are true and (R) is the correct explanation of (A).  
b. (A) is true but (R) is false.  
c. (A) is false but (R) is true  
d. Both (A) and (R) are true and (R) is not the correct explanation of (A).

பின்வருவனவற்றை ஆராய்க.

கூற்று (A): சென்னை ஆசியாவின் டெட்ராய்ட் என்று அழைக்கப்படுகின்றது.

காரணம் (R): சென்னை ஆசியாவிலேயே மிக அதிக அளவிலான மின்னணுத் தொழிற்சாலைகளைக் கொண்டுள்ளது.

- a. (A) மற்றும் (R) இரண்டும் சரி, மேலும் (R) என்பது (A) விற்கு சரியான விளக்கம்.



- b. (A) சரி, ஆனால் (R) தவறு  
 c. (A) தவறு, ஆனால் (R) சரி  
 d. (A) மற்றும் (R) இரண்டும் சரி, மேலும் (R) என்பது (A) விற்கு சரியான விளக்கம் அல்ல

36. The state with lowest birth rate according to the 2011 census

- a. West Bengal                      b. Kerala                      c. Karnataka                      d. Assam

2011-ம் கணக்கெடுப்பின் படி எந்த மாநிலம் குறைவான பிறப்பு விகிதம் கொண்டது?

- a. மேற்கு வங்காளம்                      b. கேரளா                      c. கர்நாடகா                      d. அசாம்

37. Match the following:

List I

a. Population

b. Sex ratio

c. Decadal growth rate

d. Literacy rate

பொருத்துக:

பட்டியல் I

A. மக்கள் அடர்த்தி

B. பாலின விகிதம்

C. பத்தாண்டின் வளர்ச்சி விகிதம்

D. கல்வியறிவு விகிதம்

List II

1. 382 (Per.Sq.km)

2. 943 (Females per 100)

3. 17.64

4. 74.04

பட்டியல் II (Census 2011)

1. 382 (per sq.km)

2. 943 (100-க்கு ஒரு பெண்)

3. 17.64

4. 74.04

	A	B	C	D
a	3	2	1	4
b	4	2	3	1
c	3	1	2	4
d	1	2	3	4

38. Which one of the following statement is not correct?

I. Rajasthan is the largest state of India in area

II. Madhya Pradesh is the second largest state in India in area

III. Maharashtra is the third largest state in India in area

IV. Karnataka is the fourth largest state in India in area

- a. I                      b. II                      c. III                      d. IV

கீழ்க்கண்டவற்றுள் தவறான கூற்று எது?

I. இந்தியாவில் பரப்பளவின் அடிப்படையில் மிகப்பெரிய மாநிலம் ராஜஸ்தான்

II. மத்திய பிரதேசம் இரண்டாவது மிகப்பெரிய மாநிலம் இந்தியாவின் பரப்பளவில்

III. மகாராஷ்டிரம் மூன்றாவது மிகப்பெரிய மாநிலம் இந்தியாவின் பரப்பளவில்

IV. கர்நாடகா நான்காவது மிகப்பெரிய மாநிலம் இந்தியாவின் பரப்பளவில்

- a. I                      b. II                      c. III                      d. IV

39. Match List I with List II and select your answer using the codes given below:

List I

List II

- A. Swayamishidha  
B. STEP  
C. Swadhar  
D. Swalamban

1. Training and Employment programme for woman  
2. Access to micro credit and promoting micro enterprises  
3. To provide holistic and integrated services to woman  
4. To provide training skills to woman for self employment

பட்டியல் I ஐ பட்டியல் II உடன் இணைக்கவும்.

பட்டியல் I

பட்டியல் II

- A. சுவயம்சித்தா  
B. ஸ்டெப்  
C. சுவேதர்

1. பெண்களுக்கான வேலைவாய்ப்பு மற்றும் பயிற்சி திட்டம்  
2. சிறுகடன் மற்றும் சிறுதொழில் முன்னேற்றம்  
3. முழுமையான மற்றும் ஒருங்கிணைந்த சேவையை பெண்களுக்கு வழங்குதல்  
4. பெண்களுக்கு பயிற்சி மற்றும் சுயதொழிலில் புதிய வாய்ப்பு அளிப்பது

D. சுவேலம்பன்

	A	B	C	D
a.	2	1	3	4
b.	1	2	3	4
c.	2	1	4	3
d.	4	1	2	3

40. Match List I with List II:

List I

List II

- A. Absolute Poverty  
B. Chronic Poverty  
C. Secondary Poverty  
D. Urban Poverty

1. Insufficient House keeping  
2. Sub employment  
3. Lack of basic needs  
4. Structural poverty

பட்டியல் I ஐ பட்டியல் II உடன் பொருத்துக.

பட்டியல் I

பட்டியல் II

- A. முழு வறுமை  
B. முந்நிலை வறுமை  
C. இரண்டாம் நிலை  
D. நகர்புற வறுமை

1. திறமையற்ற குடும்ப நிர்வாகம்  
2. வேலை சார்பு  
3. அடிப்படை வசதிகள் இல்லாமை  
4. அமைப்பு சார்ந்த வறுமை

	A	B	C	D
a.	3	4	1	2
b.	4	3	2	1
c.	2	1	3	4
d.	3	1	2	4

41. GST came into effect on \_\_\_ in India.

- A. 29<sup>th</sup> March 2017  
C. 29<sup>th</sup> March 2016

- B. 1<sup>st</sup> July 2017  
D. 1<sup>st</sup> July 2016

GST இந்தியாவில் நடைமுறைக்கு வந்தது

A. 29 மார்ச் 2017

B. 1 ஜூலை 2017

C. 29 மார்ச் 2016

D. 1 ஜூலை 2016

42. The Government of India announced a New Industrial policy on

a. July 24, 1991

b. July 24, 2001

c. August 24, 1991

d. August 24, 2001

இந்திய அரசு புதிய தொழில் கொள்கையை அறிவித்த நாள்

a. ஜூலை 24, 1991

b. ஜூலை 24, 2001

c. ஆகஸ்ட் 24, 1991

d. ஆகஸ்ட் 24, 2001

43. RBI was nationalised in the year

A. 1 January 1969

B. 1 January 1959

C. 1 January 1949

D. 1 January 1939

இந்திய ரிசர்வ் வங்கி தேசியமயமாக்கப்பட்ட ஆண்டு

A. 1 ஜனவரி 1969

B. 1 ஜனவரி 1959

C. 1 ஜனவரி 1949

D. 1 ஜனவரி 1939

44. The chairman of the fifteenth finance commission of India

a. A.K.Chanda b. K.C.Pant

c. Y.V.Reddy

d. N.K.Singh

இந்தியாவின் பதினைந்தாவது நிதிக் குழுவின் தலைவர்

a. ஏ.கே.சந்தா

b. கே.சி.பந்த்

c. ஓய்.வி.ரெட்டி

d. என்.கே.சிங்

45. First Five year plan Model is

a. Mahalanobis Model

b. Garibi Hato Model

c. Nehruvian Model

d. Harrod Domar Model

முதல் ஐந்தாண்டு திட்டம் எந்த திட்ட மாதிரியை அடிப்படையாக கொண்டது

a. மெகலாநோபிஸ் மாதிரி

b. கரிபி ஹட்டோ மாதிரி

c. நேருவின் மாதிரி

d. ஹாராட்-டோமார் மாதிரி

46. The three British Cabinet Members of the Cabinet Mission 1946.

a. Pathick Lawrence, Sir Stafford Cripps, AV Alexander

b. A. V Alexander, Sir Stafford Cripps, Mountbatten

c. Mountbatten, Pathick Lawrence, AV Alexander

d. Sir Stafford Cripps, Pathick Lawrence, Mountbatten

காபினெட் தூதுக் குழு 1946-ல் இடம்பெற்ற பிரிட்டிஷ் அமைச்சரவையைச் சேர்ந்த மூன்று பேர்

a. பெதிக்லாரன்ஸ், சர் ஸ்டாபோர்டு கிரிப்ப்ஸ், ஏ.வி.அலெக்சாந்தர்

b. ஏ.வி.அலெக்சாந்தர், சர் ஸ்டாபோர்டு கிரிப்ப்ஸ், மவுண்ட் பேட்டன்

c. மவுண்ட் பேட்டன், பெதிக்லாரன்ஸ், ஏ.வி.அலெக்சாந்தர்

d. சர் ஸ்டாபோர்டு கிரிப்ப்ஸ், பெதிக்லாரன்ஸ், மவுண்ட் பேட்டன்

47. The Constituent Assembly took the following time in preparing the constitution
- Two years, eleven months, eighteen days
  - Two years, eight months, eleven days
  - Two years, eleven months, eight days
  - Two years, eleven months, eleven days
- அரசியலமைப்பு சட்டத்தை இயற்றுவதற்கு அரசியலமைப்பு நிர்ணய சபை எடுத்துக் கொண்ட கால அளவு
- 2 வருடங்கள், 11 மாதங்கள், 18 நாட்கள்
  - 2 வருடங்கள், 8 மாதங்கள், 11 நாட்கள்
  - 2 வருடங்கள், 11 மாதங்கள், 8 நாட்கள்
  - 2 வருடங்கள், 11 மாதங்கள், 11 நாட்கள்
48. The doctrine "Basic Features" of Indian constitution was propounded in the judgement of
- Krishna Swami V. Union of India, 1992
  - Kesavananda Bharati V. Union of India, 1973
  - S.R. Bommai V. Union of India, 1994
  - Kuldip Nayar V. Union of India, 2006
- இந்திய அரசியலமைப்புச் சாசனத்தின் "அடிப்படைக் கூறுகள்" எனும் கோட்பாடு எந்த வழக்கின் தீர்ப்பில் உருவாக்கப்பட்டது?
- கிருஷ்ணசுவாமி V. இந்திய ஒன்றியம், 1992
  - கேசவானந்த பாரதி V. இந்திய ஒன்றியம், 1973
  - எஸ்.ஆர். பொம்மை V. இந்திய ஒன்றியம், 1994
  - குல்தீப் நாயர் V. இந்திய ஒன்றியம், 2006
49. In which part of the Indian constitution and articles deals with elections
- Part IX, Articles 326 – 328
  - Part XV, Articles 324- 329
  - Part X, Articles 326- 329
  - Part V, Articles 325- 328
- இந்திய அரசியலமைப்பின் எந்த பகுதி மற்றும் உறுப்புகள் தேர்தல் பற்றியதாகும்
- பகுதி IX, உறுப்புகள் 326 – 328
  - பகுதி XV, உறுப்புகள் 324- 329
  - பகுதி X, உறுப்புகள் 326- 329
  - பகுதி V, உறுப்புகள் 325- 328
50. Which rule is known as the heart and soul of the Indian Constitution?
- Article 30
  - Article 31
  - Article 32
  - Article 33
- இந்திய அரசியல் அமைப்பின் இருதயமும் உயிருமாக கருதப்படும் விதி
- விதி 30
  - விதி 31
  - விதி 32
  - விதி 33
51. The Judiciary was separated from the Executive under which article
- Article 50
  - Article 64
  - Article 60
  - Article 51
- நீதி துறையானது நிர்வாக துறையிடம் இருந்து எந்த கீழ்க்கண்ட சட்ட உறுப்பு மூலம் பிரிக்கப்பட்டது?
- சட்ட உறுப்பு 50
  - சட்ட உறுப்பு 64
  - சட்ட உறுப்பு 60
  - சட்ட உறுப்பு 51

52. Which one of the following statements is/are correct?  
 1. The President of India is the head of the State  
 2. All executive powers of the Union are vested by the President  
 a. Only 1                      b. Only 2                      c. 1, 2 both                      d. 1, 2 both are incorrect  
 பின்வருவனவற்றுள் சரியானதை தெரிவு செய்க.  
 1. குடியரசுத் தலைவர் நாட்டின் தலைவர் ஆவார்  
 2. நாட்டின் நிர்வாக ஆதிகாரங்கள் யாவும் குடியரசுத் தலைவரிடம் உள்ளது  
 a. 1 மட்டும்                      b. 2 மட்டும்  
 c. 1 மற்றும் 2 மட்டும்                      d. 1 மற்றும் 2 தவறானவை
53. How many members are nominated for Rajya Sabha?  
 a. 10                      b. 11                      c. 12                      d. 13  
 ராஜ்ய சபாவிற்கு ஒதுக்கப்பட்ட பரிந்துரைக்கப்படும் உறுப்பினர்கள் எத்தனை?  
 a. 10                      b. 11                      c. 12                      d. 13
54. District Judges are appointed by  
 a. Governor                      b. Chief Minister                      c. President                      d. Prime Minister  
 மாவட்ட நீதிபதிகளை நியமிப்பது  
 a. ஆளுநர்                      b. முதல் அமைச்சர்                      c. குடியரசுத் தலைவர்                      d. பிரதமர்
55. The Inter-State council was established in the year  
 a. 1988                      b. 1989                      c. 1990                      d. 1991  
 மாநிலங்களுக்கிடையேயான குழு ஏற்படுத்தப்பட்ட ஆண்டு  
 a. 1988                      b. 1989                      c. 1990                      d. 1991
56. Who appoints the Chief election commissioners of India?  
 a. The President of India                      b. Prime minister of India  
 c. Chief justice of India                      d. Chief secretary of India  
 இந்தியாவின் தலைமை தேர்தல் ஆணையரை நியமிப்பது யார்?  
 a. இந்திய ஜனாதிபதி                      b. இந்திய பிரதமர்  
 c. இந்திய தலைமை நீதிபதி                      d. இந்திய தலைமை செயலாளர்
57. The Comptroller and Auditor General is appointed by the President of India under which Article  
 A. Article 162                      B. Article 148                      C. Article 153                      D. Article 174  
 இந்திய தலைமைத் தணிக்கையாளரை எந்த விதியின் படி குடியரசுத் தலைவர் நியமனம் செய்கிறார்?  
 A. விதி 162                      B. விதி 148                      C. விதி 153                      D. விதி 174
58. State information commission was created by  
 a. Right to Information Act, 2005  
 b. Information Technology Act, 2000  
 c. Whistle Blowers Protection Act, 2011  
 d. Sashastra seema Bal Act, 2007

மாநிலத் தகவல் ஆணையத்தை உருவாக்கியது

- தகவல் உரிமைச் சட்டம், 2005
- தகவல் தொழில்நுட்பச் சட்டம், 2000
- தகவல் வெளிக்கொணர்வோர் பாதுகாப்புச் சட்டம், 2011
- சாசாஸ்த்ரா சீமா பால் சட்டம், 2007

59. Given below the Prime Ministers who decided to implement the Mandal Commission Report?

- V.P. Singh
- Morarji Desai
- Rajiv Gandhi
- Indira Gandhi

கீழ்க்கண்ட பிரதமர்களில் மண்டல் கமிஷன் அறிக்கையை நடைமுறைப்படுத்த முடிவு செய்தவர் யார்?

- வி.பி. சிங்
- மொராஜி தேசாய்
- ராஜீவ் காந்தி
- இந்திரா காந்தி

60. The concept of 'Judicial Review' was borrowed from

- UK Constitution
- USA Constitution
- Weimar Constitution of Germany
- Canadian Constitution

"நீதி புணராய்வு" கருத்துரு \_\_\_\_\_ அரசியலமைப்பிலிருந்து பெறப்பட்டது.

- இங்கிலாந்து அரசியலமைப்பு
- அமெரிக்க அரசியலமைப்பு
- வெய்மர் ஜெர்மனி அரசியலமைப்பு
- கனடா அரசியலமைப்பு

61. Who is the chief legal adviser of the Government of India?

- Chief Justice of India
- Attorney General of India
- Union Law Minister
- Cabinet Secretary

இந்திய அரசின் தலைமை சட்ட ஆலோசகர் யார்?

- உச்சநீதிமன்ற தலைமை நீதிபதி
- மத்திய அரசின் தலைமை வழக்கறிஞர்
- மத்திய சட்ட அமைச்சர்
- அமைச்சர் குழு செயலர்

62. Who among the following elected as a Temporary Chairman of the first meeting of the Indian Constitution Assembly?

- J.B. Kripalani
- Dr. Sachchidananda Sinha
- Dr. Rajendra Prasad
- Dr. B.R. Ambedkar

இந்திய அரசமைப்பு நிர்ணய சபை - முதல் கூட்டத்தின் தற்காலிக தலைவராக தேர்வு செய்யப்பட்டவர் யார்?

- ஜே.பி. கிருபாளானி
- டாக்டர். சச்சிதானந்த சின்ஹா
- டாக்டர்.ராஜேந்திர பிரசாத்
- டாக்டர். பி.ஆர். அம்பேத்கார்

63. Assertion (A) : The 42nd Constitution Amendment has been referred to as the 'Mini Constitution'

Reason (R) : It was the bulkiest and most comprehensive amendment.

- Both (A) and (R) are true and (R) is the correct explanation of (A)
- Both (A) and (R) are true but (R) is not the correct explanation of (A)
- (A) is true, (R) is false.
- (A) is false, (R) is true.

கூற்று (A) : 42வது அரசியலமைப்பு திருத்தச்சட்டம் ஒரு குறு அரசியலமைப்பு என்று குறிப்பிடப்படுகிறது.

காரணம்(R): அதிகமான விதிகளை கொண்டு ஒருங்கிணைக்கப்பட்ட திருத்தச்சட்டம்.

a. கூற்று (A)ம் காரணம் (R)ம் சரியானவைகள் ஆகும், காரணம் (R) கூற்று (A)க்கான சரியான விளக்கமாகும்.

b. கூற்று (A)ம் காரணம் (R)ம் சரியானவைகளாகும். ஆனால் காரணம் (R) கூற்று (A)க்கான சரியாக விளக்கவில்லை.

c. (A) கூற்று சரி ஆனால் காரணம் (R) தவறு.

d. (A) கூற்று தவறு ஆனால் காரணம் (R) சரி

64. Consider the following statements on Fundamental Duties:

1. Parliament cannot enforce it by a legislation
2. It is applicable only to Indian citizens
3. All Fundamental duties are either moral or civil duties
4. Paying taxes is a fundamental duty.

Which of the above statements are true?

a. 2, 3 and 1 are correct

b. 1, 2, 3 and 4 are correct

c. 2 and 3 are correct

d. 1, 3 and 4 are correct

அடிப்படைக் கடமைகளை தொடர்பான கீழ்க்கண்ட வாக்கியங்களை கவனிக்கவும்

1. நாடாளுமன்றம் சட்டத்தின் மூலம் இதை அமல்படுத்த முடியாது
  2. இது இந்திய குடிமக்களுக்கே பொருந்தும்
  3. அனைத்து அடிப்படை கடமைகளும் ஒழுக்க நெறிகளையோ அல்லது குடிமை கடமைகளையோ அடிப்படையாக கொண்டவை.
  4. அரசுக்கு வரிகளை செலுத்துவதும் ஒரு அடிப்படை கடமை
- மேற் கூறப்பட்டுள்ளவற்றுள் எவை சரியானவை?

a. 2, 3 மற்றும் 1 சரியானவை

b. 1, 2, 3 மற்றும் 4 சரியானவை

c. 2 மற்றும் 3 சரியானவை

d. 1, 3 மற்றும் 4 சரியானவை

65. Identify the fundamental duty that was added in 2002 by the 86<sup>th</sup> Amendment Act.

- a. Respect National Flag
- b. Defend our country
- c. Develop Scientific Temper
- d. To provide opportunities for education to children between the age of 6-14 years.

2002 ல் 86 ம் அரசியல் சாசன திருத்தல் சட்டம் மூலமாக சேர்க்கப்பட்ட அடிப்படை கடமையை கண்டறிக.

a. தேசிய கொடியை மதித்தல்

b. நமது நாட்டை பாதுகாத்தல்

c. அறிவியல் உணர்வை மேம்படுத்துதல்

d. 6 முதல் 14 வயது குழந்தைகளுக்கான கல்வி கற்கும் வாய்ப்பு வழங்குதல்

66. Match the following

A. Article 39(b)

1. Protection of Ecology, Environment from Pollution

B. Article 48(A)

2. Equal pay for Equal work

C. Article 39(d)

3. Free legal aid to the poor

D. Article 39(A)

4. Abolished hereditary property

கீழ்க்கண்டவற்றை பொருத்துக:

A. சட்ட உறுப்பு (39 (b))

B. சட்ட உறுப்பு 48(A)

C. சட்ட உறுப்பு 39(d)

D. சட்ட உறுப்பு 39(A)

	A	B	C	D
a.	1	2	3	4
b.	4	1	2	3
c.	4	3	2	1
d.	4	1	3	2

1. சூழலியல் மற்றும் சுற்றுச் சூழல் மாசுபாட்டிலிருந்து பாதுகாப்பு
2. சம வேலைக்கு சம ஊதியம்
3. ஏழை எளிய மக்களுக்கு இலவச சட்ட உதவி
4. பரம்பரை சொத்துடமை அழித்தல்

67. Match List I (Article) with List II (Powers of President of India)

List I

Art. 53

Art. 352

Art. 76

Art. 75

(ஐனாதிபதி பற்றிய) பட்டியல் I பட்டியல் II உடன் ஒப்பிடுக:

பட்டியல் I

விதி 53

விதி 352

விதி 76

விதி 75

	A	B	C	D
a.	1	3	4	2
b.	3	1	4	2
c.	3	4	2	1
d.	4	2	3	1

List II

1. National emergency

2. Appointment of Prime Minister

3. Executive power of the Union vested with the President

4. Appointment of Attorney General of India

பட்டியல் II

1. தேசிய அவசர நிலை

2. பிரதமர் நியமனம்

3. மத்திய அரசின் இந்தியாவின் நிர்வாக அதிகாரம் குடியரசுத் தலைவரிடம் உள்ளது

4. இந்திய தலைமை வழக்குரைஞர் நியமனம்

68. Consider the following statements:

I. The Constitution of India establishes a Parliamentary form of Government.

II. Prime Minister is the Head of the Government

III. President is the Head of the Government

IV. Real executive power rests with the President of India

Choose the correct answer from the following:

a. I and II only true

b. III only correct

c. II and IV only correct

d. IV only correct

கீழ்க்கண்ட கூற்றை கருதவும்

I. இந்திய அரசியலமைப்புச் சட்டம் பாராளுமன்ற அரசாங்க முறையை நிறுவியுள்ளது

II. பிரதமர் அரசாங்கத்தின் தலைவர் ஆவார்

III. குடியரசுத் தலைவர் அரசாங்கத்தின் தலைவர் ஆவார்



IV. குடியரசு தலைவர் உண்மையான செயலாட்சி அதிகாரம் கொண்டவர் சரியான விடையை கண்டறிக.

- a. I மற்றும் II மட்டும் சரி  
b. III மட்டும் சரி  
c. II மற்றும் IV மட்டும் சரி  
d. IV மட்டும் சரி

69. Consider the Articles under 73<sup>rd</sup> constitutional Amendment Act 1992.

- A. Article 243 A  
B. Article 243 D  
C. Article 243 I  
D. Article 243 K
1. Gram Sabha  
2. Reservation of seats  
3. State Finance Commission  
4. State Election Commission

73வது அரசியலமைப்புத் திருத்தச் சட்டம் 1992-ன் சரத்துகளைக் கருதுக.

- A. சட்டக்கூறு 243 A  
B. சட்டக்கூறு 243 D  
C. சட்டக்கூறு 243 I  
D. சட்டக்கூறு 243 K
1. கிராம சபா  
2. இட ஒதுக்கீட்டு முறை  
3. மாநில நிதிக்குழு  
4. மாநில தேர்தல் ஆணையம்

	A	B	C	D
a.	1	2	3	4
b.	1	3	2	4
c.	1	2	4	3
d.	2	1	3	4

70. Match following with correct options regarding constitution

- A. First meeting of constituent assembly  
B. Adoption of constitution  
C. Constitution came into force  
D. Introducing objective resolution
1. November 26, 1949  
2. 26 January 1950  
3. 13 December 1946  
4. 9 December 1946  
5. 13 December 1947  
6. 9 December 1947

இந்திய அரசியல் அமைப்புச் சட்டம் அடிப்படையிலான கீழ்க்கண்ட தகவல்களை பொருத்துக:

- A. முதல் அரசியல் அமைப்பு சட்ட கூட்டம் நடந்த நாள்  
B. அரசியல் அமைப்புச் சட்டத்தை ஏற்ற நாள்  
C. அரசியல் அமைப்புச் சட்டம் அமல்படுத்தப்பட்ட / நடைமுறைக்கு வந்த நாள்  
D. குறிக்கோள் தீர்மானம் அறிமுகமான நாள்
1. நவம்பர் 26, 1949  
2. ஜனவரி 26, 1950  
3. டிசம்பர் 13, 1946  
4. டிசம்பர் 9, 1946  
5. டிசம்பர் 13, 1947  
6. டிசம்பர் 9, 1947

	A	B	C	D
a.	6	1	2	5
b.	6	2	1	5
c.	4	1	2	3
d.	4	2	1	3

71. Match the following with correct options.

A Chairman of drafting committee

B. Permanent President of constituent assembly

C. Vice-president of assembly

D. Calligrapher of the Indian Constitution

1. H.C. Mukherjee

2. Prem Behari Narain Raizada

3. Dr. B.R. Ambedkar

4. Dr. Rajendra Prasad

பொருத்துக:

A. வரைவுக் கமிட்டியின் தலைவர்

B. அரசியல் அமைப்பு அவைத் தலைவர்

C. அவையின் துணைத் தலைவர்

D. வடிவமைப்பாளர் (அரசியலமைப்பு

சட்டத்தை எழுதியவர்)

A B C D

a. 1 3 4 2

b. 3 4 2 1

c. 3 2 4 1

d. 3 4 1 2

1. H.C. முக்கர்ஜி

2. பிரேம் பெஹரி நாராயண ரெய்சாடா

3. Dr. B.R. அம்பேத்கார்

4. Dr. ராஜேந்திர பிரசாத்

72. Consider following statements and choose the correct option.

I. Jammu and Kashmir under Article 370 has a separate Constitution.

II. Constitution was adopted on 17 November 1956 and came into force on 26 January 1957.

a. I only

b. Both I and II

c. II only

d. None of above

கீழ்க்கொடுத்துள்ள தகவல்கள் சரியானதா எனத் குறிப்பிடவும்.

I. அரசியல் அமைப்புச் சட்டத்தின் சட்டகூறு 370, ஜம்மு காஷ்மீருக்கான தனிப்பட்ட ஷரத்துக்களைக் கொண்டுள்ளது

II. நவம்பர் 17, 1956ல் அரசியலமைப்பு சட்டம் ஏற்கப்பட்டது. அது ஜனவரி 26, 1957ல் அமலுக்கு வந்தது.

a. I மட்டும்

b. I மற்றும் II

c. II மட்டும்

d. ஏதுவுமில்லை

73. Match the following:

A. Chipko movement

B. Appiko movement

C. Bishnoi movement

D. Silent valley

1. Uttarakhand

2. Karnataka

3. Rajasthan

4. Kerala

பொருத்துக.

A. சிப்கோ இயக்கம்

B. அப்பிக்கோ இயக்கம்

C. பீஸ்நாய் இயக்கம்

D. அமைதிப் பள்ளத்தாக்கு இயக்கம்

1. உத்தரகாண்ட்

2. கர்நாடகா

3. ராஜஸ்தான்

4. கேரளா

A B C D

a. 1 2 3 4

b. 2 3 4 1

c. 3 4 1 2

d. 4 1 2 3

74. Match the following
- |                                 |         |
|---------------------------------|---------|
| A. Madras municipal corporation | 1. 1757 |
| B. Lord Ripon's Resolution      | 2. 1992 |
| C. Nagarpalika Act              | 3. 1882 |
| D. Battle of Plassey            | 4. 1687 |

பொருத்துக:

- |                                |         |
|--------------------------------|---------|
| A. மெட்ராஸ் மாநகராட்சி         | 1. 1757 |
| B. ரிப்பன் பிரபுவின் தீர்மானம் | 2. 1992 |
| C. நகர்பாலிகா சட்டம்           | 3. 1882 |
| D. பிளாசிப்போர்                | 4. 1687 |

- |    | A | B | C | D |
|----|---|---|---|---|
| a. | 4 | 3 | 2 | 1 |
| b. | 1 | 3 | 2 | 4 |
| c. | 3 | 4 | 2 | 1 |
| d. | 1 | 2 | 3 | 4 |

75. Which Articles mention about money Bill in parliament and state legislature?

- |                       |                       |
|-----------------------|-----------------------|
| a. Art. 110, Art. 199 | b. Art. 110, Art. 191 |
| c. Art 112, Art. 191  | d. Art. 112, Art. 189 |

நாடாளுமன்றம் மற்றும் மாநில சட்டமன்றத்தில் பண மசோதா பற்றி குறிப்பிடும் சட்டக்கூறுகள் எவை?

- |                           |                           |
|---------------------------|---------------------------|
| a. சரத்து 110, சரத்து 199 | b. சரத்து 110, சரத்து 191 |
| c. சரத்து 112, சரத்து 191 | d. சரத்து 112, சரத்து 189 |

76. Article 51(A) of the Indian Constitution deals

- Fundamental Rights
- Fundamental Duties
- Directive principles of State Policy
- Amendment of the constitution

இந்திய அரசியலமைப்பு விதி 51(A) வானது எதைப் பற்றி குறிப்பிடுகிறது?

- அடிப்படை உரிமைகள்
- அடிப்படை கடமைகள்
- அரசு வழிகாட்டும் நெறிமுறைக் கோட்பாடு
- அரசியலமைப்பு சட்ட திருத்தம்

77. The sequence in which the given terms are mentioned in the preamble to the constitution of India is:

- Sovereign, Socialist, Secular, Democratic, Republic
- Socialist, Secular, Sovereign, Democratic, Republic
- Secular, Sovereign, Democratic, Socialist, Republic
- Sovereign, Democratic, Secular, Socialist, Republic

அரசியலமைப்பில் முகப்புரையில் குறிப்பிடப்பட்டுள்ள கொள்கையின் சரியான வரிசை.

- இறையாண்மை, சமதர்மம், சமயசார்பற்ற மக்களாட்சி, குடியாட்சி
- சமதர்மம், சமயசார்பற்ற, இறையாண்மை, மக்களாட்சி, குடியாட்சி

- c. சமயசார்பற்ற, இறையாண்மை, மக்களாட்சி, சமதர்மம், குடியாட்சி  
d. இறையாண்மை, மக்களாட்சி, சமயசார்பற்ற, சமதர்மம், குடியாட்சி

78. The Indian citizenship act was passed on  
a. 1952                      b. 1953                      c. 1954                      d. 1955  
இந்திய குடியரிமை சட்டம் நிறைவேற்றப்பட்ட ஆண்டு எது?  
a. 1952                      b. 1953                      c. 1954                      d. 1955

79. Dr.P.V. Rajamannar Committee, was set up in 1969  
a. To review the Centre - State relations  
b. To study the Kashmir issue  
c. To study the Indo-Sri Lankan issue  
d. To review defence Administration

1969 -ல் Dr.P.V. ராஜமன்னார் குழு, ஏற்படுத்தப்பட்டது

- a. மத்திய - மாநில உறவுகளை ஆய்வதற்கு  
b. காஷ்மீர் பிரச்சனையை தெரிந்து கொள்வதற்கு  
c. இந்திய இலங்கை பிரச்சனையை தெரிவதற்கு  
d. பாதுகாப்பு நிர்வாகத்தை ஆய்வதற்கு

80. The right of property was removed from the list fundamental rights by the  
a. 46<sup>th</sup> Amendment Act 1982                      b. 42<sup>nd</sup> Amendment Act 1976  
c. 44<sup>th</sup> Amendment Act 1978                      d. 47<sup>th</sup> Amendment Act 1987  
சொத்துரிமையானது அடிப்படை உரிமைகள் பட்டியலிலிருந்து எடுக்கப்பட்ட  
சட்டத்திருத்தம்  
a. 46 ஆவது திருத்தச் சட்டம் 1982                      b. 42 ஆவது திருத்தச்சட்டம் 1976  
c. 44 ஆவது திருத்தச் சட்டம் 1978                      d. 47 ஆவது திருத்தச்சட்டம் 1987

81. Match the following:

Schedule

- A. First Schedule  
B. Eleventh Schedule  
C. Seventh Schedule  
D. Eighth Schedule

Subject

1. Division of powers between union and states  
2. Languages  
3. Names of states and union territories  
4. Panchayats

கீழ்க்கண்டவற்றை பொருத்துக.  
பட்டியல்

A. முதல் பட்டியல்

B. பதினொன்றாம் பட்டியல்

C. ஏழாம் பட்டியல்

D. எட்டாம் பட்டியல்

பொருள்

1. மத்திய அரசு மற்றும் மாநிலங்கள் இடையேயான அதிகார பகிர்வு

2. மொழிகள்

3. மாநிலங்கள் மற்றும் யூனியன் பிரதேசங்களின் பெயர்

4. பஞ்சாயத்து

	A	B	C	D
a.	3	4	1	2
b.	1	3	4	2
c.	2	1	3	4
d.	3	1	4	2

82. Which one of the following pair is not matched properly?

- a. National commission for backward class - 1994
- b. National commission for women - 1992
- c. National Human Rights commission - 1993
- d. National commission for minorities - 1993

கீழ்க்கண்டவற்றில் எவை சரியாக பொருந்தவில்லை?

- a. பிற்படுத்தப்பட்டோருக்கான தேசிய ஆணையம் - 1994
- b. மகளிர்கான தேசிய ஆணையம் - 1992
- c. தேசிய மனித உரிமை ஆணையம் - 1993
- d. சிறுபான்மையினருக்கான தேசிய ஆணையம் - 1993

83. "The Right to information Act" was passed by parliament on

- A. 20 October 2005
- B. 21 October 2005
- C. 25 October 2005
- D. 12 October 2005

'தகவல் அறியும் உரிமைச் சட்டம்' பாராளுமன்றத்தில் நிறைவேற்றப்பட்ட நாள்

- A. 20 அக்டோபர் 2005
- B. 21 அக்டோபர் 2005
- C. 25 அக்டோபர் 2005
- D. 12 அக்டோபர் 2005

84. Match the following and choose the correct option

- a. Berubari Union case 1. 1967
- b. Kesavananda Bharti case 2. 1980
- c. Minerva mills case 3. 1973
- d. Golak Nath case 4. 1960

பொருத்துக:

பின்வருவனவற்றை பொருத்தி சரியான விடையை தேர்வு செய்க.

- a. பெருபாரி யூனியன் வழக்கு 1. 1967
- b. கேசாவானந்தா பாரதி வழக்கு 2. 1980
- c. மினர்வா மில்ஸ் வழக்கு 3. 1973
- d. கோலக்நாத் வழக்கு 4. 1960

- |    |   |   |   |   |
|----|---|---|---|---|
|    | a | b | c | d |
| A. | 4 | 3 | 2 | 1 |
| B. | 2 | 4 | 3 | 1 |
| C. | 4 | 3 | 1 | 2 |
| D. | 3 | 4 | 1 | 2 |

85. Which article empowers the president of India to promulgate ordinance during the recess of the parliament எந்த அரசியலமைப்பு விதி

- A. Art. 120
- B. Art. 121
- C. Art. 122
- D. Art. 123

நாடாளுமன்றத்தின் கூட்டத்தொடர் இல்லாதபோது குடியரசு தலைவர் அவசர சட்டங்களை இயற்ற வழிவகுக்கின்றது?

- A. Art. 120
- B. Art. 121
- C. Art. 122
- D. Art. 123

86. Match the following

Preamble as

- A. Political Horoscope
- B. Keynote to the Constitution
- C. Soul of the Constitution
- D. Paradise of Lawyers

Said by

- 1. Sir Ivor Jennings
- 2. Thakurdas Bhargav
- 3. B.R. Ambedkar
- 4. K.M. Munish
- 5. Earnest Barker

பொருத்துக:

முகப்புரையின் பதம்

- A. அரசியல் ஜாதகம்
- B. அரசியலமைப்பின் சாவி
- C. அரசியலமைப்பின் ஆன்மா
- D. வழக்கறிஞர்களின் சொர்க்கம்

கூறியவர்

- 1. சர் ஐவர் ஜென்னிங்
- 2. தாகூர்தாஸ் பர்கவ்
- 3. பி.ஆர். அம்பேத்கர்
- 4. கே.எம். முன்சி
- 5. எர்னஸ்ட் பார்க்கர்

	A	B	C	D
a.	1	2	3	4
b.	2	1	4	5
c.	4	5	2	1
d.	1	4	3	2

87. Match the following committees with their purpose of setting up (Panchayat Raj Committees)

Committees

- A. L.M. Singhvi Committee
- B. G.V.K. Rao Committee
- C. Balwant Rai Mehta Committee
- D. Ashok Mehta Committee
- E. Answer not known

Purpose

- 1. Administrative arrangement for rural development
- 2. Community development Programme
- 3. Revival and strengthening of Panchayat System
- 4. Revitalisation of Panchayat Raj Institutions

	A	B	C	D
a.	1	3	2	4
b.	4	3	2	1
c.	4	1	2	3
d.	3	1	4	2

e. Answer not known

கீழ்க்காணப்படும் குழுக்களை அதன் அமைப்பு நோக்கத்துடன் பொறுத்தவும் (பஞ்சாயத்து ராஜ் குழு)

குழு

- A. எல்.எம்.சிங்வி குழு
- B. G.V.K. ராவ் குழு
- C. பல்வந் ராய் மேத்தா குழு
- D. அசோக் மேத்தா குழு

நோக்கம்

- 1. கிராமப்புற மேம்பாட்டுக்கான நிர்வாக ஏற்பாடு
- 2. சமூக அபிவிருத்தி திட்டம்
- 3. புத்துயிர் அளித்தல் மற்றும் பஞ்சாயத்து முறையை வலுப்படுத்துதல்
- 4. பஞ்சாயத்து ராஜ் நிறுவனங்களின் புத்துயிர்

	A	B	C	D
a.	1	3	2	4
b.	4	3	2	1
c.	4	1	2	3
d.	3	1	4	2

88. Match following with correct option.

National symbol	Date of Adoption
A. National Anthem	1. 2012
B. Emblem	2. 22 March 1957
C. Lactobacillus	3. 26 January 1950
D. Calendar	4. 24 January 1950

	A	B	C	D
a.	1	2	4	3
b.	4	3	2	1
c.	1	2	3	4
d.	4	3	1	2

பொருத்துக:

தேசிய சின்னம்

ஏற்றுக்கொள்ளப்பட்ட தினம்

A. தேசிய கீதம்

1. 2012

B. சின்னம்

2. 22 மார்ச் 1957

C. லாக்டோபஸிலஸ்

3. 26 ஜனவரி, 1950

D. நாட்காட்டி

4. 24 ஜனவரி 1950

	A	B	C	D
a.	1	2	4	3
b.	4	3	2	1
c.	1	2	3	4
d.	4	3	1	2

89. Match following with correct options.

Provision	Source
A. Liberty and Equality	1. USSR
B. Fundamental rights	2. France
C. Directive principles	3. USA
D. Fundamental duties	4. Canada
	5. Ireland

	A	B	C	D
a.	1	3	5	4
b.	2	3	5	1
c.	2	3	5	4
d.	2	3	4	1

பொருத்துக:  
கருத்து

- A. சமத்துவ மற்றும் சுதந்திரம்  
B. அடிப்படை உரிமைகள்  
C. அரசு நெறிமுறைக் கோட்பாடுகள்  
D. அடிப்படைக் கடமைகள்

	A	B	C	D
a.	1	3	5	4
b.	2	3	5	1
c.	2	3	5	4
d.	2	3	4	1

எந்நாட்டிலிருந்து கொள்கை ஆதாரம்  
எடுத்துக்கொள்ளப்பட்டது.

1. USSR  
2. பிரான்ஸ்  
3. (USA) அமெரிக்க ஐக்கிய நாடு  
4. கனடா  
5. அயர்லாந்து

90. Match following with correct options.

Position	Minimum age
A. President	1. 30 Years
B. Vice president	2. 25 years
C. Lok Sabha	3. 35 years
D. Rajya Sabha	4. 35 years

	A	B	C	D
a.	1	3	2	4
b.	3	1	2	4
c.	3	4	1	2
d.	3	4	2	1

பொருத்துக:  
பதவி

- A. குடியரசுத் தலைவர்  
B. குடியரசுத் துணைத்தலைவர்  
C. லோக் சபா  
D. ராஜ்யசபா

குறைந்த பட்ச வயது

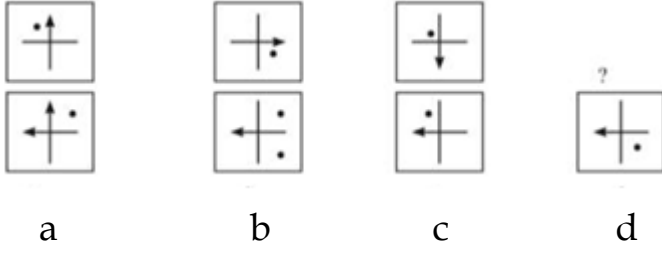
1. 30 வயது  
2. 25 வயது  
3. 35 வயது  
4. 35 வயது

	A	B	C	D
a.	1	3	2	4
b.	3	1	2	4
c.	3	4	1	2
d.	3	4	2	1

91. What is the next logical image in the sequence?

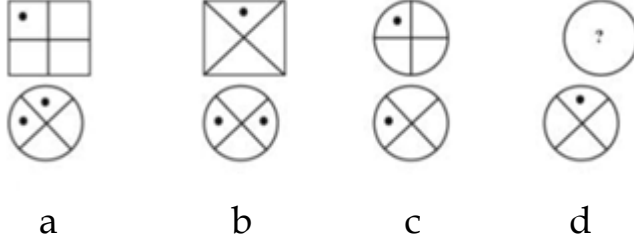
கொடுக்கப்பட்டுள்ள நான்கு படங்களில் எந்த படம் முதலிலுள்ள படவரிசையில்  
அடுத்ததாக வரக்கூடியது எது?





92. What is the next logical image in the sequence?

கொடுக்கப்பட்டுள்ள நான்கு படங்களில் எந்த படம் முதலிலுள்ள படவரிசையில் அடுத்ததாக வரக்கூடியது எது?



93. In a certain code, '467' means 'leaves are green', '485' means 'green is good' and '639' means 'they are playing'. Which digit stands for 'leaves' in that code?

a. 4                      b. 6                      c. 7                      d. 3

ஒரு குறிப்பிட்ட மொழியில் '467' என்பது 'leaves are green' '485' என்பது 'Green is good' '639' என்பது 'They are playing' அதே மொழியில் 'leaves' என்பதை குறிக்கும் எண்?

a. 4                      b. 6                      c. 7                      d. 3

94. If a certain language 'BUILT' means '5#32@', and 'TRIBE' means '@835©'? How is 'RULE' coded?

a. 8#2©                      b. 92@@                      c. 9#@2                      d. 9@#2

ஒரு குறிப்பிட்ட மொழியில் 'BUILT' என்பது '5#32@' என்றும் 'TRIBE' என்பது '@835©' என்றும் குறிப்பிட்டால் 'RULE' என்பது எவ்வாறு எழுதலாம்?

a. 8#2©                      b. 92@@                      c. 9#@2                      d. 9@#2

95. If a certain language 'DOME' means '8943' and 'MEAL' means '4321'? How is '38249' coded?

a. FUBNO                      b. UFNBM                      c. BNFUE                      d. EDAMO

ஒரு குறிப்பிட்ட மொழியில் 'DOME' என்பது '8943' என்றும் 'MEAL' என்பது '4321' எனில் '38249' எதைக் குறிக்கும்?

a. FUBNO                      b. UFNBM                      c. BNFUE                      d. EDAMO

96. If book is called watch, watch is called bag, bag is called dictionary and dictionary is called window, which is used to carry the books?

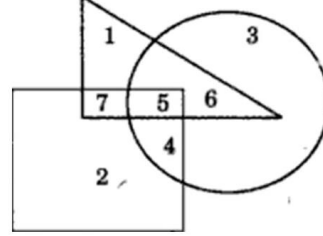
a. Dictionary                      b. Bag                      c. Book                      d. Watch

புத்தகம் கடிக்காரமாகவும், கடிக்காரம் பையாகவும், பை அகராதியாகவும், அகராதி ஜன்னலாகவும் கூறப்பட்டால் புத்தகத்தை எடுத்தசெல்ல பயன்படுத்துவது எது?

a. அகராதி                      b. பை                      c. புத்தகம்                      d. கடிக்காரம்

The following questions are based on the diagram given below. In the diagram, the triangle stands for graduates, square stands for membership of professional organizations and the circle stands for membership of social organizations. Read each statement and find out the appropriate number(s) to represent the people covered by the given statement.

கீழ்க்காணும் படத்தில் முக்கோணம் பட்டதாரிகளையும், சதுரம் தொழிற்சங்க உறுப்பினர்களையும், வட்டம் சமூக சங்க உறுப்பினர்களையும் குறிக்கிறது. எண்கள் நபர்களின் எண்ணிக்கையாகும்.



97. Number of graduates in social organisations?

தொழிற் சங்க உறுப்பினர்களாக மட்டும் உள்ள பட்டதாரிகளின் எண்ணிக்கை?

- a. 1      b. 5      c. 6      d. 7

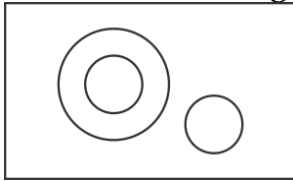
98. In each of the following questions, choose the Venn diagram which best illustrates the relationship among three given items.

Elephants, Wolves, animals

கொடுக்கப்பட்ட வென் படங்களில் வினாக்களுக்கு ஏற்ற சரியான விடையை தேர்ந்தெடு. யானைகள், ஓநாய்கள், விலங்குகள்

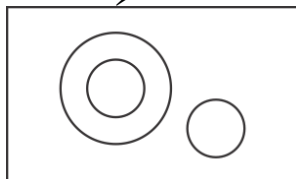
- a. b. c. d.

99. Which of the following sets is best represented in the given diagram?



- a. Animals, Insects, Cockroaches  
b. Animals, Male, Females and Hermaphrodites  
c. States, Districts, Union Territories  
d. Country, States, Districts

கொடுக்கப்பட்ட வரைபடம் பின்வரும் தொகுப்புகளில் எதை குறிப்பிடப்படுகிறது?



- a. விலங்குகள், பூச்சிகள், கரப்பான் பூச்சிகள்  
b. விலங்குகள், ஆண், பெண்கள் மற்றும் ஹெர்மாஃப்ரோடைட்டுகள்

- c. மாநிலங்கள், மாவட்டங்கள், யூனியன் பிரதேசங்கள்  
d. நாடு, மாநிலங்கள், மாவட்டங்கள்

100. Dog: Rabies: : Mosquito : ?  
a. Plague                      b. Death                      c. Malaria                      d. Sting  
நாய் : ராபீஸ் : : கொசு : ?  
a. பிளேக்                      b. மரணம்                      c. மலேரியா                      d. கொடுக்கு
101. "Grapes" is related to "Fruits" in the same way as "Pepper" is related to "\_\_\_\_\_".  
a. Spices                      b. Cereals                      c. Dry Fruits                      d. Pulses  
திராட்சை என்பது பழத்துடன் தொடர்புபடுத்தினால் மிளகு என்பது அவ்வகையில் எதனுடன் ஒப்பும்?  
a. மசாலா                      b. சிறுதானியங்கள்                      c. உலர் பழங்கள்                      d. பருப்புகள்
102. Arrange the given words in a meaningful sequence and then choose the most appropriate sequence from amongst the alternatives provided below each question.  
1) Table    2) Tree    3) Wood    4) Seed    5) Plant  
a. 4,5,3,2,1                      b. 4,5,2,3,1                      c. 5,4,3,2,1                      d. 3,1,4,5,2  
கீழே கொடுக்கப்பட்டுள்ள வார்த்தைகளை அர்த்தமுள்ள வரிசையில் வகைப்படுத்தி அதன் வரிசையை கொடுக்கப்பட்டுள்ள நான்கு விருப்பங்களில் தெரிவு செய்க.  
1. மேசை    2. மரம்    3. மரக்கட்டை    4. விதை    5. செடி  
a. 4,5,3,2,1                      b. 4,5,2,3,1                      c. 5,4,3,2,1                      d. 3,1,4,5,2
103. Arrange the given words in a meaningful sequence and then choose the most appropriate sequence from amongst the alternatives provided below each question.  
1) Milky way    2) Sun    3) Moon    4) Earth    5) Stars  
a. 4,3,2,5,1                      b. 3,4,2,1,5                      c. 3,4,2,5,1                      d. 2,3,4,5,1  
கீழே கொடுக்கப்பட்டுள்ள வார்த்தைகளை அர்த்தமுள்ள வரிசையில் வகைப்படுத்தி அதன் வரிசையை கொடுக்கப்பட்டுள்ள நான்கு விருப்பங்களில் தெரிவு செய்க.  
1. பால்வெளி அண்டம்                      2. சூரியன்                      3. சந்திரன்  
4. பூமி                      5. நட்சத்திரம்  
a. 4,3,2,5,1                      b. 3,4,2,1,5                      c. 3,4,2,5,1                      d. 2,3,4,5,1
104. Arrange the given words in a Alphabetical order and then choose the most appropriate sequence from amongst the alternatives provided below each question.  
கொடுக்கப்பட்டுள்ள சொற்களை ஆங்கில வரிசைப்படி வகைப்படுத்தி, கொடுக்கப்பட்ட நான்கு விருப்பங்களில் இருந்து சரியான வரிசையை தெரிவு செய்க.  
1) Intrinsic    2) Intrude    3) Intricate    4) Introvert    5) Intrigue  
a. 3,5,1,4,2                      b. 3,5,2,4,1                      c. 3,5,1,2,4                      d. 3,5,4,1,2

105. Neelam, who is Deepak's daughter, says to Deepika, "Your mother Rekha is the younger sister of my father who is the third child of Ramlal." How is Ramlal related to Deepika?

- a. Uncle    b. Father    c. Grandfather    d. Father-in-Law

தீபக்கின் மகளான நீலம், தீபிகாவிடம், "ராமின் மூன்றாவது குழந்தையாகிய என் தந்தையின் இளைய சகோதரி உன் தாயார் ரேகா" என்றார். ராம் தீபிகாவுக்கு என்ன உறவு?

- a. மாமா    b. தந்தை    c. தாத்தா    d. மாமனார்

106. One term in the number series is wrong. Find out the wrong term.

கொடுக்கப்பட்ட எண் தொடர்வரிசையில் தவறாக உள்ள எண்ணை தேர்ந்தெடு. 196, 169, 144, 121, 80

- a. 80    b. 121    c. 169    d. 196


107. One term in the number series is wrong. Find out the wrong term.

கொடுக்கப்பட்ட எண் தொடர்வரிசையில் தவறாக உள்ள எண்ணை தேர்ந்தெடு. 5, 10, 40, 80, 320, 550, 2560

- a. 80    b. 320    c. 550    d. 2560

108. Which figure will complete the image?

கொடுக்கப்பட்ட படம் (x) ஐ நிறைவு செய்யக்கூடிய படத்தை நான்கு விருப்பங்களில் இருந்து தேர்ந்தெடு.



(X)



(1)



(2)



(3)



(4)

- a. 1    b. 2    c. 3    d. 4

109. Which figure will complete the image?

கொடுக்கப்பட்ட படம் (x) ஐ நிறைவு செய்யக்கூடிய படத்தை நான்கு விருப்பங்களில் இருந்து தேர்ந்தெடு.



(X)



(1)



(2)



(3)

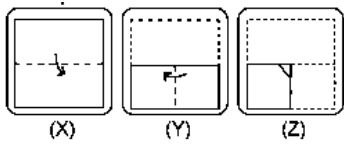


(4)

- a. 1    b. 2    c. 3    d. 4

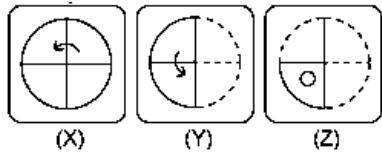
110. The sequence of folding a piece of paper and the manner in which the folded paper has been cut is shown in the figures. How would this paper look when unfolded? Choose from the option figures A, B, C and D.

ஒரு காகிதத்தை மடிக்கும் வரிசைமுறைகளும் அதை வெட்டும் முறையும் கொடுக்கப்பட்டுள்ளது. அந்த காகிதத்தை விரித்தால் அது எவ்வாறு இருக்கும் என்பதை கொடுக்கப்பட்ட நான்கு படங்களில் இருந்து சரியான ஒன்றை தேர்ந்தெடுக்கவும்.



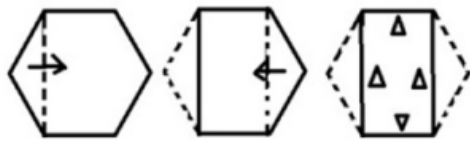
111. The sequence of folding a piece of paper and the manner in which the folded paper has been cut is shown in the figures. How would this paper look when unfolded? Choose from the option figures A, B, C and D.

ஒரு காகிதத்தை மடிக்கும் வரிசைமுறைகளும் அதை வெட்டும் முறையும் கொடுக்கப்பட்டுள்ளது. அந்த காகிதத்தை விரித்தால் அது எவ்வாறு இருக்கும் என்பதை கொடுக்கப்பட்ட நான்கு படங்களில் இருந்து சரியான ஒன்றை தேர்ந்தெடுக்கவும்.




112. The sequence of folding a piece of paper and the manner in which the folded paper has been cut is shown in the figures. How would this paper look when unfolded? Choose from the option figures A, B, C and D.

ஒரு காகிதத்தை மடிக்கும் வரிசைமுறைகளும் அதை வெட்டும் முறையும் கொடுக்கப்பட்டுள்ளது. அந்த காகிதத்தை விரித்தால் அது எவ்வாறு இருக்கும் என்பதை கொடுக்கப்பட்ட நான்கு படங்களில் இருந்து சரியான ஒன்றை தேர்ந்தெடுக்கவும்.




113. Which figure will complete the image?



- a.
- b.
- c.
- d.

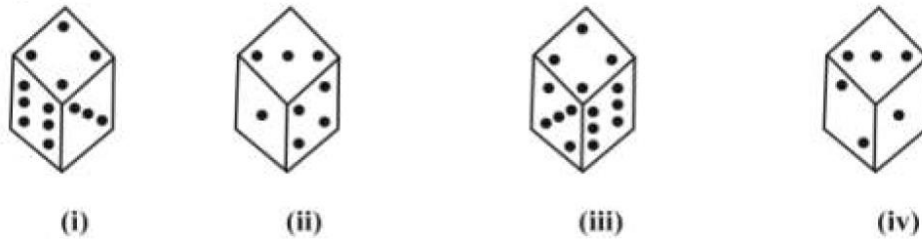
கொடுக்கப்பட்ட படம் (?) ஐ நிறைவு செய்யக்கூடிய படத்தை நான்கு விருப்பங்களில் இருந்து தேர்ந்தெடு.



- a.
- b.
- c.
- d.

114. How many dots are there on the dice facing opposite to the one with three dots? Use the four different position of a dice are given below:

ஒரே பகடையின் நான்கு வெவ்வேறு நிலைகளைக் குறிக்கும் படம் கொடுக்கப்பட்டுள்ளது. மூன்று புள்ளிகள் உள்ள பக்கத்திற்கு எதிர்பக்கம் எத்தனை புள்ளிகள் இருக்கும்?



- a. 2      b. 4      c. 5      d. 6

115. Select the letter cluster that can replace the question mark (?) in the following series

AOS, CQU, ?, GUY, IWA

கொடுக்கப்பட்ட தொடர்வரிசையில் கேள்விக்குறி உள்ள இடத்தை நிரப்புக.

- a. FSX      b. GSW      c. ESW      d. DRV

116. Select the letter cluster that can replace the question mark (?) in the following series.

BRH, ZUD,?, VAV, TDR, RGN

கொடுக்கப்பட்ட தொடர்வரிசையில் கேள்விக்குறி உள்ள இடத்தை நிரப்புக.

a. XYZ                      b. XZY                      c. XZZ                      d. XXZ

117. In a row of boys, Deepak is seventh from the left and Madhu is twelfth from the right. If they interchange their positions, Deepak becomes twenty-second from the left. How many boys are there in the row?

a. 19                      b. 31                      c. 33                      d. Cannot be determined

ஒரு வரிசையில் வலப்புறம் இருந்து 12வது இடத்தில் இருக்கும் மதுவிற்கு இடப்புறமாக ஏழாவது இடத்தில் தீபக் உள்ளார். அவர்கள் தங்கள் இடத்தை இடமாற்றம் செய்த பிறகு தீபக் இடப்புறத்திலிருந்து 22 ஆவதாக இருந்தால், வரிசையில் உள்ள மொத்த நபர்கள் எத்தனை?

a. 19                      b. 31                      c. 33                      d. கண்டுபிடிக்க இயலாது

118. Raman ranks sixteenth from the top and forty ninth from the bottom in a class. How many students are there in the class?

a. 64                      b. 65                      c. 66                      d. cannot be determined

ரமண் ஒரு வகுப்பின் தரவரிசையில் மேலிருந்து பதினாறாவதாகவும், கடைசியிலிருந்து நாற்பத்து ஒன்பதாகவும் இருப்பின், வகுப்பில் உள்ள மொத்த மாணவர்களின் எண்ணிக்கை எத்தனை?

a. 64                      b. 65                      c. 66                      d. கண்டுபிடிக்க இயலாது

119. Anju ranks twelfth in a class of forty-six. What will be her rank from the last?

a. 33                      b. 34                      c. 35                      d. 37

நாற்பத்து ஆறு பேர் உள்ள வகுப்பில் அஞ்சு முதலிலிருந்து தரவரிசையில் பனிரெண்டாவது ஆவார். அவர் கடைசியில் இருந்து தரவரிசையில் எத்தனையாவது நபர்?

a. 33                      b. 34                      c. 35                      d. 37

120. Find the missing term in the series:

3, 7, 6, 5, 9, 3, 12, 1, 15, ?

a. 18                      B. 13                      C. -1                      D. 3

தொடரின் விடுப்பட்ட எண் காண்க:

3, 7, 6, 5, 9, 3, 12, 1, 15, ?

a. 18                      B. 13                      C. -1                      D. 3

121.  $\frac{2}{\sqrt{5}}, \frac{3}{5}, \frac{4}{5\sqrt{5}}, \frac{5}{25}, ?$

a.  $\frac{6}{5\sqrt{5}}$                       b.  $\frac{6}{25\sqrt{5}}$                       c.  $\frac{6}{125}$                       d.  $\frac{7}{25}$

122. 4 K % R T 3 E P # A 7 B 9 D I Q @ 2 8 V U © H J 5 F 1 % 6 M

How many such consonants are there in the above arrangement, each of which is immediately preceded by a number but not immediately followed by a letter?

A. One B. Two C. Three D. Four

4 K % R T 3 E P # A 7 B 9 D I Q @ 2 8 V U © H J 5 F 1 % 6 M

மேலே உள்ள அமைப்பில் எத்தனை மெய்யெழுத்துக்கள் உள்ளன. அவை முன் ஒரு எண் உள்ளது. ஆனால் அவற்றை தொடர்ந்து ஒரு எழுத்து இல்லை?

a. One b. Two c. Three d. Four

123. If GO = 32, SHE = 49, then SOME will be equal to

GO = 32, SHE = 49 எனில் SOME = ?

a. 56 b. 58 c. 62 d. 64

124. At sunrise, If a person facing towards West, the shadow will be towards his

a. Front b. Back c. Right d. Left

சூரிய உதய நேரத்தில், ஒரு நபர் மேற்கு திசையை நோக்கி நின்றால் அவரது நிழல் எங்கு விழும்?

a. முன்புறம் b. பின்புறம் c. வலப்பக்கம் d. இடப்பக்கம்

125. Y is in the East of X which is in the North of Z. If P is in the South of Z, then in which direction of Y, is P?

a. South b. North-west c. West d. South-west

Z க்கு வடதிசையில் x உள்ளார். அவருக்கு கிழக்கு திசையில் Y உள்ளார். என்பவர் Z க்கு தெற்கு திசையில் இருப்பின் Y ன் எந்த திசையில் P இருப்பார்?

a. தெற்கு b. வடமேற்கு c. மேற்கு d. தென் மேற்கு

126. 6,0 7,6 8,13 9,21, ?, ?

a. 10,28 b. 10,29 c. 10,30 d. 10, 40

127. At sunrise, Raj and Nancy are having a conversation standing in front of each other. The shadow of Nancy is formed towards the right hand of Raj. What direction is Nancy facing?

a. East b. West c. North d. South

சூரிய உதயத்தின் போது ராஜ் மற்றும் நான்சி எதிரெதிரே நின்று உரையாடும் போது, நான்சியின் நிழல் ராஜின் வலப்பக்கம் விழுந்தால், நான்சி எந்த திசையை நோக்கி நிற்கிறார்?

a. கிழக்கு b. மேற்கு c. வடக்கு d. தெற்கு

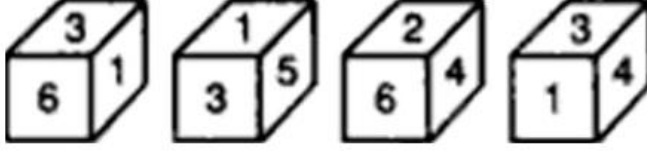
128. The figure X is folded to form a box. Choose from amongst the alternatives a., b., c. and d., the boxes that are similar to the box formed.

பின்வரும் வினாக்களில் படம் (x) ஆனது மடிக்கப்பட்டு பகடையாக ஆக்கப்படுகிறது. கொடுக்கப்பட்டுள்ள நான்கு படங்களில் எது அந்த பகடையை ஒத்துள்ளது என்று தேர்ந்தெடு.



	2	
5	1	
	4	
6	3	

(X)



a

b

c

d

129. A girl started walking from her house. She first walked for 3 km towards east, then she turned towards north and moved 4 km in that direction. How far is the girl away from her house?

- a. 3 km south                      b. 3 km north  
c. 5 km west                      d. 5 km north-east

ஒரு பெண் தன்னுடைய வீட்டிலிருந்து நடக்கத்தொடங்கினாள். முதலில் கிழக்கு பக்கமாக 3 கி.மீ தூரமும், பிறகு வடக்கு திசையில் திரும்பி 4 கி.மீ. அந்த திசையில் நடக்கிறாள். அவள் தற்போது வீட்டிலிருந்து எவ்வளவு தொலைவில் இருக்கிறாள்?

- a. 3 km தெற்கு                      b. 3 km வடக்கு  
c. 5 km மேற்கு                      d. 5 km வடகிழக்கு

130. 2Z5, 7Y7, 14X9, 23W11, 34V13, ?

- a. 27u24    b. 45u15    c. 47u15    d. 47v14

131. Select the set of letter that when sequentially placed in the blanks of the given letter series will complete the series.

\_\_\_bc\_\_\_ca\_\_\_aba\_\_\_c\_\_\_ca

கொடுக்கப்பட்ட எழுத்துத் தொடர்வரிசையில் கோடிட்ட இடங்களில் சில எழுத்துக்களை நிரப்பும் போது, அது தொடர் வரிசையை முழுமைப்படுத்தும். அதைத் தேர்ந்தெடுக்கவும்.

- a. a b c b b                      b. b b b c c                      c. b a c b a                      d. a b b c c

132. Which of the following interchange of sign would make the given equation correct?

எந்த இரு குறியீடுகளை மாற்றியமைத்தால் பின்வரும் சமன்பாடு சரியாகும்?

$$64 - 8 \times 9 \div 8 = 64$$

- a. + and -                      b. ÷ and x                      c. + and ÷                      d. - and ÷

133. If A means -, B means ÷, C means + and D means x, then 15 B 3 C 24 A 12 D 2 = ?

A என்பது -, B என்பது ÷, C என்பது +, D என்பது × எனில் 15B3C 24 A 12 D 2 = ?

- a. 34                      b. 2                      c. 5                      d. - 2 3 1

134. In a March Past, seven persons are standing in a row. Q is standing left to R but right to P. O is standing right to N and left to P. Similarly, S is standing right to R and left to T. Find out who is standing in the middle,

- a. P                      b. Q                      c. R                      d. O

ஒரு அணிவகுப்பில் ஏழு பேர் ஒரு வரிசையில் நின்றனர். Q என்பவர் R க்கு இடப்புறமும். P க்கு வலப்பக்கமும் உள்ளனர். O என்பவர் N க்கு வலமாகவும் P க்கு இடமாகவும் நிற்கிறார். அதேபோல் S என்பவர் R க்கு வலமாகவும், T க்கு இடமாகவும் நிற்கிறார். யார் அந்த வரிசையில் நடுவில் நிற்கிறார்?

- a. P                      b. Q                      c. R                      d. O

135. Six friends A, B, C, D, E and F are sitting in a closed circle facing the centre. A is facing D. C is between A and B. F is between E and A. Who is to the immediate left of B?

- a. A                      b. C                      c. D                      d. E

ஆறு நண்பர்கள் A, B, C, D, E மற்றும் F வட்ட வட்ட வரிசையில் மையத்தை நோக்கி அமர்ந்துள்ளனர். A என்பவர் D யை நோக்கியும், C என்பவர் A மற்றும் B க்கு நடுவிலும். F என்பவர் E மற்றும் A க்கு நடுவிலும் அமர்த்துள்ளனர். B என்வருக்கு அடுத்ததாக இடப்புறம் அமர்ந்து இருப்பவர் யார்?

- a. A                      b. C                      c. D                      d. E

136. Reaching the place of meeting on Tuesday 15 minutes before 08.30 hour. Ajay found himself half an hour earlier than the man who was 40 minutes late. What was the scheduled time of the meeting?

- a. 8.00 hrs.              b. 8.05 hrs.              c. 8.15 hrs.              d. 8.45 hrs.

அஜய் செவ்வாய் காலையில் 8 : 30 மணிக்கு 15 நிமிடங்களுக்கு முன்பாக இரு சந்திப்புக்குச் சென்றார். அவர் அந்த சந்திப்புக்கு 40 நிமிடங்கள் தாமதமாக வந்த நபரைவிட அரைமணி நேரம் முன்னதாக வந்து இருந்தால், அந்த சந்திப்பு நடைபெற குறித்த நேரம் என்ன?

- a. 8.00 hrs.              b. 8.05 hrs.              c. 8.15 hrs.              d. 8.45 hrs.

**Q. NO (136 - 140) Read the following information carefully and answer the questions that follow:**

**Madhu and Shobha are good in Dramatics and Computer Science.**

**Anjali and Madhu are good in Computer Science and Physics.**

**Anjali, Poonam and Nisha are good in Physics and History.**

**Nisha and Anjali are good in Physics and Mathematics.**

**Poonam and Shobha are good in History and Dramatics.**

பின்வரும் தகவல்களை படித்து கீழ்க்காணும் வினாக்களுக்கு விடையளிக்கவும்.

மது மற்றும் சோபா, நாடகம் மற்றும் கணினி அறிவியல் தேர்ந்தவர்கள்.

அஞ்சலியும், மதுவும் கணினி அறிவியல் மற்றும் இயற்பியலில் தேர்ந்தவர்கள்.

அஞ்சலி, பூனம் மற்றும் நிஷா ஆகியோர் இயற்பியல் மற்றும் வரலாற்றில் தேர்ந்தவர்கள்.

நிஷாவும் அஞ்சலியும் இயற்பியல் மற்றும் கணிதத்தில் தேர்ந்தவர்களாவர்.

பூனம் மற்றும் சோபா, வரலாறு மற்றும் நாடகத்தில் தேர்ந்தவர்கள்.

137. Who is good in Computer Science, History and Dramatics?  
a. Anjali                      b. Madhu                      c. Shobha                      d. Nisha  
கணினி அறிவியல், வரலாறு மற்றும் நாடகத்தில் தேர்ந்தவர்?  
a. அஞ்சலி                      b. மது                      c. சோபா,                      d. நிஷா
138. Who is good in Physics, Dramatics and Computer Science?  
a. Shobha                      b. Poonam                      c. Madhu                      d. Anjali  
இயற்பியல், நாடகம் மற்றும் கணினி அறிவியலில் தேர்ந்தவர்?  
a. சோபா                      b. பூனம்                      c. மது                      d. அஞ்சலி
139. Who is good in Physics, History and Dramatics?  
a. Poonam                      b. Shobha                      c. Madhu                      d. Anjali  
இயற்பியல், வரலாறு மற்றும் நாடகத்தில் தேர்ந்தவர் யார்?  
a. பூனம்                      b. சோபா                      c. மது                      d. அஞ்சலி
140. Who is good in History, Physics, Computer Science and Mathematics?  
a. Poonam                      b. Nisha                      c. Madhu                      d. Anjali  
வரலாறு, இயற்பியல், கணினி அறிவியல் மற்றும் கணிதம் நான்கிலும் தேர்ந்தவர் யார்?  
a. பூனம்                      b. நிஷா                      c. மது                      d. அஞ்சலி





**TNUSRB – SUB INSPECTOR RECRUITMENT TRAINING – 2022**  
**TEST XVI – REVISION III – ECONOMICS, INDIAN POLITY, PSYCHOLOGY**

1	2	3	4	5	6	7	8	9	10
A	A	D	B	B	C	D	A	B	D
11	12	13	14	15	16	17	18	19	20
B	B	B	D	C	B	C	B	A	D
21	22	23	24	25	26	27	28	29	30
A	B	A	B	C	B	A	C	C	B
31	32	33	34	35	36	37	38	39	40
C	A	A	A	B	B	D	D	A	A
41	42	43	44	45	46	47	48	49	50
B	A	C	D	D	A	A	B	B	C
51	52	53	54	55	56	57	58	59	60
A	C	C	A	C	A	B	A	A	B
61	62	63	64	65	66	67	68	69	70
B	B	A	C	D	B	B	A	A	C
71	72	73	74	75	76	77	78	79	80
D	B	A	A	A	B	A	D	A	C
81	82	83	84	85	86	87	88	89	90
A	A	D	A	D	C	C	D	B	D
91	92	93	94	95	96	97	98	99	100
D	D	C	A	D	A	D	A	C	C
101	102	103	104	105	106	107	108	109	110
A	B	C	A	C	A	C	A	A	B
111	112	113	114	115	116	117	118	119	120
D	D	C	C	C	D	C	A	C	C
121	122	123	124	125	126	127	128	129	130
B	C	A	A	D	C	C	D	D	C
131	132	133	134	135	136	137	138	139	140
A	D	C	B	B	B	C	C	A	D