

## TNPSC GROUP I – TEST BATCH 2022 TEST XX – UNIT IX DEVELOPMENT ADMINISTRATION

1. Which of the following social legislation were implemented by the Department of Social Welfare in Tamil Nadu?
1. Child Marriage Prohibition Act, 2006
  2. Dowry Prohibition Act, 1961
  3. Domestic Violence Act, 2005
  4. Sexual harassment of women at workplace Act, 2013
  5. Maintenance and welfare of parents and senior citizen's Act, 2007
- a. 1, 2, 3                      b. 2, 3, 4                      c. 1, 4, 5  
d. all of the above                      e. Answer not known
- பின்வருவனவற்றுள் தமிழ்நாடு சமூக நலத்துறையால் செயல்படுத்தப்படும் சமூக நலச்சட்டங்கள் எவை?
1. குழந்தை திருமண தடைச்சட்டம், 2006
  2. வரதட்சணை தடுப்புச் சட்டம், 1961
  3. குடும்ப வன்முறைச் சட்டம், 2005
  4. பணிபுரியும் இடங்களில் பாலியல் வன்முறைகளிலிருந்து பெண்களைப் பாதுகாக்கும் சட்டம், 2013
  5. பெற்றோர் மற்றும் மூத்த குடிமக்கள் பராமரிப்பு மற்றும் நலச்சட்டம், 2007
- a. 1, 2, 3                      b. 2, 3, 4                      c. 1, 4, 5  
d. மேற்கண்ட அனைத்தும்                      e. விடை தெரியவில்லை
2. Tamil Nadu Girl child protection day is observed on \_\_\_\_\_
- a. January 24                      b. February 24                      c. October 11  
d. October 24                      e. Answer not known
- தமிழ்நாடு பெண்குழந்தைகள் பாதுகாப்பு தினம் கொண்டாடப்படும் நாள் \_\_\_\_\_.
- a. ஜனவரி 24                      b. பிப்ரவரி 24                      c. அக்டோபர் 11  
d. அக்டோபர் 24                      e. விடை தெரியவில்லை
3. Cradle baby scheme was introduced in \_\_\_\_\_
- a. Salem, 1990                      b. Salem, 1992                      c. Dharmapuri, 1990  
d. Dharmapuri, 1992                      e. Answer not known
- தொட்டில் குழந்தைத் திட்டம் எங்கு எப்போது அறிமுகப்படுத்தப்பட்டது?
- a. சேலம், 1990                      b. சேலம், 1992                      c. தருமபுரி, 1990  
d. தருமபுரி, 1992                      e. விடை தெரியவில்லை
4. BBBP scheme objectives are \_\_\_\_\_
1. Prevention of gender biased sex selective elimination.
  2. Ensuring survival of girl child
  3. Ensuring education of girl child
- a. 1, 2                      b. 1, 3                      c. 2, 3                      d. 1, 2, 3                      e. Answer not known
- BBBP திட்டத்தின் நோக்கங்கள் யாவை
1. கருவில் உள்ள சிசுவின் பாலினத்தை கண்டறிவதைத் தடுத்தல்.
  2. பெண் குழந்தை உயிர் வாழ்வதை உறுதி செய்தல்.
  3. பெண் குழந்தையின் கல்வியினை உறுதி செய்தல்.
- a. 1, 2                      b. 1, 3                      c. 2, 3                      d. 1, 2, 3                      e. விடை தெரியவில்லை

5. To Implement the Child Marriage Act 2006, the Tamil Nadu Government have framed and notified rules on \_\_\_\_\_
- a. 30.12.2006                      b. 30.12.2007                      c. 30.12.2008  
d. 30.12.2009                      e. Answer not known
- குழந்தை திருமண தடைச்சட்டம், 2006-ஐ நடைமுறைப்படுத்த தமிழ்நாடு அரசால் மாநில விதிகள் ஏற்படுத்தப்பட்ட நாள்
- a. 30.12.2006                      b. 30.12.2007                      c. 30.12.2008  
d. 30.12.2009                      e. விடை தெரியவில்லை
6. The Remedies available to victim under the protection of women from Domestic Violence Act, 2005 are \_\_\_\_\_
1. Right to residence in Matrimonial house  
2. Economic relief for maintenance for herself  
3. Temporary custody of children  
4. Compensation for damage caused to victim
- a. 1, 2, 4                      b. 1, 3, 4                      c. 2, 3                      d. all of these                      e. Answer not known
- குடும்ப வன்முறையில் இருந்து பெண்களைப் பாதுகாக்கும் சட்டம், 2005-ன் கீழ், பாதிக்கப்பட்டவருக்கு கிடைக்கும் தீர்வுகள்.
1. திருமணமான வீட்டிலேயே வாழ்வதற்கான உரிமை.  
2. தனது சொந்த பராமரிப்புக்கு தேவையான பொருளாதார உதவி.  
3. குழந்தைகளை தற்காலிகமாக தன்வசம் வைத்துக்கொள்ளும் உரிமை.  
4. பாதிக்கப்பட்டவருக்கான தகுந்த இழப்பீடு.
- a. 1, 2, 4                      b. 1, 3, 4                      c. 2, 3                      d. மேற்கண்ட அனைத்தும்                      e. விடை தெரியவில்லை
7. Who have been designated as Dowry Prohibition Officers under Dowry Prohibition Act, 1961?
- a. District Collector                      b. District Revenue officer  
c. District Supplies Officer                      d. District Social Welfare Officer  
e. Answer not known
- வரதட்சணை தடுப்புச் சட்டம், 1961-ன் கீழ் வரதட்சணை தடுப்பு அலுவர்களாக நியமிக்கப்படுபவர்
- a. மாவட்ட ஆட்சியர்                      b. மாவட்ட வருவாய் அலுவலர்  
c. மாவட்ட நுகர்பொருள் அலுவலர்                      d. மாவட்ட சமூக நல அலுவலர்  
e. விடை தெரியவில்லை
8. Consider the following statements related to AIDS.
1. Tamil Nadu state AIDS control society was established in 1992.  
2. In 1986 the first HIV case was detected in Madras Medical College, Chennai.  
3. HIV and AIDS Act was enacted in 2017.
- a. 1, 2 are correct                      b. 2, 3 are correct                      c. 3 alone is correct  
d. All are correct                      e. Answer not known
- எய்ட்ஸ் தொடர்பான பின்வரும் கூற்றுகளை கவனிக்கவும்.
1. தமிழ்நாடு மாநில எய்ட்ஸ் கட்டுப்பாட்டு கழகம் 1992-ல் நிறுவப்பட்டது.  
2. 1986-ம் ஆண்டு சென்னையிலுள்ள மெட்ராஸ் மருத்துவக் கல்லூரியில் முதல் எச்.ஐ.வி தொற்று கண்டுபிடிக்கப்பட்டது  
3. எச்.ஐ.வி மற்றும் எய்ட்ஸ் சட்டம் 2017ல் இயற்றப்பட்டது.
- a. 1, 2 சரியானவை                      b. 2, 3 சரியானவை                      c. 3 மட்டும் சரியானது  
d. அனைத்தும் சரி                      e. விடை தெரியவில்லை
9. Consider the following statements
1. Tamil Nadu Health systems project was started in 2006.  
2. TNHSP is assisted by JICA.  
3. TNHSP focused on reducing child mortality and improving maternal Health.
- a. 1, 2 are incorrect                      b. 2, 3 are correct                      c. All are correct  
d. All are incorrect                      e. Answer not known

பின்வரும் கூற்றுகளை கவனிக்கவும்.

1. தமிழ்நாடு சுகாதார அமைப்பு திட்டம் 2006-ல் தொடங்கப்பட்டது.

2. TNHSP-க்கு JICA உதவி செய்கிறது.

3. TNHSP குழந்தை இறப்பைக் குறைப்பதிலும் தாய்வழி ஆரோக்கியத்தை மேம்படுத்துவதிலும் கவனம் செலுத்துகிறது.

a. 1, 2 தவறு

b. 2, 3 சரி

c. அனைத்தும் சரி

d. அனைத்தும் தவறு

e. விடை தெரியவில்லை

10. Consider the following statements regarding TAHDCO.

1. TAHDCO was established in 1976.

2. TAHDCO works for economic development of only SC people.

3. TAHDCO provides skill training to SC and ST.

4. TAHDCO undertakes construction activities also.

a. 2, 3, 4 are correct

b. 1, 2 are incorrect

c. 1, 3 are incorrect

d. All are correct

e. Answer not known

TAHDCO தொடர்பான பின்வரும் கூற்றுகளை கவனிக்கவும்.

1. TAHDCO - 1976ல் நிறுவப்பட்டது.

2. TAHDCO - தாழ்த்தப்பட்ட மக்களின் பொருளாதார வளர்ச்சிக்காக மட்டுமே செயல்படுகிறது.

3. TAHDCO - SC மற்றும் ST மக்களுக்கு திறன் பயிற்சி அளிக்கிறது.

4. TAHDCO கட்டுமான நடவடிக்கைகளையும் மேற்கொள்கிறது.

a. 2, 3, 4 சரி

b. 1, 2 தவறு

c. 1, 3 தவறு

d. அனைத்தும் சரி

e. விடை தெரியவில்லை

11. Which institution provided ₹ 2600 crore loan for Chennai metro (Phase II)?

a. Asian Development Bank

b. Asian Infrastructure Investment Bank

c. World Bank

d. Japan International Cooperation Agency

e. Answer not known

சென்னை மெட்ரோ திட்டத்திற்கு (கட்டம் II) ₹ 2600 கோடி கடனை வழங்கிய நிறுவனம் எது?

a. ஆசிய வளர்ச்சி வங்கி

b. ஆசிய உள்கட்டமைப்பு முதலீட்டு வங்கி

c. உலக வங்கி

d. ஜப்பான் சர்வதேச ஒத்துழைப்பு நிறுவனம்

e. விடை தெரியவில்லை

12. Consider the following statements regarding Muthulakshmi Maternity Benefit Scheme?

1. Scheme was launched in 1987.

2. Initially ₹ 300 provided under this scheme which is now increased to ₹18,000.

3. 104 - helpline for delay in payment related issues.

a. 1, 2 are correct

b. 2, 3 are correct

c. 1, 3 are correct

d. All are correct

e. Answer not known

முத்துலக்ஷ்மி மகப்பேறு பயனாளர் திட்டம் தொடர்பான பின்வரும் கூற்றுகளை கவனிக்கவும்.

1. 1987-ல் இந்த திட்டம் தொடங்கப்பட்டது.

2. இத்திட்டத்தின் கீழ் ஆரம்பத்தில் ₹ 300 வழங்கப்பட்டு தற்போது ₹18,000 ஆக உயர்த்தப்பட்டுள்ளது.

3. பணம் செலுத்துதலில் தாமதம் ஏற்படுவது தொடர்பான சிக்கல்களை தெரிவிப்பதற்கான உதவி எண் 104.

a. 1, 2 சரி

b. 2, 3 சரி

c. 1, 3 சரி

d. அனைத்தும் சரி

e. விடை தெரியவில்லை

13. Choose incorrect pair.

a. Mental Health Act - 1987.

b. National Policy for Persons with Disabilities - 2006.

c. Rights of Person with Disabilities Act - 2016.

d. Protection of Civil Rights Act - 1956.

e. Answer not known

தவறான இணையைத் தேர்வு செய்யவும்.

- மனநலச் சட்டம் - 1987.
- மாற்றுத் திறனாளிகளுக்கான தேசிய கொள்கை - 2006.
- ஊன முற்றோர்களுக்கான உரிமைகள் சட்டம் - 2016.
- குடியரிமை பாதுகாப்புச் சட்டம் - 1956.
- விடை தெரியவில்லை

14. Consider the following statements regarding to Tamil Nadu Backward Classes Commission.

- Established in 1993 as permanent body based on Article 340.
- Tenure of Members and Chairman is 3 years.
- K. Shanmugam is the first Chairman - 15.3.1993.

- 2 alone is correct
- 1, 2 are correct
- 1, 3 are correct
- All are correct
- Answer not known

தமிழ்நாடு பிற்படுத்தப்பட்டோர் வகுப்புக் குழு தொடர்பான பின்வரும் கூற்றுகளை கவனிக்கவும்.

- சட்டப்பிரிவு 340-ன் படி, இது நிரந்தர அமைப்பாக 1993-ல் நிறுவப்பட்டது.
- இதன் உறுப்பினர்கள் மற்றும் தலைவரின் பதவிக்காலம் 3 ஆண்டுகள்.
- 15.03.1993-ல் கே. சண்முகம் இதன் முதல் தலைவர் ஆனார்.

- 2 மட்டும் சரி
- 1, 2 சரி
- 1, 3 சரி
- அனைத்தும் சரி
- விடை தெரியவில்லை

15. 27% reservation to OBC was implemented by \_\_\_\_\_.

- V.P. Singh on 13.08.1990.
- V.P. Singh on 13.10.1990.
- Charan sing on 13.10.1992
- Morarji Desai on 31.12.1980
- Answer not known

OBC -க்கு 27% இட ஒதுக்கீடு \_\_\_\_\_ மூலம் செயல்படுத்தப்பட்டது.

- வி.பி.சிங், 13.08.1990
- வி.பி.சிங், 13.10.1990
- வி.பி.சிங், 13.10.1992
- மொராஜி தேசாய், 31.12.1980
- விடை தெரியவில்லை

16. Consider the following statement regarding Jothy Venkatachalam

- She was the first women minister of Madras Province before Independence.
- She was Governor of Kerala from 1977 to 1982.
- She was women Welfare Minister in Rajaji Ministry.
- She was Health Minister in Kamaraj Ministry.

- 1, 3, 4 are correct
- 1, 3 are correct
- 2, 3, 4 are correct
- All are correct
- Answer not known

ஜோதி வெங்கடாசலம் பற்றிய பின்வரும் கூற்றுகளை கவனிக்கவும்.

- சுதந்திரத்திற்கு முந்தைய மெட்ராஸ் மாகாணத்தின் முதல் பெண் அமைச்சராக இருந்தார்.
- 1977-1982 வரை கேரள ஆளுநராக இருந்தார்.
- இராஜாஜி அமைச்சரவையில் பெண்கள் நலத்துறை அமைச்சராக இருந்தார்.
- காமராஜர் அமைச்சரவையில் சுகாதார அமைச்சராக இருந்தார்.

- 1, 3, 4 சரி
- 1,3 சரி
- 2, 3, 4 மட்டும் சரி
- அனைத்தும் சரி
- விடை தெரியவில்லை

17. Arrange in chronological order

- SIPCOT
- Slum Clearance Board
- State Autonomy resolution in Tamilnadu Assembly
- Appointment of Rajamannar Committee.

- 1, 2, 3, 4
- 4, 1, 2, 3
- 4, 2, 1, 3
- 2, 1, 4, 3
- Answer not known

காலவரிசைப்படுத்தவும்.

1. சிப்காட்
2. குடிசை மாற்று வாரியம்
3. தமிழக சட்டசபையில் மாநில சுயாட்சி தீர்மானம்
4. ராஜமன்னார் குழு நியமனம்

- a. 1, 2, 3, 4                      b. 4, 1, 2, 3                      c. 4, 2, 1, 3  
d. 2, 1, 4, 3                      e. விடை தெரியவில்லை

18. Who was the Chairman of Tamilnadu legislative council in 1986?

- a. M.G. Ramachandran      b. Kalaingar Karunanidhi      c. Ma. Po. Sivagnanam Pillai  
d. Rajaji                      e. Answer not known

1986-ம் ஆண்டு தமிழ்நாடு சட்டமேலவையின் தலைவர் யார்?

- a. எம்.ஜி. ராமச்சந்திரன்      b. கலைஞர் கருணாநிதி      c. மா.பொ. சிவஞானம் பிள்ளை  
d. இராஜாஜி                      e. விடை தெரியவில்லை

19. Tamilnadu Housing sector strengthening program is funded by \_\_\_\_

- a. ADB      b. IBRD      c. AIIB      d. JICA      e. Answer not known

தமிழ்நாடு வீட்டு வசதி துறை வலுவூட்டல் உபத்திட்டத்திற்கு நிதியுதவி செய்யும் நிறுவனம்

- a. ADB      b. IBRD      c. AIIB      d. JICA      e. விடை தெரியவில்லை

20. Which of the following facts are true?

I. Tamil Nadu ranks first among the states in terms of factories with 17% share & Individual workers 16% share of the country.

II. Tamil Nadu has a highest Gross Enrollment ratio in Higher Education.

III. Tamil Nadu is the 3<sup>rd</sup> largest contributor to India's GDP.

IV. Tamil Nadu is placed 2<sup>nd</sup> in Health index as per the NITI AAYOG report 2015

- a. II, III, IV      b. I, II      c. II, IV      d. I, II, III, IV      e. Answer not known

பின்வருவனவற்றில் எது சரி?

I. தொழிற்சாலைகளில் 17% மற்றும் தொழில்துறை தொழிலாளர்களில் 16% பங்கைக் கொண்டு மாநிலங்களில் தமிழ்நாடு முதலிடத்தில் உள்ளது.

II. உயர்கல்வி சேர்க்கை விகிதத்தில் தமிழ்நாடு முதலிடம் வகிக்கிறது.

III. இந்தியாவின் மொத்த உள்நாட்டு உற்பத்தியில் தமிழ்நாடு மூன்றாவது பெரிய பங்களிப்பாளராக உள்ளது.

IV. நிதி ஆயோக் அறிக்கையின்படி (2015), சுகாதாரக் குறியீட்டில் தமிழ்நாடு இரண்டாவது இடத்தில் உள்ளது.

- a. II, III, IV      b. I, II      c. II, IV      d. I, II, III, IV      e. விடை தெரியவில்லை

21. What is the rank of Tamilnadu in Public Affairs Index-2021 released by PAC [Public Affairs Centre] Bengaluru?

- a. 1<sup>st</sup>      b. 2<sup>nd</sup>      c. 3<sup>rd</sup>      d. 4<sup>th</sup>      e. Answer not known

பொது விவகாரங்கள் மையம், பெங்களூரு வெளியிட்டுள்ள பொது விவகாரக் குறியீடு (PAC) 2021இல் தமிழகத்தின் தரவரிசை என்ன?

- a. 1வது      b. 2வது      c. 3வது      d. 4வது      e. விடை தெரியவில்லை

22. Which of the following about Iyothidhasar Pandidar are true?

I. He was a radical Tamil Scholar, Writer, Siddha medical practitioner, Journalist & Socio-political activist.

II. Along with John Rathinam he established a movement called "Dravida Kazhagam".

III. He called the Untouchables as (Sathi Petham Atra Dravidar) casteless Dravidians.

IV. He opened the first school for Untouchables in 1852.

- a. I, II, III, IV      b. I, III, IV      c. I, II, III      d. I, III      e. Answer not known

பின்வருவனவற்றில் எவை ஐயோதிதாசர் பண்டிதர் பற்றியது சரியானவை?

- I. அவர் ஒரு தீவிர தமிழ் அறிஞர், எழுத்தாளர், சித்த மருத்துவ பயிற்சியாளர், பத்திரிகையாளர் மற்றும் சமூக அரசியல் ஆர்வலர் ஆவார்.  
II. அவரும் ஜான் ரத்தினமும் இணைந்து திராவிட கழகம் என்ற இயக்கத்தை நிறுவினர்.  
III. தீண்டத்தகாதவர்களை சாதி பேதமற்ற திராவிடர்கள் என்று அழைத்தார்.  
IV. தீண்டத்தகாதவர்களுக்காக 1852ல், முதல் பள்ளியைத் திறந்தார்.  
a. I, II, III, IV      b. I, III, IV      c. I, II, III      d. I, III      e. விடை தெரியவில்லை

23. Match the following

- A. All India women's conference      1. 1943  
B. 1st Tamil Isai conference      2. 1927  
C. Madras Devadasis Act      3. 1917  
D. Women's India Association      4. 1947

|    | A | B | C | D |
|----|---|---|---|---|
| a. | 1 | 2 | 3 | 4 |
| b. | 3 | 1 | 4 | 2 |
| c. | 3 | 4 | 1 | 2 |
| d. | 2 | 1 | 4 | 3 |

e. Answer not known

பின்வருவனவற்றைப் பொருத்துக:

- A. அகில இந்திய பெண்கள் மாநாடு      1. 1943  
B. முதல் தமிழ் இசை மாநாடு      2. 1927  
C. சென்னை தேவதாசி சட்டம்      3. 1917  
D. பெண்கள் இந்திய சங்கம்      4. 1947

|    | A | B | C | D |
|----|---|---|---|---|
| a. | 1 | 2 | 3 | 4 |
| b. | 3 | 1 | 4 | 2 |
| c. | 3 | 4 | 1 | 2 |
| d. | 2 | 1 | 4 | 3 |

e. விடை தெரியவில்லை

24. \_\_\_\_\_, an AI based cataract detection tool on mobile, has recently won an award from NASSCOM for its scalability, developed by Government of Tamilnadu.

- a. e- Paarvai      b. e- Kannotam      c. e- Kan  
d. e- Thottram      d. Answer not known

மொபைலில் செயற்கை நுண்ணறிவு அடிப்படையிலான கண்புரை கண்டறியும் \_\_\_\_\_ கருவியானது, அதன் அளவிடக்கூடிய தன்மைக்காக சமீபத்தில் (NASSCOM) நாஸ்காமின் விருதை வென்றுள்ளது.

- a. e- பார்வை      b. e- கண்ணோட்டம்      c. e- கண்  
d. e- தோற்றம்      e. விடை தெரியவில்லை

25. The first backward classes commission in Tamilnadu headed by Thiru. A.N. Sattanathan Committee submitted its report in \_\_\_\_\_.

- a. 1971      b. 1972      c. 1970      d. 1973      e. Answer not known

திரு. ஏ.என். சட்டநாதன் தலைமையிலான தமிழகத்தின் முதல் பிற்படுத்தப்பட்டோர் ஆணையம் தனது அறிக்கையை, சமர்ப்பித்த வருடம்

- a. 1971      b. 1972      c. 1970      d. 1973      e. விடை தெரியவில்லை

26. Complete the series 1 ZA, 3 YB, 6 XC, 10 WD, ?

- a. 14 VE      b. 15 UE      c. 12 VE      d. 15 VE      e. Answer not known

1 ZA, 3 YB, 6 XC, 10 WD, ? என்ற வரிசையை நிரப்புக

- a. 14 VE      b. 15 UE      c. 12 VE      d. 15 VE      e. விடை தெரியவில்லை

27. If '-' stands for 'division', '+' for 'multiplication', '÷' for 'subtraction' and 'x' for 'addition', then which one of the following equation is correct?

- a.  $4 \times 5 + 9 - 3 \div 4 = 15$       b.  $4 \times 5 \times 9 + 3 \div 4 = 11$       c.  $4 - 5 \div 9 \times 3 - 4 = 17$   
d.  $4 \div 5 + 9 - 3 + 4 = 18$       e. Answer not known

'-' என்பது 'வகுத்தலையும்' '+' என்பது 'பெருக்கலையும்' '÷' என்பது 'கழித்தலையும்' மற்றும் 'x' என்பது 'கூட்டலையும்' குறிக்கும் எனில் பின்வருவனவற்றுள் எந்த ஒரு சமன்பாடு சரியானது?

- a.  $4 \times 5 + 9 - 3 \div 4 = 15$       b.  $4 \times 5 \times 9 + 3 \div 4 = 11$       c.  $4 - 5 \div 9 \times 3 - 4 = 17$   
d.  $4 \div 5 + 9 - 3 + 4 = 18$       e. விடை தெரியவில்லை

28. If today is Saturday, what will be the day 350 days from now

- a. Saturday      b. Friday      c. Sunday  
d. Monday      e. Answer not known

இன்று சனிக்கிழமை எனில், இன்றிலிருந்து 350 வது நாள் என்ன கிழமையாக இருக்கும்.

- a. சனிக்கிழமை      b. வெள்ளிக்கிழமை      c. ஞாயிற்றுக்கிழமை  
d. திங்கள் கிழமை      e. விடை தெரியவில்லை.

29. Among the four answers figures, which can be formed from the cut - pieces given below?

a.      b.      c.      d.      e. Answer not known

கீழ்க்கண்ட நான்கு விடைக்கான படங்களில் எது கொடுக்கப்பட்ட வெட்டப்பட்ட துண்டுகளை பொருத்தினால் கிடைப்பது

a.      b.      c.      d.      e. விடை தெரியவில்லை

30. M5E\$RB3AK7#9\$UDIN4%FH2@8W. How many such consonants are there in the above sequence each of which is immediately followed by a number and immediately preceded by a vowel.

- a. One      b. Four      c. Two  
d. Three      e. Answer not known

M5E\$RB3AK7#9\$UDIN4%FH2@8W. மேலே உள்ள தொடரில் உள்ள உறுப்புகளில், அந்த உறுப்புக்கு முன்னால் ஒரு உயிரெழுத்தும் அந்த உறுப்பைத் தொடர்ந்து ஒரு எண்ணும் வரக்கூடிய மெய்யெழுத்துக்களின் எண்ணிக்கையை காண்க.

- a. ஒன்று  
b. நான்கு  
c. இரண்டு  
d. மூன்று  
e. விடை தெரியவில்லை

31. In New Education Policy 2020, the current 10+2 system to be replaced by a new curricular structure. What is the new curricular structure?

- a. 3 + 4 + 4 + 5  
b. 5 + 3 + 3 + 4  
c. 4 + 3 + 3 + 5  
d. 5 + 4 + 3 + 3  
e. Answer not known

புதிய கல்விக்கொள்கை 2020இல், தற்போதைய 10+2 முறை புதிய பாடத்திட்ட அமைப்பால் மாற்றப்படும். அந்த புதிய முறை

- a. 3 + 4 + 4 + 5  
b. 5 + 3 + 3 + 4  
c. 4 + 3 + 3 + 5  
d. 5 + 4 + 3 + 3  
e. விடை தெரியவில்லை

32. Kasturba Gandhi Balika Vidyalayas (KGBV's) are:

- a. Residential schools for girls providing education upto V class  
b. Schools providing education to girls belonging to weaker sections.  
c. Schools providing school education to all the girls in rural areas.  
d. Residential schools for girls belonging to SC/ST/OBC and minorities in educationally backward blocks providing education at upper primary level.  
e. Answer not known

கஸ்தூர்பா காந்தி பாலிகா வித்யாலயாக்கள் (KGBV's):

- a. ஐந்தாம் வகுப்பு வரை கல்வியை வழங்குகின்ற பெண்களுக்கான குடியிருப்புப் பள்ளிகள்  
b. நலிந்த பிரிவைச் சேர்ந்த பெண்களுக்குக் கல்வி வழங்குகின்ற பள்ளிகள்  
c. கிராமப்புறங்களில் உள்ள அனைத்துப் பெண்களுக்கும் பள்ளிக் கல்வியை வழங்கும் பள்ளிகள்.  
d. கல்வியில் பின்தங்கிய பகுதிகளில் உள்ள SC/ST/OBC மற்றும் சிறுபான்மையினரைச் சேர்ந்த பெண்களுக்கு உயர் தொடக்க நிலை கல்வியை வழங்கும் குடியிருப்புப் பள்ளிகள்  
e. விடை தெரியவில்லை

33. Which award is given by the Indian Government to cities and villages for cleanliness?

- a. Swachh Puraskar  
b. Swachhta Puraskar  
c. Clean Region Award  
d. Nirmal Puraskar  
e. Answer not known

தூய்மைக்காக நகரங்கள் மற்றும் கிராமங்களுக்கு இந்திய அரசால் வழங்கப்படும் விருது எது?

- a. ஸ்வச் புரஸ்கார்  
b. ஸ்வசுதா புரஸ்கார்  
c. சுத்தமான பிராந்திய விருது  
d. நிர்மல் புரஸ்கார்  
e. விடை தெரியவில்லை

34. Which of the following about National Health Policy, 2017 is/are correct?

- i. To increase the life expectancy at birth from 67.5 to 70 by 2025.  
ii. Reduce fertility rate to 2.1 by 2025.  
iii. Reduce under five infant mortality to 23 by 2025.  
a. i and ii correct  
b. all are correct  
c. i only correct  
d. ii and iii are correct  
e. Answer not known

தேசிய சுகாதாரக் கொள்கையில் (2017) பின்வருவனவற்றில் எது சரியானது?

- i. பிறக்கும்போது ஆயுட்காலம் 67.5 இல் இருந்து 2025க்குள் 70 ஆக அதிகரிக்க.  
ii. 2025க்குள் கருவுறுதல் விகிதத்தை 2.1 ஆக குறைக்கவும்.  
iii. 2025க்குள் ஐந்து வயதுக்கும் குறைவான குழந்தை இறப்பு எண்ணிக்கையை 23 ஆக குறைக்கவும்.  
a. i மற்றும் ii சரி  
b. அனைத்தும் சரி  
c. i மட்டும் சரி  
d. ii மற்றும் iii சரி  
e. விடை தெரியவில்லை



35. Organ transplantation in the state of Tamil Nadu is regulated by Transplantation of Human Organs Act, \_\_\_\_\_ (THOA)  
 a. 1992      b. 1994      c. 1996      d. 1998      e. Answer not known  
 தமிழ்நாடு மாநிலத்தில் உறுப்பு மாற்று அறுவை சிகிச்சை, மனித உறுப்புகளை மாற்றுச் சட்டம் \_\_\_\_\_ மூலம் கட்டுப்படுத்தப்படுகிறது.  
 a. 1992      b. 1994      c. 1996      d. 1998      e. விடை தெரியவில்லை
36. Who founded the Sadhu Jana Paripala Sangam?  
 a. Ayyankali      b. Narayana Guru      c. Jyotiba Phule  
 d. Kumaran Asan & Dr. Palpu      e. Answer not known  
 சாது ஜன பரிபாலன சங்கம் எவரால் நிறுவப்பட்டது?  
 a. அய்யன்காளி      b. நாராயண குரு      c. ஜோதிபா பூலே  
 d. குமரன் ஆசான் & டாக்டர். பால்பு      e. விடை தெரியவில்லை
37. Which of the following about Vaikunda Swamigal is/are correct?  
 i. His original name Mudichudum Perumal was changed to Muthukutty by his parents due to objection raised by the upper caste.  
 ii. He condemned the religious customs and campaigned against animal sacrifice.  
 iii. In 1833, Vaikundar commenced his meditation at Swamithoppu for the abolition of caste differences and social integration of the society.  
 iv. His ideas are collected into a text called Akila Thirattu.  
 a. i, ii, iii, iv      b. i, ii, iii      c. i, iii, iv      d. i, iv only      e. Answer not known  
 வைகுண்ட சுவாமிகளைப் பற்றிய பின்வரும் கூற்றுகளில் எது சரியானது?  
 i. உயர் சாதியினரின் எதிர்ப்பின் காரணமாக அவரது இயற்பெயரான முடிச்சூடும் பெருமாள் அவரது பெற்றோரால் முத்துக்குட்டி என்று மாற்றப்பட்டது.  
 ii. அவர் மத பழக்கவழக்கங்களை கண்டித்து, மிருக பலிக்கு எதிராக பிரச்சாரம் செய்தார்.  
 iii. 1833 ஆம் ஆண்டு வைகுண்டர், சாதி வேறுபாடுகளை களைந்து சமூகத்தின் சமூக ஒருங்கிணைப்பிற்காக சுவாமிதோப்பில் தியானத்தைத் தொடங்கினார்.  
 iv. அவரது கருத்துகள் அகிலத்திரட்டு என்ற நூலாக தொகுக்கப்பட்டுள்ளன.  
 a. i, ii, iii, iv      b. i, ii, iii      c. i, iii, iv      d. i, iv மட்டும்      e. விடை தெரியவில்லை
38. In 1898, Iyothee Thassar founded the \_\_\_\_\_ at Madras to construct the rational religious philosophy.  
 a. Advaidananda Sabha      b. Sakya Buddhist Society  
 c. Dravida Mahajana Sabha      d. Dravida Kazhagam  
 e. Answer not known  
 1898இல் பகுத்தறிவின் அடிப்படையிலான சமயத்தத்துவத்தைக் கட்டமைப்பதற்காக \_\_\_\_\_ எனும் அமைப்பை சென்னையில் அயோத்திதாசர் நிறுவினார்.  
 a. அத்வைதானந்தா சபா      b. சாக்கிய பெளத்த சங்கம்  
 c. திராவிட மகாஜன சபை      d. திராவிடர்க கழகம்  
 e. விடை தெரியவில்லை
39. Choose incorrect pair based on 2011 census.  
 a. Least Populus district – Perambalur      b. Lowest sex ratio – Cuddalore  
 c. Highest sex ratio – Nilgiris      d. Lowest density – Nilgiris  
 e. Answer not known  
 2011 மக்கட்தொகைக் கணக்கெடுப்பின்படி தவறான இணையைக் கண்டறிக.  
 a. குறைந்தபட்ச மக்கள்தொகை கொண்ட மாவட்டம் - பெரம்பலூர்.  
 b. குறைந்தபட்ச பாலின விகிதம் - கடலூர்  
 c. அதிகபட்ச பாலின விகிதம் - நீலகிரி  
 d. குறைந்தபட்ச மக்கள்தொகை அடர்த்தி - நீலகிரி  
 e. விடை தெரியவில்லை

40. Choose incorrect pair based on 2011 census.

- a. Lowest literacy - Dharmapuri
- b. Highest literacy - Kanyakumari
- c. Highest Child sex ratio - Nilgiris
- d. Lowest Child sex ratio - Dharmapuri
- e. Answer not known

2011 மக்கள்தொகை கணக்கெடுப்பின்படி தவறான இணையைக் கண்டறிக.

- a. குறைந்தபட்ச எழுத்தறிவு - தருமபுரி
- b. அதிகபட்ச எழுத்தறிவு - கன்னியாகுமரி
- c. அதிகபட்ச குழந்தை பாலின விகிதம் - நீலகிரி
- d. குறைந்தபட்ச குழந்தை பாலின விகிதம் - தருமபுரி
- e. விடை தெரியவில்லை

41. Choose the incorrect statements from the following statements regarding State Health Index 2019-20.

- 1. It is released by NITI Aayog.
- 2. Tamil Nadu ranked 3<sup>rd</sup> in 2019-20.
- 3. Kerala ranked first while U.P ranked last among Bigger states.

Choose incorrect statements.

- a. 1, 2
- b. 1, 3
- c. 2 alone
- d. None of these
- e. Answer not known

2019-20 மாநில சுகாதாரக் குறியீடு குறித்த பின்வரும் கூற்றுகளில் தவறான கூற்றை / கூற்றுகளைக் கண்டறிக.

- 1. இது நிதி ஆயோக்கால் வெளியிடப்படுகிறது.
  - 2. 2019-20 ஆம் ஆண்டில் தமிழ்நாடு மூன்றாவது இடத்தைப் பிடித்தது.
  - 3. பெரிய மாநிலங்களில், கேரளா முதலிடத்தையும் உத்திர பிரதேசம் கடைசி இடத்தையும் பிடித்துள்ளன.
- a. 1, 2
  - b. 1, 3
  - c. 2 மட்டும்
  - d. மேற்கண்ட எதுவுமில்லை
  - e. விடை தெரியவில்லை

42. Rank of Tamil Nadu in Education Index 2019-20, released by NITI Aayog?

- a. 1<sup>st</sup>
- b. 2<sup>nd</sup>
- c. 3<sup>rd</sup>
- d. 4<sup>th</sup>
- e. Answer not known

நிதி ஆயோக்கால் வெளியிடப்பட்ட 2019-20 ற்கான கல்வி குறியீட்டில், தமிழ்நாடு பெற்ற இடம்,

- a. 1வது
- b. 2வது
- c. 3வது
- d. 4வது
- e. விடை தெரியவில்லை

43. Find the bottom district of Child Development Index?

- a. Ariyalur
- b. Ramanathapuram
- c. Sivagangai
- d. Kanyakumari
- e. Answer not known

குழந்தை வளர்ச்சி குறியீட்டில் கடைநிலை மாவட்டம் எது?

- a. அரியலூர்
- b. இராமநாதபுரம்
- c. சிவகங்கை
- d. கன்னியாகுமரி
- e. விடை தெரியவில்லை

44. The components of the Food Security Index is/are:

- a. Affordability, Availability, Quality & Safety
- b. Availability, Accessibility, Absorption
- c. Natural resources & Resilience, Quality & Safety
- d. Availability, Accessibility, Quality & Safety
- e. Answer not known

உணவு மற்றும் ஊட்டச்சத்து பாதுகாப்பின் மூன்று அடிப்படைக் கூறுகள் எவை?

- a. மலிவு, கிடைத்தல், தரம் மற்றும் பாதுகாப்பு
- b. கிடைத்தல், அணுகல் மற்றும் உட்கிரகித்தல்
- c. இயற்கை வளங்கள் மற்றும் நெகிழ்ச்சி, தரம் மற்றும் பாதுகாப்பு
- d. கிடைத்தல், அணுகல், தரம் மற்றும் பாதுகாப்பு
- e. விடை தெரியவில்லை

45. \_\_\_\_ acts as a single agency to conduct training Programs for qualification upto 12<sup>th</sup> standard and accredits training institutions in Tamilnadu?
- DIET (District Institute of Education & Training)
  - DTEI (Directorate of Technical Education & Training India)
  - TNSDM (Tamilnadu Skill Development Mission)
  - NSTI (National Skill Training Institute, Chennai)
  - Answer not known

ஆனது 12 ஆம் வகுப்பு வரையிலான கல்வித் தகுதிகளுக்கான பயிற்சித் திட்டங்களை நடத்துவதற்கும், தமிழ்நாட்டில் உள்ள பயிற்சி நிறுவனங்களுக்கு அங்கீகாரம் வழங்குவதற்கும் ஒரே நிறுவனமாக செயல்படுகிறது.

- மாவட்ட கல்வி மற்றும் பயிற்சி நிறுவனம் (DIET)
- இந்திய தொழில்நுட்ப கல்வி மற்றும் பயிற்சி இயக்குநரகம் (DTEI)
- தமிழ்நாடு திறன் மேம்பாட்டுப் பணியகம் (TNSDM)
- தேசிய திறன் பயிற்சி நிறுவனம், சென்னை (NSTI)
- விடை தெரியவில்லை

46. Government of Tamil Nadu's Diabetes and hypertension prevention initiative is \_\_\_\_

- Vazhvoli Thittam
- Nalamana Tamilagam
- both a and b
- Neither a nor b
- Answer not known

பின்வருவனவற்றுள் எது தமிழ்நடு அரசின் நீரிழிவு நோய் மற்றும் இரத்த கொதிப்பு தடுப்பு தொடர்பான நடவடிக்கை,

- வாழ்வொளி திட்டம்
- நலமான தமிழகம்
- (a) மற்றும் (b)
- (a) மற்றும் (b) இரண்டுமல்ல
- விடை தெரியவில்லை

47. Choose the programmes implemented by TN Health system project?

- CEmONC centres
- CM Comprehensive Health Insurance Scheme
- Tribal Health
- Poison Treatment Centres

- 1, 2, 3
- 1, 3, 4
- 2, 3, 4
- all of these
- Answer not known

தமிழ்நாடு சுகாதார அமைப்பு திட்டத்தினால் செயல்படுத்தப்படும் திட்டங்கள் யாவை?

- விரிவான அவசரகால மகப்பேறு மற்றும் பச்சிளங்குழந்தை பராமரிப்பு மையங்கள் (CEmONC)
- முதலமைச்சரின் விரிவான மருத்துவ காப்பீடு திட்டம்
- பழங்குடியின மக்களின் சுகாதாரம்
- நஞ்சு சிகிச்சை மையங்கள்

- 1, 2, 3
- 1, 3, 4
- 2, 3, 4
- மேற்கண்ட அனைத்தும்
- விடை தெரியவில்லை

48. Which of the following Millenium Development Goals (MDG) were addressed by TNHSP?

- Reducing child mortality
- Improving Maternal Health
- To combat HIV/AIDS

- 1, 3
- 2, 3
- 1, 2
- 1, 2, 3
- Answer not known

பின்வருவனவற்றுள் எந்த பத்தாயிரம் ஆண்டு வளர்ச்சி இலக்குகளை, TNHSP திட்டம் நிவர்த்தி செய்கிறது?

- குழந்தை இறப்பு வீதத்தை குறைத்தல்
  - தாய் - சேய் நலவாழ்வை மேம்படுத்துதல்
  - HIV/AIDS நோய்க்கு எதிராக போரிடுதல்
- 1, 3
  - 2, 3
  - 1, 2
  - 1, 2, 3
  - விடை தெரியவில்லை

49. Emergency Ambulance Service, (108 helpline) is part of \_\_\_\_

- TNHSP
- TNHSRP
- both a and b
- CMHIS
- Answer not known

அவசரகால ஊர்தி சேவை (108 உதவிஎண்) எதன் ஒரு அங்கமாகும்?

- a. TNHSP                      b. TNHSRP                      c. (a) மற்றும் (b)  
d. CMHIS                      e. விடை தெரியவில்லை

50. TNHSRP is funded by \_\_\_\_\_

- a. World Bank                      b. JICA                      c. ADB  
d. AIIB                      e. Answer not known

TNHSRP திட்டத்திற்கு நிதியுதவி அளிப்பது,

- a. உலக வங்கி                      b. JICA                      c. ADB  
d. AIIB                      e. விடை தெரியவில்லை

51. Which of the following services are provided under 102 - helpline?

1. Drop Back Service (Pregnant Women and New Born)
2. Mentally ill patients pickup and drop
3. Dialysis and Cancer patients pickup and drop

- a. 1, 2                      b. 1, 3                      c. 2, 3                      d. 1, 2, 3                      e. Answer not known

பின்வருவனவற்றுள் எந்த சேவைகள் '102' உதவி எண்ணின் கீழ் வழங்கப்படுகின்றன?

1. பிரசவிக்கும் தாய்மார்கள் மற்றும் பச்சிளம் குழந்தைகளை இல்லத்திற்கு கொண்டு சேர்க்கும் சேவை.
2. மனநலம் பாதிக்கப்பட்ட நோயாளிகளை வீட்டிலிருந்து மருத்துவமனைக்கும் பின்னர் மீண்டும் வீட்டிற்கும் கொண்டு சேர்க்கும் சேவை.
3. டயாலிசிஸ் மற்றும் புற்றுநோய் நோயாளிகளை வீட்டிலிருந்து மருத்துவமனைக்கும் பின்னர் மீண்டும் வீட்டிற்கும் கொண்டு சேர்க்கும் சேவை.

- a. 1, 2                      b. 1, 3                      c. 2, 3                      d. 1, 2, 3                      e. விடை தெரியவில்லை

52. State Rural Health Mission was launched in Tamil Nadu on \_\_\_\_\_

- a. 12.04.2005                      b. 12.05.2005                      c. 12.04.2006  
d. 12.05.2006                      e. Answer not known

மாநில கிராமப்புற நலவாழ்வு இயக்கம் தமிழ்நாட்டில் எப்போது தொடங்கப்பட்டது?

- a. 12.04.2005                      b. 12.05.2005                      c. 12.04.2006  
d. 12.05.2006                      e. விடை தெரியவில்லை

53. Mental Health Act was enacted in \_\_\_\_\_

- a. 1987                      b. 1997                      c. 2007                      d. 2009                      e. Answer not known

மனநல சட்டம் எப்போது இயற்றப்பட்டது?

- a. 1987                      b. 1997                      c. 2007                      d. 2009                      e. விடை தெரியவில்லை

54. 'MaThi' was launched in \_\_\_\_\_

- a. 1984                      b. 1990                      c. 1991                      d. 1992                      e. Answer not known

"மதி திட்டம்" எப்போது தொடங்கப்பட்டது?

- a. 1984                      b. 1990                      c. 1991                      d. 1992                      e. விடை தெரியவில்லை

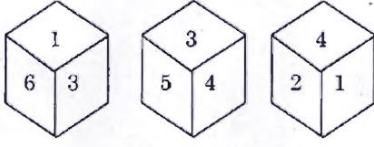
55. Swarna Jeyanthi Saheri Rozgar Yojana is restructured as \_\_\_\_\_

- a. DAY - NRLM                      b. DAY - NULM                      c. Ajeevika  
d. Bharat Nirman                      e. Answer not known

ஸ்வர்ண ஜெயந்தி சஹேரி ரோஜ்கர் யோஜ்னா என்பது \_\_\_\_\_ என மாற்றியமைக்கப்பட்டது

- a. தேசிய ஊரக வாழ்வாதாரத் திட்டம் (DAY - NRLM)
- b. தேசிய நகர்ப்புற வாழ்வாதாரத் திட்டம் (DAY - NULM)
- c. ஆஜீவிகா திட்டம்
- d. பாரத் நிர்மாண்
- e. விடை தெரியவில்லை

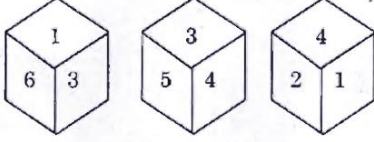
56. Three positions of the same die are give, Find the number opposite to the side represented by 2



- a. 5      b. 3      c. 6      d. 1      e. Answer not known

ஒரு பகடையின் 3 நிலைகள் கீழேத் தரப்பட்டுள்ளது. 2 ஆல் குறித்த பக்கத்திற்கு எண் யாது?

எதிர்பக்க



- a. 5      b. 3      c. 6      d. 1      e. விடை தெரியவில்லை

57. Krishnan is taller than Rajiv who is shorter than Karthick. Keerthana is taller than Ganapathi but shorter than Rajiv. Karthick is shorter than Krishnan. Who is the tallest?

- a. Krishnan      b. Karthick      c. Rajiv      d. Ganapathy      e. Answer not known

கிருஷ்ணன் என்பவர் கார்த்திக்கைவிட உயரம் குறைந்த ராஜிவ்வை விட உயரமாக உள்ளார். கீர்த்தனா கணபதியைவிட உயரமாகவும் ஆனால் ராஜிவ்வை விட உயரம் குறைவாகவும் உள்ளார். கார்த்திக் கிருஷ்ணனைவிட உயரம் குறைந்து காணப்படுகிறார் எனில் இவர்களில் உயரமானவர் யார்?

- a. கிருஷ்ணன்      b. கார்த்திக்      c. ராஜிவ்      d. கணபதி      e. விடை தெரியவில்லை

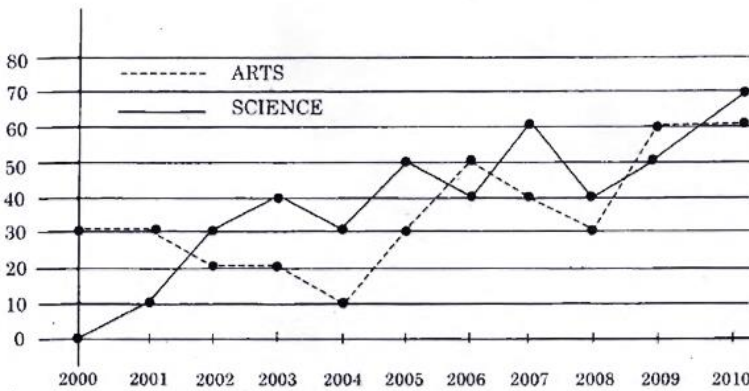
58. What is the probability that a leap year selected at random will contain 53 Saturdays.

- a.  $\frac{1}{7}$       b.  $\frac{2}{7}$       c.  $\frac{5}{7}$       d. 1      e. Answer not known

ஒரு நெட்டாண்டில் (leap year) 53 சனிக்கிழமைகள் கிடைப்பதற்கான நிகழ்தகவு என்ன?

- a.  $\frac{1}{7}$       b.  $\frac{2}{7}$       c.  $\frac{5}{7}$       d. 1      e. விடை தெரியவில்லை

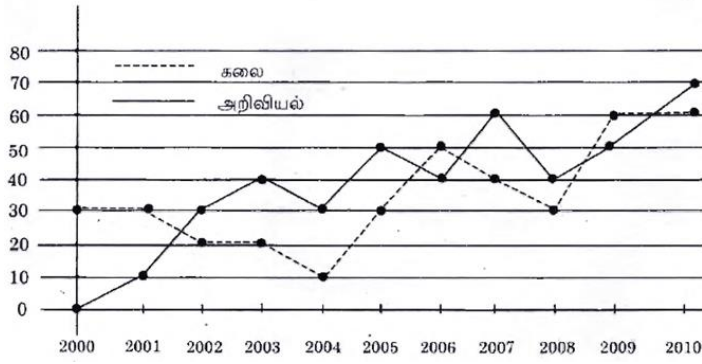
59. Sales by two category for ABC press, 2000-2010 (In thousands of book)



In how many years did the sales of science books exceed the sales of arts books from 2000 to 2009?

- a. 4 Years      b. 5 Years      c. 6 Years  
d. 7 Years      e. Answer not known

ABC என்ற பதிப்பகத்தின் இரு பிரிவு புத்தகங்களின் விற்பனை 2000-2010 (ஆயிரத்தில்)



2000 முதல் 2009 வரை எத்தனை ஆண்டுகள் அறிவியல் புத்தகங்கள் கலைப் புத்தகங்களை விட அதிகமான விற்பனை செய்யப்பட்டது.

- a. 4 ஆண்டுகள்  
b. 5 ஆண்டுகள்  
c. 6 ஆண்டுகள்  
d. 7 ஆண்டுகள்  
e. விடை தெரியவில்லை

60. In a certain code, ALGEBRA as BKHDCQB, then GEOMETRY is coded as  
a. HDPLFUSX  
b. HDPLFSSX  
c. HFPLFUSX  
d. HFPLFUSZ  
e. Answer not known

இரகசிய குறியீட்டு முறையில் ALGEBRA என்பதை BKHDCQB எனக் குறித்தால் GEOMETRY என்பதை எவ்வாறு குறிக்கலாம்?

- a. HDPLFUSX  
b. HDPLFSSX  
c. HFPLFUSX  
d. HFPLFUSZ  
e. விடை தெரியவில்லை

61. Tamil Nadu State Rural Livelihood mission (TNSRLM) is implemented by Government of Tamilnadu from \_\_\_\_\_

- a. 2011-12  
b. 2012-13  
c. 2013-14  
d. 2014-15  
e. Answer not known

தமிழ்நாடு அரசு எப்போது தமிழ்நாடு மாநில ஊரக வாழ்வாதார இயக்கத்தை அமல்படுத்தியது?

- a. 2011-12  
b. 2012-13  
c. 2013-14  
d. 2014-15  
e. விடை தெரியவில்லை

62. Ajeevika scheme was launched in \_\_\_\_\_

- a. 1991  
b. 2009  
c. 2011  
d. 2013  
e. Answer not known

ஆஜீவிகா திட்டம் எப்போது தொடங்கப்பட்டது?

- a. 1991  
b. 2009  
c. 2011  
d. 2013  
e. விடை தெரியவில்லை

63. Which of the following scheme is with the objective of upgrading, strengthening and maintenance of panchayat union and village panchayat roads?

- a. Tamil Nadu Rural Road Improvement Scheme (TNRRIS)  
b. Chief Minister Road Development Programme  
c. Bharatmala Pariyojana  
d. None of the above  
e. Answer not known

கீழ்க்கண்டவற்றில் எத்திட்டம், பஞ்சாயத்து யூனியன் மற்றும் கிராம பஞ்சாயத்து சாலைகளை முன்னேற்றுவது, பலப்படுத்துவது மற்றும் பராமரிப்பதை குறிக்கோளாகக் கொண்டது?

- a. தமிழ்நாடு ஊரக சாலை மேம்பாட்டுத் திட்டம் (TNRRIS)  
b. முதலமைச்சர் சாலை மேம்பாட்டுத் திட்டம்  
c. பாரதமலா பரியோஜனா  
d. மேற்கண்ட எதுவும் இல்லை  
e. விடை தெரியவில்லை

64. Rajiv Gandhi Rehabilitation package is funded by Government of India which is related to \_\_\_\_\_
- a. Tsunami Rehabilitation  
c. 3<sup>rd</sup> Gender Rehabilitation  
e. Answer not known
- b. Differently abled Rehabilitation  
d. Old Age people Rehabilitation
- இந்திய அரசின் நிதியால் செயல்படுத்தப்படும் ராஜீவ் காந்தி மறுவாழ்வு திட்டம் எதற்கானது?
- a. சுனாமியால் பாதித்தவர்களின் மறுவாழ்வு  
c. மூன்றாம் பாலினத்தோர் மறுவாழ்வு  
e. விடை தெரியவில்லை
- b. மாற்று திறனாளிகள் மறுவாழ்வு  
d. முதியோர் மறுவாழ்வு
65. Tsunami Emergency Assistance Project (TEAP) is 100% funded by \_\_\_\_\_
- a. World Bank  
d. JICA  
சுனாமி அவசர உதவி திட்டத்திற்கு (TEAP) 100% நிதியுதவி வழங்குவது
- b. ADB  
e. Answer not known
- a. உலக வங்கி  
c. AIIB  
d. JICA  
e. விடை தெரியவில்லை
66. International Social Justice Day is observed on \_\_\_\_\_
- a. February 20  
d. August 20  
உலக சமூக நீதி தினம் கொண்டாடப்படும் நாள்,
- b. September 16  
e. Answer not known
- a. பிப்ரவரி 20  
c. AIIB  
d. ஆகஸ்ட் 20  
e. விடை தெரியவில்லை
- c. September 17
67. Communal Harmony day is observed on \_\_\_\_\_
- a. February 20  
d. August 20  
மத நல்லிணக்க தினம் அனுசரிக்கப்படும் நாள்,
- b. September 16  
e. Answer not known
- a. பிப்ரவரி 20  
c. AIIB  
d. ஆகஸ்ட் 20  
e. விடை தெரியவில்லை
- c. September 17
68. Quota system was introduced by \_\_\_ in Madras presidency.
- a. S. Muthiah  
d. P. Munusamy  
மதராஸ் மாகாணத்தில் இடஒதுக்கீடு முறையை அறிமுகம் செய்தவர்,
- b. P. Subbarayan  
e. Answer not known
- a. S. முத்தையா  
c. A. Subbarayalu  
d. P. முனுசாமி  
e. விடை தெரியவில்லை
- b. P. சுப்பராயன்  
c. A. சுப்பராயலு
69. Second Communal representation order was passed by Justice party on \_\_\_\_\_
- a. September 16, 1921  
d. August 15, 1922  
நீதிக்கட்சியால் இரண்டாவது வகுப்புவாரி பிரதிநிதித்துவ ஆணை பிறப்பிக்கப்பட்ட நாள்,
- b. August 15, 1921  
e. Answer not known
- a. செப்டம்பர் 16, 1921  
c. செப்டம்பர் 16, 1922  
d. ஆகஸ்ட் 15, 1922  
e. விடை தெரியவில்லை
- b. ஆகஸ்ட் 15, 1921
70. Arrange in chronological order
1. Ujjwala Scheme  
3. Swadhar scheme  
a. 1, 2, 3, 4  
d. 1, 3, 2, 4
2. Prime Minister Ujjwala Yojana  
4. Swadhar Greh  
b. 3, 1, 4, 2  
e. Answer not known
- c. 3, 1, 2, 4

காலவரிசைப்படுத்துக.

1. உஜ்வாலா திட்டம்
  2. பிரதம மந்திரி உஜ்வாலா யோஜனா
  3. ஸ்வதார் திட்டம்
  4. ஸ்வதார் க்ரெஹ் திட்டம்
- a. 1, 2, 3, 4                      b. 3, 1, 4, 2                      c. 3, 1, 2, 4  
d. 1, 3, 2, 4                      e. விடை தெரியவில்லை

71. Choose correct statement regarding SABLA scheme.

1. Scheme was launched on April 1, 2011.
  2. SABLA aims at empowering Adolescent Girls of 11 to 18 years.
  3. SABLA is implemented through ICDS platform.
- a. 1, 2                      b. 1, 3                      c. 2, 3                      d. 1, 2, 3                      e. Answer not known

சாப்லா (SABLA) திட்டம் குறித்த சரியான கூற்றுகளைக் கண்டறிக.

1. இந்த திட்டம் 1 ஏப்ரல், 2011 அன்று தொடங்கப்பட்டது.
  2. 11 முதல் 18 வயதுக்குட்பட்ட வளரிளம் பெண்களுக்கு அதிகாரமளிப்பது சாப்லா திட்டத்தின் நோக்கம்.
  3. சாப்லா திட்டம் ICDS தளம் மூலமாக செயல்படுத்தப்படுகிறது.
- a. 1, 2                      b. 1, 3                      c. 2, 3                      d. 1, 2, 3                      e. விடை தெரியவில்லை

72. Match the following

- A. JSY                      1. 2017  
B. JSSK                      2. 2005  
C. PMMVY                      3. 2010  
D. IGMSY                      4. 2011

- |    | A | B | C | D |
|----|---|---|---|---|
| a. | 2 | 3 | 4 | 1 |
| b. | 1 | 4 | 2 | 3 |
| c. | 3 | 2 | 4 | 1 |
| d. | 2 | 4 | 1 | 3 |

e. Answer not known

பொருத்துக.

- A. JSY                      1. 2017  
B. JSSK                      2. 2005  
C. PMMVY                      3. 2010  
D. IGMSY                      4. 2011

- |    | A | B | C | D |
|----|---|---|---|---|
| a. | 2 | 3 | 4 | 1 |
| b. | 1 | 4 | 2 | 3 |
| c. | 3 | 2 | 4 | 1 |
| d. | 2 | 4 | 1 | 3 |

e. விடை தெரியவில்லை

73. POSHAN Abhiyan is implemented by ministry of \_\_\_\_\_

- a. Home Affairs
- b. Women and Child Development
- c. Human Resource Development
- d. Social Justice and Women Empowerment
- e. Answer not known

போஷான் அபியான் திட்டம் எந்த அமைச்சகத்தால் செயல்படுத்தப்படுகிறது?

- a. உள்துறை
- b. மகளிர் மற்றும் குழந்தைகள் மேம்பாடு
- c. மனிதவள மேம்பாடு
- d. சமூக நீதி மற்றும் பெண்களுக்கு அதிகாரமளித்தல்
- e. விடை தெரியவில்லை



74. ICDS Scheme was launched on \_\_\_\_
- 100<sup>th</sup> birth Anniversary of Mahatma Gandhi
  - 105<sup>th</sup> birth Anniversary of Mahatma Gandhi
  - 106<sup>th</sup> birth Anniversary of Mahatma Gandhi
  - 107<sup>th</sup> birth Anniversary of Mahatma Gandhi
  - Answer not known

ஒருங்கிணைந்த குழந்தை வளர்ச்சிப் பணிகள் (ICDS) எப்போது தொடங்கப்பட்டது?

- மகாத்மா காந்தியின் 100வது பிறந்த தினம்
- மகாத்மா காந்தியின் 105வது பிறந்த தினம்
- மகாத்மா காந்தியின் 106வது பிறந்த தினம்
- மகாத்மா காந்தியின் 107வது பிறந்த தினம்
- விடை தெரியவில்லை

75. National Nutrition Policy was introduced in \_\_\_\_

- 1991
  - 1992
  - 1993
  - 1994
  - Answer not known
- தேசிய ஊட்டச்சத்து கொள்கை அறிமுகப்படுத்தப்பட்ட ஆண்டு,
- 1991
  - 1992
  - 1993
  - 1994
  - விடை தெரியவில்லை

76. CARA - Central Adoption Resource Authority is under ministry of \_\_\_\_

- Home Affairs
- HRD
- Social Justice & Women Empowerment
- Women and Child Development
- Answer not known

மத்திய தத்துவள அதிகார அமைப்பு (CARA) எந்த அமைச்சகத்தின் கீழ் செயல்படுகிறது?

- உள்துறை
- மனிதவள மேம்பாடு
- சமூக நீதி மற்றும் பெண்களுக்கு அதிகாரமளித்தல்
- மகளிர் மற்றும் குழந்தைகள் மேம்பாடு
- விடை தெரியவில்லை

77. Match the following

Marriage Assistance Schemes

- Moovalur Ramamirtham
- Dr. Dharmambal
- Annai Teresa
- E.V.R. Maniammai

Beneficiary

- Daughter of Widows
- Orphan Girls
- Widows Remarriage
- Poor Parents

- |    | A | B | C | D |
|----|---|---|---|---|
| a. | 4 | 3 | 1 | 2 |
| b. | 4 | 3 | 2 | 1 |
| c. | 4 | 1 | 2 | 3 |
| d. | 3 | 4 | 2 | 1 |

- e. Answer not known

பின்வருவனவற்றைப் பொருத்துக.  
திருமண நிதியுதவித் திட்டம்

- மூவலூர் இராமமீர்தம்
- Dr. தர்மம்பாள்
- அன்னை தெரசா
- E.V.R. மணியம்மை

பயனாளர்

- விதவை மகள்
- ஆதரவற்ற பெண்கள்
- விதவை மறுமணம்
- ஏழைப் பெற்றோர்

- |    | A | B | C | D |
|----|---|---|---|---|
| a. | 4 | 3 | 1 | 2 |
| b. | 4 | 3 | 2 | 1 |
| c. | 4 | 1 | 2 | 3 |
| d. | 3 | 4 | 2 | 1 |

- e. விடை தெரியவில்லை

78. Which of the following marriage Assistance Scheme has no income limit?
1. Annai Teresa Scheme for Orphan Girls.
  2. Dharmambal widow remarriage scheme.
  3. Muthulakshmi Ammaiyar Inter-caste marriage
- a. 1, 2      b. 1, 3      c. 2, 3      d. 1, 2, 3      e. Answer not known

பின்வரும் எந்த திருமண நிதி உதவித் திட்டத்திற்கு வருமான வரம்பு இல்லை?

1. அன்னை தெரசா ஆதரவற்ற பெண்கள் திருமண நிதியுதவித் திட்டம்
  2. தர்மம்பாள் விதவை மறுமணத் திட்டம்
  3. முத்துலட்சுமி அம்மையார் கலப்புத் திருமண திட்டம்
- a. 1, 2      b. 1, 3      c. 2, 3      d. 1, 2, 3      e. விடை தெரியவில்லை

79. Which of the following scheme provides basic Infrastructure facilities in rural Areas?

- a. THAI Thittam      b. Anna Marumalarchi Thittam
- c. Namaku Name Thittam      d. both a and b
- e. Answer not known

பின்வரும் எந்தத் திட்டம் கிராமப்புற பகுதிகளில் அடிப்படை உட்கட்டமைப்பு வசதிகளை வழங்குகிறது?

- a. தாய் திட்டம்      b. அண்ணா மறுமலர்ச்சி திட்டம்
- c. நமக்கு நாமே திட்டம்      d. (a) மற்றும் (b)
- e. விடை தெரியவில்லை

80. Which of the following scheme is under PPP model?

- a. PURA      b. Rurban      c. Namaku Namae
- d. None of these      e. Answer not known

பின்வருவனவற்றுள் எந்த திட்டம் PPP (பொது மற்றும் தனியார் கூட்டு) முறையின் கீழ் செயல்படுகிறது?

- a. PURA      b. ரூர்பன்      c. நமக்கு நாமே
- d. மேற்கண்ட எதுவுமில்லை      e. விடை தெரியவில்லை

81. Disabilities Welfare Board of Tamil Nadu was established in \_\_\_\_.

- a. 2006      b. 2007      c. 2008      d. 2009      e. Answer not known

தமிழ்நாடு மாற்றுத்திறனாளிகள் நலவாரியம் அமைக்கப்பட்ட ஆண்டு

- a. 2006      b. 2007      c. 2008      d. 2009      e. விடை தெரியவில்லை

82. Choose correct statements

1. Central Social Welfare Board was established in 1952.
2. Tamil Nadu Social Welfare Board was established in 1953.

- a. 1 alone      b. 2 alone      c. Both 1 and 2
- d. Neither 1 nor 2      e. Answer not known

சரியான கூற்றுகளைத் தேர்ந்தெடுக்கவும்.

1. மத்திய சமூகநல வாரியம் தொடங்கப்பட்ட ஆண்டு 1952
2. தமிழ்நாடு சமூக நல வாரியம் தொடங்கப்பட்ட ஆண்டு 1953

- a. 1 மட்டும்      b. 2 மட்டும்      c. 1 மற்றும் 2
- d. 1, 2 இரண்டுமில்லை      e. விடை தெரியவில்லை

83. Tamil Nadu Backward Class Commission was established on \_\_\_\_

- a. 15.3.1992      b. 15.3.1993      c. 15.3.1994
- d. 15.3.1995      e. Answer not known

தமிழ்நாடு பிற்படுத்தப்பட்டோர் ஆணையம் அமைக்கப்பட்ட ஆண்டு

- a. 15.3.1992      b. 15.3.1993      c. 15.3.1994
- d. 15.3.1995      e. விடை தெரியவில்லை



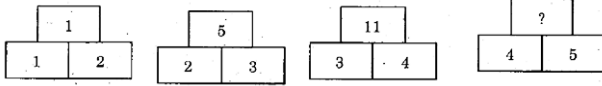
p சிவப்பு, q நீல, r பச்சை நிறக் கூழாங்கற்கள் உள்ள ஒரு குடுவையில் இருந்து ஒரு சிவப்பு கூழாங்கல் எடுப்பதற்கான நிகழ்தகவானது.

a.  $\frac{q}{p+q+r}$       b.  $\frac{p}{p+q+r}$       c.  $\frac{p+q}{p+q+r}$       d.  $\frac{p+r}{p+q+r}$       e. விடை தெரியவில்லை

89. BOOK = 43 and PEN = 35, COPY = ?

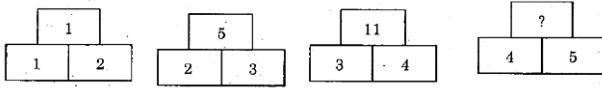
- a. 48      b. 60      c. 59      d. 79      e. Answer not known  
 BOOK என்பது 43 என்றும் PEN என்பது 35 என்றும் எழுதப்பட்டால் COPY என்பது எவ்வாறு எழுதப்படும்?  
 a. 48      b. 60      c. 59      d. 79      e. விடை தெரியவில்லை

90. Find the missing number in the place?



- a. 18      b. 19      c. 20      d. 21      e. Answer not known

'?' குறியிட்ட இடத்தில் வரும் விடுபட்ட எண்ணைக் காண்க:



- a. 18      b. 19      c. 20      d. 21      e. விடை தெரியவில்லை

91. Thanthai Periyar award for social justice was constituted in \_\_\_\_.

- a. 1994      b. 1995      c. 1996      d. 1997      e. Answer not known  
 சமூக நீதிக்கான தந்தை பெரியார் விருது தொடங்கப்பட்ட ஆண்டு  
 a. 1994      b. 1995      c. 1996      d. 1997      e. விடை தெரியவில்லை

92. "Nan Mudhalvan" Scheme is related to?

- a. Career Counselling Scheme      b. Scholarship Scheme  
 c. Direct Grievance Scheme      d. Employment Scheme  
 e. Answer not known

"நான் முதல்வன்" திட்டம் எதைப் பற்றியது?

- a. வேலை வாய்ப்பு வழிகாட்டி திட்டம்      b. உதவித்தொகை திட்டம்  
 c. நேரடி குறைதீர் திட்டம்      d. வேலைவாய்ப்பு திட்டம்  
 e. விடை தெரியவில்லை

93. What are the salient features of Erode plan?

- I. Nationalisation of essential works.  
 II. Providing compulsory and free education to all  
 III. Abolition of untouchability  
 IV. Extending life insurance to all.  
 a. I, II and III      b. I, II and IV      c. I, III and IV  
 d. All the above      e. Answer not known

ஈரோடு திட்டத்தின் முக்கிய அம்சங்கள் யாவை?

- I. அத்தியாவசிய தொழில்களை நாட்டுடைமையாக்கல்.  
 II. அனைவருக்கும் கட்டாய இலவசக்கல்வி அளித்தல்.  
 III. தீண்டாமை ஒழிப்பு.  
 IV. ஆயுள் காப்பீட்டு திட்டத்தை அனைவருக்கும் விரிவுபடுத்துதல்.  
 a. I, II மற்றும் III      b. I, II மற்றும் IV      c. I, III மற்றும் IV  
 d. மேற்கண்ட அனைத்தும்      e. விடை தெரியவில்லை

94. During whose period Jamindari abolition system act was implemented?  
 a. Omandur Ramasamy                      b. T. Prakasam                      c. Kumarasamy Raja  
 d. Kamarajar                                      e. Answer not known  
 ஜமீன்தாரி ஒழிப்பு முறை சட்டம் யாருடைய ஆட்சியில் நடைமுறைப்படுத்தப்பட்டது?  
 a. ஓமாந்தூர் ராமசாமி                      b. T. பிரகாசம்                      c. குமாரசாமி ராஜா  
 d. காமராஜர்                                      e. விடை தெரியவில்லை

95. Find out the wrongly matched pair.  
 a. World Tamil Research Institute                      - 1970  
 b. State Planning Commission                      - 1971  
 c. Uzhavar Sandhai                      - 1999  
 d. Samathuvapuram                      - 1998  
 தவறாகப் பொருந்தியுள்ள இணையைக் காண்க.  
 a. உலக தமிழ் ஆராய்ச்சி நிறுவனம்                      - 1970  
 b. மாநில திட்டக் குழு                      - 1971  
 c. உழவர் சந்தை                      - 1999  
 d. சமத்துவபுரம்                      - 1998  
 e. விடை தெரியவில்லை

96. Match the following  
 A. Green house scheme                      1. 2011  
 B. Amma pharmacy                      2. 2013  
 C. Amma canteen                      3. 2014  
 D. Amma Arogya thittam                      4. 2015  
 A                      B                      C                      D  
 a.                      1                      2                      3                      4  
 b.                      1                      3                      2                      4  
 c.                      1                      2                      4                      3  
 d.                      1                      3                      4                      2                      e. Answer not known

பொருத்துக.

- A. பசுமை இல்லம் திட்டம்                      1. 2011  
 B. அம்மா மருந்தகம்                      2. 2013  
 C. அம்மா உணவகம்                      3. 2014  
 D. அம்மா ஆரோக்கிய திட்டம்                      4. 2015

- A                      B                      C                      D  
 a.                      1                      2                      3                      4  
 b.                      1                      3                      2                      4  
 c.                      1                      2                      4                      3  
 d.                      1                      3                      4                      2                      e. விடை தெரியவில்லை

97. Find out the wrong statement regarding Chief Minister's Uzhavar Potection Scheme.  
 a. It was started on 2012  
 b. The age limit for the beneficiaries is 18-65 years  
 c. The scheme provided marriage assistance fund to males  
 d. Old age pension Rs.1000/- is provided through revenue department  
 e. Answer not known  
 முதல்வரின் உழவர் பாதுகாப்பு திட்டம் பற்றிய தவறான கூற்று எது?  
 a. இது 2012ஆம் ஆண்டு துவங்கப்பட்டது.  
 b. பயனாளர்களுக்கான வயது வரம்பு 18-65 வருடங்கள்.  
 c. இத்திட்டம் ஆண்களுக்கு திருமண உதவித்தொகை வழங்குகிறது.  
 d. வருவாய் துறை மூலம் ஓய்வூதியமாக ரூ. 1000/- வழங்கப்படுகிறது  
 e. விடை தெரியவில்லை

98. Choose the correct statements regarding Urban Wage employment scheme.

- I. This is modelled in line with MGNREGA scheme.  
II. It is based on the Rengarajan committee recommendations  
III. The scheme guarantees 100 days of work to urban poor  
a. I and II only                      b. II and III only                      c. I and III only  
d. All are correct                      e. Answer not known

நகர்ப்புற வேலைவாய்ப்பு திட்டம் குறித்த சரியான கூற்றுகளைக் தேர்வு.

- I. இது MGNREGA வடிவில் அமைக்கப்பட்ட திட்டமாகும்.  
II. ரங்கராஜன் குழுவின் பரிந்துரையின் பேரில் செயல்படுத்தப்படுகிறது.  
III. நகர வாழ் ஏழைகளுக்கு 100 நாள் வேலை வாய்ப்பை உறுதியளிக்கும் திட்டமாகும்.  
a. I மற்றும் II மட்டும்                      b. II மற்றும் III மட்டும்                      c. I மற்றும் II மட்டும்  
d. அனைத்தும் சரி                      e. விடை தெரியவில்லை

99. The other name for Vaazhvoli thittam is \_\_\_\_\_

- a. School Health programme                      b. Thursday School health programme  
c. Children health programme                      d. Kannoli thittam  
e. Answer not known

வாழ்வொளி திட்டத்தின் வேறுபெயர் என்ன?

- a. பள்ளி குழந்தைகள் நலத் திட்டம்                      b. வியாழன் பள்ளி நலத் திட்டம்  
c. குழந்தைகள் நலத் திட்டம்                      d. கண்ணொளித் திட்டம்  
e. விடை தெரியவில்லை

100. The sectors identified by Tamilnadu State Action Plan on Climate Change are

- I. Sustainable agriculture                      II. Pollution control  
III. Sustainable habitat                      IV. Knowledge management  
a. I, II and III                      b. II, III and IV                      c. I, III and IV  
d. All the above                      e. Answer not known

காலநிலை மாற்றம் குறித்த தமிழ்நாடு மாநில செயல் திட்டத்தில் உள்ள துறைகளை தெரிவு செய்க.

- I. நிலையான வேளாண்மை                      II. மாசு கட்டுப்பாடு  
III. நிலையான வாழிடம்                      IV. அறிவு மேலாண்மை  
a. I, II மற்றும் III                      b. II, III மற்றும் IV                      c. I, III மற்றும் IV  
d. மேற்கண்ட அனைத்தும்                      e. விடை தெரியவில்லை

101. The name of the award given to Adidravidar students who secured first rank in 12<sup>th</sup> public exam in district level is \_\_\_\_\_

- a. Anna memorial award                      b. Annal Gandhi memorial award  
c. Kamarajar memorial award                      d. Nehru memorial award  
e. Answer not known

12-ஆம் வகுப்பு பொதுத்தேர்வில் மாவட்ட அளவில் முதல் மதிப்பெண் பெறும் ஆதிதிராவிட மாணவர்களுக்கு வழங்கப்படும் பரிசு \_\_\_\_\_.

- a. அண்ணா நினைவு விருது                      b. அண்ணல் காந்தி நினைவு விருது  
c. காமராஜர் நினைவு விருது                      d. நேரு நினைவு விருது  
e. விடை தெரியவில்லை

102. In which year Asia's first Veterinary and Animal Science University was established in Tamilnadu?

- a. 1985                      b. 1987                      c. 1989                      d. 1991                      e. Answer not known  
ஆசியாவின் முதல் கால்நடை மற்றும் விலங்கு அறிவியல் பல்கலைக் கழகம் தமிழ்நாட்டில் துவக்கப்பட்ட ஆண்டு  
a. 1985                      b. 1987                      c. 1989                      d. 1991                      e. விடை தெரியவில்லை



- a. பிரிவு 243D - பஞ்சாயத்து தேர்தலில் 1/3 இட ஒதுக்கீடு
- b. பிரிவு 330 - பாராளுமன்ற தேர்தலில் இடஒதுக்கீடு
- c. பிரிவு 332 - சட்டமன்ற தேர்தலில் இடஒதுக்கீடு
- d. பிரிவு 339 - தேசிய பிற்படுத்தப்பட்டோர் நல ஆணையம்
- e. விடை தெரியவில்லை

108. Project Star 2.0 relates with\_\_\_\_\_

- a. Promoting school education
- b. Crop insurance
- c. Simplified registration
- d. Skill development
- e. Answer not known

STAR 2.0 திட்டம் எதனுடன் தொடர்புடையது?

- a. பள்ளிக் கல்வி மேம்பாடு
- b. பயிர் காப்பீடு
- c. பத்திரப்பதிவு எளிமையாக்கம்
- d. திறன் மேம்பாடு
- e. விடை தெரியவில்லை

109. Choose the correct statement from the following

- I. TNSDC was started on 2011 under the National e-governance action plan.
- II. This is the first ISO certified state data centre in the country
- III. Tamilnadu Disaster Relief Centre was started on 2017 in Chennai
- a. I and II
- b. II and III
- c. I and III
- d. All are correct
- e. Answer not known

பின்வரும் கூற்றுகளில் சரியானதைத் தேர்ந்தெடு

- I. TNSDC என்பது தேசிய மின் ஆளுமைத் செயல் திட்டத்தின் கீழ் 2011ஆம் ஆண்டு தொடங்கப்பட்டது.
- II. இது நாட்டின் முதல் ISO சான்றளிக்கப்பட்ட மாநில தரவு மையமாகும்
- III. தமிழ்நாடு பேரழிவு மீட்பு மையம் (TNDRC) 2017ஆம் ஆண்டு சென்னையில் நிறுவப்பட்டது.
- a. I மற்றும் II
- b. II மற்றும் III
- c. I மற்றும் III
- d. மேற்கண்ட அனைத்தும்
- e. விடை தெரியவில்லை

110. Which of the following is the largest source of irrigation in Tamil Nadu?

- a. Rivers
- b. Lakes
- c. Canals
- d. Wells
- e. Answer not known

தமிழ்நாட்டின் மிகப்பெரிய நீர்ப்பாசன ஆதாரம் எது?

- a. ஆறுகள்
- b. ஏரிகள்
- c. கால்வாய்கள்
- d. கிணறுகள்
- e. விடை தெரியவில்லை

111. Choose the wrong statement regarding Beti Bachao Beti Padhao scheme.

- a. It was started on January 22, 2015.
- b. It was launched in Panipet in Haryana state
- c. In Tamilnadu Dharmapuri district is selected to implement the scheme.
- d. Increasing child sex ratio is the major aim of the scheme.
- e. Answer not known

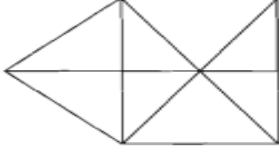
'Beti Bachao Beti Padhao' திட்டம் பற்றிய தவறான கூற்றைக் காண்க

- a. இது ஜனவரி 22, 2015இல் துவங்கப்பட்டது
- b. இது ஹரியானா மாநிலம் பானிபட்டில் தொடங்கப்பட்டது
- c. தமிழகத்தில் தர்மபுரி மாவட்டம் இத்திட்டத்தினை செயல்படுத்த தேர்வு செய்யப்பட்டுள்ளது.
- d. குழந்தை பாலின விகிதத்தை உயர்த்துவதே இதன் நோக்கம்
- e. விடை தெரியவில்லை



112. Find out the wrongly matched pair.
- a. Eastern side - Point Calimere  
b. Western side - Anaimalai  
c. Northern side - Chennai  
d. Southern side - Cape Comarin  
e. Answer not known
- தவறாகப் பொருந்தியுள்ள இணையைக் காண்க
- a. கிழக்கு - கோடியக்கரை  
b. மேற்கு - ஆனைமலை  
c. வடக்கு - சென்னை  
d. தெற்கு - குமரிமுனை  
e. விடை தெரியவில்லை
113. Where is National Research Centre for Banana located?
- a. Thayanur b. Lalapet c. Aduthurai  
d. Musiri e. Answer not known
- தேசிய வாழை ஆராய்ச்சி நிறுவனம் எங்கு உள்ளது?
- a. தயனூர் b. லாலாபேட்டை c. ஆடுதுறை  
d. முசிநி e. விடை தெரியவில்லை
114. The Gateway of Chennai is \_\_\_\_\_
- a. Chengalpattu b. Tiruvallur c. Thindivanam  
d. Vellore e. Answer not known
- “சென்னையின் நுழைவுவாயில்” என்பது
- a. செங்கல்பட்டு b. திருவள்ளூர் c. திண்டிவனம்  
d. வேலூர் e. விடை தெரியவில்லை
115. Which app was launched by Tamil Nadu tourism department to boost tourism?
- a. Pinakin b. Tourist Guide c. TN Guide  
d. None of these e. Answer not known
- தமிழ்நாட்டு சுற்றுலாத் துறையால் சுற்றுலாத் துறையை மேம்படுத்த அறிமுகப்படுத்தப்பட்ட செயலி எது?
- a. பினாகின் b. டூரிட்ஸ் கைடு c. TN கைடு  
d. ஏதுமில்லை e. விடை தெரியவில்லை
116. A clock seen on a mirror shows quarter past three. What is the correct time shown by the Clock?
- a. 8 hours 45 minutes b. 9 hours 12 minutes c. 8 hours 17 minutes  
d. 9 hours 15 minutes e. Answer not known
- ஒரு கடிகாரம் கண்ணாடியில் பார்க்கும் போது நேரம் 3 மணி 15 நிமிடங்கள் எனக் காட்டுகிறது எனில் கடிகாரத்தின் சரியான நேரம்?
- a. 8 மணி 45 நிமிடங்கள் b. 9 மணி 12 நிமிடங்கள் c. 8 மணி 17 நிமிடங்கள்  
d. 9 மணி 15 நிமிடங்கள் e. விடை தெரியவில்லை
117. \_\_\_ a a \_\_\_ b a \_\_\_ b b \_\_\_ a b \_\_\_ a a b
- a. a a a b b. b a b a b  
c. b b a a b d. b b b a a e. Answer not known / விடை தெரியவில்லை

118. How many triangles are there in the given diagram?



- a. 18                      b. 17                      c. 16                      d. 15                      e. Answer not known

இந்தப் படத்தில் மொத்தம் எத்தனை முக்கோணங்கள் உள்ளன?

- a. 18                      b. 17                      c. 16                      d. 15                      e. விடை தெரியவில்லை

119. Kala and Vani are friends. Kala says 'Today is my Birthday' and she asked Vani "When will you celebrate your Birth Day?" Vani replies "Today is Monday and I Celebrated my birthday 75 days ago". Find the day when Vani celebrated her Birthday.

- a. Thursday                      b. Tuesday                      c. Wednesday  
d. Friday                      e. Answer not known

கலா மற்றும் வாணி இருவரும் நண்பர்கள். இன்று எனது பிறந்த நாள் எனக் கலா கூறினாள். வாணியிடம் "உன் பிறந்த நாளை எப்போது நீ கொண்டாடினாய்?" எனக் கேட்டாள். அதற்கு வாணி "இன்று திங்கள் கிழமை, நான் என்னுடைய பிறந்தநாளை 75 நாட்களுக்கு முன் கொண்டாடினேன் எனப் பதிலளித்தாள்" வாணியின் பிறந்தநாள் எந்த கிழமையில் வந்திருக்கும் எனக் காண்க

- a. வியாழக்கிழமை                      b. செவ்வாய்க்கிழமை                      c. புதன்கிழமை  
d. வெள்ளிக்கிழமை                      e. விடை தெரியவில்லை

120. Pigeon: Peace: : White flag : ?

- a. Friendship                      b. Victory                      c. Surrender                      d. War                      e. Answer not known

பூறா : அமைதி : : வெள்ளைக் கொடி : ?

- a. நட்பு                      b. வெற்றி                      c. சரணாகதி                      d. போர்                      e. விடை தெரியவில்லை

121. Which of the following wetlands was recently announced as Birds sanctuary.

- a. Kazhuveli                      b. Muthupet                      c. Pallikaranai  
d. Thalainayar                      e. Answer not known

சமீபத்தில் எந்த ஈரநிலம் பறவைகள் சரணாலயமாக அறிவிக்கப்பட்டுள்ளது?

- a. கழுவேலி                      b. முத்துப்பேட்டை                      c. பள்ளிகரணை  
d. தலைநாயர்                      e. விடை தெரியவில்லை

122. Find out the wrongly matched pair.

- a. Kanjirankulam Birds Sanctuary                      - Ramanathapuram  
b. Vaduvor Birds Sanctuary                      - Tiruvarur  
c. Karaivetti Birds Sanctuary                      - Vilupuram  
d. Vettangudi Birds Sanctuary                      - Sivagangai  
e. Answer not known

தவறாகப் பொருந்தியுள்ள இணையைக் காண்க

- a. கஞ்சிரங்குளம் பறவைகள் சரணாலயம்                      - இராமநாதபுரம்  
b. வடுவூர் பறவைகள் சரணாலயம்                      - திருவாரூர்  
c. காரைவேட்டி பறவைகள் சரணாலயம்                      - விழுப்புரம்  
d. வேட்டங்குடி பறவைகள் சரணாலயம்                      - சிவகங்கை  
e. விடை தெரியவில்லை

123. When was the Integrated Disease Surveillance Project launched in

- a. 2003                      b. 2004                      c. 2006                      d. 2008                      e. Answer not known

ஒருங்கிணைந்த நோய் கண்காணிப்பு திட்டம் எப்போது துவங்கப்பட்டது?

- a. 2003                      b. 2004                      c. 2006                      d. 2008                      e. விடை தெரியவில்லை

124. Choose the correct statement from the following.

I. Kerala tops in the quality education index of the SDG index 2020-21 released by NITI Aayog.

II. Tamil Nadu stands in third position.

a. I only

b. II only

c. Both I and II

d. neither I nor II

e. Answer not known

பின்வரும் கூற்றுகளில் சரியானதைத் தேர்ந்தெடு

I. நிதி ஆயோக்கால் வெளியிடப்பட்ட நீடித்த வளர்ச்சி குறியீட்டின் (2020-21) தரமான கல்வி குறியீட்டில் கேரளா முதலிடம் பெற்றது.

II. தமிழ்நாடு மூன்றாவது இடத்தில் உள்ளது

a. I மட்டும்

b. II மட்டும்

c. இரண்டும்

d. இரண்டுமில்லை

e. விடை தெரியவில்லை

125. Choose the responsibility of the Tamil Nadu Drugs Control Department?

a. To ensure the availability of quality drugs to the public

b. To make sure the market is free from counterfeit, spurious and substandard drugs

c. To ensure drugs are sold at a price not higher than the retail price marked on the container.

d. All the above

e. Answer not known

பின்வருவனவற்றுள் தமிழ்நாடு மருந்துகள் கட்டுப்பாட்டுத் துறையின் பொறுப்புகள் யாவை?

a. தரமான மருந்துகள் கிடைப்பதை உறுதிசெய்தல்

b. கள்ள சந்தை, போலி மற்றும் தரமற்ற மருந்து விற்பனையை தடுத்தல்

c. பெட்டகத்தில் குறிக்கப்பட்ட விலையை விட அதிகமாக விற்காததை உறுதி செய்தல்

d. மேற்கண்ட அனைத்தும்

e. விடை தெரியவில்லை

126. The primary objective of Tamil Nadu Medical Services Corporation is \_\_\_\_

a. Regulate the medical colleges in the state.

b. Ensure the availability of essential drugs in all government medical institutions across the state.

c. Provide free and quality health care to all.

d. All the above.

e. Answer not known

தமிழ்நாடு மருத்துவ சேவைகள் கழகத்தின் முதன்மை நோக்கம் யாது

a. மருத்துவ கல்லூரிகளை ஒழுங்குபடுத்துதல்

b. மாநிலம் முழுவதும் உள்ள அரசு மருத்துவ நிறுவனங்களில் அத்தியாவசிய மருந்து இருப்பை உறுதி செய்தல்

c. அனைவருக்கும் தரமான, இலவச மருத்துவசேவை வழங்குதல்

d. மேற்கண்ட அனைத்தும்

e. விடை தெரியவில்லை

127. Tamil Nadu government forms a committee to draft a state education policy. Who is the head of this committee?

a. Murugesan

b. Kalaiarasan

c. Muthukumar

d. Anandha Narayanan

e. Answer not known

தமிழ் நாட்டிற்காக மாநில கல்விக் கொள்கை வரையறுக்க யாருடைய தலைமையில் குழு அமைக்கப்பட்டுள்ளது?

a. முருகேசன்

b. கலையரசன்

c. முத்துக்குமார்

d. அனந்த நாராயணன்

e. விடை தெரியவில்லை

128. \_\_\_\_\_ has played critical role in shaping POSHAN Abhiyan.
- a. NITI Ayog  
b. PM office  
c. Ministry of women & child development  
d. None of these  
e. Answer not known

போஷான் அபியான் திட்டத்தை உருவாக்குவதில் முக்கிய பங்கு வகித்தது,

- a. நிதி ஆயோக்  
b. பிரதமர் அலுவலகம்  
c. மகளிர் மற்றும் குழந்தைகள் மேம்பாடு அமைச்சகம்  
d. மேற்கண்ட எதுவுமில்லை  
e. விடை தெரியவில்லை

129. Under which scheme, student Volunteer play an instrumental role in awareness generation regarding Government schemes for women and social issues of women at block level?

- a. SAKHI  
b. Mahila Sakthi Kendra  
c. Swadhar Greh  
d. BBBP  
e. Answer not known

வட்டார அளவில் பெண்களுக்கான அரசு திட்டங்கள் மற்றும் சமூக சிக்கல்களைக் குறித்த விழிப்புணர்வை ஏற்படுத்துவதற்காக மாணவ தன்னார்வலர்கள் முக்கிய பங்கு வகிக்கும் திட்டம்,

- a. சகி  
b. மகளிர் சக்தி கேந்திரா  
c. ஸ்வதார கிரெஹ்  
d. BBBP  
e. விடை தெரியவில்லை

130. POCSO Act implementation in Tamil Nadu has been Monitored by \_\_\_\_\_

- a. Nation Commission for women  
b. Tamil Nadu Women Commission  
c. National Commission for Protection of Child rights  
d. Tamil Nadu Commission for Protection of Child Rights  
e. Answer not known

தமிழ்நாட்டில் போக்சோ சட்டத்தின் செயல்பாட்டைக் கண்காணிப்பது,

- a. தேசிய மகளிர் ஆணையம்  
b. தமிழ்நாடு மகளிர் ஆணையம்  
c. தேசிய குழந்தை உரிமைகள் பாதுகாப்பு ஆணையம்  
d. தமிழ்நாடு குழந்தை உரிமைகள் பாதுகாப்பு ஆணையம்  
e. விடை தெரியவில்லை

131. Namaku Namae Scheme was launched in \_\_\_\_\_

- a. 1996-97  
b. 1997-98  
c. 1998-99  
d. 1999-2000  
e. Answer not known

நமக்கு நாமே திட்டம் தொடங்கப்பட்ட ஆண்டு \_\_\_\_\_,

- a. 1996-97  
b. 1997-98  
c. 1998-99  
d. 1999-2000  
e. விடை தெரியவில்லை

132. Who was the first chairman of Central Social Welfare Board?

- a. Muthulakshmi Reddy  
b. Durgabhai Deshmukh  
c. Vijayalakshmi Pandit  
d. Rukmani Laxmipathy  
e. Answer not known

மத்திய சமூக நலவாரியத்தின் முதல் தலைவர் யார்?

- a. முத்துலட்சுமி ரெட்டி  
b. துர்காபாய் தேஷ்முக்  
c. விஜயலட்சுமி பண்டிட்  
d. ருக்மணி இலட்சுமிபதி  
e. விடை தெரியவில்லை

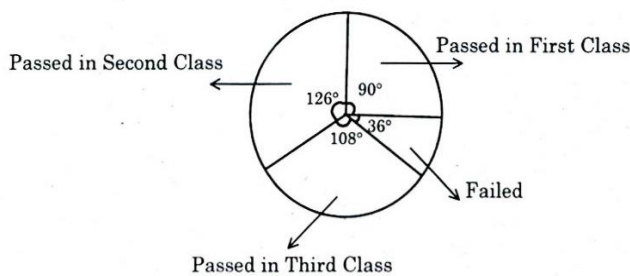
133. Choose incorrect statements

1. Commission for protection of Child Rights Act - 2005.
2. National Commission for protection of Child Rights - 2007.
3. Tamil Nadu State Commission for protection of Child Rights - 2012



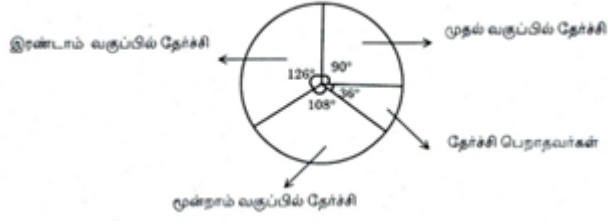


142. The name of Anna's economic model is\_\_\_\_  
 a. Scientific socialism      b. Capitalistic economy      c. Mixed economy  
 d. none of this      e. Answer not known  
 அண்ணா அவரது பொருளாதாரக் கொள்கைக்கு இட்ட பெயர்?  
 a. விஞ்ஞான சோஷியலிஸம்      b. முதலாளித்துவ பொருளாதாரம்      c. கலப்பு பொருளாதாரம்  
 d. இவற்றில் ஏதுமில்லை      e. விடை தெரியவில்லை
143. During whose period Agriculture debt relief act was enacted for first time?  
 a. Kamarajar      b. Karunanidhi      c. Rajaji  
 d. Jayalalitha      e. Answer not known  
 விவசாயக் கடன்களை ரத்து செய்யும் சட்டம் முதன்முதலில் யாருடைய ஆட்சியில் இயற்றப்பட்டது?  
 a. காமராஜர்      b. கருணாநிதி      c. ராஜாஜி  
 d. ஜெயலலிதா      e. விடை தெரியவில்லை
144. First ordinary elections to all local bodies were held in Tamilnadu in \_\_\_\_  
 a. October 1994      b. October 1995      c. October 1996  
 d. October 1997      e. Answer not known  
 தமிழகத்தில் அனைத்து உள்ளாட்சி அமைப்புகளுக்கும் முதன்முதலில் எப்போது தேர்தல் நடைபெற்றது?  
 a. அக்டோபர் 1994      b. அக்டோபர் 1995      c. அக்டோபர் 1996  
 d. அக்டோபர் 1997      e. விடை தெரியவில்லை
145. Choose the correct statements  
 1. TN Panchayat Act was enacted in 1994  
 2. The Act came into force with effect from 22.04.1994  
 a. 1 alone      b. 2 alone      c. Both 1 and 2  
 d. Neither 1 nor 2      e. Answer not known  
 சரியான வாக்கியங்களைத் தேர்ந்தெடுக்க  
 1. தமிழ்நாடு பஞ்சாயத்து சட்டம் 1994 ல் இயற்றப்பட்டது  
 2. இந்த சட்டம் 22.04.1994 இல் இருந்து அமலுக்கு வந்தது  
 a. 1 மட்டும்      b. 2 மட்டும்      c. 1 மற்றும் 2 சரி  
 d. இரண்டுமில்லை      e. விடை தெரியவில்லை
146. In a row of girls, Anandhi is eighth from the left and Magizhini is seventeenth from the right. If they interchange their positions, Ananthi becomes fourteenth from the left. How many girls are there in the row?  
 a. 25      b. 27      c. 30      d. 33      e. Answer not known  
 சிறுமிகளின் வரிசையில், ஆனந்தி இடமிருந்து எட்டாவது இடத்திலும் மகிழினி வலமிருந்து பதினேழாவது இடத்திலும் உள்ளனர். அவர்கள் தங்கள் நிலைகளை மாற்றிக்கொண்டால் ஆனந்தி இடமிருந்து பதினான்காவது இடத்தில் இருந்தால் வரிசையில் மொத்தம் எத்தனை பெண்கள் உள்ளனர்?  
 a. 25      b. 27      c. 30      d. 33      e. விடை தெரியவில்லை
147. Given the pie chart obtain the pass percentage of student who passed in first class.



- a. 35%      b. 30%      c. 10%      d. 25%      e. Answer not known

இந்த எளிவட்ட விளக்க படத்திலிருந்து மாணவர்கள் முதல் வகுப்பு தேர்ச்சி பெற்றவர்களது விழுக்காடு என்ன?



- a. 35%      b. 30%      c. 10%      d. 25%      e. விடை தெரியவில்லை

148. What is the probability of getting more than 3 when a dice is thrown?

- a.  $\frac{1}{2}$       b.  $\frac{1}{3}$       c.  $\frac{2}{3}$       d.  $\frac{1}{6}$       e. Answer not known

ஒரு பகடை உருட்டப்படும்போது, 3 ற்கு மேல் விழுவதற்கு நிகழ்தகவு என்ன?

- a.  $\frac{1}{2}$       b.  $\frac{1}{3}$       c.  $\frac{2}{3}$       d.  $\frac{1}{6}$       e. விடை தெரியவில்லை

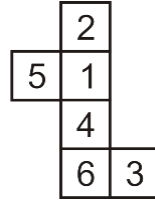
149. If CLASSIC can be written as XOZHHRX then CHILD can be written as

- a. XSROW      b. XSROV      c. XSROU  
d. SXROW      e. Answer not known

CLASSIC என்பதை XOZHHRX என எழுதினால் CHILD என்பதை எவ்வாறு எழுதலாம்?

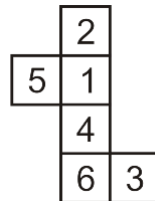
- a. XSROW      b. XSROV      c. XSROU  
d. SXROW      e. விடை தெரியவில்லை

150. If the following figure represents the outer surface of a Dice. Which of the following pairs is not on opposite sides?



- a. 2 and 4      b. 1 and 6      c. 5 and 3  
d. 1 and 3      e. Answer not known

கீழ்க்காணும் வடிவம் ஒரு தாயக் கட்டையின் மேல் பரப்பை காட்டுகிறது. கீழே கொடுக்கப்பட்ட இணைகளில் எது எதிர்பக்கங்களில் அமையாத இணை?



- a. 2 and 4      b. 1 and 6      c. 5 and 3  
d. 1 and 3      e. விடை தெரியவில்லை