

APP LO STUDY CENTRE

HIT THE BULL'S EYE

TEST XXXI PREMODEL V

(CURRENT AFFAIRS, MENTAL ABILITY, THIRUKURAL & GENERAL ENGLISH)

- The poet received the Kuvempu Rashtriya Puraskar for the year 2020,
 - Sudarshan Sahoo
 - Namita Gokhale
 - Ambai
 - Dr. Rajendra Kishore Panda
 - Answer not known

2020ஆம் ஆண்டிற்கான குவெம்பு ராஷ்ட்ரிய புரஷ்கர் விருது பெற்ற கவிஞர்

 - சுதர்சன சாஹூ
 - நமீதா கோகலே
 - அம்பை
 - டாக்டர். இராஜேந்திர கிஷோர் பாண்டா
 - விடை தெரியவில்லை
- Valmiki Tiger Reserve is located in
 - Uttar Pradesh
 - Bihar
 - Uttarkhand
 - Jharkhand
 - Answer not known

வால்மீகி புலிகள் காப்பகம் எங்கு உள்ளது?

 - உத்திரபிரதேசம்
 - பீகார்
 - உத்தராகண்ட்
 - ஜார்கண்ட்
 - விடை தெரியவில்லை
- Identify the correct statements
 - National Fish Farmers Day is celebrated on 10th July
 - The annual event is to commemorate the contributions of Dr. Hiralal Chaudary and Dr. Alikunhi
 - The day is celebrated by National Fish Farmers Board (NFFB)
 - 1 only
 - 3 only
 - 1 and 2 only
 - All of these
 - Answer not known

சரியான கூற்றுகளைக் கண்டறிக

 - தேசிய மீன்வளர்ப்பு விவசாயிகள் தினம் ஜூலை 10 அன்று கொண்டாடப்படுகிறது
 - இந்த தினமானது டாக்டர் ஹிராலால் செளத்ரி மற்றும் டாக்டர் அலிகுன்ஹியின் பங்களிப்பை நினைவு கூற ஒவ்வொரு வருடமும் கடைபிடிக்கப்படுகிறது
 - இந்த தினம் தேசிய மீன்வளர்ப்பு விவசாயிகள் வாரியத்தால் (NFFB) கடைபிடிக்கப்படுகிறது.
 - 1 மட்டும்
 - 3 மட்டும்
 - 1 மற்றும் 2 மட்டும்
 - இவை அனைத்தும்
 - விடை தெரியவில்லை
- North Eastern Institute of Ayurveda and Fold Medicine Research is present in
 - Arunachal Pradesh
 - Assam
 - Sikkim
 - Meghalaya
 - Answer not known

வடகிழக்கு ஆயுர்வேத மற்றும் நாட்டு மருத்துவ ஆராய்ச்சிக் கல்வி நிறுவனமானது எங்கு உள்ளது?

- a. அருணாச்சலபிரதேசம் b. அசாம் c. சிக்கிம்
d. மேகாலயா e. விடை தெரியவில்லை

5. Consider the following statements

1. 'Thagaisal Thamizhar' award has been instituted to honour an eminent Tamil personality for their contribution to Tamil Language
 2. The inaugural award was received by N. Sankaraiah
 3. The award will be presented every year on Independence Day
- a. 1 and 2 are correct b. 1 only is incorrect c. All are correct
d. 2 only is incorrect e. Answer not kown

பின்வரும் கூற்றுகளை ஆய்க

1. தமிழ்மொழியின் வளர்ச்சிக்கு பங்காற்றுவவர்களை பெருமைப்படுத்தும் விதமாக 'தகைசால் தமிழர்' விருது உருவாக்கப்பட்டுள்ளது
 2. முதன் முதலாக இவ்விருதை N. சங்கரய்யா பெற்றார்
 3. இவ்விருது ஒவ்வொரு ஆண்டும் சுதந்திர தினத்தன்று வழங்கப்படும்.
- a. 1 மற்றும் 2 சரி b. 1 மட்டும் தவறு c. அனைத்தும் சரி
d. 2 மட்டும் தவறு e. விடை தெரியவில்லை

6. The incumbent Chief Scientist of World Health Organisation is

- a. Gagandeep Kang b. Maria Van Karkhove
c. Soumya Swaminathan d. Norman Borlaug
e. Answer not known

உலக சுகாதார அமைப்பின் தற்போதைய தலைமை அறிவியலாளர்

- a. ககந்தீப் காங் b. மரியா வான் கேர்கோவ்
c. செளமியா சுவாமிநாதன் d. நார்மன் போர்லாக்
e. விடை தெரியவில்லை

7. Who has been appointed as the director general of Border Security Force?

- a. Sanjay Arora b. Balaji Srivatsav c. Rakesh Asthana
d. Pankaj Kumar Singh e. Answer not known

எல்லைப் பாதுகாப்பு படையின் தலைமை இயக்குநராக நியமிக்கப்பட்டுள்ளவர் யார்?

- a. சஞ்சய் அரோரா b. பாலாஜி ஸ்ரீவத்சவ் c. ராகேஷ் அஸ்தானா
d. பங்கஜ் குமார் சிங் e. விடை தெரியவில்லை

8. கூற்று (A): இன்பம் தரும் நிழலும் நீரும் நோய் செய்வனவாக இருந்தால் தீயனவே ஆகும்.

காரணம் (R): சுற்றத்தாரின் தன்மைகளும் துன்பம் தருமானால் தீயனவே ஆகும்.

- a. (A) மற்றும் (R) சரி மேலும் (R) என்பது (A) க்கு சரியான விளக்கமாகும்.
b. (A) மற்றும் (R) சரி ஆனால் (R) என்பது (A) க்கு சரியான விளக்கமல்ல
c. (A) சரி ஆனால் (R) தவறு
d. (A) தவறு ஆனால் (R) சரி
e. விடைதெரியவில்லை

Assertion (A): Shade and water are not pleasant, (if) they cause disease

Reason (R): qualities of one's relations not agreeable, they cause pain.

- A and R are true R is the correct explanation of A
- A and R are true R is not the correct explanation of A
- A true but R false
- A false but R true
- Answer not known

9. Trichy Carbine (Tri Ca) is a
- Carbon di oxide purification tower
 - Turbine manufactured by BHEL, Trichy
 - High tech and low sound weapon
 - Nanotechnology based bullet proof vest
 - Answer not known

திருச்சி கார்பைன் (Tri Ca) என்பது

- கார்பன்டை ஆக்சைடு சுத்திகரிப்பு கோபுரம்
- திருச்சி BHEL நிறுவனத்தால் தயாரிக்கப்பட்ட டர்பைன்
- உயர் தொழில்நுட்ப, குறைவான ஒலி எழுப்பக்கூடிய துப்பாக்கி
- நானோ தொழில்நுட்பம் கொண்ட குண்டு துளைக்காத கவசம்
- விடை தெரியவில்லை

10. Match the following

Award

- Kalpna Chawla
- A.P.J. Abdul Kalam
- Avvaiyar Award
- Best Third Gender

Person

- Santhi Duraisamy
- Grace Banu
- P. Shanmuga Priya
- M. Lakshmanan

	A	B	C	D
a.	1	4	3	2
b.	3	4	1	2
c.	1	2	4	3
d.	2	4	1	3

- e. Answer not known

பொருத்துக

விருது

- கல்பனா சாவ்லா
- A.P.J. அப்துல் கலாம்
- அவ்வையார் விருது
- சிறந்த மூன்றாம் பாலினத்தவர்

நபர்

- சாந்தி துரைசாமி
- கிரேஸ் பானு
- P. சண்முகப்பிரியா
- M. லட்சுமணன்

	A	B	C	D
a.	1	4	3	2
b.	3	4	1	2
c.	1	2	4	3
d.	2	4	1	3

- e. விடை தெரியவில்லை

11. The first Indian woman to win two Olympic Medals is
 a. P.V. Sindhu b. Mirabai Chanu c. Mary Kom
 d. Vinesh Phogat e. Answer not known
 இரண்டு ஒலிம்பிக் பதக்கங்களை வென்ற முதல் இந்திய பெண்மணி
 a. பி.வி. சிந்து b. மீராபாய் சானு c. மேரி கோம்
 d. வினேஷ் போகாட் e. விடை தெரியவில்லை
12. Identify the incorrect pair
 a. Neeraj Chopra – Javelin b. Iovlina Borgohain – Boxing
 c. Ravi Dahiya – Boxing d. Bajrang Punia – Wrestling
 e. Answer not known
 தவறான இணையைக் கண்டறிக
 a. நீர்ஜ் சோப்ரா - ஈட்டி எறிதல் b. லவ்லினா போர் கோஹெய்ன் - குத்துச்சண்டை
 c. ரவி தாஹியா – குத்துச்சண்டை d. பஜ்ரங் புனியா – மல்யுத்தம்
 e. விடை தெரியவில்லை
13. A device that can generate electricity from raindrops is developed by the researchers of
 a. IIT Kharagpur b. IIT Delhi c. DRDO
 d. IISc Bangalore e. Answer not known
 மழைத்துளிகளில் இருந்து மின்சாரம் தயாரிக்கும் கருவியை எந்த நிறுவனத்தின் ஆராய்ச்சியாளர்கள் கண்டுபிடித்துள்ளனர்?
 a. IIT கராக்பூர் b. IIT டெல்லி c. DRDO
 d. IISc பெங்களூரு e. விடை தெரியவில்லை
14. India ranks as _____ most charitable country in the world based on the world giving index 2021
 a. 14th b. 26th c. 45th d. 82nd e. Answer not known
 2021ஆம் ஆண்டின் உலக தானக் குறியீட்டின்படி உலகில் அதிகம் தொண்டு செய்யும் நாடுகளில் இந்தியாவின் இடம்
 a. 14வது b. 26வது c. 45வது d. 82வது e. விடை தெரியவில்லை
15. Which institution has topped the overall category ranking of the NIRF India Rankings 2021?
 a. IIT Madras b. IISc Bengaluru c. AIIMS Delhi
 d. IIT Delhi e. Answer not known
 NIRF இந்தியா 2021 தரவரிசைப் பட்டியலில் எந்த இந்திய நிறுவனம் முதலிடத்தில் உள்ளது?
 a. IIT சென்னை b. IISc பெங்களூரு c. AIIMS டெல்லி
 d. IIT டெல்லி e. விடை தெரியவில்லை
16. பின்வரும் கூற்றுகளை ஆய்க
 1. வாளைப்போல் வெளிப்படையான பகைவர்க்கு அஞ்சவேண்டியதில்லை.
 2. உறவினரைப் போல இருந்து உட்பகை கொண்டவரின் தொடர்புக்கு அஞ்ச வேண்டும்
 a. 1 சரி ஆனால் 2 தவறு b. 1 தவறு ஆனால் 2 சரி c. 1 மற்றும் 2 சரி
 d. 1 மற்றும் 2 தவறு e. விடை தெரியவில்லை
 Consider the following statements

1. Fear not foes who say they would cut like a sword
2. Fear the friendship of foes (who seemingly act) like relations.
- a. 1 correct but 2 incorrect b. 1 incorrect but 2 correct
- c. 1 and 2 correct d. 1 and 2 incorrect
- e. answer not known

17. Identify the correct statements

1. India clinched 19 medals at Tokyo Paralympics
2. Mariyappan Thangavelu has become the first Indian to win two paralympic gold medals
3. Harvinder Singh has become India's first ever archer to win a medal in the Paralympics

- a. 1 only b. 2 only c. 1 and 3 only
- d. All of these e. Answer not known

சரியான கூற்றுகளைக் கண்டறிக

1. டோக்கியோ பாராலிம்பிக்கில் இந்தியா மொத்தம் 19 பதக்கங்களை வென்றது
2. இரண்டு பாராலிம்பிக் தங்க பதக்கங்களை வென்ற முதல் இந்தியரானார் மாரியப்பன் தங்கவேலு
3. பாராலிம்பிக்கில் பதக்கம் வென்ற இந்தியாவின் முதல் வில்வித்தை வீரர் என்ற பெருமையை ஹர்விந்தர் சிங் பெற்றார்

- a. 1 மட்டும் b. 2 மட்டும் c. 1 மற்றும் 3 மட்டும்
- d. மேற்கூறிய அனைத்தும் e. விடை தெரியவில்லை

18. Which department has launched the digital bonds named 'e PLI bond'?

- a. Telecom b. Posts c. Income Tax
- d. Economic Affairs e. Answer not known

'e PLI' எனும் கடன்பத்திரத்தை டிஜிட்டல் முறையில் வெளியிட்ட துறை

- a. தொலைத்தொடர்பு b. அஞ்சல் c. வருமான வரி
- d. நிதி விவகாரங்கள் e. விடை தெரியவில்லை

19. Match the following

- | | |
|-----------------------------|--------------|
| A. Akshay Urja Diwas | 1. July 29 |
| B. World Senior Citizen Day | 2. August 21 |
| C. National Sports Day | 3. August 30 |
| d. International Tiger Day | 4. August 29 |

- | | | | | |
|----|---|---|---|---|
| | A | B | C | D |
| a. | 3 | 2 | 4 | 1 |
| b. | 4 | 3 | 1 | 2 |
| c. | 3 | 4 | 2 | 1 |
| d. | 1 | 2 | 4 | 3 |

e. Answer not known

பின்வருவனவற்றைப் பொருத்துக

- | | |
|-------------------------------|--------------|
| A. அக்ஷய் ஊர்ஜா திவாஸ் | 1. ஜூலை 29 |
| B. உலக முத்த குடிமக்கள் தினம் | 2. ஆகஸ்ட் 21 |
| C. தேசிய விளையாட்டு தினம் | 3. ஆகஸ்ட் 30 |
| D. உலக புலிகள் தினம் | 4. ஆகஸ்ட் 29 |

- | | | | |
|---|---|---|---|
| A | B | C | D |
|---|---|---|---|

- a. 3 2 4 1
b. 4 3 1 2
c. 3 4 2 1
d. 1 2 4 3

20. If AT = 20, BAT = 40, then CAT will be equal to

- a. 30 b. 50 c. 60 d. 70 e. Answer not known

AT என்பதை 20 என்றும் BAT என்பதை 40 என்றும் எழுதினால் CAT என்பதை எவ்வாறு எழுதுவாய்?

- a. 30 b. 50 c. 60 d. 70 e. விடை தெரியவில்லை

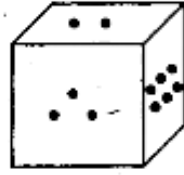
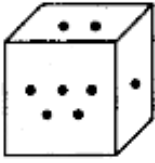
21. If $2 \div 3 = 89$, $3 \div 4 = 2716$, $4 \div 3 = 649$ then $1 \div 2 = ?$

- a. 24 b. 14 c. 4 d. 10 e. Answer not known

$2 \div 3 = 89$, $3 \div 4 = 2716$, $4 \div 3 = 649$ எனில் $1 \div 2 = ?$

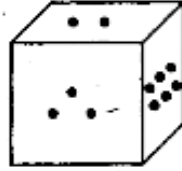

- a. 24 b. 14 c. 4 d. 10 e. விடை தெரியவில்லை

22. Two portions of a dice are given below. When 1 is at the top, which number will be at the bottom?



- a. 3 b. 4 c. 5 d. 6 e. Answer not known

ஒரு பகடையின் இரு நிலைகள் கீழே படமாக தரப்பட்டுள்ளன. எண் 1 மேலே இருக்கும்போது கீழே உள்ள எண் எது?



- a. 3 b. 4 c. 5 d. 6 e. விடை தெரியவில்லை

23. A started from a place. After walking for a kilometre, in a direction, he turn to the left, then walking for a half kilometre, he again turns to the left. Now he is going eastwards. In what direction did he originally started?

- a. West b. East c. North
d. South e. Answer not known

A என்பவர் ஓரிடத்திலிருந்து ஒரு திசையை நோக்கி ஒரு கிலோ மீட்டர் நடந்த பிறகு இடப்பக்கம் திரும்பி $\frac{1}{2}$ கிலோ மீட்டர் பிறகு மீண்டும் இடப்பக்கம் திரும்பி நடந்து செல்கிறார். தற்போது அவர் கிழக்கு திசை நோக்கி நடந்து சென்றால், தொடக்கத்தில் அவர் எந்த திசையை நோக்கி தொடங்கினார்?

- a. மேற்கு b. கிழக்கு c. வடக்கு
d. தெற்கு e. விடை தெரியவில்லை

24. பொருத்துக:

1. கவிஞர் சுப்பிரமணிய பாரதியாரின் நினைவுதினம் தமிழ்நாடு அரசால் மகாகவி தினமாக கொண்டாடப்பட உள்ளது
2. முன்னாள் முதல் அமைச்சர் C.N. அண்ணாதுரை அவர்களே பாரதியாரை முதன் முதலில் மகாகவி என்றழைத்தார்.
 - a. 1 மட்டும்
 - b. 2 மட்டும்
 - c. 1 மற்றும் 2
 - d. இரண்டுமில்லை
 - e. விடை தெரியவில்லை

27. Identify the incorrect pair

- a. Best corportation - Thanjavur
- b. Best municipality - Ooty
- c. Best Town Panchayat - Kallakudi
- d. Best Village Panchayat - Kottaiyur
- e. Answer not known

தவறான இணையைக் காண்க

- a. சிறந்த மாநகராட்சி - தஞ்சாவூர்
- b. சிறந்த நகராட்சி - ஊட்டி
- c. சிறந்த பேரூராட்சி - கள்ளக்குடி
- d. சிறந்த ஊராட்சி - கோட்டையூர்
- e. விடை தெரியவில்லை

28. Who has become the first Indian Women Cricketer to score a century in Australia?

- a. Smriti Mandana
- b. Mithali Raj
- c. Shafali Verma
- d. Punam Raut
- d. Answer not known

ஆஸ்திரேலியாவில் சதம் அடித்த முதல் இந்திய பெண் கிரிக்கெட் வீராங்கனை யார்?

- a. ஸ்மிருதி மந்தனா
- b. மிதாலி ராஜ்
- c. ஷெஃ.பாலி வர்மா
- d. பூனம் ராவத்
- e. விடை தெரியவில்லை

29. Match the following

Nobel Prize

- A. Medicine
- B. Literature
- C. Chemistry
- D. Peace

Winners

1. Benjamin List, David WC MacMillan
2. Maria Ressa, Dmitry Muratov
3. Abdul Razak Gurnah
4. David Julius, Ardem Patapoutian

	A	B	C	D
a.	1	4	3	2
b.	4	3	2	1
c.	1	3	4	2
d.	4	3	1	2

e. Answer not known

பொருத்துக

நோபல் பரிசு

- A. மருத்துவம்
- B. இலக்கியம்
- C. வேதியியல்
- D. அமைதி

விருது பெற்றவர்கள்

1. பெஞ்சமின் லிஸ்ட், டேவிட் WC மேக்மில்லன்
2. மரியா ரெஸ்ஸா, டிமிட்ரி முராடோவ்
3. அப்துல்ரசாக் குர்னா
4. டேவிட் ஜூலியஸ், ஆர்டெம் படபூட்டியன்

33. Tamilnadu's first multi-modal logistics park is to come up in,
a. Cheyyar b. Irungattukottai c. Hosur
d. Mappedu e. Answer not known
தமிழ்நாட்டின் முதல் பல் முறை சரக்கு போக்குவரத்து பூங்கா எங்கு அமையவுள்ளது?
a. செய்யாறு b. இருங்காட்டுக்கோட்டை c. ஓசூர்
d. மப்பேடு e. விடை தெரியவில்லை
34. Which Tiger Conservation Foundation has won Earth Guardian Award by UNCITES?
a. Parambikulam b. Periyar c. Mudumalai
d. Nagarhole e. Answer not known
UNCITES-ஆல் வழங்கப்பட்ட பூமி காப்பாளர் விருதைப்பெற்ற புலிகள் பாதுகாப்பு அறக்கட்டளை
a. பரம்பிகுளம் b. பெரியாறு c. முதுமலை
d. நாகர்ஹோலே e. விடை தெரியவில்லை
35. Consider the following statements
1. India ranked 71 in the Global Hunger Index 2021
2. India topped among the SAARC countries
3. India ranked 94 in the global food security index 2021
a. 1 and 2 only are correct b. 2 only is incorrect
c. All are correct d. All are incorrect
e. Answer not known
பின்வரும் கூற்றுகளை ஆய்க
1. உலகளாவிய பசிக்குறியீடு 2021இல் இந்தியா 71வது இடத்தில் உள்ளது.
2. சார்க் நாடுகளில் இந்தியா, முதலிடத்தில் உள்ளது
3. உலகளாவிய உணவு பாதுகாப்பு குறியீடு 2021இல் இந்தியா 94வது இடத்தில் உள்ளது.
a. 1 மற்றும் 2 மட்டும் சரி b. 2 மட்டும் தவறு
c. அனைத்தும் சரி d. அனைத்தும் தவறு
e. விடை தெரியவில்லை
36. Which country won the SAFF football championship 2021 held in Male?
a. Bangladesh b. Oman c. Nepal
d. India e. Answer not known
2021ஆம் ஆண்டின் தெற்காசிய (SAFF) கால்பந்து போட்டியில் வெற்றி பெற்ற நாடு எது?
a. வங்கதேசம் b. ஓமன் c. நேபாளம்
d. இந்தியா e. விடை தெரியவில்லை
37. Identify the incorrect statements
1. Samudrayaan is the India's first manned ocean mission
2. It was launched by the ministry of earth sciences.
a. 1 only b. 2 only c. both 1 and 2
d. Neither 1 nor 2 e. answer not known
தவறான கூற்றுகளைக் கண்டறிக
1. சமுத்திரயான் என்பது இந்தியாவின் முதல் மனிதர்களைக் கொண்ட ஆழ்கடல் ஆராய்ச்சி திட்டமாகும்.

2. இது புவி அறிவியல் அமைச்சகத்தால் தொடங்கப்பட்டுள்ளது.
a. 1 மட்டும் b. 2 மட்டும் c. இரண்டும்
d. இரண்டுமல்ல e. விடை தெரியவில்லை

38. Whose birth anniversary is to be celebrated as 'benevance day' by Tamilnadu government?

- a. Vallalar b. Vaikunda Swamigal c. Maraimalai Adigal
d. Pattinathar e. Answer not known

யாருடைய பிறந்தநாளை தமிழ்நாடு அரசு தனிப்பெரும் கருணை தினமாக கொண்டாட உள்ளது?

- a. வள்ளலார் b. வைகுந்தசுவாமிகள் c. மறைமலை அடிகள்
d. பட்டினத்தார் e. விடை தெரியவில்லை

39. National Institute of Ocean Technology is located in

- a. Goa b. Kochi c. Chennai
d. Visakapattinam e. Answer not known

தேசிய கடல்சார் தொழில்நுட்ப நிறுவனம் எங்கு உள்ளது?

- a. கோவா b. கொச்சி c. சென்னை
d. விசாகப்பட்டினம் e. விடை தெரியவில்லை

40. மனவேறுபாடு உடையாரோடு வாழ்தல் என்பது ஒரு குடிசையுள்ளே எதனோடு ஒருவன் சேர்ந்து வசிப்பது போன்றதாகும்?

- a. தேனோடு b. பேயோடு c. பாம்போடு
d. புலியோடு e. விடைதெரியவில்லை

Living with those who do not agree with one is like dwelling with a _____ in the same hut.

- a. scorpion b. devil c. snake
d. tiger d. answer not known

41. World's largest solar park is located in

- a. Bhadla b. Lonyang xia c. Kamudhi
d. Kurnool e. Answer not known

உலகின் மிகப்பெரிய சூரிய சக்தி பூங்கா அமைந்துள்ள இடம்

- a. பட்லா b. லாங்யாங்சியா c. கமுதி
d. கர்னூல் e. விடை தெரியவில்லை

42. Which of the following products from Tamilnadu has earned GI tags?

1. Kanyakumari clove 2. Thanjavur Netti workds
3. Karuppur Kalamkari painting 4. Arumbavur wood carvings
5. Cheyvur groundnut

- a. 1, 2, 3 b. 1, 2, 4 and 5 c. 1, 2, 3 and 4
d. all the above e. answer not known

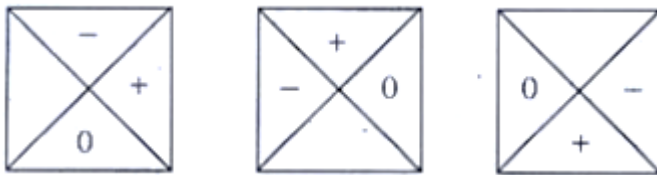
பின்வரும் தமிழ்நாட்டைச் சார்ந்த பொருட்களில் புவிசார் குறியீட்டை பெற்றவை எவை?

1. கன்னியாகுமரி கிராம்பு 2. தஞ்சாவூர் நெட்டி வேலைகள்
3. கருப்பூர் கலம்காரி ஓவியங்கள் 4. அரும்பாவூர் மர வேலைப்பாடுகள்
5. சேவூர் நிலக்கடலை

- a. 1, 2, 3 b. 1, 2, 4 மற்றும் 5 c. 1, 2, 3 மற்றும் 4


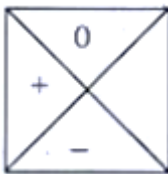

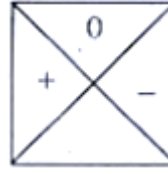
- d. மேற்கண்ட அனைத்தும் e. விடை தெரியவில்லை
43. Rank of Tamilnadu in the Multi dimensional Poverty Index (MPI) report by NITI Aayog is,
a. Two b. One c. Four d. three e. answer not known
நிதி ஆயோக் வெளியிட்ட பல்பரிமாண வறுமைக் குறியீட்டில் தமிழ்நாடு பெற்ற இடம்
a. இரண்டு b. ஒன்று c. நான்கு d. மூன்ற e. விடை தெரியவில்லை
44. Consider the following
Assertion (A): India's Total Fertility Rate has dropped to 2
Reason (R): there has been a 13% increase in the number of people using contraceptives
a. Both A and R are true and R is the correct explanation of A
b. Both A and R are true and R is not the correct explanation of A
c. A is true, R is false
d. A is false, R is true
e. Answer not known
பின்வருவனவற்றை ஆய்க
கூற்று (A): இந்தியாவின் மொத்த கருவுறுதல் விகிதம் 2 ஆக குறைந்துள்ளது
காரணம் (R): கருத்தடை முறைகளைப் பயன்படுத்தும் மக்களின் எண்ணிக்கை 13% உயர்ந்துள்ளது
a. A மற்றும் R இரண்டும் சரி மேலும் R என்பது A விற்கு சரியான விளக்கமாகும்
b. A மற்றும் R இரண்டும் சரி மேலும் R என்பது A விற்கு சரியான விளக்கமல்ல
c. A சரி R தவறு
d. A தவறு R சரி
e. விடை தெரியவில்லை
45. Find the missing alphabets in the given series
13ca, 216fab, 25eb, 237____, 46fd
a. gce b. gcb c. gcd d. fcb e. Answer not known
கொடுக்கப்பட்ட தொடரில் கோடிட்ட இடத்தில் இருக்க வேண்டிய எழுத்துகள் யாவை?
13ca, 216fab, 25eb, 237____, 46fd
a. gce b. gcb c. gcd d. fcb e. விடை தெரியவில்லை

46.



What comes next?

அடுத்து வருவது என்ன?

- a. 
- b. 
- c. 
- d. 
- e. Answer not known

e. விடை தெரியவில்லை

47. If x means -, + means ÷, - means x and ÷ means +, then $15 - 2 \div 900 + 90 \times 100 = ?$
a. 190 b. 180 c. -90 d. -60 e. Answer not known

x என்பதை - என்றும், + என்பதை ÷ என்றும், - என்பதை x என்றும் and ÷ என்பதை + என்றும் கொண்டால் $15 - 2 \div 900 + 90 \times 100$ ன் மதிப்பு காண்க

- a. 190 b. 180 c. -90 d. -60 e. விடை தெரியவில்லை

48. கள்ளை உண்ணக்கூடாது, அப்படி உண்ண வேண்டுமெனில் யார் உண்ணலாம்?

- a. சான்றோரிடம் மதிப்பு பெற விரும்பாதவர்
b. சான்றோரிடம் மதிப்பு பெற விரும்புவவர்
c. சான்றோரிடம் பழைமை பாராட்ட விரும்புவவர்
d. இவை ஏதமில்லை
e. விடை தெரியவில்லை

Let no liquor be drunk; if it is desired, let it be drunk by those _____

- a. care not for esteem of the wise.
b. care for esteem of the wise
c. The one who wants to have familiarity with the noble
d. None of these
e. Answer not known

49. A girl started walking from her house. She first walked for 3 km towards east, then she turned towards north and moved 4 km in that direction. How far is the girl away from her house?

- a. 3 km south b. 3 km north c. 5 km west
d. 5 km north-east e. Answer not known

ஒரு பெண் தன்னுடைய வீட்டிலிருந்து நடக்கத்தொடங்கினாள். முதலில் கிழக்கு பக்கமாக 3 கி.மீ தூரமும், பிறகு வடக்கு திசையில் திரும்பி 4 கி.மீ. தூரமும் நடக்கிறாள். அவள் தற்போது வீட்டிலிருந்து எவ்வளவு தொலைவில் இருக்கிறாள்?

- a. 3 km தெற்கு b. 3 km வடக்கு c. 5 km மேற்கு
d. 5 km வடகிழக்கு e. விடை தெரியவில்லை

50. A student is ranked 13th from right to him and 8th from left to him then how many students are in total in number

- a. 18 b. 19 c. 20 d. 21 e. Answer not known

ஒரு மாணவன் தனது வலது புறத்திலிருந்து 13வது நபராகவும் தனது இடது புறத்திலிருந்து 8வது நபராகவும் இருந்தால் மொத்த மாணவர்கள் எண்ணிக்கை
a. 18 b. 19 c. 20 d. 21 e. விடை தெரியவில்லை

51. Which state has won Syed Mushtaq Ali Trophy 2021-2022?
a. Karnataka b. Himachal Pradesh c. Mumbai
d. Tamil Nadu e. Answer not known

2021-22 ஆம் ஆண்டிற்கான சையத் முஷ்டாக் அலி கோப்பையை வென்ற மாநிலம்

- a. கர்நாடகம் b. இமாச்சலபிரதேசம் c. மும்பை
d. தமிழ்நாடு e. விடை தெரியவில்லை

52. Identify the person from the following statements

1. He was notable author and historian
 2. He was honoured with Padma Vibhushan in 2019
 3. He was well known for his works on Chatrapathi Shivaji
- a. Koneru Ramakrishna Rao b. Babasaheb Purandare
c. Kovi Manisakaran d. Hari Vasudevan
e. Answer not known

பின்வரும் கூற்றுகளை ஆய்ந்து சரியான நபரைக் கண்டறிக

1. இவர் ஒரு புகழ்பெற்ற எழுத்தாளர் மற்றும் வரலாற்று ஆசிரியர்
 2. 2019ஆம் ஆண்டு இவர் பத்ம விபூஷன் விருது வழங்கப்பட்டு கௌரவிக்கப்பட்டார்
 3. இவர் சத்ரபதி சிவாஜி பற்றிய அவரது பணிக்காக அறியப்பட்டார்
- a. கோனேரு இராமகிருஷ்ண ராவ் b. பாபாசாகேப் புரந்தரே
c. கோவி மணிசேகரன் d. ஹரி வாசுதேவன்
e. விடை தெரியவில்லை

53. India's 41st scientific expedition to Antarctica has major program in

- a. Dakshin Gangotri b. Bharati c. Maitri
d. Both b and c e. Answer not known

இந்தியாவின் அண்டார்டிகாவிற்கு செல்லும் 41வது அறிவியல் பயணத்திட்டம் எங்கு நடைபெறவுள்ளது?

- a. தக்ஷின் கங்கோத்ரி b. பாரதி c. மைத்ரி
d. b மற்றும் c e. விடை தெரியவில்லை

54. Who has been appointed as the new chief of Naval Staff?

- a. Sandeep Naithani b. Karambir Singh c. Hari Kumar
d. S.R. Sarma d. Answer not known

இந்திய கடற்படையின் பதிய தளபதியாக நியமிக்கப்பட்டுள்ளவர் யார்?

- a. சந்தீப் நைதானி b. கரம்பீர் சிங் c. ஹரி குமார்
d. S.R. சர்மா e. விடை தெரியவில்லை

55. Identify the correct statements regarding submarine Vela

1. It is the fourth scorpene submarine of the Project - 75
 2. It was constructed at Garden Reach Shipbuilders in Haldia
- a. 1 only b. 2 only c. Both 1 ad 2
d. Neither 1 nor 2 e. Answer not known

- நீர்மூழ்கிக் கப்பல் வேலா குறித்த பின்வரும் கூற்றுகளில் சரியானது எது/எவை?
1. திட்டம் - 75ன் கீழ் உருவாக்கப்பட்ட நான்காவது ஸ்கார்பீன் வகை நீர்மூழ்கிக் கப்பல்
 2. இந்த நீர்மூழ்கிக் கப்பல், ஹால்டியாவில் உள்ள கார்டன் ரீச் கப்பல்கட்டும் களத்தில் உருவாக்கப்பட்டது
- a. 1 மட்டும் b. 2 மட்டும் c. 1 மற்றும் 2 இரண்டும்
d. 1 மற்றும் 2 இரண்டுமல்ல d. விடை தெரியவில்லை

56. _____ என்று சொல்லப்படும் நல்லவள், கள் என்று சொல்லப்படும் விரும்பத்தகாத பெருங்குற்றம் உடையவர்க்கு எதிரே நிற்காமல் செல்வாள்.
- a. மடம் b. மடந்தை c. நாணம்
d. மங்கை e. விடைதெரியவில்லை
- The fair maid of _____ will turn her back on those who are guilty of the great and abominable crime of drunkenness.
- a. madam b. madandhai c. nanam
d. mangai e. answer not known

57. Which country has become the 101st member country of International Solar Alliance?
- a. Thailand b. Samoa c. Denmark
d. USA e. Answer not known
- சர்வதேச சூர்யசக்தி கூட்டணியில் 101வது உறுப்பு நாடாக சேர்ந்த நாடு
- a. தாய்லாந்த b. சமோவா c. டென்மார்க்
d. அமெரிக்கா e. விடை தெரியவில்லை

58. India International Trade fair 2021 has held at
- a. Bhubaneswar b. New Delhi c. Mumbai
d. Ahmedabad e. Answer not known
- இந்தியா சர்வதேச வர்த்தக கண்காட்சி 2021 எங்கு நடைபெற்றது?
- a. புவனேஷ்வர் b. புதுடெல்லி c. மும்பை
d. அகமதாபாத் e. விடை தெரியவில்லை

59. World's tallest pier bridge is being built by Indian Railways in
- a. Manipur b. Tripura c. Arunachal Pradesh
d. Uttarakhand e. Answer not known
- உலகின் மிக உயரமான தூண்பாலம் இந்திய இரயில்வேயால் எங்கு கட்டப்படுகிறது?
- a. மணிப்பூர் b. திரிபுரா c. அருணாச்சல பிரதேசம்
d. உத்தராகாண்ட் e. விடை தெரியவில்லை

60. India is committed to become 'carbon neutral' country through a net zero goal by
- a. 2030 b. 2050 c. 2055
d. 2070 e. Answer not known
- இந்தியா எந்த ஆண்டுக்குள் 'கார்பன் நியூட்ரல்' நாடாகி நிகரபூஜ்ஜிய இலக்கை அடையத் திட்டமிட்டுள்ளது?
- a. 2030 b. 2050 c. 2055
d. 2070 e. விடை தெரியவில்லை

61. Which Tamil Nadu Soldier was honoured with 'Vir Chakra' award recently?
a. M Saravanan b. K. Palani c. S. Krishnaswamy
d. Mariyappan d. Answer not known
சமீபத்தில் எந்த தமிழ்நாடு இராணுவ வீரர் "வீர சக்ரா" விருது வழங்கி
கௌரவிக்கப்பட்டார்?
a. M. சரவணன் b. K. பழனி c. S. கிருஷ்ணசாமி
d. மாரியப்பன் e. விடை தெரியவில்லை
62. Which of the following statements about the Porunai Museum is/are incorrect?
1. Porunai river refers to Vaigai river
2. The Museum will come up in Thoothukudi district
3. It will exhibit artefacts from Korkai, Keezhadi and Arikamedu
a. 3 only b. 2 only c. all of these
d. None of these e. answer not known
பொருணை அருங்காட்சியகம் குறித்த பின்வரும் கூற்றுகளில் தவறானது எது/எவை?
1. பொருணை நதி என்பது வைகை நதியாகும்
2. இந்த அருங்காட்சியகம் தூத்துக்குடியில் வரவுள்ளது
3. கொற்கை கீழடி மற்றும் அரிக்கமேடு போன்ற இடங்களில் அகழ்வாராய்ச்சி
செய்யப்பட்ட பொருட்கள் காட்சிப்படுத்தப்படும்.
a. 3 மட்டும் b. 2 மட்டும் c. மேற்கண்ட அனைத்தும்
d. மேற்கண்ட ஏதுமில்லை e. விடை தெரியவில்லை
63. Tamilnadu government conferred Thooya Tamizh Patralar award to
a. Avvai Natarajan b. Ambai c. Manimaaran
d. V Varatharajan e. Answer not known
தமிழ்நாடு அரசு தூய தமிழ் பற்றாளர் விருதை யாருக்கு வழங்கியது
a. அவ்வை நடராஜன் b. அம்பை c. மணிமாறன்
d. V. வரதராஜன் e. விடை தெரியவில்லை
64. துஞ்சினார் செத்தாரின் வேறல்லர் எஞ்ஞான்றும்
நஞ்சுண்பார் கள்ளுண் பவர். என்ற குறளில் வரும் "துஞ்சுதல்" என்ற சொல்லின் பொருள்
என்ன?
a. மயங்குதல் b. உறங்குதல் c. வருந்துதல்
d. வருத்துதல் e. விடை தெரியவில்லை
Thunjinaar Seththaarin Verallar Egngnaandrum
Nanjunpaar Kallun Pavar
In this Kural thunjudhal means
a. mayangudhal b. urangudhal c. varundhudhal
d. varuthudhal e. answer not known
65. India's official entry for Academy awards 2021 was
a. Soorarai Potru b. Jallikattu c. Tolet
d. Koozhangal e. Answer not known
2021 அகாடெமி விருதுக்கான இந்தியாவின் அதிகாரப்பூர்வ நுழைவு
a. சூரை போற்று b. ஜல்லிக்கட்டு c. டூலெட்
d. கூழாங்கல் e. விடை தெரியவில்லை

66. How many municipal corporations are there in Tamil Nadu?
a. 15 b. 18 c. 20 d. 21 e. Answer not known
தமிழ்நாட்டில் மொத்தம் எத்தனை மாநகராட்சிகள் உள்ளன?
a. 15 b. 18 c. 20 d. 21 e. விடை தெரியவில்லை
67. Which city hosted the International Ambedkar Conclave in 2021?
a. Pune b. New Delhi c. Varanasi
d. Chennai e. Answer not known
2021ஆம் ஆண்டின் சர்வதேச அம்பேத்கர் மாநாடு எங்கு நடைபெற்றது?
a. புனே b. புதுடெல்லி c. வாரனாசி
d. சென்னை e. விடை தெரியவில்லை
68. Who won the Miss Universe award in 2021?
a. Harnaaz Sandhu b. Manushi Chhillar c. Dia Mirza
d. Nadia Ferrira e. Answer not known
2021ஆம் ஆண்டின் மிஸ் யுனிவர்ஸ் பட்டம் வென்றவர் யார்?
a. ஹர்னாஸ் சாந்து b. மானுஷி சில்லர் c. டியா மிர்சா
d. நாடியா ஃபெரெரா e. விடை தெரியவில்லை
69. When is the International Day of epidemic Preparedness observed?
a. November 25 b. December 25 c. December 27
d. November 30 e. answer not known
உலக பெருந்தொற்று தயார்நிலை தினம் அனுசரிக்கப்படும் நாள்
a. நவம்பர் 25 b. டிசம்பர் 25 c. டிசம்பர் 27
d. நவம்பர் 30 e. விடை தெரியவில்லை
70. Find the number of triangles in the given figure.



- a. 5 b. 6 c. 8 d. 10 e. Answer not known
கீழே உள்ள படத்தில் எத்தனை முக்கோணங்கள் உள்ளன.



- a. 5 b. 6 c. 8 d. 10 e. விடை தெரியவில்லை

71. If MOBILITY is coded as 46293927, then EXAMINATION is coded as
a. 45038401854 b. 56149512965 c. 57159413955
d. 67250623076 e. Answer not known
MOBILITY என்பது 46293927 என்று எழுதப்பட்டால் EXAMINATION என்பதை எவ்வாறு எழுதுவாய்?
a. 45038401854 b. 56149512965 c. 57159413955
d. 67250623076 e. விடை தெரியவில்லை


72. கூற்று (A): கள்ளூண்ணாமை உள்ளூராரால் மதிக்கப்படும் வாழ்வு கிடைக்கச் செய்யும்
காரணம் (R) : நாளும் கள்ளை நாடிக் குடித்து கண் சுழல்பவர் உள்ள நடத்தை அறிந்து உள்ளூராரால் சிரிக்கப்படுவர்.
a. (A) மற்றும் (R) சரி மேலும் (R) என்பது (A) க்கு சரியான விளக்கமாகும்.
b. (A) மற்றும் (R) சரி ஆனால் (R) என்பது (A) க்கு சரியான விளக்கமல்ல
c. (A) சரி ஆனால் (R) தவறு
d. (A) தவறு ஆனால் (R) சரி
e. விடை தெரியவில்லை

Assertion (A): Making value available by local people if not drinking alcohol
Reason (R): Those who always intoxicate themselves by a private (indulgence in) drink; will have their secrets detected and laughed at by their fellow-townsmen.

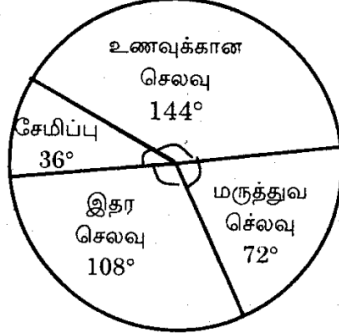
- a. A and R are true R is the correct explanation of A
b. A and R are true R is not the correct explanation of A
c. A true but R false
d. A false but R true
e. Answer not known

73. BOOK = 43 and PEN = 35, COPY = ?
a. 48 b. 60 c. 59 d. 79 e. Answer not known
BOOK என்பது 43 என்றும் PEN என்பது 35 என்றும் எழுதப்பட்டால் COPY என்பதை எவ்வாறு எழுதுவாய்?
a. 48 b. 60 c. 59 d. 79 e. விடை தெரியவில்லை

74. Monthly expenditure of a person whose monthly salary is Rs. 9000 is shown in the diagram. percentage of monthly spent for food expense is



- a. 50% b. 20% c. 30% d. 40% e. Answer not known
 ரூ.9,000 மாதச் சம்பளத்தில் ஒருவர் கீழ்க்கண்டவாறு செலவு செய்தால் அவர் உணவிற்காக செலவிடும் சதவீதமானது



- a. 50% b. 20% c. 30% d. 40% e. விடை தெரியவில்லை

75. If + means \times , - means $+$, \times means \div and \div means $-$ then the value of $6 - 9 + 8 \times 3 \div 20$ is

- a. 10 b. 6 c. -2 d. 12 e. Answer not known

+ என்பது \times , - என்பது $+$, \times என்பது \div மற்றும் \div என்பது $-$ எனில் $6 - 9 + 8 \times 3 \div 20$ யின் மதிப்பு

- a. 10 b. 6 c. -2 d. 12 e. விடை தெரியவில்லை

76. Which of the following statements is/are correct regarding the good governance index?

1. It is released on December 25 every year by NITI Aayog
2. Gujarat topped the overall ranking in 2021

- a. 1 only b. 2 only c. both 1 and 2
 d. neither 1 nor 2 e. answer not known

நல்லாட்சி குறியீடு குறித்த பின்வரும் கூற்றுகளில் எது/எவை சரியானது?

1. இது ஒவ்வொரு ஆண்டும் டிசம்பர் 25 அன்று நிதி ஆயோக்கால் வெளியிடப்படுகிறது
2. 2021ஆம் ஆண்டு, மொத்த தரவரிசையில் குஜராத் முதலிடம் பிடித்துள்ளது

- a. 1 மட்டும் b. 2 மட்டும் c. 1 மற்றும் 2 இரண்டும்
 d. 1 மற்றும் 2 இரண்டுமல்ல d. விடை தெரியவில்லை

77. Who among the following is the India's first woman psychiatrist?

- a. Sarada Menon b. Meena Gnanasekharan c. Shalini
 d. Annie Methew e. Answer not known

பின்வருபவர்களில் இந்தியாவின் முதல் பெண் மனநல மருத்துவர் யார்?

- a. சாரதா மேனன் b. மீனா ஞானசேகரன் c. ஷாலினி
 d. அன்னி மேத்யூ e. விடை தெரியவில்லை

78. Which country has conducted a nuclear fusion experiment as a part of its 'Artificial Sun' project?

- a. USA b. China c. Germany
 d. Russia e. Answer not known

எந்த நாடு தனது 'செயற்கை சூரியன்' திட்டத்தின் ஒரு பகுதியாக அணுக்கரு இணைவு பரிசோதனையை நடத்தியது?

- a. அமெரிக்கா b. சீனா c. ஜெர்மனி
d. ரஷ்யா e. விடை தெரியவில்லை

79. Match the following

Books

- A. The Midway Battle
B. Charge of the Gorkhas and other stories
C. India's Women Unsung Heroes
D. Public Service Ethics

Authors

1. Prabhat Kumar
2. Meenakshi Lekhi
3. Rachna Bisht Rawat
4. Gautam Chintamani

	A	B	C	D
a.	2	3	4	1
b.	4	2	1	3
c.	1	4	2	3
d.	4	3	2	1

e. Answer not known

பொருத்துக

புத்தகம்

- A. இடைவழிப்போர்
B. கூர்காக்களின் தாக்குதல் மற்றும் பி கதைகள்
C. இந்தியாவின் மறக்கப்பட்ட பெண் தலைமகன்கள்
D. பொது சேவை நெறிமுறைகள்

ஆசிரியர்

1. பிரபாத் குமார்
2. மீனாட்சி லேகி
3. ரச்னா பிஷ்ட் ராவத்
4. கௌதம் சிந்தாமணி

	A	B	C	D
a.	2	3	4	1
b.	4	2	1	3
c.	1	4	2	3
d.	4	3	2	1

e. விடை தெரியவில்லை

80. கள்ளுண்டு மயங்கியவனை அறிவு சொல்லித் திருத்துதல் நீருள் மூழ்கியவனைத் _____ ஆல் தேடுவது போன்றது என திருவள்ளுவர் கூறுகிறார்.

- a. படகால் b. கட்டுமரத்தால் c. தீவட்டியால்
d. நீந்துவாரால் e. விடை தெரியவில்லை

Reasoning with a drunkard is like going under water with a _____ in search of a drowned man.

- a. boat b. kattumaram c. torch of fire
d. swimmers e. answer not known

81. India has 2+2 ministerial dialogue with which of the following countries?

1. USA 2. Russia 3. China
4. United Kingdom 5. Japan 6. Australia
a. 1, 2, and 3 b. 1, 4, 5 and 6 c. 1, 2, 5 and 6
d. All of these e. Answer not known

பின்வரும் எந்த நாடுகளுடன் இந்தியா 2+2 அமைச்சர்கள் மட்ட பேச்சுவார்த்தை மேற்கொண்டுள்ளது?

1. அமெரிக்கா
4. ஐக்கிய பேரரசு
a. 1, 2 மற்றும் 3
d. அனைத்தும்
2. இரஷ்யா
5. ஜப்பான்
b. 1, 4, 5 மற்றும் 6
e. விடை தெரியவில்லை
3. சீனா
6. ஆஸ்திரேலியா
c. 1, 2, 5 மற்றும் 6

82. India's first indigenously developed RBD protein sub-unit COVID-19 vaccine is
a. covaxin
d. corbevax
- b. covishield
e. answer not known
- c. covovax

இந்தியாவிலேயே தயாரிக்கப்பட்ட கோவிட்-19 க்கு எதிரான முதல் RBD புரத துணை அலகு தடுப்பூசி?

- a. கோவேக்சின்
d. கார்பேவேக்சன்
- b. கோவிசீல்டு
e. விடை தெரியவில்லை
- c. கோவோவேக்சன்

83. The state that received National award for disability welfare
a. Gujarat
d. Kerala
- b. Odisha
e. Answer not known
- c. Tamilnadu

மாற்றுத் திறனாளிகள் நலனுக்காக தேசிய விருது வழங்கப்பட்ட மாநிலம்

- a. குஜராத்
d. கேரளா
- b. ஒடிசா
e. விடை தெரியவில்லை
- c. தமிழ்நாடு

84. Match the following
Awards

- A. Mother Teresa Memorial
B. Jnanpith
C. Sahitya Akademi
D. Bala Sahitya Puraskar

Persons

1. Nilmani Phookan
2. Ambai
3. Mu. Murugesh
4. Vinisha Umashankar

- | | A | B | C | D |
|----|---|---|---|---|
| a. | 4 | 1 | 2 | 3 |
| b. | 1 | 3 | 2 | 4 |
| c. | 4 | 1 | 2 | 3 |
| d. | 3 | 4 | 2 | 1 |

பொருத்துக
விருதுகள்

- A. அன்னை தெரசா நினைவு
B. ஞானபீடம்
C. சாகித்ய அகாதமி
D. பால சாகித்ய புரஸ்கார்

நபர்கள்

1. நில்மணி பூகன்
2. அம்பை
3. மு. முருகேஷ்
4. வினிஷா உமாசங்கர்

- | | A | B | C | D |
|----|---|---|---|---|
| a. | 4 | 1 | 2 | 3 |
| b. | 1 | 3 | 2 | 4 |
| c. | 4 | 1 | 2 | 3 |
| d. | 3 | 4 | 2 | 1 |

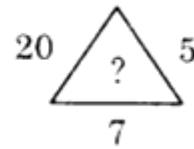
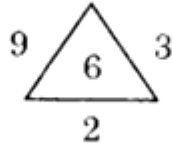
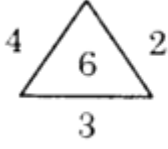
85. Rank of Tamilnadu Agricultural Universtiy in ICAR ranking 2020
a. 1
b. 5
c. 3
d. 8
e. Answer not known

ICARஇன் 2020ஆம் ஆண்டிற்கான தரவரிசையில் தமிழ்நாடு வேளாண்மைப் பல்கலைக்கழகம் பிடித்த இடம்
a. 1 b. 5 c. 3 d. 8 e. விடை தெரியவில்லை

86. India's first large state to record 100 percent first - dose vaccinations is
a. Telangana b. Odisha c. Tamilnadu
d. Kerala e. Answer not known
பெரிய மாநிலங்களில் 100 சதவீதம் முதல் தவணை தடுப்பூசி போடப்பட்ட முதல் மாநிலம்
a. தெலுங்கானா b. ஒடிசா c. தமிழ்நாடு
d. கேரளா e. விடை தெரியவில்லை
87. Which country hosted the AFC Women's Asian Cup 2022?
a. Japan b. Australia c. China
d. India e. Answer not known
2022ஆம் ஆண்டின் ஆசிய மகளிர் கால்பந்து கோப்பையை நடத்திய நாடு
a. ஜப்பான் b. ஆஸ்திரேலியா c. சீனா
d. இந்தியா e. விடை தெரியவில்லை
88. கூற்று (A): வெற்றியே பெறுவதானாலும் சூதாட்டத்தை விரும்பக் கூடாது
காரணம் (R): சூதாடிகள் சூதில் ஒரு பொருள் பெற்று நூறுமடங்கு பொருளை இழந்துவிடுவர்
a. (A) மற்றும் (R) சரி மேலும் (R) என்பது (A) க்கு சரியான விளக்கமாகும்.
b. (A) மற்றும் (R) சரி ஆனால் (R) என்பது (A) க்கு சரியான விளக்கமல்ல
c. (A) தவறு ஆனால் (R) சரி
d. (A) மற்றும் (R) இரண்டும் தவறு
e. விடை தெரியவில்லை
Assertion (A): Though able to win, let not one desire gambling
Reason (R): Gamblers gain one item in the gamble and lose a hundred times as much
a. A and R are true R is the correct explanation of A
b. A and R are true R is not the correct explanation of A
c. A true but R false
d. A false but R true
e. Answer not known
89. When is the National Girl Child Day' celebrated?
a. December 30 b. January 24 c. January 25
d. August 21 e. Answer not known
தேசிய பெண் குழந்தைகள் தினம் என்று கொண்டாடப்படுகிறது?
a. டிசம்பர் 30 b. ஜனவரி 24 c. ஜனவரி 25
d. ஆகஸ்ட் 21 e. விடை தெரியவில்லை

90. Consider the following statements
1. India ranks 83rd Position in the Henley Passport Index
 2. India has Visa - Free access to 60 destinations worldwide
 3. Singapore and Sweden topped the index
- a. 1 only is correct b. 2 only is incorrect c. 1 and 2 are correct
d. All are correct e. Answer not known
- பின்வரும் கூற்றுகளை ஆய்க
1. ஹென்லி கடவுச்சீட்டு அட்டவணையில் இந்தியவா 83வது இடத்தில் உள்ளது
 2. உலகளவில் 60 நாடுகளுக்கு நுழைவு அனுமதி (விசா) இன்றி செல்ல இந்தியர்கள் செல்ல இயலும்
 3. சிங்கப்பூர் மற்றும் சுவீடன் ஆகிய நாடுகள் இவ்வட்டவணையில் முதலிடத்தில் உள்ளன
- a. 1 மட்டும் சரி b. 2 மட்டும் தவறு c. 1 மற்றும் 2 சரி
d. அனைத்தும் சரி e. விடை தெரியவில்லை
91. Identify the person using the following statements
1. Renowned archaeologist and art historian
 2. Served curator for art and archaeology at Madras Museum
 3. Recipient of Kalaimamani Award
- a. M.K. Prasad b. Mudukkur Ramalingam c. Bharathi Krishnakumar
d. R. Nagaswamy e. Answer not known
- பின்வரும் கூற்றுகளுக்குத் தொடர்புடைய நபரைக் கண்டறிக
1. புகழ்பெற்ற தொல்லியல் ஆய்வாளர் மற்றும் கலை வரலாற்றாசிரியர்
 2. சென்னை அருங்காட்சியகத்தில் கலை மற்றும் தொல்லியல் துறை காப்பாளராக பணியாற்றியவர்
 3. கலைமாமணி விருது பெற்றவர்
- a. M.K. பிரசாத் b. மதுக்கூர் இராமலிங்கம் c. பாரதி கிருஷ்ணகுமார்
d. R. நாகசாமி e. விடை தெரியவில்லை
92. First male tennis player to win 21 grand slam titles
- a. Rafael Nadal b. Roger Federer c. Novak Djokovic
d. Daniel e. Answer not known
- 21 கிராண்ட் ஸ்லாம் பட்டங்களை வென்ற முதல் ஆண் டென்னிஸ் வீரர்
- a. ரஃபேல் நடால் b. ரோஜர் பெடர் c. நோவக் ஜோகோவிச்
d. டேனியல் மெட்வெடவ் e. விடை தெரியவில்லை
93. Who was appointed as the Chief Economic Advisor of India?
- a. K. Subramanian b. Arvind Subramanian c. V.Anantha Nageswaran
d. Kaushik Basu e. Answer not known
- இந்தியாவின் தலைமைப் பொருளாதார ஆலோசகராக நியமிக்கப்பட்ட நபர்
- a. K. சுப்பிரமணியன் b. அரவிந்த் சுப்பிரமணியன் c. V. ஆனந்த நாகேஸ்வரன்
d. கௌசிக் பாசு e. விடை தெரியவில்லை
94. Which state topped the National water awards 2020 in best state category?
- a. Uttar Pradesh b. Rajasthan c. Tamil Nadu
d. Gujarat e. answer not known
- தேசிய நீர் விருதுகள் 2020இல் சிறந்த மாநிலம் பிரிவில் முதலிடம் பிடித்த மாநிலம்
- a. உத்திரபிரதேசம் b. இராஜஸ்தான் c. தமிழ்நாடு

- d. குஜராத்
95. The missing number is
விடுபட்ட எண்ணானது?



- a. 12 b. 28 c. 35 d. 100 e. Answer not known

96. சூதாடும் இடத்தை திருவள்ளூர் எவ்வாறு குறிப்பிடுகிறார்?

- a. கவறு b. கழகம் c. கவடி
d. நெத்தம் e. விடை தெரியவில்லை

How the Valluvar specifies the place of gambling?

- a. kavaru b. kazhagam c. kavadi
d. netham e. answer not known

97. a _ a b _ b a b a b _ b

- a. a a a b. b b a c. a a b d. b a a e. Answer not known

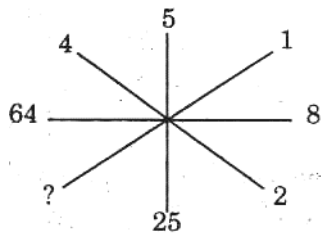
98. Vimal is 7 ranks ahead of Sathish in a class of 39. If Sathish's rank is seventeenth from the last, what is Vimal's rank from the start?

- a. 11th b. 13th c. 16th d. 18th e. Answer not known

39 மாணவர்கள் கொண்ட வகுப்பில், விமல் என்ற மாணவனின் தரவரிசையானது, சதிஷ்-ஐ விட 7 தரவரிசை முன்னதாக உள்ளான். சதிஷ்-ன் தரவரிசையானது கடைசியிலிருந்து 17-வதாக இருந்தால், மேலிருந்து விமல் தரவரிசை என்ன?

- a. 11th b. 13th c. 16th d. 18th e. விடை தெரியவில்லை

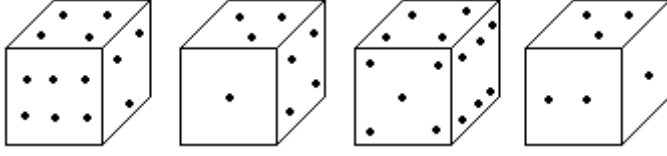
99. Finding the missing term
விடுபட்ட எண்ணைக்காண்க



- a. 1 b. 2 c. 3 d. 4 e. Answer not known

100. How many points will be on the face opposite to the face which contains 3 points?

கொடுக்கப்பட்டுள்ள பகடையில், மூன்று புள்ளிகள் கொண்ட முகத்திற்கு எதிர் முகத்தில் எத்தனை புள்ளிகள் இருக்கும்?



- a. 2 b. 4 c. 5 d. 6 e. Answer not known

101. Tamilnadu's fifth Tiger Reserve is

- a. Anaimalai b. Mudumalai c. Sathyamangalam

- d. Srivilliputhur - Megamalai e. answer not known

தமிழ்நாட்டின் ஐந்தாவது புலிகள் காப்பகம் எது?

- a. ஆனைமலை b. முதுமலை c. சத்தியமங்கலம்

- d. ஸ்ரீவில்லிபுத்தூர் - மேகமலை e. விடை தெரியவில்லை

102. Match the following

Award

A. Perarignar Anna

B. Singaravelar

C. Kamaraj

D. Thiruvalluvar

Person

1. Bharathi Baskar

2. Madukkur Ramalingam

3. Nanjil Sampath

4. Sanjeevirayar

	A	B	C	D
a.	3	4	1	2
b.	1	2	4	3
c.	1	2	3	4
d.	3	2	1	4

e. Answer not known

பொருத்துக

விருது

A. பேரறிஞர் அண்ணா

B. சிங்காரவேலர்

C. கம்பர்

D. திருவள்ளுவர்

நபர்

1. பாரதி பாஸ்கர்

2. மதுக்கூர் இராமலிங்கம்

3. நாஞ்சில் சம்பத்

4. சஞ்சீவிராயர்

	A	B	C	D
a.	3	4	1	2
b.	1	2	4	3
c.	1	2	3	4
d.	3	2	1	4

e. விடை தெரியவில்லை

103. India's first large scale furniture park is going to be set up in

- a. Thiruvallur b. Thanjavur c. Thoothukudi

- d. Coimbatore e. Answer not known

இந்தியாவின் முதல் பெரிய அளவிலான மரச்சாமான்கள் பூங்கா எங்கு அமையவுள்ளது?

- a. திருவள்ளூர் b. தஞ்சாவூர் c. தூத்துக்குடி
d. கோயம்புத்தூர் e. விடை தெரியவில்லை

104. சூது அதிகாரம் எண் _____
a. 91 b. 92 c. 93 d. 94 e. விடை தெரியவில்லை
Chapter number of gambling is _____
a. 91 b. 92 c. 93 d. 94 e. Answer not known

105. Identify the incorrect statement/s
1. January 12 is declared as 'World Tamil Diaspora Day'
2. CLAPP is a mobile app designed for police personnel to apply for leave
a. 1 only b. 2 only c. Both 1 and 2
d. Neither 1 nor 2 e. Answer not known
தவறான கூற்றுகளைக் கண்டறிக
1. ஜனவரி 12ஆம் தேதி உலகத் தமிழ் புலம்பெயர்ந்தோர் தினமாக அறிவிக்கப்பட்டுள்ளது
2. காவலர்கள் விடுப்புக்கு விண்ணப்பிப்பதற்காக கிளாப் (CLAPP) எனும் கைப்பேசி செயலி வடிவமைக்கப்பட்டுள்ளது
a. 1 மட்டும் b. 2 மட்டும் c. 1 மற்றும் 2 இரண்டும்
d. 1 மற்றும் 2 இரண்டுமல்ல e. விடை தெரியவில்லை

106. Whose statue is called as 'Statue of Equality'?"
a. Vallabhai Patel b. Ramanuja c. Adi Shankara
d. Ramalinga Adigal e. Answer not known
யாருடைய சிலை 'சமத்துவ சிலை' என்றழைக்கப்படுகிறது?
a. வல்லபாய் படேல் b. இராமானுஜர் c. ஆதி சங்கரர்
d. இராமலிங்க அடிகள் e. விடை தெரியவில்லை

107. Youngest player to defeat the world No.1 chess player Magnus Carlson
a. Vaishali Rameshbabu b. R. Praggnandha c. Viswanathan Anand
d. Vidit Gujarathi e. Answer not known
உலகின் முதல்நிலை சதுரங்க வீரரான மேக்னஸ் கார்ல்சனை வீழ்த்திய இளைய வீரர்
a. வைஷாலி ரமேஷ் பாபு b. R. பிரக்ஞானந்தா c. விஸ்வநாதன் ஆனந்த்
d. விதித் குஜராத்தி e. விடை தெரியவில்லை

108. Which country won the 2022 U-19 cricket world cup?
a. India b. Pakistan c. Australia
d. England e. answer not known
19 வயதுக்குட்பட்ட கிரிக்கெட் உலகக்கோப்பை 2022 ஐ வென்ற நாடு
a. இந்தியா b. பாகிஸ்தான் c. ஆஸ்திரேலியா
d. இங்கிலாந்து e. விடை தெரியவில்லை

109. Identify the correct statements
1. ISRO has successfully launched Earth Observation Satellite EOS - 04

2. It was launched on board PSLV - C51
3. This satellite will replace the RISAT-1 which was launched in 2012
a. 1 and 2 b. 1 and 3 c. 2 and 3
d. all of these e. Answer not known

சரியான கூற்றுகளைக் கண்டறிக

1. புவி கண்காணிப்பு செயற்கைக்கோளாகிய EOS-04 ஐ இஸ்ரோ விண்ணில் செலுத்தியுள்ளது
2. இது பி.எஸ்.எல்.வி - சி51 செயற்கைக்கோள் ஏவுகணை மூலமாக அனுப்பப்பட்டது
3. 2012இல் விண்ணுக்கு செலுத்தப்பட்ட ரைசேட் 1 செயற்கைக்கோளுக்கு மாற்றாக இது செயல்படும்.
a. 1 மற்றும் 2 b. 1 மற்றும் 3 c. 2 மற்றும் 3
d. மேற்கூறிய அனைத்தும் e. விடை தெரியவில்லை

110. Match the following

- | | |
|----------------------|-----------|
| A. Eastern Bridge VI | 1. Russia |
| B. Dharma Guardian | 2. Oman |
| C. Passex | 3. USA |
| D. Yudh Abhyas | 4. Japan |

- | | | | | |
|----|---|---|---|---|
| | A | B | C | D |
| a. | 3 | 2 | 1 | 4 |
| b. | 2 | 4 | 1 | 3 |
| c. | 2 | 1 | 3 | 4 |
| d. | 1 | 4 | 2 | 3 |

e. Answer not known

பொருத்துக

- | | |
|---------------------|--------------|
| A. கிழக்கு பாலம் VI | 1. ரஷ்யா |
| B. தர்ம காப்பாளன் | 2. ஓமன் |
| C. பாசெக்ஸ் | 3. அமெரிக்கா |
| D. யுத்த அபயாஸ் | 4. ஜப்பான் |

- | | | | | |
|----|---|---|---|---|
| | A | B | C | D |
| a. | 3 | 2 | 1 | 4 |
| b. | 2 | 4 | 1 | 3 |
| c. | 2 | 1 | 3 | 4 |
| d. | 1 | 4 | 2 | 3 |

e. விடை தெரியவில்லை

111. சூதினை ஒருவன் மேற்கொண்டால் எவைகளெல்லாம் அவனைச் சேராமல் நீங்கும்?

- | | | | |
|---------------------|---------------------|------------------|----------|
| 1. உடை | 2. செல்வம் | 3. உணவு | 4. புகழ் |
| 5. கல்வி | 6. கயமை | | |
| a. 2, 4, 6 | b. 2, 3, 4, 6 | c. 1, 2, 3, 4, 5 | |
| d. 1, 2, 3, 4, 5, 6 | e. விடை தெரியவில்லை | | |

The habit of gambling prevents the attainment of these _____

- | | | | |
|---------------------|---------------------|------------------|---------|
| 1. Dress | 2. Wealth | 3. Food | 4. Fame |
| 5. Education | 6. Baseness | | |
| a. 2, 4, 6 | b. 2, 3, 4, 6 | c. 1, 2, 3, 4, 5 | |
| d. 1, 2, 3, 4, 5, 6 | e. Answer not known | | |

112. The time period covered by “New India Literary Programme” is
a. 2015-2020 b. 2020-2025 c. 2021-2026
d. 2022-2027 e. Answer not known
புதிய இந்தியா எழுத்தறிவு திட்டத்தின் திட்டகாலம்
a. 2015-2020 b. 2020-2025 c. 2021-2026
d. 2022-2027 e. விடை தெரியவில்லை
113. India’s first Geological Park is to be built in
a. Tamilnadu b. Madhya Pradesh c. Gujarat
d. Uttar Pradesh e. Answer not known
இந்தியாவின் முதல் நிலவியல் பூங்கா எங்க வரவுள்ளது?
a. தமிழ்நாடு b. மத்தியபிரதேசம் c. குஜராத்
d. உத்திரபிரதேசம் e. விடை தெரியவில்லை
114. Which Indian has been recently elected as a fellow of the Royal Society of Edinburgh (RSE) Scotland’s National Academy?
a. Kiran Mazumdar Shaw b. Avinash Kumar Agarwal
c. Gagandeep Kang d. Dr. Bimesh Lochab
e. Answer not known
ஸ்காட்லாந்தின் தேசிய அகாடெமியின் எடின்பர்க் ராயல் சொசைட்டியில் உறுப்பினராக தேர்ந்தெடுக்கப்பட்டுள்ள இந்தியர்
a. கிரண் மசம்தார் ஷா b. அவினாஷ் குமார் அகர்வால்
c. ககந்தீப் காங் d. Dr. பிமேஷ் லோசாப்
e. விடை தெரியவில்லை
115. The first para-athlete to receive the Padma Bhushan in India
a. Devendra Jhajharia b. Mariappan Thangavelu c. Avani Lekhara
d. Bhavina Patel e. Answer not known
இந்தியாவில் பத்மபூஷன் விருது பெற்ற முதல் பாரா தடகள வீரர்
a. தேவேந்திர ஜஜாரியா b. மாரியப்பன் தங்கவேலு c. அவனி லேகரா
d. பாவினா படேல் e. விடை தெரியவில்லை
116. World’s youngest and fastest female swimmer to swim across Palk Strait
a. Kutralteeswaran b. Nithya Anand c. Bhakti Sharma
d. Jiya Rai e. Answer not known
பாக் நீரிணையை கடந்த உலகின் மிக இளைய வேகமான நீச்சல் வீரர்
a. குற்றாலீஸ்வரன் b. நித்யா ஆனந்த் c. பக்தி சர்மா
d. ஜியா ராய் e. விடை தெரியவில்லை
117. Which country hosted the 5th BIMSTEC summit in 2022?
a. India b. Sri Lanka c. Bhutan
d. Myanmar e. Answer not known
2022ஆம் ஆண்டின் ஐந்தாவது பிம்ஸ்டெக் உச்சி மாநாட்டை நடத்திய நாடு
a. இந்தியா b. இலங்கை c. பூடான்

d. மியான்மர் e. விடை தெரியவில்லை

118. The movie that won most number of Oscar in 2022 is
a. Dune b. CODA c. King Richard
d. Encanto e. Answer not known

2022ஆம் ஆண்டில் அதிகபட்ச ஆஸ்கார் விருதுகளை வென்ற திரைப்படம்
a. டியூன் b. கோடா c. கிங் ரிச்சர்ட்
d. என்கான்டோ e. விடை தெரியவில்லை

119. கீழ்க்கண்டவற்றுள் சரியானதை தேர்ந்தெடுக்கவும்
1. சூது ஆட்டத்தால் பொருட்கேடு மட்டுமல்ல அருட்கேடும் உண்டாகும்.
2. சூதாடுமிடத்திற்கு நாளும் சென்றால் பழைய செல்வமும் பண்பும் தொலையும்
3. பொருள் வைத்து இழக்க இழக்க மேன்மேலும் விருப்பத்தை வளர்ப்பது சூதாட்டம்
a. 2 மட்டும் b. 2, 3 c. 1, 2
d. 1, 2, 3 e. விடை தெரியவில்லை

Choose the correct statement

1. Gambling wastes wealth and grace
2. To waste time at the place of gambling will destroy inherited wealth and goodness of character.
3. Howe'er he lose, the gambler's heart is ever in the play;
a. 2 only b. 2, 3 c. 1, 2
d. 1, 2, 3 e. Answer not known

120. 'Ungalil Oruwan' is the autobiography of
a. M.K. Stalin b. K. Karunanidhi c. Annadurai
d. Nedunchezhiyan e. Answer not known

உங்களில் ஒருவன் என்ற புத்தகம் யாருடைய சுயசரிதை?

- a. மு.க.ஸ்டாலின் b. K. கருணாநிதி c. அண்ணாதுரை
d. நெடுஞ்செழியன் e. விடை தெரியவில்லை

121. How many 5's are there in the following sequence which are immediately followed by 3 but not immediately preceded by 7?

8 9 5 3 2 5 3 8 5 5 6 8 7 3 3 5 7 7 5 3 6 5 3 3 5 7 3 8

- a. 1 b. 2 c. 3 d. 4 e. Answer not known

பின்வரும் எண் தொடரில் எண் 5க்கு அடுத்து 3-ம் வரவேண்டும். ஆனால் எண் 5க்கு முன்பு எண் 7 வரக்கூடாது. இவ்விரண்டு விதிகளை பின்பற்றி எத்தனை 5-கள் உள்ளன?

8 9 5 3 2 5 3 8 5 5 6 8 7 3 3 5 7 7 5 3 6 5 3 3 5 7 3 8

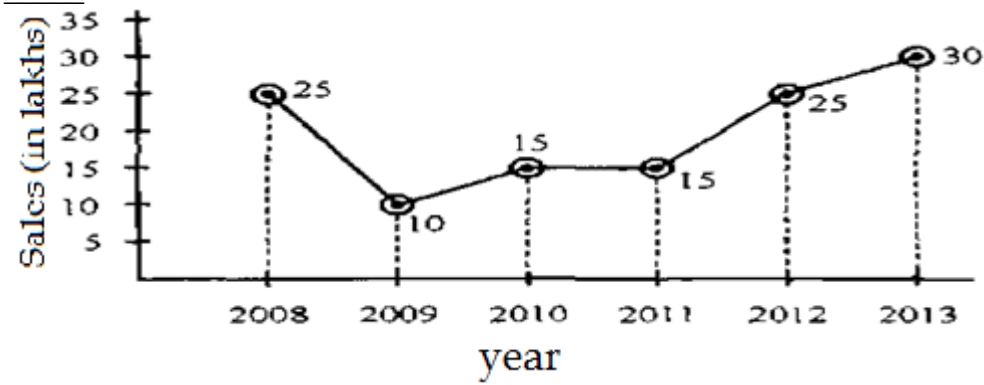
- a. 1 b. 2 c. 3 d. 4 e. விடை தெரியவில்லை

122. In a certain code, ALGEBRA as BKHDCQB, then GEOMETRY is coded as
a. HDPLFUSX b. HDPLFSSX c. HFPLFUSX
d. HFPLFUSZ e. Answer not known

இரகசிய குறியீட்டு முறையில் ALGEBRA என்பதை BKHDCQB எனக் குறித்தால் GEOMETRY என்பதை எவ்வாறு குறிக்கலாம்?

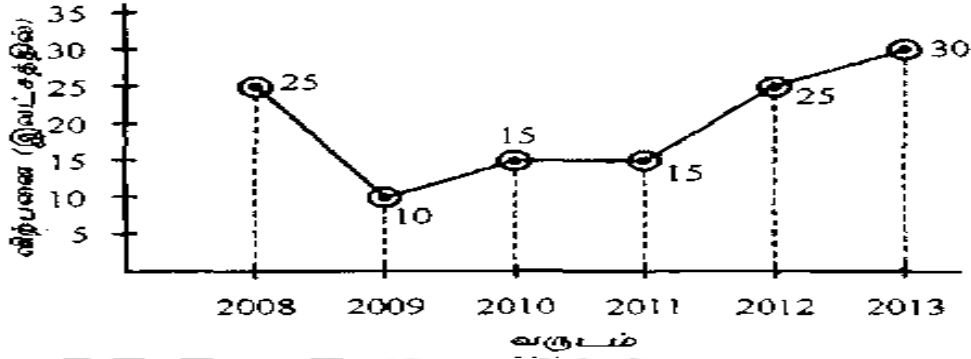
- a. HDPLFUSX b. HDPLFSSX c. HFPLFUSX
d. HFPLFUSZ e. விடை தெரியவில்லை

123. From the following graph, the percentage of increase in sales from 2011 to 2013 is



- a. 15% b. 30% c. 100% d. 200% e. Answer not known

கீழ் கொடுக்கப்பட்டுள்ள வரைபடத்திலிருந்து 2011 ஆண்டிலிருந்து 2013 வரைக்கான விற்பனை அதிகரிப்பு சதவீதம் _____



- a. 15% b. 30% c. 100% d. 200% e. விடை தெரியவில்லை

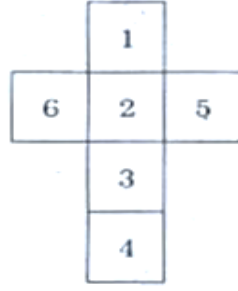
124. In a certain code, RAIN is written as 8\$%6 and MORE is written as 7#8@. How is REMAIN written in the code.

- a. #@7\$%6 b. #@&\$%6 c. 7@#\$%6
d. 8@7\$%6 e. Answer not known

ஒரு குறிப்பிட்ட குறியீட்டில், RAIN என்பது 8\$%6 என்றும் MORE என்பது 7#8@ என்றும் எழுதப்படுகின்றது எனில், REMAIN என்பது எவ்வாறு எழுதப்படும்

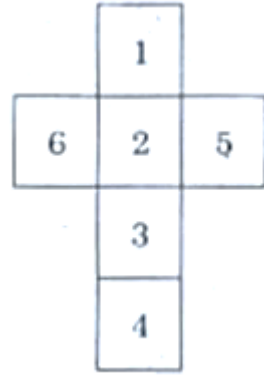
- a. #@7\$%6 b. #@&\$%6 c. 7@#\$%6
d. 8@7\$%6 e. விடை தெரியவில்லை

125. If the following figure represents the outer surface of a Dice. Which of the following pairs is not on opposite sides?



- a. 1 and 3 b. 6 and 5 c. 2 and 4
d. 1 and 4 e. Answer not known

கீழ்க்காணும் வடிவம் ஒரு தாயக்கட்டையின் மேல் பரப்பை காட்டுகிறது. கீழே கொடுக்கப்பட்ட இணைகளில் எது எதிர்பக்கங்களில் அமையாத இணை?



- a. 1 மற்றும் 3 b. 6 மற்றும் 5 c. 2 மற்றும் 4
d. 1 மற்றும் 4 e. விடை தெரியவில்லை

126. Match the following words and phrases

Column A

- A. To be a fish out of water
B. Come hell or high water

- C. As a duck takes to water
D. Dull as dish water
E. To be in deep water

Column B

1. No matter what happens
2. to be uncomfortable in a particular Situation
3. boring, uninteresting
4. to be in a difficult situation
5. Naturally with ease

- | | A | B | C | D | E |
|----|---|---|---|---|---|
| a. | 4 | 1 | 5 | 3 | 2 |
| b. | 3 | 2 | 1 | 4 | 5 |
| c. | 5 | 4 | 3 | 2 | 1 |
| d. | 2 | 3 | 1 | 5 | 4 |
- e. Answer not known

127. Choose the correct "Synonyms" for the underlined word from the options given.

A. He had solved the problem with ease.

1. Great

B. His business has evolved into an MNC

2. Surplus

C. Lack of moderation is excess

3. Endure

D. Despite the multiple fractures he survived

4. Progress

E. It was an immense relief when he won the second set 5. Effortless

- | | A | B | C | D | E |
|----|---|---|---|---|---|
| a. | 1 | 3 | 5 | 4 | 2 |
| b. | 2 | 3 | 1 | 4 | 5 |
| c. | 5 | 4 | 2 | 3 | 1 |
| d. | 4 | 5 | 1 | 2 | 3 |
- e. Answer not known

128. Choose the correct "Antonyms" for the underlined word from the options given:

- | | |
|--|----------------|
| A. She could not <u>concentrate</u> on the game | 1. preventable |
| B. As she was proud, his fall was <u>inevitable</u> | 2. wise |
| C. It was <u>occasional</u> that the class was noisy | 3. continual |
| D. She will <u>complete</u> the work in time | 4. distract |
| E. It would be <u>insane</u> to attempt the impossible | 5. Incomplete |

- | | A | B | C | D | E |
|----|---|---|---|---|---|
| a. | 1 | 2 | 3 | 4 | 5 |
| b. | 4 | 1 | 3 | 5 | 2 |
| c. | 5 | 4 | 3 | 2 | 1 |
| d. | 3 | 2 | 1 | 5 | 4 |
- e. Answer not known

129. Select the correct word (Prefix, Suffix)

- | | |
|--------|-----------|
| A. sub | 1. magic |
| B. un | 2. form |
| C. re | 3. sudden |
| D. ian | 4. way |
| E. by | 5. read |

- | | A | B | C | D | E |
|----|---|---|---|---|---|
| a. | 3 | 5 | 1 | 4 | 2 |
| b. | 5 | 1 | 3 | 2 | 4 |
| c. | 2 | 1 | 3 | 4 | 5 |
| d. | 4 | 5 | 2 | 1 | 3 |
- e. Answer not known

130. Fill in the blanks with suitable articles

You are ___ college student ___ Adventure club of your college is organising ___ expedition to Kolli hills. Design ___ attractive poster for ___ same.

- | | | |
|------------------|---------------------|------------------|
| 1. an | 2. a | 3. The |
| a. 3, 1, 3, 2, 1 | b. 2, 3, 1, 1, 3 | c. 1, 1, 2, 3, 2 |
| d. 4, 3, 2, 1, 5 | e. Answer not known | |

131. Fill in the blanks with suitable prepositions.

(1. by, 2. for, 3. after, 4. on, 5. in)

We have been living ___ Chennai ___ seven years. Maya was born ___ 5th of October. She has taken ___ her father. He goes to office ___ bus.

- a. 5, 2, 4, 3, 1 b. 4, 3, 2, 1, 5 c. 3, 1, 4, 2, 5
d. 1, 2, 4, 5, 3 e. Answer not known
132. Select the correct question tag
a. They are wise b. We played well
c. You have written well d. She laughs loudly
1. didn't... 2. aren't... 3. doesn't... 4. haven't...
a. 4, 3, 2, 1 b. 3, 2, 1, 4 c. 1, 2, 3, 4
d. 2, 1, 4, 3 e. Answer not known
133. Select the correct tense
A. Classes ____ next week (begin)
B. She ____ to become a teacher (study)
C. Your English ____ (improve)
D. He ____ for five years (teach)
1. Present Perfect 2. Present Continuous
3. Simple Present 4. Present Perfect Continuous
a. 1, 2, 3, 4 b. 4, 3, 2, 1 c. 3, 2, 1, 4
d. 2, 1, 4, 3 e. Answer not known
134. Select the correct voice
A. This experience will never be forgotten by her.
B. Do not pluck the flowers.
C. Have you finished the work?
D. Coffee was being made by him.
1. (Simple Future) Passive voice
2. (Present Perfect) Active voice
3. (Past Continuous) Passive voice
4. (Imperative) Active voice
a. 1, 4, 2, 3 b. 2, 3, 4, 1 c. 4, 1, 2, 3
d. 1, 3, 2, 4 e. Answer not known
135. Fill in the blanks (Infinitive, Gerund, Participle)
A. I feel its no use ____ (travel) to distant planets, because it takes too long.
B. Being a sportsperson will enable you ____ (achieve) great success in life.
C. These are her ____ (walk) shoes.
D. Having ____ (try) hard, he succeeded.
1. Past participle 2. Present participle
3. Infinitive 4. Gerund
a. 2, 4, 1, 3 b. 1, 2, 3, 4 c. 3, 4, 2, 1
d. 4, 3, 2, 1 e. Answer not known
136. Identify the sentence pattern of the following sentence (subject, verb, object).
We painted the car blue.
a. SVO b. SVC c. SVOA
d. SVOC e. Answer not known

137. Choose the correct plural form of Ferry
 a. Ferries b. Ferrys c. Ferrius
 d. Ferri e. Answer not known
138. Identify the sentence:
 A. Being sick he could not attend the function.
 B. As he worked hard, he succeeded in life.
 C. It is too hot for us to go out.
 D. He ran fast and won the race.
 1. Simple 2. Complex 3. Compound
 a. 1, 3, 1, 2 b. 2, 3, 1, 2 c. 1, 2, 1, 3
 d. 3, 2, 1, 1 e. Answer not known
139. Identify the Degree
 A. Very few students in the class are as intelligent as Suraj.
 B. Sheila is the tallest of all.
 C. The mango is sweeter than the apple.
 1. Positive Degree
 2. Comparative Degree
 3. Superlative Degree
 a. 1, 2, 3 b. 1, 3, 2 c. 2, 3, 1
 d. None of these e. Answer not known
140. Which among the following is incorrect?
 a. edutainment b. electrocute, smog c. travelogue
 d. None of these e. Answer not known
141. Which one of the following is incorrect?
 a. NATO – North Atlantic Treaty Organisation
 b. RADAR – Radio Detection and Ranking
 c. BBC – British Broadcasting Corporation
 d. SIM – Subscriber Identity Module
 e. Answer not known
142. Complete the following sentence with most appropriate phrasal verb
 He won the first prize
 a. bear away b. bear up c. bear down
 d. bear off e. Answer not known
143. Fill in the blank with the correct “homophones”
 Tamil Nadu was well developed during the ____ of the Naicker’s kings of Madurai.
 a. reins b. rein c. rain d. reign e. Answer not known
144. Identify the sentence pattern.

Mother teacher the child patiently on Sunday.

- a. SVA b. SVO c. SVOC d. SVOAA e. Answer not known

145. Match the following sentences given in column A with their patterns in column B

Column A	column B
A. I met the headmaster	1. SVO
B. He went on foot	2. SVC
C. They have drunk coffee	3. SVA
D. My father is busy in the office	4. SVO

	A	B	C	D
a.	1	2	4	3
b.	3	4	1	2
c.	4	3	1	2
d.	2	4	1	3

- e. Answer not known

146. Fill in the blank with the suitable participle form of the verb.

I saw the storm ____

- a. had approached b. approaching c. was approach
d. approaches e. Answer not known

147. Match the words under column 'A' with the suitable infinitives under column B and select the right option from the codes given below.

Column A	Column B
A. The parcel was heavy	1. To wear
B. These clothes are comfortable	2. To learn
C. English is easy	3. To follow
D. Her speech was difficult	4. To carry

	A	B	C	D
a.	4	1	2	3
b.	3	2	1	4
c.	2	4	3	1
d.	1	2	3	4

- e. Answer not known

148. Which one of the following has correct gerund form?

- a. I am tired of waiting b. I am tired of having waited
c. I am tired of being waited d. I am tired to wait.
e. Answer not known

149. Find out the passive voice from the option

- a. The wall is being built by the mason.
b. Some boys were helping the wounded man.
c. I wish you to visit the exhibition.

- d. They must do it.
- e. Answer not known

150. Match the sentences in column A with column B.

Column A	column B
A. I lost my purse	1. Compound sentence
B. A book was written by Meera	2. Active voice
C. The mountain is very steep and	3. Complex sentence
D. Though he is old, he walks quickly	4. Passive voice

	A	B	C	D
a.	2	4	1	3
b.	4	1	2	3
c.	1	2	3	4
d.	3	1	2	4
e.	Answer not known			

151. Our love is everlasting

Identify the figure of speech in the above line

- a. Personification
- b. Metaphor
- c. Simile
- d. Hyperbole
- e. Answer not known

152. Our love is everlasting,

I just wanted you to know

That you're my special hero

and I wanted to tell you so

Identify the rhyme scheme in the above lines:

- a. abcb
- b. abbb
- c. abbc
- d. abcc
- e. Answer not known

153. Identify the figure of speech in the following line

Every soul that touches yours -

- a. epithet
- b. Transferred Epithet
- c. Personification
- d. simile
- e. Answer not known

154. One aspiration yet unfelt;

One bit of courage

Identify the figure of speech in the above line

- a. Anaphora
- b. Alliteration
- c. Onomatopoeia
- d. Simile
- e. Answer not known

155. To brave the thickening ills of life;

Identify the words in alliteration in the above line:

- a. brave, ills
- b. to, the thickening
- c. ills, life
- d. to, the, of
- e. Answer not known

156. A thing of beauty is a joy forever
Its loveliness increases, it will never
Pass into nothingness; but will keep
A lower quiet for us and a sleep.
Identify the rhyme scheme in the above lines.
- a. abca b. aabb c. abab
d. abba e. Answer not known



157. It seems to know mountains of information by heart.
Identify the figure of speech in the above line.
a. Hyperbole b. Simile c. Metaphor
d. Assonance e. Answer not known
158. If I type in a question, and give my mouse a click,
Identify the figure of speech in the above line:
a. Simile b. Metaphor c. Onomatopoeia
d. Personification e. Answer not known
159. Its so absent-minded, that I don't know what to do.
a. Personification b. Assonance c. Anaphora
d. Metaphor e. Answer not known
160. But of late, my computer has been behaving badly too,
It's so absent minded, that I don't know what to do
It forgets to 'save' my work, and store it away
And, instead, makes it vanish in the most dreadful way.
Identify the rhyme scheme in the above lines.
a. aabb b. abba c. abca
d. abcb e. Answer not known
161. And one day, my naughty computer actually gobbled a worm,
Identify the figure of speech in the above line:
a. Repetition b. Personification c. Metaphor
d. Anaphora e. Answer not known
162. Speak gently to the little child!
Identify the figure of speech in the above line:
a. Epithet b. Simile c. Metaphor
d. Personification e. Answer not known
163. Speak gently to the little child!
 Its love be sure to gain,
Teach it in accents soft and mild
 It may not long remain.
Identify the Rhyme scheme in the above lines:
a. abab b. abca c. abbc
d. abac e. Answer not known
164. The sand of life are nearly run,
Identify the figure of speech in the above line:
a. Personification b. Simile c. Anaphora
d. Metaphor e. Answer not known

165. Sir C. V. Raman was born on:
 a. 7th January b. 7th may c. 7th November
 d. 7th December e. Answer not known
166. Isaac newton was born in the year.
 a. 1462 b. 1642 c. 1700
 d. 1762 e. Answer not known
167. Prussia consisted the nations of _____
 a. Germany, Polland and Austria b. Germany, Australia and Russia
 c. Germany, Russia and Polland d. Germany, Polland and Australia
 e. Answer not known
168. Sycorax was a _____
 a. Devil b. evil spirit c. witch
 d. fairy e. Answer not known
169. The story 'The Little Hero of Holland' pictures the _____ of a little boy towards his country and his people.
 a. Patriotism b. un-conditional love c. faithfulness
 d. respect e. Answer not known
170. Mr.Hamel, the French teacher had an experience of -----
 a. Thirty years b. Forty years c. Twenty five years
 d. Twenty years e. Answer not known
171. Identify the speaker:
 "Poor souls, they will all perish"
 a. Ferdinand b. Prospero c. Miranda
 d. Caliban e. Answer not known
172. Identify the word from the following which is not similar to the meaning of the word "errand"
 a. Chore b. Work c. task
 d. assignment e. Answer not known
173. "That's one small step for a man, one giant leap for mankind" This famous phrase said by -----
 a. Kalpana Chawla b. Neil Armstrong c. Tenzing
 d. Hillary e. Answer not known
174. The Play 'Tempest' was written between -----
 a. 1610-1611 b. 1611-1612 c. 1612-1613
 d. 1613-1614 e. Answer not known

175. Match the birds given in column A with their sounds given in column B
- | | | | | |
|-----------|--|--|--|------------|
| A | | | | B |
| BIRDS | | | | SOUNDS |
| A. Parrot | | | | 1. Crows |
| B. Crow | | | | 2. Clucks |
| C. Cock | | | | 3. Screech |
| D. Hen | | | | 4. Caws |
- | | | | | |
|----|---|---|---|---|
| | A | B | C | D |
| a. | 1 | 2 | 3 | 4 |
| b. | 2 | 3 | 4 | 1 |
| c. | 3 | 4 | 1 | 2 |
| d. | 4 | 1 | 2 | 3 |
- e. Answer not known
176. Match the Characters in column A with their qualities in column B
- | | | | | |
|----------------------|--|--|--|------------|
| A | | | | B |
| A. The Young Seagull | | | | 1. Betray |
| B. Little Franz | | | | 2. Brave |
| C. Peter | | | | 3. Regret |
| D. Antonio | | | | 4. Fearful |
- | | | | | |
|----|---|---|---|---|
| | A | B | C | D |
| a. | 4 | 3 | 2 | 1 |
| b. | 4 | 2 | 1 | 3 |
| c. | 4 | 1 | 3 | 2 |
| d. | 4 | 2 | 3 | 1 |
- e. Answer not known
177. 'Vive La France' is an expression used in French to show ---
- | | | |
|---------------|---------------------|------------|
| a. Patriotism | b. Socialism | c. Respect |
| d. Communism | e. Answer not known | |
178. Little Cyclone is a Grizzly Cub from _____.
- | | | |
|--------------|---------------------|---------------|
| a. Australia | b. Alaska | c. Antarctica |
| d. New York | e. Answer not known | |
179. Identify the speaker: "Then bring them here, Aerial"
- | | | |
|--------------|---------------------|------------|
| a. Ferdinand | b. Prospero | c. Ganzalo |
| d. Antonio | e. Answer not known | |
180. Sachin Tendulkar had played _____ International matches.
- | | | | | |
|--------|--------|--------|--------|---------------------|
| a. 667 | b. 664 | c. 665 | d. 666 | e. Answer not known |
|--------|--------|--------|--------|---------------------|

181. Match the title given under column A with the characters given under column B

A	B
A. Meenakshi Ammal	1. The Last Lesson
B. Franz	2. The Little Hero of Holland
C. Peter	3. My Reminiscence
D. Jyotirindra	4. The Nose Jewel

	A	B	C	D
a.	1	4	3	2
b.	3	2	1	4
c.	2	3	4	1
d.	4	1	2	3

e. Answer not known

182. Give a suitable antonym for the underlined word.

Usually, when the school began, there was a great bustle, which could be heard out in the street.

- a. Commotion b. silence c. Loud noise
d. quite e. Answer not known

183. _____ is the heir to the crown of Naples.

- a. Aerial b. Antonio c. King of Naples
d. Ferdinand e. Answer not known

184. He even gnawed at the dried pieces of eggshell. The word 'he' refers to

- a. The author b. The seagull c. The seagull's father
d. The seagull's brother e. Answer not known

185. "to call woman the weaker sex is a libel; It is man's injustice to women"
Who said these words about Women?

- a. Jawaharlal Nehru b. Swami Vivekananda c. Rabindranath Tagore
d. Mahatma Gandhie. Answer not known

186. Peter stopped the water by

- a. Keeping wooden piece in the whole
b. Keeping a stone in the hole
c. Keeping his finger in the hole
d. Keeping the mud over the hole
e. Answer not known

187. Select the most appropriate option for the following: clevour:: guzzle:: nibble::

- _____.
a. Savour b. Peek c. Gulp d. Chew e. Answer not known

188. My Reminiscences was written and published by Tagore in his _____ year

- a. 50th b. 40th c. 75th d. 60th e. Answer not known

189. Anne Sullivan came to teach Helen Keller at the age of
 a. 11 b. 20 c. 21 d. 12 e. Answer not known
190. It takes much time to kill a tree
 a. Metaphor b. Imagery c. Personification
 d. Connotation e. Answer not known
191. "oh no no" said the little fly;" to ask me is in vain
 a. Alliteration b. Repetition c. Assonance
 d. Metaphor e. Answer not known
192. There you find the gladdest play-ground, there the happiest spot to live
 a. Personification b. Simile c. imagery
 d. Metaphor e. Answer not known
193. Through the flowers and foliage glancing like a child at play
 a. Simile b. Metaphor c. Synched ode
 d. Antithesis e. Answer not known
194. River, river little river!
 a. metaphor b. epithet c. imagery
 d. oxymoron e. Answer not known
195. A comet in full flight
 a. Repetition b. Personification c. Metaphor
 d. Alliteration e. answer not known
196. The stick together families are happier by far
 a. Personification b. Alliteration c. Connotation
 d. Metaphor e. Answer not known
197. We can see and hear and count and read and write
 a. Hyperbole b. Oxymoron c. Imagery
 d. Metaphor e. Answer not known
198. Greater than the people of the kings
 a. Onomatopoeia b. epithet c. simile
 d. metaphor e. Answer not known
199. We are greater than the peoples and the kings
 a. Hyperbole b. Simile c. Metaphor
 d. Personification e. Answer not known

200. And it grew both day and night
a. Metaphor b. Oxymoron c. Personification
d. Imagery e. Answer not known



