

APP LO STUDY CENTRE

HIT THE BULL'S EYE

TEST XXXI PREMODEL V

(CURRENT AFFAIRS, MENTAL ABILITY, THIRUKURAL & GENERAL TAMIL)

- The poet received the Kuvempu Rashtriya Puraskar for the year 2020,
 - Sudarshan Sahoo
 - Namita Gokhale
 - Ambai
 - Dr. Rajendra Kishore Panda
 - Answer not known

2020ஆம் ஆண்டிற்கான குவேம்பு ராஷ்ட்ரிய புரஷ்கர் விருது பெற்ற கவிஞர்

 - சுதர்சன சாஹூ
 - நமீதா கோகலே
 - அம்பை
 - டாக்டர். இராஜேந்திர கிஷோர் பாண்டா
 - விடை தெரியவில்லை
- Valmiki Tiger Reserve is located in
 - Uttar Pradesh
 - Bihar
 - Uttarkhand
 - Jharkhand
 - Answer not known

வால்மீகி புலிகள் காப்பகம் எங்கு உள்ளது?

 - உத்திரபிரதேசம்
 - பீகார்
 - உத்தராகண்ட்
 - ஜார்கண்ட்
 - விடை தெரியவில்லை
- Identify the correct statements
 - National Fish Farmers Day is celebrated on 10th July
 - The annual event is to commemorate the contributions of Dr. Hiralal Chaudary and Dr. Alikunhi
 - The day is celebrated by National Fish Farmers Board (NFFB)
 - 1 only
 - 3 only
 - 1 and 2 only
 - All of these
 - Answer not known

சரியான கூற்றுகளைக் கண்டறிக

 - தேசிய மீன்வளர்ப்பு விவசாயிகள் தினம் ஜூலை 10 அன்று கொண்டாடப்படுகிறது
 - இந்த தினமானது டாக்டர் ஹிராலால் செளத்ரி மற்றும் டாக்டர் அலிகுன்ஹியின் பங்களிப்பை நினைவு கூற ஒவ்வொரு வருடமும் கடைபிடிக்கப்படுகிறது
 - இந்த தினம் தேசிய மீன்வளர்ப்பு விவசாயிகள் வாரியத்தால் (NFFB) கடைபிடிக்கப்படுகிறது.
 - 1 மட்டும்
 - 3 மட்டும்
 - 1 மற்றும் 2 மட்டும்
 - இவை அனைத்தும்
 - விடை தெரியவில்லை
- North Eastern Institute of Ayurveda and Fold Medicine Research is present in
 - Arunachal Pradesh
 - Assam
 - Sikkim
 - Meghalaya
 - Answer not known

வடகிழக்கு ஆயுர்வேத மற்றும் நாட்டு மருத்துவ ஆராய்ச்சிக் கல்வி நிறுவனமானது எங்கு உள்ளது?

- a. அருணாச்சலபிரதேசம் b. அசாம் c. சிக்கிம்
d. மேகாலயா e. விடை தெரியவில்லை

5. Consider the following statements

1. 'Thagaisal Thamizhar' award has been instituted to honour an eminent Tamil personality for their contribution to Tamil Language
 2. The inaugural award was received by N. Sankaraiah
 3. The award will be presented every year on Independence Day
- a. 1 and 2 are correct b. 1 only is incorrect c. All are correct
d. 2 only is incorrect e. Answer not kown

பின்வரும் கூற்றுகளை ஆய்க

1. தமிழ்மொழியின் வளர்ச்சிக்கு பங்காற்றுவவர்களை பெருமைப்படுத்தும் விதமாக 'தகைசால் தமிழர்' விருது உருவாக்கப்பட்டுள்ளது
 2. முதன் முதலாக இவ்விருதை N. சங்கரய்யா பெற்றார்
 3. இவ்விருது ஒவ்வொரு ஆண்டும் சுதந்திர தினத்தன்று வழங்கப்படும்.
- a. 1 மற்றும் 2 சரி b. 1 மட்டும் தவறு c. அனைத்தும் சரி
d. 2 மட்டும் தவறு e. விடை தெரியவில்லை

6. The incumbent Chief Scientist of World Health Organisation is

- a. Gagandeep Kang b. Maria Van Karkhove
c. Soumya Swaminathan d. Norman Borlaug
e. Answer not known

உலக சுகாதார அமைப்பின் தற்போதைய தலைமை அறிவியலாளர்

- a. ககந்தீப் காங் b. மரியா வான் கேர்கோவ்
c. செளமியா சுவாமிநாதன் d. நார்மன் போர்லாக்
e. விடை தெரியவில்லை

7. Who has been appointed as the director general of Border Security Force?

- a. Sanjay Arora b. Balaji Srivatsav c. Rakesh Asthana
d. Pankaj Kumar Singh e. Answer not known

எல்லைப் பாதுகாப்பு படையின் தலைமை இயக்குநராக நியமிக்கப்பட்டுள்ளவர் யார்?

- a. சஞ்சய் அரோரா b. பாலாஜி ஸ்ரீவத்சவ் c. ராகேஷ் அஸ்தானா
d. பங்கஜ் குமார் சிங் e. விடை தெரியவில்லை

8. கூற்று (A): இன்பம் தரும் நிழலும் நீரும் நோய் செய்வனவாக இருந்தால் தீயனவே ஆகும்.

காரணம் (R): சுற்றத்தாரின் தன்மைகளும் துன்பம் தருமானால் தீயனவே ஆகும்.

- a. (A) மற்றும் (R) சரி மேலும் (R) என்பது (A) க்கு சரியான விளக்கமாகும்.
b. (A) மற்றும் (R) சரி ஆனால் (R) என்பது (A) க்கு சரியான விளக்கமல்ல
c. (A) சரி ஆனால் (R) தவறு
d. (A) தவறு ஆனால் (R) சரி
e. விடை தெரியவில்லை

Assertion (A): Shade and water are not pleasant, (if) they cause disease

Reason (R): qualities of one's relations not agreeable, they cause pain.

- A and R are true R is the correct explanation of A
- A and R are true R is not the correct explanation of A
- A true but R false
- A false but R true
- Answer not known

9. Trichy Carbine (Tri Ca) is a
- Carbon di oxide purification tower
 - Turbine manufactured by BHEL, Trichy
 - High tech and low sound weapon
 - Nanotechnology based bullet proof vest
 - Answer not known

திருச்சி கார்பைன் (Tri Ca) என்பது

- கார்பன்டை ஆக்சைடு சுத்திகரிப்பு கோபுரம்
- திருச்சி BHEL நிறுவனத்தால் தயாரிக்கப்பட்ட டர்பைன்
- உயர் தொழில்நுட்ப, குறைவான ஒலி எழுப்பக்கூடிய துப்பாக்கி
- நானோ தொழில்நுட்பம் கொண்ட குண்டு துளைக்காத கவசம்
- விடை தெரியவில்லை

10. Match the following

Award

- Kalpna Chawla
- A.P.J. Abdul Kalam
- Avvaiyar Award
- Best Third Gender

Person

- Santhi Duraisamy
- Grace Banu
- P. Shanmuga Priya
- M. Lakshmanan

	A	B	C	D
a.	1	4	3	2
b.	3	4	1	2
c.	1	2	4	3
d.	2	4	1	3

- e. Answer not known

பொருத்துக

விருது

- கல்பனா சாவ்லா
- A.P.J. அப்துல் கலாம்
- அவ்வையார் விருது
- சிறந்த மூன்றாம் பாலினத்தவர்

நபர்

- சாந்தி துரைசாமி
- கிரேஸ் பானு
- P. சண்முகப்பிரியா
- M. லட்சுமணன்

	A	B	C	D
a.	1	4	3	2
b.	3	4	1	2
c.	1	2	4	3
d.	2	4	1	3

- e. விடை தெரியவில்லை

11. The first Indian woman to win two Olympic Medals is
 a. P.V. Sindhu b. Mirabai Chanu c. Mary Kom
 d. Vinesh Phogat e. Answer not known
 இரண்டு ஒலிம்பிக் பதக்கங்களை வென்ற முதல் இந்திய பெண்மணி
 a. பி.வி. சிந்து b. மீராபாய் சானு c. மேரி கோம்
 d. வினேஷ் போகாட் e. விடை தெரியவில்லை
12. Identify the incorrect pair
 a. Neeraj Chopra – Javelin b. Iovlina Borgohain – Boxing
 c. Ravi Dahiya – Boxing d. Bajrang Punia – Wrestling
 e. Answer not known
 தவறான இணையைக் கண்டறிக
 a. நீர்ஜ் சோப்ரா - ஈட்டி எறிதல் b. லவ்லினா போர் கோஹெய்ன் - குத்துச்சண்டை
 c. ரவி தாஹியா – குத்துச்சண்டை d. பஜ்ரங் புனியா – மல்யுத்தம்
 e. விடை தெரியவில்லை
13. A device that can generate electricity from raindrops is developed by the researchers of
 a. IIT Kharagpur b. IIT Delhi c. DRDO
 d. IISc Bangalore e. Answer not known
 மழைத்துளிகளில் இருந்து மின்சாரம் தயாரிக்கும் கருவியை எந்த நிறுவனத்தின் ஆராய்ச்சியாளர்கள் கண்டுபிடித்துள்ளனர்?
 a. IIT கராக்பூர் b. IIT டெல்லி c. DRDO
 d. IISc பெங்களூரு e. விடை தெரியவில்லை
14. India ranks as _____ most charitable country in the world based on the world giving index 2021
 a. 14th b. 26th c. 45th d. 82nd e. Answer not known
 2021ஆம் ஆண்டின் உலக தானக் குறியீட்டின்படி உலகில் அதிகம் தொண்டு செய்யும் நாடுகளில் இந்தியாவின் இடம்
 a. 14வது b. 26வது c. 45வது d. 82வது e. விடை தெரியவில்லை
15. Which institution has topped the overall category ranking of the NIRF India Rankings 2021?
 a. IIT Madras b. IISc Bengaluru c. AIIMS Delhi
 d. IIT Delhi e. Answer not known
 NIRF இந்தியா 2021 தரவரிசைப் பட்டியலில் எந்த இந்திய நிறுவனம் முதலிடத்தில் உள்ளது?
 a. IIT சென்னை b. IISc பெங்களூரு c. AIIMS டெல்லி
 d. IIT டெல்லி e. விடை தெரியவில்லை
16. பின்வரும் கூற்றுகளை ஆய்க
 1. வாளைப்போல் வெளிப்படையான பகைவர்க்கு அஞ்சவேண்டியதில்லை.
 2. உறவினரைப் போல இருந்து உட்பகை கொண்டவரின் தொடர்புக்கு அஞ்ச வேண்டும்
 a. 1 சரி ஆனால் 2 தவறு b. 1 தவறு ஆனால் 2 சரி c. 1 மற்றும் 2 சரி
 d. 1 மற்றும் 2 தவறு e. விடை தெரியவில்லை
 Consider the following statements

1. Fear not foes who say they would cut like a sword
2. Fear the friendship of foes (who seemingly act) like relations.
- a. 1 correct but 2 incorrect b. 1 incorrect but 2 correct
- c. 1 and 2 correct d. 1 and 2 incorrect
- e. answer not known

17. Identify the correct statements

1. India clinched 19 medals at Tokyo Paralympics
2. Mariyappan Thangavelu has become the first Indian to win two paralympic gold medals
3. Harvinder Singh has become India's first ever archer to win a medal in the Paralympics

- a. 1 only b. 2 only c. 1 and 3 only
- d. All of these e. Answer not known

சரியான கூற்றுகளைக் கண்டறிக

1. டோக்கியோ பாராலிம்பிக்கில் இந்தியா மொத்தம் 19 பதக்கங்களை வென்றது
2. இரண்டு பாராலிம்பிக் தங்க பதக்கங்களை வென்ற முதல் இந்தியரானார் மாரியப்பன் தங்கவேலு
3. பாராலிம்பிக்கில் பதக்கம் வென்ற இந்தியாவின் முதல் வில்வித்தை வீரர் என்ற பெருமையை ஹர்விந்தர் சிங் பெற்றார்

- a. 1 மட்டும் b. 2 மட்டும் c. 1 மற்றும் 3 மட்டும்
- d. மேற்கூறிய அனைத்தும் e. விடை தெரியவில்லை

18. Which department has launched the digital bonds named 'e PLI bond'?

- a. Telecom b. Posts c. Income Tax
- d. Economic Affairs e. Answer not known

'e PLI' எனும் கடன்பத்திரத்தை டிஜிட்டல் முறையில் வெளியிட்ட துறை

- a. தொலைத்தொடர்பு b. அஞ்சல் c. வருமான வரி
- d. நிதி விவகாரங்கள் e. விடை தெரியவில்லை

19. Match the following

- | | |
|-----------------------------|--------------|
| A. Akshay Urja Diwas | 1. July 29 |
| B. World Senior Citizen Day | 2. August 21 |
| C. National Sports Day | 3. August 30 |
| d. International Tiger Day | 4. August 29 |

- | | | | | |
|----|---|---|---|---|
| | A | B | C | D |
| a. | 3 | 2 | 4 | 1 |
| b. | 4 | 3 | 1 | 2 |
| c. | 3 | 4 | 2 | 1 |
| d. | 1 | 2 | 4 | 3 |

e. Answer not known

பின்வருவனவற்றைப் பொருத்துக

- | | |
|-------------------------------|--------------|
| A. அக்ஷய் ஊர்ஜா திவாஸ் | 1. ஜூலை 29 |
| B. உலக முத்த குடிமக்கள் தினம் | 2. ஆகஸ்ட் 21 |
| C. தேசிய விளையாட்டு தினம் | 3. ஆகஸ்ட் 30 |
| D. உலக புலிகள் தினம் | 4. ஆகஸ்ட் 29 |

- | | | | |
|---|---|---|---|
| A | B | C | D |
|---|---|---|---|

- a. 3 2 4 1
b. 4 3 1 2
c. 3 4 2 1
d. 1 2 4 3

20. If $AT = 20$, $BAT = 40$, then CAT will be equal to

- a. 30 b. 50 c. 60 d. 70 e. Answer not known

AT என்பதை 20 என்றும் BAT என்பதை 40 என்றும் எழுதினால் CAT என்பதை எவ்வாறு எழுதுவாய்?

- a. 30 b. 50 c. 60 d. 70 e. விடை தெரியவில்லை

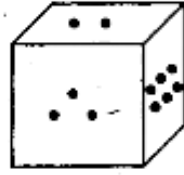
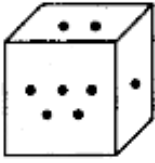
21. If $2 \div 3 = 89$, $3 \div 4 = 2716$, $4 \div 3 = 649$ then $1 \div 2 = ?$

- a. 24 b. 14 c. 4 d. 10 e. Answer not known

$2 \div 3 = 89$, $3 \div 4 = 2716$, $4 \div 3 = 649$ எனில் $1 \div 2 = ?$

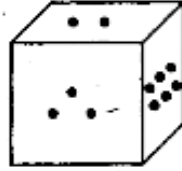

- a. 24 b. 14 c. 4 d. 10 e. விடை தெரியவில்லை

22. Two portions of a dice are given below. When 1 is at the top, which number will be at the bottom?



- a. 3 b. 4 c. 5 d. 6 e. Answer not known

ஒரு பகடையின் இரு நிலைகள் கீழே படமாக தரப்பட்டுள்ளன. எண் 1 மேலே இருக்கும்போது கீழே உள்ள எண் எது?



- a. 3 b. 4 c. 5 d. 6 e. விடை தெரியவில்லை

23. A started from a place. After walking for a kilometre, in a direction, he turn to the left, then walking for a half kilometre, he again turns to the left. Now he is going eastwards. In what direction did he originally started?

- a. West b. East c. North
d. South e. Answer not known

A என்பவர் ஓரிடத்திலிருந்து ஒரு திசையை நோக்கி ஒரு கிலோ மீட்டர் நடந்த பிறகு இடப்பக்கம் திரும்பி $\frac{1}{2}$ கிலோ மீட்டர் பிறகு மீண்டும் இடப்பக்கம் திரும்பி நடந்து செல்கிறார். தற்போது அவர் கிழக்கு திசை நோக்கி நடந்து சென்றால், தொடக்கத்தில் அவர் எந்த திசையை நோக்கி தொடங்கினார்?

- a. மேற்கு b. கிழக்கு c. வடக்கு
d. தெற்கு e. விடை தெரியவில்லை

24. பொருத்துக:

பகுதி – I				பகுதி – II
A. ஏதம்				1. அழிந்துபோகாமை
B. இறல்				2. சாதல்
C. ஒன்றாமை				3. பகைமை
D. பொன்றாமை				4. குற்றம்
	A	B	C	D
a.	4	2	3	1
b.	3	4	2	1
c.	2	3	4	1
d.	4	2	1	3

Match the following

பகுதி – I				பகுதி – II
A. ஏதம்				1. Not to perish
B. இறல்				2. death
C. ஒன்றாமை				3. Hostility
D. பொன்றாமை				4. offence
	A	B	C	D
a.	4	2	3	1
b.	3	4	2	1
c.	2	3	4	1
d.	4	2	1	3

25. How many even numbers are there in the following sequence of numbers which are immediately followed by an odd number as well as immediately preceded by an even number?

8 6 7 6 8 9 3 2 7 5 3 4 2 2 3 5 5 2 2 8 5 1 9

- a. One b. Three c. Five
d. Four e. Answer not known

பின்வரும் எண்தொடரில் இரட்டைப்படை எண்ணுக்கு அடுத்து ஒற்றைப்படை எண்ணும் அதே இரட்டைப்படை எண்ணுக்கு முன்பு இரட்டைப்படை எண்ணும் அமைந்த எண்களின் எண்ணிக்கை?

8 6 7 6 8 9 3 2 7 5 3 4 2 2 3 5 5 2 2 8 5 1 9

- a. ஒன்று b. மூன்று c. ஐந்து
d. நான்கு e. விடை தெரியவில்லை

26. Which of the following statements is/are true?

1. The death anniversary of poet Subramania Bharathiyar is to be commemorated as 'Mahakavi Day' by Tamilnadu

2. Former CM CN Annadurai was the first to call Bharathiyar as 'Mahakavi'

- a. 1 only b. 2 only c. both 1 and 2
d. Neither 1 nor 2 e. Answer not known

பின்வரும் கூற்றுகளில் சரியானது எது/எவை?

1. கவிஞர் சுப்பிரமணிய பாரதியாரின் நினைவுதினம் தமிழ்நாடு அரசால் மகாகவி தினமாக கொண்டாடப்பட உள்ளது
2. முன்னாள் முதல் அமைச்சர் C.N. அண்ணாதுரை அவர்களே பாரதியாரை முதன் முதலில் மகாகவி என்றழைத்தார்.
 - a. 1 மட்டும்
 - b. 2 மட்டும்
 - c. 1 மற்றும் 2
 - d. இரண்டுமில்லை
 - e. விடை தெரியவில்லை

27. Identify the incorrect pair

- a. Best corportation - Thanjavur
- b. Best municipality - Ooty
- c. Best Town Panchayat - Kallakudi
- d. Best Village Panchayat - Kottaiyur
- e. Answer not known

தவறான இணையைக் காண்க

- a. சிறந்த மாநகராட்சி - தஞ்சாவூர்
- b. சிறந்த நகராட்சி - ஊட்டி
- c. சிறந்த பேரூராட்சி - கள்ளக்குடி
- d. சிறந்த ஊராட்சி - கோட்டையூர்
- e. விடை தெரியவில்லை

28. Who has become the first Indian Women Cricketer to score a century in Australia?

- a. Smriti Mandana
- b. Mithali Raj
- c. Shafali Verma
- d. Punam Raut
- d. Answer not known

ஆஸ்திரேலியாவில் சதம் அடித்த முதல் இந்திய பெண் கிரிக்கெட் வீராங்கனை யார்?

- a. ஸ்மிருதி மந்தனா
- b. மிதாலி ராஜ்
- c. ஷெஃ.பாலி வர்மா
- d. பூனம் ராவத்
- e. விடை தெரியவில்லை

29. Match the following

Nobel Prize

- A. Medicine
- B. Literature
- C. Chemistry
- D. Peace

Winners

1. Benjamin List, David WC MacMillan
2. Maria Ressa, Dmitry Muratov
3. Abdul Razak Gurnah
4. David Julius, Ardem Patapoutian

	A	B	C	D
a.	1	4	3	2
b.	4	3	2	1
c.	1	3	4	2
d.	4	3	1	2

e. Answer not known

பொருத்துக

நோபல் பரிசு

- A. மருத்துவம்
- B. இலக்கியம்
- C. வேதியியல்
- D. அமைதி

விருது பெற்றவர்கள்

1. பெஞ்சமின் லிஸ்ட், டேவிட் WC மேக்மில்லன்
2. மரியா ரெஸ்ஸா, டிமிட்ரி முராடோவ்
3. அப்துல்ரசாக் குர்னா
4. டேவிட் ஜூலியஸ், ஆர்டெம் படபூட்டியன்

	A	B	C	D
a.	1	4	3	2
b.	4	3	2	1
c.	1	3	4	2
d.	4	3	1	2
e.	விடை தெரியவில்லை			

30. Identify the correct statements

- 2021 Nobel Prize for Physics was won by Syukuru Manabe, David Card and Guido W Imbens
 - It was awarded for predicting global warming and understanding physical systems.
- a. 1 only b. 2 only c. 1 and 2
d. Neither 1 nor 2 e. Answer not known

சரியானக் கூற்றுகளைக் கண்டறிக

- 2021ஆம் ஆண்டின் இயற்பியலுக்கான நோபல் பரிசை ஸ்கியூரோ மனாபே, டேவிட் கார்ட் மற்றும் கைடோ W இம்பென்ஸ் ஆகியோர் பெற்றனர்.
 - புவி வெப்பமயமாதல் மற்றும் சிக்கலான இயற்பியல் கட்டமைப்புகளின் புரிதலுக்காக இவ்விருது வழங்கப்பட்டது.
- a. 1 மட்டும் b. 2 மட்டும் c. 1 மற்றும் 2
d. 1 மற்றும் 2 இரண்டுமல்ல e. விடை தெரியவில்லை

31. Which organisation has released the "State of the World's Children 2021" report?

- a. WHO b. UNDP c. UNICEF
d. UNESCO e. Answer not known

உலக குழந்தைகளின் நிலை 2021 அறிக்கையை வெளியிட்ட நிறுவனம்

- a. WHO b. UNDP c. UNICEF
d. UNESCO e. விடை தெரியவில்லை

32. கீழ்க்கண்டவற்றுள் சரியானதை தேர்ந்தெடுக்கவும்

- உட்பகை எள்ளின் பிளவுபோல் மிகச் சிறியதாக இருந்தாலும் அது தன்னுள் அழிவு உடையது.
 - உட்பகை உள்ள குடி மெல்ல வலிகுறைந்து அரம் அராவிய இரும்புபோல் தேயும்
 - செப்பும் மூடியும் போலச் சேர்ந்திருந்தாலும், உட்பகை உள்ள குடியினர் மனம் ஒன்றுபடார்
- a. 1, 3 b. 1, 2 c. 2, 3
d. 1, 2, 3 e. விடை தெரியவில்லை

Choose the correct statements

- Although internal hatred be as small as the fragment of the sesamum (seed), still does destruction dwell in it.
 - A family subject to internal hatred will wear out and lose its strength like iron that has been filed away.
 - Never indeed will a family subject to internal hatred unite (really) though it may present an apparent union like that of a casket and its lid.
- a. 1, 3 b. 1, 2 c. 2, 3
d. 1, 2, 3 e. Answer not known

33. Tamilnadu's first multi-modal logistics park is to come up in,
a. Cheyyar b. Irungattukottai c. Hosur
d. Mappedu e. Answer not known
தமிழ்நாட்டின் முதல் பல் முறை சரக்கு போக்குவரத்து பூங்கா எங்கு அமையவுள்ளது?
a. செய்யாறு b. இருங்காட்டுக்கோட்டை c. ஓசூர்
d. மப்பேடு e. விடை தெரியவில்லை
34. Which Tiger Conservation Foundation has won Earth Guardian Award by UNCITES?
a. Parambikulam b. Periyar c. Mudumalai
d. Nagarhole e. Answer not known
UNCITES-ஆல் வழங்கப்பட்ட பூமி காப்பாளர் விருதைப்பெற்ற புலிகள் பாதுகாப்பு அறக்கட்டளை
a. பரம்பிகுளம் b. பெரியாறு c. முதுமலை
d. நாகர்ஹோலே e. விடை தெரியவில்லை
35. Consider the following statements
1. India ranked 71 in the Global Hunger Index 2021
2. India topped among the SAARC countries
3. India ranked 94 in the global food security index 2021
a. 1 and 2 only are correct b. 2 only is incorrect
c. All are correct d. All are incorrect
e. Answer not known
பின்வரும் கூற்றுகளை ஆய்க
1. உலகளாவிய பசிக்குறியீடு 2021இல் இந்தியா 71வது இடத்தில் உள்ளது.
2. சார்க் நாடுகளில் இந்தியா, முதலிடத்தில் உள்ளது
3. உலகளாவிய உணவு பாதுகாப்பு குறியீடு 2021இல் இந்தியா 94வது இடத்தில் உள்ளது.
a. 1 மற்றும் 2 மட்டும் சரி b. 2 மட்டும் தவறு
c. அனைத்தும் சரி d. அனைத்தும் தவறு
e. விடை தெரியவில்லை
36. Which country won the SAFF football championship 2021 held in Male?
a. Bangladesh b. Oman c. Nepal
d. India e. Answer not known
2021ஆம் ஆண்டின் தெற்காசிய (SAFF) கால்பந்து போட்டியில் வெற்றி பெற்ற நாடு எது?
a. வங்கதேசம் b. ஓமன் c. நேபாளம்
d. இந்தியா e. விடை தெரியவில்லை
37. Identify the incorrect statements
1. Samudrayaan is the India's first manned ocean mission
2. It was launched by the ministry of earth sciences.
a. 1 only b. 2 only c. both 1 and 2
d. Neither 1 nor 2 e. answer not known
தவறான கூற்றுகளைக் கண்டறிக
1. சமுத்திரயான் என்பது இந்தியாவின் முதல் மனிதர்களைக் கொண்ட ஆழ்கடல் ஆராய்ச்சி திட்டமாகும்.

2. இது புவி அறிவியல் அமைச்சகத்தால் தொடங்கப்பட்டுள்ளது.
a. 1 மட்டும் b. 2 மட்டும் c. இரண்டும்
d. இரண்டுமல்ல e. விடை தெரியவில்லை

38. Whose birth anniversary is to be celebrated as 'benevance day' by Tamilnadu government?

- a. Vallalar b. Vaikunda Swamigal c. Maraimalai Adigal
d. Pattinathar e. Answer not known

யாருடைய பிறந்தநாளை தமிழ்நாடு அரசு தனிப்பெரும் கருணை தினமாக கொண்டாட உள்ளது?

- a. வள்ளலார் b. வைகுந்தசுவாமிகள் c. மறைமலை அடிகள்
d. பட்டினத்தார் e. விடை தெரியவில்லை

39. National Institute of Ocean Technology is located in

- a. Goa b. Kochi c. Chennai
d. Visakapattinam e. Answer not known

தேசிய கடல்சார் தொழில்நுட்ப நிறுவனம் எங்கு உள்ளது?

- a. கோவா b. கொச்சி c. சென்னை
d. விசாகப்பட்டினம் e. விடை தெரியவில்லை

40. மனவேறுபாடு உடையாரோடு வாழ்தல் என்பது ஒரு குடிசையுள்ளே எதனோடு ஒருவன் சேர்ந்து வசிப்பது போன்றதாகும்?

- a. தேனோடு b. பேயோடு c. பாம்போடு
d. புலியோடு e. விடைதெரியவில்லை

Living with those who do not agree with one is like dwelling with a _____ in the same hut.

- a. scorpion b. devil c. snake
d. tiger d. answer not known

41. World's largest solar park is located in

- a. Bhadla b. Lonyang xia c. Kamudhi
d. Kurnool e. Answer not known

உலகின் மிகப்பெரிய சூரிய சக்தி பூங்கா அமைந்துள்ள இடம்

- a. பட்லா b. லாங்யாங்சியா c. கமுதி
d. கர்னூல் e. விடை தெரியவில்லை

42. Which of the following products from Tamilnadu has earned GI tags?

1. Kanyakumari clove 2. Thanjavur Netti workds
3. Karuppur Kalamkari painting 4. Arumbavur wood carvings
5. Cheyvur groundnut

- a. 1, 2, 3 b. 1, 2, 4 and 5 c. 1, 2, 3 and 4
d. all the above e. answer not known

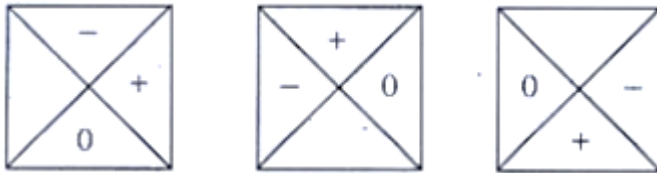
பின்வரும் தமிழ்நாட்டைச் சார்ந்த பொருட்களில் புவிசார் குறியீட்டை பெற்றவை எவை?

1. கன்னியாகுமரி கிராம்பு 2. தஞ்சாவூர் நெட்டி வேலைகள்
3. கருப்பூர் கலம்காரி ஓவியங்கள் 4. அரும்பாவூர் மர வேலைப்பாடுகள்
5. சேவூர் நிலக்கடலை

- a. 1, 2, 3 b. 1, 2, 4 மற்றும் 5 c. 1, 2, 3 மற்றும் 4


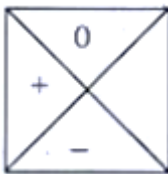

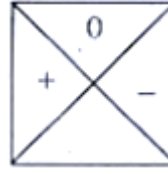
- d. மேற்கண்ட அனைத்தும் e. விடை தெரியவில்லை
43. Rank of Tamilnadu in the Multi dimensional Poverty Index (MPI) report by NITI Aayog is,
a. Two b. One c. Four d. three e. answer not known
நிதி ஆயோக் வெளியிட்ட பல்பரிமாண வறுமைக் குறியீட்டில் தமிழ்நாடு பெற்ற இடம்
a. இரண்டு b. ஒன்று c. நான்கு d. மூன்ற e. விடை தெரியவில்லை
44. Consider the following
Assertion (A): India's Total Fertility Rate has dropped to 2
Reason (R): there has been a 13% increase in the number of people using contraceptives
a. Both A and R are true and R is the correct explanation of A
b. Both A and R are true and R is not the correct explanation of A
c. A is true, R is false
d. A is false, R is true
e. Answer not known
பின்வருவனவற்றை ஆய்க
கூற்று (A): இந்தியாவின் மொத்த கருவுறுதல் விகிதம் 2 ஆக குறைந்துள்ளது
காரணம் (R): கருத்தடை முறைகளைப் பயன்படுத்தும் மக்களின் எண்ணிக்கை 13% உயர்ந்துள்ளது
a. A மற்றும் R இரண்டும் சரி மேலும் R என்பது A விற்கு சரியான விளக்கமாகும்
b. A மற்றும் R இரண்டும் சரி மேலும் R என்பது A விற்கு சரியான விளக்கமல்ல
c. A சரி R தவறு
d. A தவறு R சரி
e. விடை தெரியவில்லை
45. Find the missing alphabets in the given series
13ca, 216fab, 25eb, 237____, 46fd
a. gce b. gcb c. gcd d. fcb e. Answer not known
கொடுக்கப்பட்ட தொடரில் கோடிட்ட இடத்தில் இருக்க வேண்டிய எழுத்துகள் யாவை?
13ca, 216fab, 25eb, 237____, 46fd
a. gce b. gcb c. gcd d. fcb e. விடை தெரியவில்லை

46.



What comes next?

அடுத்து வருவது என்ன?

- a. 
- b. 
- c. 
- d. 
- e. Answer not known e. விடை தெரியவில்லை

47. If x means -, + means ÷, - means x and ÷ means +, then $15 - 2 \div 900 + 90 \times 100 = ?$
a. 190 b. 180 c. -90 d. -60 e. Answer not known
X என்பதை - என்றும், + என்பதை ÷ என்றும், - என்பதை x என்றும் and ÷ என்பதை + என்றும் கொண்டால் $15 - 2 \div 900 + 90 \times 100$ ன் மதிப்பு காண்க
a. 190 b. 180 c. -90 d. -60 e. விடை தெரியவில்லை

48. கள்ளை உண்ணக்கூடாது, அப்படி உண்ண வேண்டுமெனில் யார் உண்ணலாம்?
a. சான்றோரிடம் மதிப்பு பெற விரும்பாதவர்
b. சான்றோரிடம் மதிப்பு பெற விரும்புவவர்
c. சான்றோரிடம் பழைமை பாராட்ட விரும்புவவர்
d. இவை ஏதமில்லை
e. விடை தெரியவில்லை

Let no liquor be drunk; if it is desired, let it be drunk by those _____

- a. care not for esteem of the wise.
b. care for esteem of the wise
c. The one who wants to have familiarity with the noble
d. None of these
e. Answer not known

49. A girl started walking from her house. She first walked for 3 km towards east, then she turned towards north and moved 4 km in that direction. How far is the girl away from her house?
a. 3 km south b. 3 km north c. 5 km west
d. 5 km north-east e. Answer not known

ஒரு பெண் தன்னுடைய வீட்டிலிருந்து நடக்கத்தொடங்கினாள். முதலில் கிழக்கு பக்கமாக 3 கி.மீ தூரமும், பிறகு வடக்கு திசையில் திரும்பி 4 கி.மீ. தூரமும் நடக்கிறாள். அவள் தற்போது வீட்டிலிருந்து எவ்வளவு தொலைவில் இருக்கிறாள்?
a. 3 km தெற்கு b. 3 km வடக்கு c. 5 km மேற்கு
d. 5 km வடகிழக்கு e. விடை தெரியவில்லை

50. A student is ranked 13th from right to him and 8th from left to him then how many students are in total in number
a. 18 b. 19 c. 20 d. 21 e. Answer not known

ஒரு மாணவன் தனது வலது புறத்திலிருந்து 13வது நபராகவும் தனது இடது புறத்திலிருந்து 8வது நபராகவும் இருந்தால் மொத்த மாணவர்கள் எண்ணிக்கை
a. 18 b. 19 c. 20 d. 21 e. விடை தெரியவில்லை

51. Which state has won Syed Mushtaq Ali Trophy 2021-2022?

- a. Karnataka b. Himachal Pradesh c. Mumbai
d. Tamil Nadu e. Answer not known

2021-22 ஆம் ஆண்டிற்கான சையத் முஷ்டாக் அலி கோப்பையை வென்ற மாநிலம்

- a. கர்நாடகம் b. இமாச்சலபிரதேசம் c. மும்பை
d. தமிழ்நாடு e. விடை தெரியவில்லை

52. Identify the person from the following statements

1. He was notable author and historian
2. He was honoured with Padma Vibhushan in 2019
3. He was well known for his works on Chatrapathi Shivaji

- a. Koneru Ramakrishna Rao b. Babasaheb Purandare
c. Kovi Manisakaran d. Hari Vasudevan
e. Answer not known

பின்வரும் கூற்றுகளை ஆய்ந்து சரியான நபரைக் கண்டறிக

1. இவர் ஒரு புகழ்பெற்ற எழுத்தாளர் மற்றும் வரலாற்று ஆசிரியர்
2. 2019ஆம் ஆண்டு இவர் பத்ம விபூஷன் விருது வழங்கப்பட்டு கௌரவிக்கப்பட்டார்
3. இவர் சத்ரபதி சிவாஜி பற்றிய அவரது பணிக்காக அறியப்பட்டார்

- a. கோனேரு இராமகிருஷ்ண ராவ் b. பாபாசாகேப் புரந்தரே
c. கோவி மணிசேகரன் d. ஹரி வாசுதேவன்
e. விடை தெரியவில்லை

53. India's 41st scientific expedition to Antarctica has major program in

- a. Dakshin Gangotri b. Bharati c. Maitri
d. Both b and c e. Answer not known

இந்தியாவின் அண்டார்டிகாவிற்கு செல்லும் 41வது அறிவியல் பயணத்திட்டம் எங்கு நடைபெறவுள்ளது?

- a. தக்ஷின் கங்கோத்ரி b. பாரதி c. மைத்ரி
d. b மற்றும் c e. விடை தெரியவில்லை

54. Who has been appointed as the new chief of Naval Staff?

- a. Sandeep Naithani b. Karambir Singh c. Hari Kumar
d. S.R. Sarma d. Answer not known

இந்திய கடற்படையின் பதிய தளபதியாக நியமிக்கப்பட்டுள்ளவர் யார்?

- a. சந்தீப் நைதானி b. கரம்பீர் சிங் c. ஹரி குமார்
d. S.R. சர்மா e. விடை தெரியவில்லை

55. Identify the correct statements regarding submarine Vela

1. It is the fourth scorpene submarine of the Project - 75
2. It was constructed at Garden Reach Shipbuilders in Haldia

- a. 1 only b. 2 only c. Both 1 ad 2
d. Neither 1 nor 2 e. Answer not known

- நீர்மூழ்கிக் கப்பல் வேலா குறித்த பின்வரும் கூற்றுகளில் சரியானது எது/எவை?
1. திட்டம் - 75ன் கீழ் உருவாக்கப்பட்ட நான்காவது ஸ்கார்பீன் வகை நீர்மூழ்கிக் கப்பல்
 2. இந்த நீர்மூழ்கிக் கப்பல், ஹால்டியாவில் உள்ள கார்டன் ரீச் கப்பல்கட்டும் களத்தில் உருவாக்கப்பட்டது
- a. 1 மட்டும் b. 2 மட்டும் c. 1 மற்றும் 2 இரண்டும்
d. 1 மற்றும் 2 இரண்டுமல்ல d. விடை தெரியவில்லை

56. _____ என்று சொல்லப்படும் நல்லவள், கள் என்று சொல்லப்படும் விரும்பத்தகாத பெருங்குற்றம் உடையவர்க்கு எதிரே நிற்காமல் செல்வாள்.
- a. மடம் b. மடந்தை c. நாணம்
d. மங்கை e. விடைதெரியவில்லை
- The fair maid of _____ will turn her back on those who are guilty of the great and abominable crime of drunkenness.
- a. madam b. madandhai c. nanam
d. mangai e. answer not known

57. Which country has become the 101st member country of International Solar Alliance?
- a. Thailand b. Samoa c. Denmark
d. USA e. Answer not known
- சர்வதேச சூர்யசக்தி கூட்டணியில் 101வது உறுப்பு நாடாக சேர்ந்த நாடு
- a. தாய்லாந்த b. சமோவா c. டென்மார்க்
d. அமெரிக்கா e. விடை தெரியவில்லை

58. India International Trade fair 2021 has held at
- a. Bhubaneswar b. New Delhi c. Mumbai
d. Ahmedabad e. Answer not known
- இந்தியா சர்வதேச வர்த்தக கண்காட்சி 2021 எங்கு நடைபெற்றது?
- a. புவனேஷ்வர் b. புதுடெல்லி c. மும்பை
d. அகமதாபாத் e. விடை தெரியவில்லை

59. World's tallest pier bridge is being built by Indian Railways in
- a. Manipur b. Tripura c. Arunachal Pradesh
d. Uttarakhand e. Answer not known
- உலகின் மிக உயரமான தூண்பாலம் இந்திய இரயில்வேயால் எங்கு கட்டப்படுகிறது?
- a. மணிப்பூர் b. திரிபுரா c. அருணாச்சல பிரதேசம்
d. உத்தராகாண்ட் e. விடை தெரியவில்லை

60. India is committed to become 'carbon neutral' country through a net zero goal by
- a. 2030 b. 2050 c. 2055
d. 2070 e. Answer not known
- இந்தியா எந்த ஆண்டுக்குள் 'கார்பன் நியூட்ரல்' நாடாகி நிகரபூஜ்ஜிய இலக்கை அடையத் திட்டமிட்டுள்ளது?
- a. 2030 b. 2050 c. 2055
d. 2070 e. விடை தெரியவில்லை

61. Which Tamil Nadu Soldier was honoured with 'Vir Chakra' award recently?
a. M Saravanan b. K. Palani c. S. Krishnaswamy
d. Mariyappan d. Answer not known
- சமீபத்தில் எந்த தமிழ்நாடு இராணுவ வீரர் “வீர சக்ரா” விருது வழங்கி கௌரவிக்கப்பட்டார்?
a. M. சரவணன் b. K. பழனி c. S. கிருஷ்ணசாமி
d. மாரியப்பன் e. விடை தெரியவில்லை
62. Which of the following statements about the Porunai Museum is/are incorrect?
1. Porunai river refers to Vaigai river
2. The Museum will come up in Thoothukudi district
3. It will exhibit artefacts from Korkai, Keezhadi and Arikamedu
a. 3 only b. 2 only c. all of these
d. None of these e. answer not known
- பொருணை அருங்காட்சியகம் குறித்த பின்வரும் கூற்றுகளில் தவறானது எது/எவை?
1. பொருணை நதி என்பது வைகை நதியாகும்
2. இந்த அருங்காட்சியகம் தூத்துக்குடியில் வரவுள்ளது
3. கொற்கை கீழடி மற்றும் அரிக்கமேடு போன்ற இடங்களில் அகழ்வாராய்ச்சி செய்யப்பட்ட பொருட்கள் காட்சிப்படுத்தப்படும்.
a. 3 மட்டும் b. 2 மட்டும் c. மேற்கண்ட அனைத்தும்
d. மேற்கண்ட ஏதுமில்லை e. விடை தெரியவில்லை
63. Tamilnadu government conferred Thooya Tamizh Patralar award to
a. Avvai Natarajan b. Ambai c. Manimaaran
d. V Varatharajan e. Answer not known
- தமிழ்நாடு அரசு தூய தமிழ் பற்றாளர் விருதை யாருக்கு வழங்கியது
a. அவ்வை நடராஜன் b. அம்பை c. மணிமாறன்
d. V. வரதராஜன் e. விடை தெரியவில்லை
64. துஞ்சினார் செத்தாரின் வேறல்லர் எஞ்ஞான்றும் நஞ்சுண்பார் கள்ளுண் பவர். என்ற குறளில் வரும் “துஞ்சுதல்” என்ற சொல்லின் பொருள் என்ன?
a. மயங்குதல் b. உறங்குதல் c. வருந்துதல்
d. வருத்துதல் e. விடை தெரியவில்லை
- Thunjinaar Seththaar in Verallar Egnngaandrum
Nanjunpaar Kallun Pavar
In this Kural thunjudhal means
a. mayangudhal b. urangudhal c. varundhudhal
d. varuthudhal e. answer not known
65. India's official entry for Academy awards 2021 was
a. Soorarai Potru b. Jallikattu c. Tolet
d. Koozhangal e. Answer not known
- 2021 அகாடெமி விருதுக்கான இந்தியாவின் அதிகாரப்பூர்வ நுழைவு
a. சூரை போற்று b. ஜல்லிக்கட்டு c. டூலெட்
d. கூழாங்கல் e. விடை தெரியவில்லை

66. How many municipal corporations are there in Tamil Nadu?
a. 15 b. 18 c. 20 d. 21 e. Answer not known
தமிழ்நாட்டில் மொத்தம் எத்தனை மாநகராட்சிகள் உள்ளன?
a. 15 b. 18 c. 20 d. 21 e. விடை தெரியவில்லை
67. Which city hosted the International Ambedkar Conclave in 2021?
a. Pune b. New Delhi c. Varanasi
d. Chennai e. Answer not known
2021ஆம் ஆண்டின் சர்வதேச அம்பேத்கர் மாநாடு எங்கு நடைபெற்றது?
a. பூனே b. புதுடெல்லி c. வாரனாசி
d. சென்னை e. விடை தெரியவில்லை
68. Who won the Miss Universe award in 2021?
a. Harnaaz Sandhu b. Manushi Chhillar c. Dia Mirza
d. Nadia Ferrira e. Answer not known
2021ஆம் ஆண்டின் மிஸ் யுனிவர்ஸ் பட்டம் வென்றவர் யார்?
a. ஹர்னாஸ் சாந்து b. மானுஷி சில்லர் c. டியா மிர்சா
d. நாடியா ஃபெரெரா e. விடை தெரியவில்லை
69. When is the International Day of epidemic Preparedness observed?
a. November 25 b. December 25 c. December 27
d. November 30 e. answer not known
உலக பெருந்தொற்று தயார்நிலை தினம் அனுசரிக்கப்படும் நாள்
a. நவம்பர் 25 b. டிசம்பர் 25 c. டிசம்பர் 27
d. நவம்பர் 30 e. விடை தெரியவில்லை
70. Find the number of triangles in the given figure.



- a. 5 b. 6 c. 8 d. 10 e. Answer not known
கீழே உள்ள படத்தில் எத்தனை முக்கோணங்கள் உள்ளன.



- a. 5 b. 6 c. 8 d. 10 e. விடை தெரியவில்லை

71. If MOBILITY is coded as 46293927, then EXAMINATION is coded as
a. 45038401854 b. 56149512965 c. 57159413955
d. 67250623076 e. Answer not known
MOBILITY என்பது 46293927 என்று எழுதப்பட்டால் EXAMINATION என்பதை எவ்வாறு எழுதுவாய்?
a. 45038401854 b. 56149512965 c. 57159413955
d. 67250623076 e. விடை தெரியவில்லை


72. கூற்று (A): கள்ளூண்ணாமை உள்ளூராரால் மதிக்கப்படும் வாழ்வு கிடைக்கச் செய்யும்
காரணம் (R) : நாளும் கள்ளை நாடிக் குடித்து கண் சுழல்பவர் உள்ள நடத்தை அறிந்து உள்ளூராரால் சிரிக்கப்படுவர்.
a. (A) மற்றும் (R) சரி மேலும் (R) என்பது (A) க்கு சரியான விளக்கமாகும்.
b. (A) மற்றும் (R) சரி ஆனால் (R) என்பது (A) க்கு சரியான விளக்கமல்ல
c. (A) சரி ஆனால் (R) தவறு
d. (A) தவறு ஆனால் (R) சரி
e. விடை தெரியவில்லை

Assertion (A): Making value available by local people if not drinking alcohol
Reason (R): Those who always intoxicate themselves by a private (indulgence in) drink; will have their secrets detected and laughed at by their fellow-townsmen.

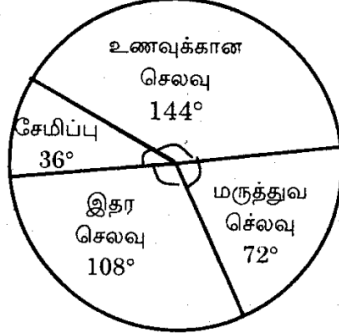
- a. A and R are true R is the correct explanation of A
b. A and R are true R is not the correct explanation of A
c. A true but R false
d. A false but R true
e. Answer not known

73. BOOK = 43 and PEN = 35, COPY = ?
a. 48 b. 60 c. 59 d. 79 e. Answer not known
BOOK என்பது 43 என்றும் PEN என்பது 35 என்றும் எழுதப்பட்டால் COPY என்பதை எவ்வாறு எழுதுவாய்?
a. 48 b. 60 c. 59 d. 79 e. விடை தெரியவில்லை

74. Monthly expenditure of a person whose monthly salary is Rs. 9000 is shown in the diagram. percentage of monthly spent for food expense is



- a. 50% b. 20% c. 30% d. 40% e. Answer not known
 ரூ.9,000 மாதச் சம்பளத்தில் ஒருவர் கீழ்க்கண்டவாறு செலவு செய்தால் அவர் உணவிற்காக செலவிடும் சதவீதமானது



- a. 50% b. 20% c. 30% d. 40% e. விடை தெரியவில்லை

75. If + means \times , - means $+$, \times means \div and \div means $-$ then the value of $6 - 9 + 8 \times 3 \div 20$ is

- a. 10 b. 6 c. -2 d. 12 e. Answer not known

+ என்பது \times , - என்பது $+$, \times என்பது \div மற்றும் \div என்பது $-$ எனில் $6 - 9 + 8 \times 3 \div 20$ யின் மதிப்பு

- a. 10 b. 6 c. -2 d. 12 e. விடை தெரியவில்லை

76. Which of the following statements is/are correct regarding the good governance index?

1. It is released on December 25 every year by NITI Aayog
2. Gujarat topped the overall ranking in 2021

- a. 1 only b. 2 only c. both 1 and 2
 d. neither 1 nor 2 e. answer not known

நல்லாட்சி குறியீடு குறித்த பின்வரும் கூற்றுகளில் எது/எவை சரியானது?

1. இது ஒவ்வொரு ஆண்டும் டிசம்பர் 25 அன்று நிதி ஆயோக்கால் வெளியிடப்படுகிறது
2. 2021ஆம் ஆண்டு, மொத்த தரவரிசையில் குஜராத் முதலிடம் பிடித்துள்ளது

- a. 1 மட்டும் b. 2 மட்டும் c. 1 மற்றும் 2 இரண்டும்
 d. 1 மற்றும் 2 இரண்டுமல்ல d. விடை தெரியவில்லை

77. Who among the following is the India's first woman psychiatrist?

- a. Sarada Menon b. Meena Gnanasekharan c. Shalini
 d. Annie Methew e. Answer not known

பின்வருபவர்களில் இந்தியாவின் முதல் பெண் மனநல மருத்துவர் யார்?

- a. சாரதா மேனன் b. மீனா ஞானசேகரன் c. ஷாலினி
 d. அன்னி மேத்யூ e. விடை தெரியவில்லை

78. Which country has conducted a nuclear fusion experiment as a part of its 'Artificial Sun' project?

- a. USA b. China c. Germany
 d. Russia e. Answer not known

எந்த நாடு தனது 'செயற்கை சூரியன்' திட்டத்தின் ஒரு பகுதியாக அணுக்கரு இணைவு பரிசோதனையை நடத்தியது?

- a. அமெரிக்கா b. சீனா c. ஜெர்மனி
d. ரஷ்யா e. விடை தெரியவில்லை

79. Match the following

Books

- A. The Midway Battle
B. Charge of the Gorkhas and other stories
C. India's Women Unsung Heroes
D. Public Service Ethics

Authors

1. Prabhat Kumar
2. Meenakshi Lekhi
3. Rachna Bisht Rawat
4. Gautam Chintamani

	A	B	C	D
a.	2	3	4	1
b.	4	2	1	3
c.	1	4	2	3
d.	4	3	2	1

e. Answer not known

பொருத்துக

புத்தகம்

- A. இடைவழிப்போர்
B. கூர்காக்களின் தாக்குதல் மற்றும் பி கதைகள்
C. இந்தியாவின் மறக்கப்பட்ட பெண் தலைமகன்கள்
D. பொது சேவை நெறிமுறைகள்

ஆசிரியர்

1. பிரபாத் குமார்
2. மீனாட்சி லேகி
3. ரச்னா பிஷ்ட் ராவத்
4. கௌதம் சிந்தாமணி

	A	B	C	D
a.	2	3	4	1
b.	4	2	1	3
c.	1	4	2	3
d.	4	3	2	1

e. விடை தெரியவில்லை

80. கள்ளுண்டு மயங்கியவனை அறிவு சொல்லித் திருத்துதல் நீருள் மூழ்கியவனைத் _____ ஆல் தேடுவது போன்றது என திருவள்ளுவர் கூறுகிறார்.

- a. படகால் b. கட்டுமரத்தால் c. தீவட்டியால்
d. நீந்துவாரால் e. விடை தெரியவில்லை

Reasoning with a drunkard is like going under water with a _____ in search of a drowned man.

- a. boat b. kattumaram c. torch of fire
d. swimmers e. answer not known

81. India has 2+2 ministerial dialogue with which of the following countries?

1. USA 2. Russia 3. China
4. United Kingdom 5. Japan 6. Australia
a. 1, 2, and 3 b. 1, 4, 5 and 6 c. 1, 2, 5 and 6
d. All of these e. Answer not known

பின்வரும் எந்த நாடுகளுடன் இந்தியா 2+2 அமைச்சர்கள் மட்ட பேச்சுவார்த்தை மேற்கொண்டுள்ளது?

1. அமெரிக்கா
4. ஐக்கிய பேரரசு
a. 1, 2 மற்றும் 3
d. அனைத்தும்
2. இரஷ்யா
5. ஜப்பான்
b. 1, 4, 5 மற்றும் 6
e. விடை தெரியவில்லை
3. சீனா
6. ஆஸ்திரேலியா
c. 1, 2, 5 மற்றும் 6

82. India's first indigenously developed RBD protein sub-unit COVID-19 vaccine is
a. covaxin
d. corbevax
- b. covishield
e. answer not known
- c. covovax

இந்தியாவிலேயே தயாரிக்கப்பட்ட கோவிட்-19 க்கு எதிரான முதல் RBD புரத துணை அலகு தடுப்பூசி?

- a. கோவேக்சின்
d. கார்பேவேக்சன்
- b. கோவிசீல்டு
e. விடை தெரியவில்லை
- c. கோவோவேக்சன்

83. The state that received National award for disability welfare
a. Gujarat
d. Kerala
- b. Odisha
e. Answer not known
- c. Tamilnadu

மாற்றுத் திறனாளிகள் நலனுக்காக தேசிய விருது வழங்கப்பட்ட மாநிலம்

- a. குஜராத்
d. கேரளா
- b. ஒடிசா
e. விடை தெரியவில்லை
- c. தமிழ்நாடு

84. Match the following
Awards

- A. Mother Teresa Memorial
B. Jnanpith
C. Sahitya Akademi
D. Bala Sahitya Puraskar

Persons

1. Nilmani Phookan
2. Ambai
3. Mu. Murugesh
4. Vinisha Umashankar

- | | A | B | C | D |
|----|---|---|---|---|
| a. | 4 | 1 | 2 | 3 |
| b. | 1 | 3 | 2 | 4 |
| c. | 4 | 1 | 2 | 3 |
| d. | 3 | 4 | 2 | 1 |

பொருத்துக
விருதுகள்

- A. அன்னை தெரசா நினைவு
B. ஞானபீடம்
C. சாகித்ய அகாதமி
D. பால சாகித்ய புரஸ்கார்

நபர்கள்

1. நில்மணி பூகன்
2. அம்பை
3. மு. முருகேஷ்
4. வினிஷா உமாசங்கர்

- | | A | B | C | D |
|----|---|---|---|---|
| a. | 4 | 1 | 2 | 3 |
| b. | 1 | 3 | 2 | 4 |
| c. | 4 | 1 | 2 | 3 |
| d. | 3 | 4 | 2 | 1 |

85. Rank of Tamilnadu Agricultural Universtiy in ICAR ranking 2020
a. 1
b. 5
c. 3
d. 8
e. Answer not known

ICARஇன் 2020ஆம் ஆண்டிற்கான தரவரிசையில் தமிழ்நாடு வேளாண்மைப் பல்கலைக்கழகம் பிடித்த இடம்
a. 1 b. 5 c. 3 d. 8 e. விடை தெரியவில்லை

86. India's first large state to record 100 percent first - dose vaccinations is
a. Telangana b. Odisha c. Tamilnadu
d. Kerala e. Answer not known
பெரிய மாநிலங்களில் 100 சதவீதம் முதல் தவணை தடுப்பூசி போடப்பட்ட முதல் மாநிலம்
a. தெலுங்கானா b. ஒடிசா c. தமிழ்நாடு
d. கேரளா e. விடை தெரியவில்லை

87. Which country hosted the AFC Women's Asian Cup 2022?
a. Japan b. Australia c. China
d. India e. Answer not known
2022ஆம் ஆண்டின் ஆசிய மகளிர் கால்பந்து கோப்பையை நடத்திய நாடு
a. ஜப்பான் b. ஆஸ்திரேலியா c. சீனா
d. இந்தியா e. விடை தெரியவில்லை

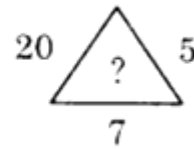
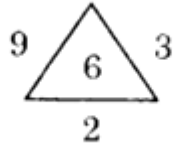
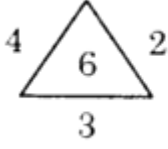
88. கூற்று (A): வெற்றியே பெறுவதானாலும் சூதாட்டத்தை விரும்பக் கூடாது
காரணம் (R): சூதாடிகள் சூதில் ஒரு பொருள் பெற்று நூறுமடங்கு பொருளை இழந்துவிடுவர்
a. (A) மற்றும் (R) சரி மேலும் (R) என்பது (A) க்கு சரியான விளக்கமாகும்.
b. (A) மற்றும் (R) சரி ஆனால் (R) என்பது (A) க்கு சரியான விளக்கமல்ல
c. (A) தவறு ஆனால் (R) சரி
d. (A) மற்றும் (R) இரண்டும் தவறு
e. விடை தெரியவில்லை
Assertion (A): Though able to win, let not one desire gambling
Reason (R): Gamblers gain one item in the gamble and lose a hundred times as much
a. A and R are true R is the correct explanation of A
b. A and R are true R is not the correct explanation of A
c. A true but R false
d. A false but R true
e. Answer not known

89. When is the National Girl Child Day' celebrated?
a. December 30 b. January 24 c. January 25
d. August 21 e. Answer not known
தேசிய பெண் குழந்தைகள் தினம் என்று கொண்டாடப்படுகிறது?
a. டிசம்பர் 30 b. ஜனவரி 24 c. ஜனவரி 25
d. ஆகஸ்ட் 21 e. விடை தெரியவில்லை

90. Consider the following statements
1. India ranks 83rd Position in the Henley Passport Index
 2. India has Visa - Free access to 60 destinations worldwide
 3. Singapore and Sweden topped the index
- a. 1 only is correct b. 2 only is incorrect c. 1 and 2 are correct
d. All are correct e. Answer not known
- பின்வரும் கூற்றுகளை ஆய்க
1. ஹென்லி கடவுச்சீட்டு அட்டவணையில் இந்தியவா 83வது இடத்தில் உள்ளது
 2. உலகளவில் 60 நாடுகளுக்கு நுழைவு அனுமதி (விசா) இன்றி செல்ல இந்தியர்கள் செல்ல இயலும்
 3. சிங்கப்பூர் மற்றும் சுவீடன் ஆகிய நாடுகள் இவ்வட்டவணையில் முதலிடத்தில் உள்ளன
- a. 1 மட்டும் சரி b. 2 மட்டும் தவறு c. 1 மற்றும் 2 சரி
d. அனைத்தும் சரி e. விடை தெரியவில்லை
91. Identify the person using the following statements
1. Renowned archaeologist and art historian
 2. Served curator for art and archaeology at Madras Museum
 3. Recipient of Kalaimamani Award
- a. M.K. Prasad b. Mudukkur Ramalingam c. Bharathi Krishnakumar
d. R. Nagaswamy e. Answer not known
- பின்வரும் கூற்றுகளுக்குத் தொடர்புடைய நபரைக் கண்டறிக
1. புகழ்பெற்ற தொல்லியல் ஆய்வாளர் மற்றும் கலை வரலாற்றாசிரியர்
 2. சென்னை அருங்காட்சியகத்தில் கலை மற்றும் தொல்லியல் துறை காப்பாளராக பணியாற்றியவர்
 3. கலைமாமணி விருது பெற்றவர்
- a. M.K. பிரசாத் b. மதுக்கூர் இராமலிங்கம் c. பாரதி கிருஷ்ணகுமார்
d. R. நாகசாமி e. விடை தெரியவில்லை
92. First male tennis player to win 21 grand slam titles
- a. Rafael Nadal b. Roger Federer c. Novak Djokovic
d. Daniel e. Answer not known
- 21 கிராண்ட் ஸ்லாம் பட்டங்களை வென்ற முதல் ஆண் டென்னிஸ் வீரர்
- a. ரஃபேல் நடால் b. ரோஜர் பெடர் c. நோவக் ஜோகோவிச்
d. டேனியல் மெட்வெடவ் e. விடை தெரியவில்லை
93. Who was appointed as the Chief Economic Advisor of India?
- a. K. Subramanian b. Arvind Subramanian c. V.Anantha Nageswaran
d. Kaushik Basu e. Answer not known
- இந்தியாவின் தலைமைப் பொருளாதார ஆலோசகராக நியமிக்கப்பட்ட நபர்
- a. K. சுப்பிரமணியன் b. அரவிந்த் சுப்பிரமணியன் c. V. ஆனந்த நாகேஸ்வரன்
d. கௌசிக் பாசு e. விடை தெரியவில்லை
94. Which state topped the National water awards 2020 in best state category?
- a. Uttar Pradesh b. Rajasthan c. Tamil Nadu
d. Gujarat e. answer not known
- தேசிய நீர் விருதுகள் 2020இல் சிறந்த மாநிலம் பிரிவில் முதலிடம் பிடித்த மாநிலம்
- a. உத்திரபிரதேசம் b. இராஜஸ்தான் c. தமிழ்நாடு

- d. குஜராத்
95. The missing number is
விடுபட்ட எண்ணானது?

d. விடை தெரியவில்லை



- a. 12 b. 28 c. 35 d. 100 e. Answer not known

96. சூதாடும் இடத்தை திருவள்ளூர் எவ்வாறு குறிப்பிடுகிறார்?

- a. கவறு b. கழகம் c. கவடி
d. நெத்தம் e. விடை தெரியவில்லை

How the Valluvar specifies the place of gambling?

- a. kavaru b. kazhagam c. kavadi
d. netham e. answer not known

97. a _ a b _ b a b a b _ b

- a. a a a b. b b a c. a a b d. b a a e. Answer not known

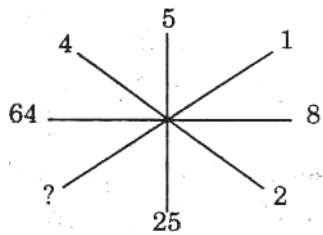
98. Vimal is 7 ranks ahead of Sathish in a class of 39. If Sathish's rank is seventeenth from the last, what is Vimal's rank from the start?

- a. 11th b. 13th c. 16th d. 18th e. Answer not known

39 மாணவர்கள் கொண்ட வகுப்பில், விமல் என்ற மாணவனின் தரவரிசையானது, சதிஷ்-ஐ விட 7 தரவரிசை முன்னதாக உள்ளான். சதிஷ்-ன் தரவரிசையானது கடைசியிலிருந்து 17-வதாக இருந்தால், மேலிருந்து விமல் தரவரிசை என்ன?

- a. 11th b. 13th c. 16th d. 18th e. விடை தெரியவில்லை

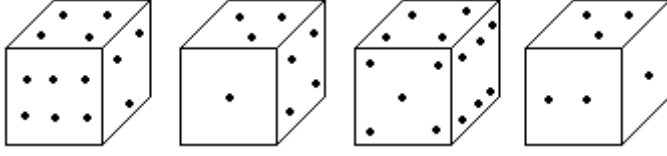
99. Finding the missing term
விடுபட்ட எண்ணைக்காண்க



- a. 1 b. 2 c. 3 d. 4 e. Answer not known

100. How many points will be on the face opposite to the face which contains 3 points?

கொடுக்கப்பட்டுள்ள பகடையில், மூன்று புள்ளிகள் கொண்ட முகத்திற்கு எதிர் முகத்தில் எத்தனை புள்ளிகள் இருக்கும்?



- a. 2 b. 4 c. 5 d. 6 e. Answer not known

101. Tamilnadu's fifth Tiger Reserve is

- a. Anaimalai b. Mudumalai c. Sathyamangalam
d. Srivilliputhur - Megamalai e. answer not known

தமிழ்நாட்டின் ஐந்தாவது புலிகள் காப்பகம் எது?

- a. ஆனைமலை b. முதுமலை c. சத்தியமங்கலம்
d. ஸ்ரீவில்லிபுத்தூர் - மேகமலை e. விடை தெரியவில்லை

102. Match the following

Award

- A. Perarignar Anna
B. Singaravelar
C. Kamaraj
D. Thiruvalluvar

Person

1. Bharathi Baskar
2. Madukkur Ramalingam
3. Nanjil Sampath
4. Sanjeevirayar

	A	B	C	D
a.	3	4	1	2
b.	1	2	4	3
c.	1	2	3	4
d.	3	2	1	4

e. Answer not known

பொருத்துக

விருது

- A. பேரறிஞர் அண்ணா
B. சிங்காரவேலர்
C. கம்பர்
D. திருவள்ளுவர்

நபர்

1. பாரதி பாஸ்கர்
2. மதுக்கூர் இராமலிங்கம்
3. நாஞ்சில் சம்பத்
4. சஞ்சீவிராயர்

	A	B	C	D
a.	3	4	1	2
b.	1	2	4	3
c.	1	2	3	4
d.	3	2	1	4

e. விடை தெரியவில்லை

103. India's first large scale furniture park is going to be set up in

- a. Thiruvallur b. Thanjavur c. Thoothukudi
d. Coimbatore e. Answer not known

இந்தியாவின் முதல் பெரிய அளவிலான மரச்சாமான்கள் பூங்கா எங்கு அமையவுள்ளது?

- a. திருவள்ளூர் b. தஞ்சாவூர் c. தூத்துக்குடி
d. கோயம்புத்தூர் e. விடை தெரியவில்லை

104. சூது அதிகாரம் எண் _____
a. 91 b. 92 c. 93 d. 94 e. விடை தெரியவில்லை
Chapter number of gambling is _____
a. 91 b. 92 c. 93 d. 94 e. Answer not known

105. Identify the incorrect statement/s
1. January 12 is declared as 'World Tamil Diaspora Day'
2. CLAPP is a mobile app designed for police personnel to apply for leave
a. 1 only b. 2 only c. Both 1 and 2
d. Neither 1 nor 2 e. Answer not known
தவறான கூற்றுகளைக் கண்டறிக
1. ஜனவரி 12ஆம் தேதி உலகத் தமிழ் புலம்பெயர்ந்தோர் தினமாக அறிவிக்கப்பட்டுள்ளது
2. காவலர்கள் விடுப்புக்கு விண்ணப்பிப்பதற்காக கிளாப் (CLAPP) எனும் கைப்பேசி செயலி வடிவமைக்கப்பட்டுள்ளது
a. 1 மட்டும் b. 2 மட்டும் c. 1 மற்றும் 2 இரண்டும்
d. 1 மற்றும் 2 இரண்டுமல்ல e. விடை தெரியவில்லை

106. Whose statue is called as 'Statue of Equality'?"
a. Vallabhai Patel b. Ramanuja c. Adi Shankara
d. Ramalinga Adigal e. Answer not known
யாருடைய சிலை 'சமத்துவ சிலை' என்றழைக்கப்படுகிறது?
a. வல்லபாய் படேல் b. இராமானுஜர் c. ஆதி சங்கரர்
d. இராமலிங்க அடிகள் e. விடை தெரியவில்லை

107. Youngest player to defeat the world No.1 chess player Magnus Carlson
a. Vaishali Rameshbabu b. R. Praggnandha c. Viswanathan Anand
d. Vidit Gujarathi e. Answer not known
உலகின் முதல்நிலை சதுரங்க வீரரான மேக்னஸ் கார்ல்சனை வீழ்த்திய இளைய வீரர்
a. வைஷாலி ரமேஷ் பாபு b. R. பிரக்ஞானந்தா c. விஸ்வநாதன் ஆனந்த்
d. விதித் குஜராத்தி e. விடை தெரியவில்லை

108. Which country won the 2022 U-19 cricket world cup?
a. India b. Pakistan c. Australia
d. England e. answer not known
19 வயதுக்குட்பட்ட கிரிக்கெட் உலகக்கோப்பை 2022 ஐ வென்ற நாடு
a. இந்தியா b. பாகிஸ்தான் c. ஆஸ்திரேலியா
d. இங்கிலாந்து e. விடை தெரியவில்லை

109. Identify the correct statements
1. ISRO has successfully launched Earth Observation Satellite EOS - 04

2. It was launched on board PSLV - C51
3. This satellite will replace the RISAT-1 which was launched in 2012
a. 1 and 2 b. 1 and 3 c. 2 and 3
d. all of these e. Answer not known

சரியான கூற்றுகளைக் கண்டறிக

1. புவி கண்காணிப்பு செயற்கைக்கோளாகிய EOS-04 ஐ இஸ்ரோ விண்ணில் செலுத்தியுள்ளது
2. இது பி.எஸ்.எல்.வி - சி51 செயற்கைக்கோள் ஏவுகணை மூலமாக அனுப்பப்பட்டது
3. 2012இல் விண்ணுக்கு செலுத்தப்பட்ட ரைசேட் 1 செயற்கைக்கோளுக்கு மாற்றாக இது செயல்படும்.
a. 1 மற்றும் 2 b. 1 மற்றும் 3 c. 2 மற்றும் 3
d. மேற்கூறிய அனைத்தும் e. விடை தெரியவில்லை

110. Match the following

- | | |
|----------------------|-----------|
| A. Eastern Bridge VI | 1. Russia |
| B. Dharma Guardian | 2. Oman |
| C. Passex | 3. USA |
| D. Yudh Abhyas | 4. Japan |

- | | | | | |
|----|---|---|---|---|
| | A | B | C | D |
| a. | 3 | 2 | 1 | 4 |
| b. | 2 | 4 | 1 | 3 |
| c. | 2 | 1 | 3 | 4 |
| d. | 1 | 4 | 2 | 3 |

e. Answer not known

பொருத்துக

- | | |
|---------------------|--------------|
| A. கிழக்கு பாலம் VI | 1. ரஷ்யா |
| B. தர்ம காப்பாளன் | 2. ஓமன் |
| C. பாசெக்ஸ் | 3. அமெரிக்கா |
| D. யுத்த அபயாஸ் | 4. ஜப்பான் |

- | | | | | |
|----|---|---|---|---|
| | A | B | C | D |
| a. | 3 | 2 | 1 | 4 |
| b. | 2 | 4 | 1 | 3 |
| c. | 2 | 1 | 3 | 4 |
| d. | 1 | 4 | 2 | 3 |

e. விடை தெரியவில்லை

111. சூதினை ஒருவன் மேற்கொண்டால் எவைகளெல்லாம் அவனைச் சேராமல் நீங்கும்?

- | | | | |
|---------------------|---------------------|------------------|----------|
| 1. உடை | 2. செல்வம் | 3. உணவு | 4. புகழ் |
| 5. கல்வி | 6. கயமை | | |
| a. 2, 4, 6 | b. 2, 3, 4, 6 | c. 1, 2, 3, 4, 5 | |
| d. 1, 2, 3, 4, 5, 6 | e. விடை தெரியவில்லை | | |

The habit of gambling prevents the attainment of these _____

- | | | | |
|---------------------|---------------------|------------------|---------|
| 1. Dress | 2. Wealth | 3. Food | 4. Fame |
| 5. Education | 6. Baseness | | |
| a. 2, 4, 6 | b. 2, 3, 4, 6 | c. 1, 2, 3, 4, 5 | |
| d. 1, 2, 3, 4, 5, 6 | e. Answer not known | | |

112. The time period covered by “New India Literary Programme” is
a. 2015-2020 b. 2020-2025 c. 2021-2026
d. 2022-2027 e. Answer not known
புதிய இந்தியா எழுத்தறிவு திட்டத்தின் திட்டகாலம்
a. 2015-2020 b. 2020-2025 c. 2021-2026
d. 2022-2027 e. விடை தெரியவில்லை
113. India’s first Geological Park is to be built in
a. Tamilnadu b. Madhya Pradesh c. Gujarat
d. Uttar Pradesh e. Answer not known
இந்தியாவின் முதல் நிலவியல் பூங்கா எங்க வரவுள்ளது?
a. தமிழ்நாடு b. மத்தியபிரதேசம் c. குஜராத்
d. உத்திரபிரதேசம் e. விடை தெரியவில்லை
114. Which Indian has been recently elected as a fellow of the Royal Society of Edinburgh (RSE) Scotland’s National Academy?
a. Kiran Mazumdar Shaw b. Avinash Kumar Agarwal
c. Gagandeep Kang d. Dr. Bimesh Lochab
e. Answer not known
ஸ்காட்லாந்தின் தேசிய அகாடெமியின் எடின்பர்க் ராயல் சொசைட்டியில் உறுப்பினராக தேர்ந்தெடுக்கப்பட்டுள்ள இந்தியர்
a. கிரண் மசும்தார் ஷா b. அவினாஷ் குமார் அகர்வால்
c. ககந்தீப் காங் d. Dr. பிமேஷ் லோசாப்
e. விடை தெரியவில்லை
115. The first para-athlete to receive the Padma Bhushan in India
a. Devendra Jhajharia b. Mariappan Thangavelu c. Avani Lekhara
d. Bhavina Patel e. Answer not known
இந்தியாவில் பத்மபூஷன் விருது பெற்ற முதல் பாரா தடகள வீரர்
a. தேவேந்திர ஜஜாரியா b. மாரியப்பன் தங்கவேலு c. அவனி லேகரா
d. பாவினா படேல் e. விடை தெரியவில்லை
116. World’s youngest and fastest female swimmer to swim across Palk Strait
a. Kutralteeswaran b. Nithya Anand c. Bhakti Sharma
d. Jiya Rai e. Answer not known
பாக் நீரிணையை கடந்த உலகின் மிக இளைய வேகமான நீச்சல் வீரர்
a. குற்றாலீஸ்வரன் b. நித்யா ஆனந்த் c. பக்தி சர்மா
d. ஜியா ராய் e. விடை தெரியவில்லை
117. Which country hosted the 5th BIMSTEC summit in 2022?
a. India b. Sri Lanka c. Bhutan
d. Myanmar e. Answer not known
2022ஆம் ஆண்டின் ஐந்தாவது பிம்ஸ்டெக் உச்சி மாநாட்டை நடத்திய நாடு
a. இந்தியா b. இலங்கை c. பூடான்

d. மியான்மர் e. விடை தெரியவில்லை

118. The movie that won most number of Oscar in 2022 is
 a. Dune b. CODA c. King Richard
 d. Encanto e. Answer not known

2022ஆம் ஆண்டில் அதிகபட்ச ஆஸ்கார் விருதுகளை வென்ற திரைப்படம்
 a. டயூன் b. கோடா c. கிங் ரிச்சர்ட்
 d. என்கான்டோ e. விடை தெரியவில்லை

119. கீழ்க்கண்டவற்றுள் சரியானதை தேர்ந்தெடுக்கவும்
 1. சூது ஆட்டத்தால் பொருட்கேடு மட்டுமல்ல அருட்கேடும் உண்டாகும்.
 2. சூதாடுமிடத்திற்கு நாளும் சென்றால் பழைய செல்வமும் பண்பும் தொலையும்
 3. பொருள் வைத்து இழக்க இழக்க மேன்மேலும் விருப்பத்தை வளர்ப்பது சூதாட்டம்
 a. 2 மட்டும் b. 2, 3 c. 1, 2
 d. 1, 2, 3 e. விடை தெரியவில்லை

Choose the correct statement

1. Gambling wastes wealth and grace
 2. To waste time at the place of gambling will destroy inherited wealth and goodness of character.
 3. Howe'er he lose, the gambler's heart is ever in the play;
 a. 2 only b. 2, 3 c. 1, 2
 d. 1, 2, 3 e. Answer not known

120. 'Ungalil Oruwan' is the autobiography of
 a. M.K. Stalin b. K. Karunanidhi c. Annadurai
 d. Nedunchezhiyan e. Answer not known

உங்களில் ஒருவன் என்ற புத்தகம் யாருடைய சுயசரிதை?

- a. மு.க.ஸ்டாலின் b. K. கருணாநிதி c. அண்ணாதுரை
 d. நெடுஞ்செழியன் e. விடை தெரியவில்லை

121. How many 5's are there in the following sequence which are immediately followed by 3 but not immediately preceded by 7?

8 9 5 3 2 5 3 8 5 5 6 8 7 3 3 5 7 7 5 3 6 5 3 3 5 7 3 8

- a. 1 b. 2 c. 3 d. 4 e. Answer not known

பின்வரும் எண் தொடரில் எண் 5க்கு அடுத்து 3-ம் வரவேண்டும். ஆனால் எண் 5க்கு முன்பு எண் 7 வரக்கூடாது. இவ்விரண்டு விதிகளை பின்பற்றி எத்தனை 5-கள் உள்ளன?

8 9 5 3 2 5 3 8 5 5 6 8 7 3 3 5 7 7 5 3 6 5 3 3 5 7 3 8

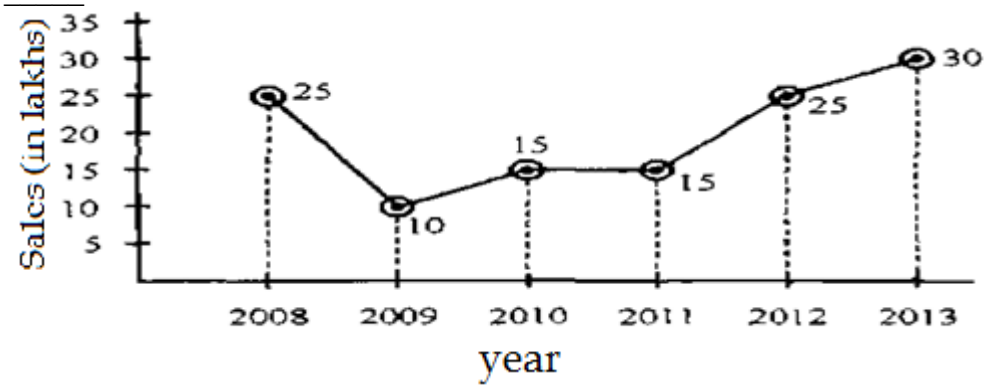
- a. 1 b. 2 c. 3 d. 4 e. விடை தெரியவில்லை

122. In a certain code, ALGEBRA as BKHDCQB, then GEOMETRY is coded as
 a. HDPLFUSX b. HDPLFSSX c. HFPLFUSX
 d. HFPLFUSZ e. Answer not known

இரகசிய குறியீட்டு முறையில் ALGEBRA என்பதை BKHDCQB எனக் குறித்தால் GEOMETRY என்பதை எவ்வாறு குறிக்கலாம்?

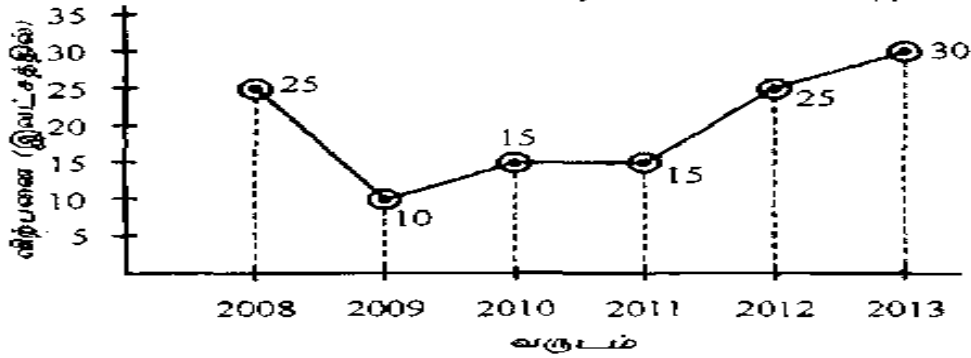
- a. HDPLFUSX b. HDPLFSSX c. HFPLFUSX
 d. HFPLFUSZ e. விடை தெரியவில்லை

123. From the following graph, the percentage of increase in sales from 2011 to 2013 is



- a. 15% b. 30% c. 100% d. 200% e. Answer not known

கீழ் கொடுக்கப்பட்டுள்ள வரைபடத்திலிருந்து 2011 ஆண்டிலிருந்து 2013 வரைக்கான விற்பனை அதிகரிப்பு சதவீதம் _____



- a. 15% b. 30% c. 100% d. 200% e. விடை தெரியவில்லை

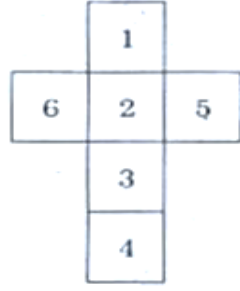
124. In a certain code, RAIN is written as 8\$%6 and MORE is written as 7#8@. How is REMAIN written in the code.

- a. #@7\$%6 b. #@&\$%6 c. 7@#\$\$%6
d. 8@7\$%6 e. Answer not known

ஒரு குறிப்பிட்ட குறியீட்டில், RAIN என்பது 8\$%6 என்றும் MORE என்பது 7#8@ என்றும் எழுதப்படுகின்றது எனில், REMAIN என்பது எவ்வாறு எழுதப்படும்

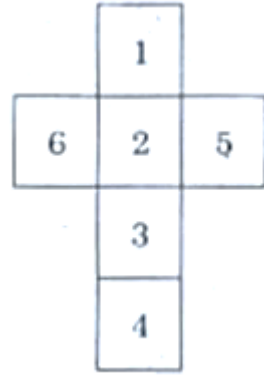
- a. #@7\$%6 b. #@&\$%6 c. 7@#\$\$%6
d. 8@7\$%6 e. விடை தெரியவில்லை

125. If the following figure represents the outer surface of a Dice. Which of the following pairs is not on opposite sides?



- a. 1 and 3 b. 6 and 5 c. 2 and 4
d. 1 and 4 e. Answer not known

கீழ்க்காணும் வடிவம் ஒரு தாயக்கட்டையின் மேல் பரப்பை காட்டுகிறது. கீழே கொடுக்கப்பட்ட இணைகளில் எது எதிர்பக்கங்களில் அமையாத இணை?



- a. 1 மற்றும் 3 b. 6 மற்றும் 5 c. 2 மற்றும் 4
d. 1 மற்றும் 4 e. விடை தெரியவில்லை

126. பின்வரும் வாக்கியங்களில் சரியாகப் பொருந்தாதது?
a. உயிரெழுத்தை இறுதியில் கொண்ட மரப் பெயர்களுக்கு முன்னர் மெல்லினம் மிகும்
b. பூ என்னும் பெயர் முன்னர் வல்லினத்தோடு மெல்லினமும் மிகும்
c. வேற்றுநிலை மெய்மயக்கத்தில் ங, ஞ, ந, ம முன்னர் மெல்லினம் மிகும்
d. 'ய' ஈற்றுச் சொற்கள் முன் மெல்லினம் மிகும்
e. விடை தெரியவில்லை
127. ஒரு பாறையில் இருபத்து நான்கு தீர்த்தங்கரர் உருவங்கள் புடைப்புச் சிற்பங்களாகச் செதுக்கப்பட்டுள்ள இடம்?
a. திருப்பரங்குன்றம் b. திருநாதர்குன்று c. காஞ்சிபுரம்
d. திருப்பத்தூர் e. விடை தெரியவில்லை
128. பின் வருபவர்களுள் வரகுண பாண்டியனின் அவைப்புலவராக இருந்தவர் யார்?
a. சீத்தலைச் சாத்தனார் b. தோலாமொழித்தேவர் c. வில்லிப்புத்தூரார்
d. புகழேந்தி e. விடை தெரியவில்லை
129. 'Rhyme' என்ற கலைச் சொல்லின் தமிழாக்கச் சொல் எது?
a. மோனைத்தொடை b. எதுகைத்தொடை c. இயைபுத்தொடை
d. செந்தொடை e. விடை தெரியவில்லை
130. 'தமிழ்ப்பண்பாடு' – என்ற இதழினைத் தொடங்கியவர் யார்?
a. தனிநாயகம் அடிகள் b. ஆறுமுக நாவலர் c. குன்றக்குடி அடிகளார்

d. வீரமாமுனிவர் e. விடை தெரியவில்லை

131. பின்வருவனற்றுள் தென் திராவிட மொழிகள் அல்லாதது எது?
1. கோத்தா 2. கோயா 3. தோடா 4. கோண்டா 5. கொரகா
a. 1, 2 மட்டும் b. 2, 4 மட்டும் c. 4, 5 மட்டும்
d. 1, 3, 5 மட்டும் e. விடை தெரியவில்லை

132. பட்டியல் I ல் உள்ள தொடர்களை பட்டியல் II ல் உள்ள அடியவர்களுடன் பொருத்துக:

தொடர்	அடியவர்		
A. அழுது அடியடைந்த அன்பர்	1. சுந்தரர்		
B. நாளும் இன்னிசையால் தமிழ்பரப்பும்	2. திருநாவுக்கரசு		
C. என்கடன் பணிசெய்து கிடப்பதே	3. மாணிக்கவாசகர்		
D. ஏழிசையாய் இசைப்பயனாய் இன்னமுதாய்	4. திருஞானசம்பந்தர்		
A	B	C	D
a. 2	3	4	1
b. 3	4	2	1
c. 4	3	2	1
d. 2	3	1	4

e. விடை தெரியவில்லை

133. 'திவ்ய கவி' என்றழைக்கப்படுபவர் யார்?
a. குலசேகர ஆழ்வார் b. ஆண்டாள்
c. பிள்ளைப் பெருமாள் ஐயங்கார் d. பெரியாழ்வார்
e. விடை தெரியவில்லை

134. திருவிளையாடற்புராணம் இயற்றிய பரஞ்சோதி முனிவரின் காலம் _____.
a. 19-ம் நூற்றாண்டு b. 18-ம் நூற்றாண்டு c. 14-ம் நூற்றாண்டு
d. 17-ம் நூற்றாண்டு e. விடை தெரியவில்லை

135. 'பண்டி' என்னும் சொல்லின் பொருள் _____.
a. வட்டம் b. நாடு c. வயிறு d. முகம் e. விடை தெரியவில்லை

136. பின்வரும் வாக்கியங்களில் மெய் எழுத்துக்களின் முயற்சிப் பிறப்புகளில் தவறானது?
a. ற், ன் - மேல்வாயை நாக்கின் நுனி மிகவும் பொருந்துவதால் பிறக்கின்றன.
b. வ் - மேல்வாய்ப்பல்லைக் கீழ் உதடு பொருந்துவதால் பிறக்கிறது
c. ற், ழ் - மேல்வாயை நாக்கின் நுனி வருடுவதால் பிறக்கின்றன.
d. த், ந் - கீழ்வாய்ப்பல்லின் அடியை நாக்கின் நுனி பொருந்துவதால் பிறக்கின்றன.
e. விடை தெரியவில்லை

137. தமக்கென முயலா நோன்தாள் - பிறர்க்கென முயலுநர் உண்மையானே - இப்பாடலின் ஆசிரியர் யார்?
a. உறையூர் முதுகண்ணன் சாத்தனார்
b. ஆரியபடை கடந்த பாண்டிய நெடுஞ்செழியன்
c. கடலுள் மாய்ந்த இளம்பெரு வழுதி
d. பொன்முடியார்
e. விடை தெரியவில்லை

138. ‘புடவி’ என்னும் சொல்லின் சரியான பொருள்
a. பூமி b. உலகம் c. வானம் d. மலை e. விடை தெரியவில்லை
139. ‘செந்தமிழ்ச் செம்மல்’ என்று அழைக்கப்பட்டவர் யார்?
a. வீரமாமுனிவர் b. கால்டுவெல் c. ஜி.யு. போப்
d. பரிதிமாற்கலைஞர் e. விடை தெரியவில்லை
140. ‘அறிஞர் அண்ணா தம் பேச்சால் புகழ் பெற்றார்’ - இதில் அடிக்கோடிட்ட சொல்லின் தொழிற்பெயர் யாது?
a. முதனிலைத் திரிந்த தொழிற்பெயர் b. முதனிலைத் தொழிற்பெயர்
c. தொழிற்பெயர் d. எதிர்மறை தொழிற்பெயர்
e. விடை தெரியவில்லை
141. உடனிலை மெய்மயக்கம் பற்றிய வாக்கியங்களில் சரியாகப் பொருந்தாதது?
a. சொற்களின் இடையில் ஒரே மெய்யெழுத்து அடுத்தடுத்து வருவது
b. க், ச், த், ப் என்னும் மெய்யெழுத்துகள் தன் மெய்யொடு சேர்த்துப்பொருள் தரும்
c. சொல்லின் இடையில் வெவ்வேறு மெய்யெழுத்துகள் தொடர்ந்து வருவது
d. க், ச், த், ப் இந்த மெய்யெழுத்துகளின் அருகில் அவற்றிற்குரிய எழுத்து வரிசை மட்டுமே வரும்
e. விடை தெரியவில்லை
142. பாலைத் திணைக்கு உரிய மரத்தைக் காண்க?
a. ஓமை b. ஞாழல் c. மூங்கில்
d. குருத்தம் e. விடை தெரியவில்லை
143. இலக்கணக் குறிப்பு தருக: “தண்டை”
a. எச்சவும்மை b. பண்புத்தொகை c. மெலித்தல் விகாரம்
d. வேற்றுமைத்தொகை e. விடை தெரியவில்லை
144. கப்பல் கட்டும் கலைஞர்கள் _____ என்று அழைக்கப்பட்டனர்.
a. கம்பியர் b. கண்ணடை c. கம்மியர்
d. தொழிலாளி e. விடை தெரியவில்லை
145. பின்வருவனவற்றுள் இலக்கணப்போலிகள் அல்லாததைக் காண்க?
a. புறநகர் b. கடைக்கண் c. நகர்புறம்
d. தசை e. விடை தெரியவில்லை
146. வலஞ்சுழி எழுத்துகள் அல்லாதது எது?
a. ஓள b. ட c. ண d. அ e. விடை தெரியவில்லை
147. தமிழ் என்னும் சொல் முதன் முதலாக இடம்பெறும் நூல் _____.
a. சிலப்பதிகாரம் (வஞ்சிக்காண்டம்) b. அப்பர் தேவாரம் c. திருமந்திரம்
d. தொல்காப்பியம் e. விடை தெரியவில்லை
148. ‘தமிழ்நாட்டின் வால்டர் ஸ்காட்’ என்று அழைக்கப்பட்டவர் _____.
a. இரா. கிருஷ்ணமூர்த்தி b. ஜெயகாந்தன் c. புலமை பித்தன்
d. வாணிதாசன் e. விடை தெரியவில்லை

149. அகநானூற்றைப் பாடிய புலவர்களின் எண்ணிக்கை _____.
- a. 143 b. 144 c. 145 d. 147 e. விடை தெரியவில்லை
150. 'பள்ளமடை' என்று அழைக்கப்படும் பாசுரங்கள் யாருடையவை?
- a. திருமங்கையாழ்வார் b. சுந்தரர் c. ஆண்டாள்
d. மாணிக்கவாசகர் e. விடை தெரியவில்லை
151. 'தேவதாசி' பற்றிய நாவல் எழுதியது யார்?
- a. பால சரஸ்வதி b. ராமாமிர்தம் அம்மையார் c. நாகரத்தினம்மா
d. எம்.எஸ். சுப்புலட்சுமி e. விடை தெரியவில்லை
152. 'தமிழர்களின் வேதம்' என்று அழைக்கப்படும் நூல்
- a. தேவாரம் b. திருவாசகம் c. திருக்குறள்
d. நாலடியார் e. விடை தெரியவில்லை
153. 'பரணர்' என்னும் புலவரால் பாடப்பெற்றவர் யார்?
- a. நள்ளி b. குட்டுவன் c. அழிசி
d. கிள்ளிவளவன் e. விடை தெரியவில்லை
154. எது சரியான இணையில்லை?
- a. திருஞானசம்பந்தர் - சத்புத்ரமார்க்கம்
b. திருநாவுக்கரசர் - தாசமார்க்கம்
c. சுந்தரர் - சகமார்க்கம்
d. மாணிக்கவாசகர் - சிதம்பரமார்க்கம்
e. விடை தெரியவில்லை
155. தொன்மங்களைக் கொண்டு 'எஸ். இராமகிருஷ்ணன்' எழுதிய புதினம் எது?
- a. அரவான் b. அரவாணன் c. காவல்தோட்டம்
d. தண்ணீர் e. விடை தெரியவில்லை
156. தொகைமொழி, உவமப்போலி என்று வெவ்வேறு பெயர்களால் அழைக்கப்படும் அணி
- a. இல்பொருள் உவமை அணி b. வஞ்சப் புகழ்ச்சி அணி
c. ஏகதேச உருவக அணி d. பிறிது மொழிதல் அணி
e. விடை தெரியவில்லை
157. விடை எத்தனை வகைப்படும்?
- a. ஒன்பது b. ஏழு c. ஆறு
d. எட்டு e. விடை தெரியவில்லை
158. இலக்கணக் குறிப்பு தருக: "தேன்துளி"
- a. வினைத்தொகை b. பண்புத்தொகை c. தொகையுவமை
d. இரு பெயரொட்டு பண்புத் தொகை e. விடை தெரியவில்லை
159. 'அஞ்ஞாடி' என்னும் புதினத்திற்காக பூமணி சாகித்திய அகாதமி விருது பெற்ற ஆண்டு _____.
- a. 2012 b. 2013 c. 2016 d. 2014 e. விடை தெரியவில்லை

160. 'எங்கும் தமிழ் எதிலும் தமிழ்' என்ற கொள்கையை பறைசாற்றுவதற்காக "தமிழ் வழிக் கல்வி இயக்கம்" என்ற அமைப்பை ஏற்படுத்தியவர்?
- a. சாந்தா தத் b. கு. அழகிரிசாமி c. பாவேந்தர்
d. வ.சு.ப. மாணிக்கம் e. விடை தெரியவில்லை



161. பொருத்துக:
நூல் பாடியவர்
- A. பொருநராற்றுப்படை 1. கடியலூர் உருத்திரங் கண்ணனார்
B. பெரும்பாணாற்றுப்படை 2. பெருங்குன்றூர் பெருங்கௌசிகனார்
C. நெடுநல்வாடை 3. முடத்தாமக் கண்ணியார்
D. மலைபடுகடாம் 4. நக்கீரர்
- | | A | B | C | D |
|----|---|---|---|---|
| a. | 3 | 1 | 4 | 2 |
| b. | 3 | 4 | 2 | 1 |
| c. | 4 | 1 | 3 | 2 |
| d. | 1 | 3 | 4 | 2 |
- e. விடை தெரியவில்லை
162. இந்திய தேசிய இராணுவம் எந்த ஆண்டு ஆங்கிலேயரை வென்று இந்தியாவிடம் மணிப்பூர் பகுதியில் 'மொய்ராங்' என்ற இடத்தில் மூவண்ணக் கொடி ஏற்றப்பட்டது?
a. 1944 – ஆகஸ்ட் - 15 b. 1944 – ஜனவரி - 26 c. 1944 – மார்ச் - 18
d. 1944 – பிப்ரவரி - 18 e. விடை தெரியவில்லை
163. சீவக சிந்தாமணியில் ஏமாங்கத நாட்டு வளம் பற்றி எந்த இலம்பகத்தில் இடம் பெற்றுள்ளது?
a. சுரமஞ்சியார் இலம்பகம் b. குணமாலையார் c. நாமகள் இலம்பகம்
d. கேமசரியார் இலம்பகம் e. விடை தெரியவில்லை
164. பொருந்தாததைத் தேர்க:
a. வெட்சி பூ - இளஞ்சிவப்பு நிறம்
b. வாகை பூ - மங்கிய வெண்ணிறம்
c. உழிஞை பூ - மஞ்சள் நிறம்
d. நொச்சி பூ - நீலநிறம்
e. விடை தெரியவில்லை
165. கீழ் உள்ளவற்றை அகர வரிசையில் எழுதுக.
a. ஆர்கலி, அகன்கடர், கட்புள், கொடுவாய், திருவில்
b. அகன்கடர், ஆர்கலி, கொடுவாய், கட்புள், திருவில்
c. அகன்கடர், கட்புள், ஆர்கலி, கொடுவாய், திருவில்
d. அகன்கடர், ஆர்கலி, கட்புள், கொடுவாய், திருவில்
e. விடை தெரியவில்லை
166. ஆலங்கானத்து அஞ்சுவா இறுத்து
அரசு பட அமர் உழக்கி - என்ற மதுரைக்காஞ்சி பாடலில் "ஆலங்கானம்" என்ற பகுதி எந்த மாவட்டத்தில் இடம் பெற்றுள்ளது?
a. திருவள்ளூர் b. திருவாரூர் c. திருநெல்வேலி
d. திருச்சி e. விடை தெரியவில்லை
167. கீழ்க்கண்ட கூற்றுகளை ஆராய்க:
கூற்று : இடைச் சொற்கள் தமிழில் மிகுதியாக இல்லை. ஆயினும், இடைச் சொற்களே மொழிப்பயன்பாட்டை முழுமையாக்குகின்றன.
காரணம் : ஏனெனில் இவை தாமாகத் தனித்து இயங்கும் இயல்பை உடையது என தொல்காப்பியர் கூறுகிறார்.
a. கூற்று காரணம் இரண்டும் சரி, மேலும் சரியான விளக்கம்

- b. கூற்று காரணம் இரண்டும் சரி, மேலும் சரியான விளக்கமல்ல
c. கூற்று சரி காரணம் தவறு
d. கூற்று காரணம் இரண்டும் தவறு
e. விடை தெரியவில்லை

168. பொருத்துக:

- | | |
|--|----------------------|
| A. செம்மை சான்ற காவிதி மாக்கள் | 1. மாங்குடி மருதனார் |
| B. அறவிலை வணிகர் ஆஆய் அல்லன் | 2. முடமோசியார் |
| C. சான்றோர் செல்வம் என்பது சேர்ந்தோர் | 3. நக்கீரனார் |
| D. செல்வத்தின் பயனே ஈதல் | 4. நல்வேட்டனார் |
| E. அறன் அறிதல் சான்றவர்க்கு எல்லாம் கடன் | 5. நல்லந்துவனார் |

	A	B	C	D	E
a.	5	4	3	2	1
b.	1	2	3	4	5
c.	1	2	4	3	5
d.	4	3	5	2	1

e. விடை தெரியவில்லை

169. கூர்வேல் குவைஇய மொய்ப்பின்

தேர்வண் பார்தண் பறம்பு நாடே என்ற வரிகள் இடம் பெற்ற நூல் எது?

- a. புறநானூறு b. அகநானூறு c. கலித்தொகை
d. பதிற்றுப்பத்து e. விடை தெரியவில்லை

170. பொருத்துக:

- | | |
|-------------------------|------------------|
| A. செங்காந்தன் | 1. பண்புத்தொகை |
| B. கொல்களிறு | 2. வினைத்தொகை |
| C. தாய்சேய் | 3. உம்மைத்தொகை |
| D. முறுக்கு மீசைவந்தார் | 4. அன்மொழித்தொகை |

	A	B	C	D
a.	4	3	2	1
b.	1	2	3	4
c.	2	3	4	1
d.	1	3	4	2

e. விடை தெரியவில்லை

171. துளங்கு இமில் நல் ஏற்றினம் பல களம்புகும் மள்ளர் வனப்பு ஒத்தன - என்ற பாடல் வரிகள் இடம் பெற்ற நூல்?

- a. சிலப்பதிகாரம் b. கலித்தொகை c. புறநானூறு
d. அகநானூறு e. விடை தெரியவில்லை

172. ஆளுமையின் அடையாளம் காணவும்

- இவர் 'கரிசல் வட்டரசு சொல்லகராதி' என்ற ஒன்றை உருவாக்கினார்.
- இவருடைய நூலுக்காக 1991 ஆம் ஆண்டு சாகித்திய அகாடெமி விருது கிடைத்தது
- இவருடைய சொந்த ஊர் இடைசெவல்" ஆகும்

- a. பூமணி b. கி. ராஜநாராயணன் c. வீரவேலுசாமி
d. சோ. தர்மன் e. விடை தெரியவில்லை

173. சிந்தாமணியாம் சிலப்பதிகாரம் படைத்தான் சுந்தர மணிமே கலைபுனைந்தான் - என்ற ஐம்பெருங்காப்பியம் பற்றி கூறும் நூல்?

- a. நன்னூல் b. திருத்தணிகையுலா c. வீரசோழியம்
d. மூவருலா e. விடை தெரியவில்லை

174. உணவெனப்படுவது நிலத்தோடு நீரே என்ற புறநானூறு பாடலின் துறை எது?

- a. பொருண்மொழிக்காஞ்சி துறை b. இயன்மொழிக்காஞ்சி துறை
c. முழுமதிகாஞ்சி துறை d. முதுமொழிக்காஞ்சி துறை
e. விடை தெரியவில்லை

175. 'மலரின் ஏழு நிலைகளில் சரியான வரிசையைக் காண்க.

- a. அரும்பு - முகை - மொட்டு - மலர், அலர் - வீ - செம்மல்
b. அரும்பு - மொட்டு - முகை - அலர் - வி-செம்மல் - மலர்
c. அரும்பு - மொட்டு - முகை - மலர் - அலர் - வீ - செம்மல்
d. அரும்பு - முகை - மலர் - மொட்டு - அலர் - வீ - செம்மல்
e. விடை தெரியவில்லை

176. பொருந்தாத இணையைத் தேர்க:

1. தலைக்கு ஒரு பழம் கொடு - பொருளாகு பெயர்
2. மல்லிகை சூடனாள் - சினையாகு பெயர்
3. திசம்பர் சூடனாள் - காலவாகு பெயர்
4. பொங்கல் உண்டான் - பண்பாகு பெயர்
a. 1, 2 மட்டும் b. 1, 2, 4 மட்டும் c. 3 மட்டும்
d. 1, 3 மட்டும் e. விடை தெரியவில்லை

177. பொருத்துக:

- A. அருளோசை 1. தேனரசன்
B. மலை அருவி 2. சுரே. பாரதி மணியன்
C. பெய்து பழகிய மேகம் 3. கி.வ ஐகந்நாதன்
D. பின்னல் 4. குன்றக்குடி அடிகளார்

	A	B	C	D
a.	4	1	2	3
b.	2	3	1	4
c.	3	4	1	2
d.	4	3	1	2

e. விடை தெரியவில்லை

178. சரியானதை தேர்க

- a. சூ - வரிசையில் நான்கு எழுத்துகள் சொல்லின் முதலில் வரும்
b. ய - வரிசையில் ஏழு எழுத்துகள் சொல்லின் முதலில் வரும்
c. வ - வரிசையில் ஆறு எழுத்துகள் சொல்லின் முதலில் வரும்
d. அனைத்தும் சரியானவை
e. விடை தெரியவில்லை

179. கீழ்க்கண்டவற்றில் சரியானதை தேர்க.
 1. உயிர் எழுத்துக்கள் 'கஉ' கழுத்தை இடமாகக் கொண்டு பிறக்கின்றன.
 2. வல்லின மெய் எழுத்துகள் கூ மார்பை இடமாகக் கொண்டு பிறக்கின்றன.
 3. மெல்லின மெய் எழுத்துகள் "கூ"மூக்கை இடமாகக் கொண்டு பிறக்கின்றன.
 4. இடையின மெய் எழுத்துகள் "கூ" கழுத்தை இடமாகக் கொண்டு பிறக்கின்றன.
 a. 1, 3 சரி b. 1, 3, 4 சரி c. அனைத்தும் சரி
 d. சரியானது ஏதுமில்லை e. விடை தெரியவில்லை
180. பொருத்துக: (விழைவுத் தொடர்)
 A. இளமையில் கல் 1. வாழ்த்துதல்
 B. உன் திருக்குறள் நூலைத் தருக 2. வைதல்
 C. உழவுத் தொழில் வாழ்க 3. வேண்டுதல்
 D. கல்லாமை ஒழிக 4. ஏவல்

	A	B	C	D
a.	2	1	4	3
b.	2	4	1	3
c.	4	3	1	2
d.	4	3	2	1

 e. விடை தெரியவில்லை
181. பொருத்துக:
 A. இயற்கை ஓவியம் 1. பெரிய புராணம்
 B. இயற்கை இன்பக்கலம் 2. பத்துப்பாட்டு
 C. இயற்கை அன்பு 3. கம்பராமயணம்
 D. இயற்கை பரிமாணம் 4. கலித்தொகை

	A	B	C	D
a.	2	1	4	3
b.	2	4	1	3
c.	4	3	1	2
d.	4	3	2	1

 e. விடை தெரியவில்லை
182. பதினென் கீழ்க்கணக்கில் கணிமேதாவியர் எழுதிய நூல்கள் யாவை?
 a. ஏலாதி, ஆசாரக்கோவை b. ஆசாரக்கோவை, இன்னிலை
 c. ஏலாதி, திணைமொழி ஐம்பது d. ஏலாதி, திணைமாலை நூற்றைம்பது
 e. விடை தெரியவில்லை
183. சரியானது எது?
 1. நீலகேசி விருத்தப்பாவால் ஆனது
 2. இது மணிமேகலை என்னும் நூலுக்கு மறுப்பாக எழுதப்பட்டது
 3. தமிழில் எழுதப்பட்ட முதலாவது தருக்க நூல் நீலகேசி
 4. இதை எழுதியவர் சமய திவாகர வாமன முனிவர்
 5. கடவுள் வாழ்த்துப் பாடலைச் சேர்க்காமல் மொத்தம் 894 பாடல்களைக் கொண்டது நீலகேசி
 a. 1, 3, 4, 5 சரி b. 1, 3, 4 சரி c. 1, 3 சரி
 d. 3, 4, 5 சரி e. விடை தெரியவில்லை

184. பொருத்துக:
- | | |
|-----------------------|-------------------|
| A. இயற்கை தவம் | 1. சீவக சிந்தாமணி |
| B. இயற்கை அன்பு | 2. பெரியபுராணம் |
| C. இயற்கை பரிமாணம் | 3. கம்பராமாயணம் |
| D. இயற்கை வாழ்வில்லம் | 4. திருக்குறள் |
- | | | | | |
|----|---|---|---|---|
| | A | B | C | D |
| a. | 4 | 3 | 2 | 1 |
| b. | 4 | 1 | 3 | 2 |
| c. | 1 | 2 | 3 | 4 |
| d. | 2 | 3 | 4 | 1 |
- e. விடை தெரியவில்லை
185. "The Ocean of Wisdom" - என்ற ஆங்கில இதழின் ஆசிரியர்
- a. ஜி.யு. போப் b. டாக்டர் கால்டுவெல் c. மறைமலையடிகள்
d. வீரமாமுனிவர் e. விடை தெரியவில்லை
186. எதிர்சொல்லை எடுத்து எழுதுக. 'தண்மை'
- a. குளிர்ச்சி b. வெம்மை c. கடுமை
d. மென்மை e. விடை தெரியவில்லை
187. வாழ்த்துதல், வேண்டுகல், கட்ளையிடுதல், வைதல் ஆகிய பொருள்களில் வரும் தொடர் எது?
- a. உடன்பாட்டுத் தொடர் b. வினாத்தொடர் c. விழைவுத் தொடர்
d. எதிர்மறைத்தொடர் e. விடை தெரியவில்லை
188. பின்வரும் இணைகளில் தவறானது?
- a. திருக்குறள் தெளிவுரை - வ.உ.சிதம்பரனார்
b. திருக்குறள் மெய்ப்பொருளுரை - பெருஞ்சித்திரனார்
c. திருக்குறள் தமிழ் மரபுரை - மு. வரதராசனார்
d. திருக்குறள் நீதி இலக்கியம் - க.த. திருநவுக்கரசு
e. விடை தெரியவில்லை
189. பன்னிரு ஆழ்வார்களில் ஒருவரான குலசேகர ஆழ்வாரின் காலம் _____.
- a. 9 - நூற்றாண்டு b. 7ம் நூற்றாண்டு c. 8- நூற்றாண்டு
d. 10-ம் நூற்றாண்டு e. விடை தெரியவில்லை
190. வினைப்பகுதியும் அடுத்துப் பெயர்ச்சொல்லும் அமைந்த சொற்றொடர்களிலேயே _____ அமையும்
- a. வினையெச்சத்தொடர் b. பெயரெச்சத் தொடர் c. வினைத்தொகை
d. வினைமுற்றுத்தொடர் e. விடை தெரியவில்லை
191. சரியான கூற்றைக் காண்க?
1. முசிறித் துறைமுகத்தில் மிளகு ஏற்றுமதி சிறப்புடன் நடைபெற்றது. யவனர் விரும்பி வாங்கியதால் மிளகிற்கு "யவனப்பிரியா" என்ற பெயர் ஏற்பட்டது.
2. யவனக் கப்பல்களை பொன்னைத் தந்து மிளகை வாங்குவதற்காக முசிறிக்கு வந்தன.
3. முசிறித் துறைமுகத்தில் பவளம், கண்ணாடி, செம்பு, தகரம், ஈயம் முதலிய பொருள்கள் தமிழகத்திலிருந்து கிரேக்க நாட்டிற்கு ஏற்றுமதி செய்யப்பட்டது.
- a. கூற்று 1 மட்டும் b. கூற்று 3 மட்டும் c. கூற்று 1, 2 மட்டும்
d. அனைத்தும் e. விடை தெரியவில்லை
192. கீழ்க்கண்ட திராவிட மொழிக் குடும்பத்தில் நடுத்திராவிடம் மொழிகள் அல்லாதது எது?

- a. கொலாமி b. கோயா c. கோண்டி
d. கோத்தா e. விடை தெரியவில்லை
193. சு. சமுத்திரம் எழுதிய “வேரில் பழுத்த பலா” என்ற நாவல் சாகித்திய அகாதமி விருதை பெற்ற வருடம்
a. 1971 b. 1991 c. 1990 d. 1994 e. விடை தெரியவில்லை
194. பெ.நா. அப்புசாமி பற்றிய வாக்கியங்களில் சரியாகப் பொருந்தாதது?
a. பாரதியார் கவிதைகள், சங்கப் பாடல்கள் ஆகியவற்றை ஆங்கிலத்தில் மொழிபெயர்த்திருக்கிறார்.
b. தமிழ் மலையாளம் சமஸ்கிருதம் ஆகிய பன்மொழிப் புலமை கொண்டவர்
c. அறிவியல் தமிழுக்காக 70 ஆண்டுகள் தொண்டாற்றினார்
d. தமிழர் நேசன் தமிழில் வந்த முதல் அறிவியல் இதழ்
e. விடை தெரியவில்லை
195. பொருந்தா ஒன்றை தேர்வு செய்க
a. மெய்யறிதல் b. வெற்றி c. தோல்வி
d. காரியம் கைகூடல் e. விடை தெரியவில்லை
196. குளித்தேன் என்பாய் யுகயுகமாய் - நீ கொண்ட அழக்கோ போகவில்லை – என்ற பாடலின் பாவகை
a. அகவற்பா b. கலிப்பா c. வெண்பா
d. சிந்து e. விடை தெரியவில்லை
197. ஈறுபோதல் முன்னின்ற மெய்திரிதல் தனிக்குறில் முன்ஒற்று உயிர்வரின் இரட்டும், உடல்மேல் உயிர்வந்து ஒன்றுதல் ஆகிய வரிசையில் புணர்ந்த சொல்
a. மூதூர் b. வெற்றிடம் c. நல்லாடை
d. பைந்தளிர் e. விடை தெரியவில்லை
198. கலை ஞாயிறு என்று சிறப்பிக்கப்படுபவர்
a. தாராபாரதி b. தேவநேயப்பாவணர் c. ந. முத்துசாமி
d. கண்ணதாசன் e. விடை தெரியவில்லை
199. ‘அருளைப் பெருக்கி அறிவைத் திருத்தி மருளை அகற்றி மதிக்கும் தெருளை என்று இவ்வடிகளில் குறிப்பிடப்படுவது எது?
a. தமிழ் b. அறிவியல் c. கல்வி
d. இலக்கியம் e. விடை தெரியவில்லை
200. வெண்பாவின் பொது இலக்கணம் பற்றிய வாக்கியங்களில் தவறானது?
a. ஈற்றடி முச்சீராகவும், ஏனைய அடிகள் நாற்சீராகவும் வரும், இயற்சீர், வெண்சீர் மட்டுமே பயின்று வரும்
b. இயற்சீர் வெண்டளை, வெண்சீர் வெண்டளை மட்டுமே பயின்று வரும்
c. ஈரசைச்சீர் மிகுதியாகவும், காய்ச்சீர் குறைவாகவும் பயின்று வரும்
d. இரண்டடி முதல் பன்னிரண்டு அடிவரை அமையம், கலிவெண்பா பதின்மூன்று அடிக்கு மேற்பட்டு வரும்
e. விடை தெரியவில்லை