

## மாதிர்த்தேர்வு - 2 பொது அறிவு மற்றும் பொது ஆங்கிலம்

குறிப்பு: மாணவர்கள் தங்களது பெயர், கைப்பேசி எண் மற்றும் பதிவு எண்ணை விடைத்தாளில் (OMR) குறிப்பிடுமாறு அறிவுறுத்தப்படுகிறார்கள்

நேரம்: 3 மணி

மொத்த மதிப்பெண்கள்: 300

வினாக்களுக்கு பதிலளிக்கும் முன் கீழ்க்கண்ட அறிவுரைகளை கவனமாகப் படிக்கவும்

- இந்த வினாத்தொகுப்பு, தேர்வு தொடங்குவதற்கு 15 நிமிடங்களுக்கு முன்னதாக உங்களுக்கு வழங்கப்படும்
- இந்த வினாத்தொகுப்பு 200 வினாக்களைக் கொண்டுள்ளது. விடையளிக்கத் தொடங்குமுன் இவ்வினாத்தொகுப்பில் எல்லா வினாக்களும் வரிசையாக இடம் பெற்றுள்ளனவா என்பதையும், இடையில் வெற்றுத்தாள்கள் எவையும் இல்லை என்பதையும் உறுதி செய்து கொள்ளவும். வினாத்தொகுப்பில் ஏதேனும் குறைபாடு இருப்பின், அதனை முதல் பத்து நிமிடங்களுக்குள் அறைக்கண்காணிப்பாளரிடம் தெரிவித்து, சரியாக உள்ள வேறொரு வினாத்தொகுப்பினை பெற்றுக்கொள்ள வேண்டும். தேர்வு தொடங்கிய பின்பு இது குறித்து முறையிட்டால் வினாத்தொகுப்பு மாற்றித் தரப்படமாட்டாது.
- எல்லா வினாக்களுக்கும் விடையளிக்கவும், எல்லா வினாக்களும் சமமான மதிப்பெண்கள் கொண்டவை.**
- உங்களுடைய பதிவு எண்ணை இந்தப்பக்கத்தின் வலது மேல் மூலையில் அதற்கென அமைந்துள்ள இடத்தில் நீங்கள் எழுத வேண்டும். வேறு எதையும் வினாத்தொகுப்பில் எழுதக்கூடாது.
- விடைத்தாள் ஒன்று விடைகளை குறிப்பதற்கு அறைக்கண்காணிப்பாளரால் உங்களுக்கு வழங்கப்படும். விடைகளைக் குறிப்பது உள்ளிட்ட அவசியம் பின்பற்றப்பட வேண்டிய அறிவுரைகள் விடைத்தாளிலும் தேர்வுக்கூட அனுமதிச்சீட்டிலும் வழங்கப்பட்டுள்ளன.
- உங்களுடைய வினாத்தொகுப்பு எண்ணை (Question Booklet Number) விடைத்தாளின் முதல் பக்கத்தில் அதற்கென அமைந்துள்ள இடத்தில் **கருமை நிற மையடைய பந்துமுறைப் பேனாவினால்** குறித்துக்காட்டவேண்டும். வினாத்தொகுப்பு எண்ணை விடைத்தாளில் சரியாகக் குறித்துக்காட்டத் தவறினாலோ அல்லது குறிக்கத் தவறினாலோ உங்களுடைய விடைத்தாள் செல்லாததாகக்கப்படும்.
- ஒவ்வொரு வினாவும் (A) (B) (C) (D) (E) என ஐந்து பதில்களைக் கொண்டுள்ளது. நீங்கள் (A) அல்லது (B) அல்லது (C) அல்லது (D) இவைகளில் ஒரே ஒரு சரியான விடையைத் தெரிவு செய்து விடைத்தாளில் குறித்துக்காட்ட வேண்டும். ஒரு கேள்விக்கு ஒன்றுக்கு மேற்பட்ட சரியான விடை இருப்பதாக நீங்கள் கருதினால், மிகச்சரியானது என நீங்கள் எதைக்கருதுகிறீர்களோ அந்த விடையை விடைத்தாளில் குறித்துக்காட்ட வேண்டும். உங்களுக்கு விடை தெரியவில்லை எனில், நீங்கள் (E) என்பதை அவசியம் நிரப்பவேண்டும்.** எப்படியாயினும், ஒரு கேள்விக்கு ஒரே ஒரு விடையைத்தான் தேர்ந்தெடுக்க வேண்டும். நீங்கள் ஒரு கேள்விக்கு ஒன்றுக்கு மேற்பட்ட விடையளித்தால், அவற்றுள் ஒரு விடை சரியானதாக இருந்தாலும் அந்த விடை தவறானதாகவே கருதப்படும்.
- நீங்கள் வினாத்தொகுப்பின் எந்தப் பக்கத்தையும் நீக்கவோ அல்லது கிழிக்கவோ கூடாது. தேர்வு நேரத்தில் இந்த வினாத்தொகுப்பினையோ அல்லது விடைத்தாளையோ தேர்வுக் கூடத்தை விட்டு வெளியில் எடுத்துச் செல்லக்கூடாது. தேர்வு முடிந்தபின் நீங்கள் உங்களுடைய விடைத்தாளைக் கண்காணிப்பாளரிடம் கொடுத்து விட வேண்டும். இவ்வினாத்தொகுப்பினைத் தேர்வு முடிந்தவுடன் நீங்கள் உங்களுடன் எடுத்துச் செல்லலாம்.
- குறிப்புகள் எழுதிப்பார்ப்பதற்கு வினாத்தொகுப்பின் கடைசி பக்கத்திற்கு முன்பக்கத்தை உபயோகித்துக் கொள்ளலாம்.** இதைத்தவிர வினாத்தொகுப்பின் எந்த இடத்திலும் எந்தவித குறிப்புகளையும் எழுதக்கூடாது. **இந்த அறிவுரை கண்டிப்பாக பின்பற்றப்படவேண்டும்.**
- ஆங்கில வடிவில் கொடுக்கப்பட்டுள்ள குறிப்புகள்தான் முடிவானதாகும்.**
- நீங்கள் மேற்கண்ட அறிவுரைகளில் எவற்றையாவது பின்பற்றத் தவறினால் தேர்வாணையம் எடுக்கும் நடவடிக்கைகளுக்கு உள்ளாக நேரிடும் என அறிவுறுத்தப்படுகிறது.



1. The Tamil Script reform by Periyar was introduced in his Kudi Arasu in the year \_\_\_\_\_

- a. 1926      b. 1929      c. 1935      d. 1936      e. Answer not known

பெரியாரின் தமிழ் எழுத்துச் சீர்திருத்தம் அவரது குடி அரசு இதழில் அறிமுகப்படுத்தப்பட்ட ஆண்டு \_\_\_\_\_

- a. 1926      b. 1929      c. 1935      d. 1936      e. விடை தெரியவில்லை

2. Consider the following statements regarding second Good Governance Index GGI:

1. It was released on Dec 25, 2021.
2. GGI released by NITI Aayog.
3. Tamil Nadu ranked first in judiciary and public safety.

- a. 1, 2 are correct      b. 1, 3 are correct      c. 3 alone is correct  
d. All are correct      e. Answer not known

இரண்டாவது நல்லாட்சி குறியீடு (GGI) குறித்த பின்வரும் கூற்றுகளை ஆய்க.

1. இது 25 டிசம்பர் 2021 அன்று வெளியிடப்பட்டது.
2. GGI நிதி ஆயோகால் வெளியிடப்படுகிறது.
3. நீதி மற்றும் பொதுமக்கள் பாதுகாப்புப் பிரிவில் தமிழ்நாடு முதலிடம் பெற்றது.

- a. 1, 2 சரி      b. 1, 3 சரி      c. 3 மட்டும் சரி  
d. அனைத்தும் சரி      e. விடை தெரியவில்லை

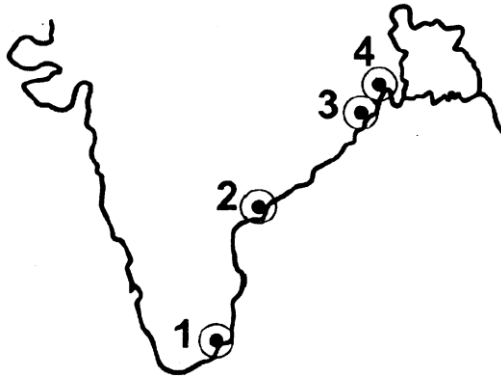
3. The origin of the second chamber of the Parliament can be traced to

- a. Montague Chelmsford reforms      b. Minto Morley reforms  
c. Indian Councils Act, 1891      d. Government of India Act 1935  
e. Answer not known

பாராளுமன்றத்தில் இரண்டாவது அவையின் தோற்றம் எங்கிருந்து தொடங்கியது?

- a. மாண்டேகு செம்ஸ்போர்டு சீர்திருத்தம்      b. மிண்டோ மார்லி சீர்திருத்தம்  
c. இந்தியக் கவுன்சில் சட்டம் 1891      d. இந்திய அரசு சட்டம் 1935  
e. விடை தெரியவில்லை

4. Identify the ports of India labelled as 1, 2, 3 and 4 in the given Rough map of India.



- a. Haldia, Paradeep , Masulipatinam, Tuticorin  
b. Paradeep, Haldia, Masulipatinam, Tuticorin  
c. Tuticorin, Masulipatinam, Paradeep , Haldia  
d. Masulipatinam, Tuticorin, Haldia, Paradeep  
e. Answer not known

கொடுக்கப்பட்டுள்ள தோராய இந்திய வரைபடத்தில் 1, 2, 3 மற்றும் 4 என்று குறிக்கப்பட்டுள்ள இந்திய துறைமுகங்களைக் கண்டறி

- ஹால்டியா, பாரதீப், மசூலிப்பட்டினம், தூத்துக்குடி
- பாரதீப், ஹால்டியா, மசூலிப்பட்டினம், தூத்துக்குடி
- தூத்துக்குடி, மசூலிப்பட்டினம், பாரதீப், ஹால்டியா
- மசூலிப்பட்டினம், தூத்துக்குடி, ஹால்டியா, பாரதீப்
- விடை தெரியவில்லை

5. Tamil Nadu Planning Commission Calculates HDI based on \_\_\_\_\_.

- UNDP model
- NITI Aayog model
- Tamil Nadu Planning Commission model
- None of these
- Answer not known

தமிழ்நாடு திட்டக்குழு மனிதவள மேம்பாட்டு குறியீடை எதன் அடிப்படையில் கணக்கிடுகிறது?

- UNDP மாதிரி
- நிதி ஆயோக் மாதிரி
- தமிழ்நாடு திட்ட ஆணைய மாதிரி
- மேற்கண்ட எதுவுமில்லை
- விடை தெரியவில்லை

6. Find out the Components/Indicators of Child Development Index?

- Under 5 Mortality rate
- Child Sex Ratio
- Malnourishment
- Gross Enrollment Rate

- 1, 2, 3
- 2, 3, 4
- 1, 2, 4
- 1, 2, 3, 4
- Answer not known

குழந்தை வளர்ச்சி குறியீட்டின் குறிகாட்டிகளைக் கண்டறிக.

- 5வயதுக்குட்பட்ட இறப்பு விகிதம்
- குழந்தை பாலின விகிதம்
- ஊட்டச்சத்து குறைபாடு
- மொத்த சேர்க்கை விகிதம்

- 1, 2, 3
- 2, 3, 4
- 1, 2, 4
- 1, 2, 3, 4
- விடை தெரியவில்லை

7. Article 370 was drafted by

- BR Ambedkar
- KM Munshi
- TT Krishnamachari
- Gopaldas Ayyangar
- Answer not known

ஷரத்து 370 ஐ உருவாக்கியவர்

- BR அம்பேத்கர்
- KM முன்ஷி
- TT கிருஷ்ணமாச்சரி
- கோபாலசாமி அய்யங்கார்
- விடை தெரியவில்லை

8. Match the Wild Life sanctuaries in India with respective state:

- |                 |              |
|-----------------|--------------|
| A. Bhitarkanika | 1. Goa       |
| B. Nokrek       | 2. Odisha    |
| C. Dalma        | 3. Meghalaya |
| D. Bondla       | 4. Jharkhand |

- |    |   |   |   |   |
|----|---|---|---|---|
|    | A | B | C | D |
| a. | 2 | 3 | 4 | 1 |
| b. | 1 | 2 | 3 | 4 |
| c. | 3 | 4 | 1 | 2 |
| d. | 2 | 3 | 1 | 4 |

e. Answer not known

இந்தியாவின் வன விலங்கு சரணாலங்களை அதன் மாநிலங்களுடன் பொருத்துக:

- |                 |              |
|-----------------|--------------|
| A. பித்தர்கனிகா | 1. கோவா      |
| B. நோக்ரெக்     | 2. ஓடிசா     |
| C. டால்மா       | 3. மேகாலயா   |
| D. பொன்ட்லா     | 4. ஜார்கண்ட் |

	A	B	C	D
a.	2	3	4	1
b.	1	2	3	4
c.	3	4	1	2
d.	2	3	1	4

e. விடை தெரியவில்லை

9. Choose the correct statements about Swachh Bharat cess?

- It is imposed by Government of India.
  - It was started from 2 October, 2014.
  - It is applicable on all taxable services
  - The cess currently stands at 0.5%
  - It is levied over and above the 13% service tax.
- a. i, ii, iii, iv                      b. i, iii, iv                      c. ii, v  
d. all the above                      e. Answer not known

தூய்மை பாரத வரி குறித்து சரியானவை எவை?

- இந்திய அரசால் இவ்வரி விதிக்கப்படுகிறது
  - 2 அக்டோபர், 2014 அன்று தொடங்கப்பட்டது
  - இது அனைத்து வகையான வரிச் சேவைகளுக்கும் பொருந்தும்
  - இதன் வரி விகிதம் 0.5%
  - தற்போது 13% க்கும் மேற்பட்ட சேவை வரிகளுக்கு இவ்வரி விதிக்கப்படுகிறது
- a. i, ii, iii, iv                      b. i, iii, iv                      c. ii, v  
d. இவை அனைத்தும்                      e. விடை தெரியவில்லை

10. The Harappan seals, weights, dices and beads are found in which area

- |           |                     |              |                |
|-----------|---------------------|--------------|----------------|
| 1. Egypt  | 2. Mesopotamia      | 3. Shortugai | 4. South India |
| a. 1 only | b. 3, 4 only        | c. 1, 2 only |                |
| d. 2 only | e. answer not known |              |                |

ஹரப்பா முத்திரைகள், எடைகள், பகடைகள் மற்றும் மணிகள் எந்த பகுதியில் காணப்படுகின்றன?

- |              |                     |                 |                 |
|--------------|---------------------|-----------------|-----------------|
| 1. எகிப்து   | 2. மெசபடோமியா       | 3. சோர்டுகை     | 4. தென்னிந்தியா |
| a. 1 மட்டும் | b. 3, 4 மட்டும்     | c. 1, 2 மட்டும் |                 |
| d. 2 மட்டும் | e. விடை தெரியவில்லை |                 |                 |

11. Choose the incorrectly matched pair

- Heritage and tourism village - Singaperumal Koil
  - Makkalai Thedi Maruthuvam - Screening of non-communicable diseases
  - Chennai's sister city - phuket in Thailand
  - Kalaingar Memorial Library - Chennai
- a. i, ii                      b. i, ii, iii                      c. ii, iii, iv  
d. All of these                      e. Answer not known

தவறாகப் பொருந்திய இணையைத் தேர்ந்தெடு

- i. பாரம்பரிய மற்றும் சுற்றுலா கிராமம் – சிங்கபெருமாள் கோவில்
- ii. மக்களைத்தேடி மருத்துவம் - தொற்றா நோய்களை பரிசோதித்தல்
- iii. சென்னையின் சகோதரி நகரம் - தாய்லாந்தின் .:புகெட்
- iv. கலைஞர் நினைவு நூலகம் - சென்னை

- a. i, ii
- b. i, ii, iii
- c. ii, iii, iv
- d. இவை அனைத்தும்
- e. விடை தெரியவில்லை

12. Arrange the following incidents in the chronological order.

I. Formation of Hindustan Socialist Republic Association.

II. Naujawan Bharat Sabha

III. Kakori Robbery Case

IV. Formation of Hindustan Republic Association.

V. Lahore conspiracy case.

- a. I, II, III, IV, V
- b. IV, III, II, V, I
- c. IV, III, II, I, V
- d. IV, II, III, I, V
- e. Answer not known

கீழ்க்கண்ட நிகழ்வுகளை காலவரிசைப்படுத்துக

I. இந்துஸ்தான் சோசியலிஸ்ட் குடியரசு சங்கத்தின் உருவாக்கம்

II. நௌஜுவான் பாரத் சபை

III. ககோரி கொள்ளை வழக்கு

IV. இந்துஸ்தான் குடியரசு சங்கத்தின் உருவாக்கம்

V. லாகூர் சதி வழக்கு

- a. I, II, III, IV, V
- b. IV, III, II, V, I
- c. IV, III, II, I, V
- d. IV, II, III, I, V
- e. விடை தெரியவில்லை

13. Innuvir Kappom Scheme is part of \_\_\_\_\_

- a. Tamil Nadu Health System Project
- b. Tamil Nadu Health System Reform Program
- c. Tamil Nadu Rural Health Mission
- d. Tamil Nadu Urban Health Mission
- e. Answer not known

இன்னுவிர் காப்போம் திட்டம் \_\_\_\_\_ ன் ஒரு பகுதியாகும்.

- a. தமிழ்நாடு சுகாதார அமைப்புத் திட்டம்
- b. தமிழ்நாடு சுகாதார சீரமைப்புத் திட்டம்
- c. தமிழ்நாடு கிராமப்புற நலவாழ்வு இயக்கம்
- d. தமிழ்நாடு நகர்ப்புற நலவாழ்வு இயக்கம்
- e. விடை தெரியவில்லை

14. Match the following Grassland

Grassland	Areas Found
A. Prairies	1. North America
B. Pampas	2. Argentina
C. Veld	3. South Africa
D. Downs	4. Australia

	A	B	C	D
a.	4	3	2	1
b.	1	2	3	4
c.	3	1	4	2
d.	2	4	1	3

e. Answer not known

கீழ்க்கண்டவற்றை பொருத்துக:

புல்வெளிகள்	காணப்படும் பகுதிகள்
A. பிரெய்ரி	1. வட அமெரிக்கா
B. பாம்பாஸ்	2. அர்ஜென்டினா
C. வெல்டு	3. தென் ஆப்பிரிக்கா
D. டௌன்ஸ்	4. ஆஸ்திரேலியா

	A	B	C	D
a.	4	3	2	1
b.	1	2	3	4
c.	3	1	4	2
d.	2	4	1	3

e. விடை தெரியவில்லை

15. Mahalir Thittam was launched with State Government Funding from \_\_\_\_\_  
a. 1990-91 b. 1992-93 c. 1997-98 d. 1998-99 e. Answer not known  
மாநில நிதியுடன் மகலிர் திட்டம் தொடங்கப்பட்ட ஆண்டு \_\_\_\_\_  
a. 1990-91 b. 1992-93 c. 1997-98 d. 1998-99 e. விடை தெரியவில்லை

16. If  $1 + 2 + 3 + \dots + n = K$ , then  $1^3 + 2^3 + 3^3 + \dots + n^3 = \dots$ .

a.  $K^2$  b.  $K^3$  c.  $\frac{K(K+1)}{2}$

d.  $(K+1)^3$  e. Answer not known

$1 + 2 + 3 + \dots + n = K$  எனில்  $1^3 + 2^3 + 3^3 + \dots + n^3 =$  ன் மதிப்பு \_\_\_\_\_

a.  $K^2$  b.  $K^3$  c.  $\frac{K(K+1)}{2}$

d.  $(K+1)^3$  e. விடை தெரியவில்லை

17. The difference between simple and compound interest on a certain sum of money for 2 years at 2%p.a is ₹1. The sum of money is \_\_\_\_\_.

a. ₹2000 b. ₹1500 c. ₹3000

d. ₹2500 e. Answer not known

2% ஆண்டு வட்டியில், 2 ஆண்டுகளுக்கு ஓர் அசலுக்குக் கிடைத்த கூட்டுவட்டிக்கும் தனிவட்டிக்கும் இடையேயுள்ள வித்தியாசம் ₹1 எனில், அசல் ஆனது \_\_\_\_\_ ஆகும்

a. ₹2000 b. ₹1500 c. ₹3000

d. ₹2500 e. விடை தெரியவில்லை

18. Deepan invests a certain sum at 20% per annum simple interest. In how many years it will become six times?  
a. 18 years                      b. 20 years                      c. 25 years  
d. 30 years                      e. Answer not known  
தீபன் 20 சதவீத தனிவட்டியில் ஒரு குறிப்பிட்ட தொகையை முதலீடு செய்கிறார். அவரின் முதலீடு எத்தனை ஆண்டுகளில் 6 மடங்காகும்?  
a. 18 ஆண்டுகள்              b. 20 ஆண்டுகள்              c. 25 ஆண்டுகள்  
d. 30 ஆண்டுகள்              e. விடை தெரியவில்லை
19. The HCF of two numbers is 12 and their difference is also 12. The numbers are  
a. 66, 78                      b. 70, 82                      c. 94, 106  
d. 84, 96                      e. Answer not known  
இரு எண்களின் மீ.பொ.வ.12 அவற்றின் வித்தியாசம் 12. அந்த எண்களைக் காண்க  
a. 66, 78                      b. 70, 82                      c. 94, 106  
d. 84, 96                      e. விடை தெரியவில்லை
20. A sphere, a cylinder and a cone are of the same radius, where as cone and cylinder are of same height and equal to the radius. Find the ratio of their curved surface areas.  
a.  $2\sqrt{2} : \sqrt{2} : 1$                       b.  $\sqrt{2} : 2 : \sqrt{2}$                       c.  $2 : \sqrt{2} : 1$   
d.  $\sqrt{2} : 2\sqrt{2} : 1$                       e. Answer not known  
ஒரு கோளம், உருளை மற்றும் கூம்பு ஆகியவற்றின் ஆரங்கள் சமம். கூம்பு மற்றும் உருளையின் உயரங்கள் ஆரத்திற்குச் சமம் எனில், அவற்றின் வளைபரப்புகளின் விகிதம் காண்க  
a.  $2\sqrt{2} : \sqrt{2} : 1$                       b.  $\sqrt{2} : 2 : \sqrt{2}$                       c.  $2 : \sqrt{2} : 1$   
d.  $\sqrt{2} : 2\sqrt{2} : 1$                       e. விடை தெரியவில்லை
21. Consider the following statements  
Assertion (A): Vaccines are prepared by killing or making the microbes inactive (attenuated).  
Reason (R) : These inactive microbes are unable to cause disease, but stimulate the body to produce antibodies against the antigen in the microbes.  
a. Both (A) and (R) are correct and (R) is the correct explanation to (A)  
b. Both (A) and (R) are correct but (R) is not the correct explanation to (A)  
c. (A) is true but (R) is false  
d. (A) is false but (R) is true  
e. Answer not known  
பின்வரும் வாக்கியங்களைக் கருத்தில் கொள்க.  
கூற்று (A) : தடுப்பூசிகள் நுண்ணுயிரிகளைக் கொல்வதன் மூலமோ அல்லது செயல்படாத (நோய் உண்டாக்கும் வீரியத்தைக் குறைத்தல்) தன்மையுடையவைகளாக்குவதன் மூலமோ தயாரிக்கப்படுகின்றன.  
காரணம் (R): இந்த வகை நுண்ணுயிரிகள் நோயை உண்டாக்க கூடியவை அல்ல ஆனால் நுண்ணுயிரிகளில் காணப்படும் ஆன்டிஜென்னுக்கு எதிராக ஆன்டிபாடிகளை உருவாக்க உடலைக் தூண்டுகின்றன.



- a. (A) மற்றும் (R) சரி, மேலும் (R) என்பது (A) க்கு சரியான விளக்கம் ஆகும்.  
b. (A) மற்றும் (R) சரி ஆனால் (R) என்பது (A)க்கு சரியான விளக்கம் அல்ல  
c. (A) சரி ஆனால் (R) தவறு  
d. (A) தவறு ஆனால் (R) சரி  
e. விடை தெரியவில்லை
22. Consider the following statements.  
1. The speaker of Lok Sabha is the administrative head of the Parliamentary Secretariat.  
2. Point of order is an instrument to condemn a member for the breach of privilege.  
a. 1 only correct  
b. 2 only correct  
c. Both are correct  
d. Both are wrong  
e. Answer not known
- பின்வரும் கூற்றுகளை ஆராய்க.  
1. மக்களவை சபாநாயகர், பாராளுமன்ற செயலகத்தின் நிர்வாகத் தலைவர்.  
2. ஒழுங்குச் சிக்கல் (point of order) என்பது ஒரு உறுப்பினரை அவையின் சிறப்புரிமையை மீறியதற்காக கண்டனம் செல்வதற்கான கருவியாகும்.  
a. 1 மட்டும் சரி  
b. 2 மட்டும் சரி  
c. இரண்டும் சரி  
d. இரண்டும் தவறு  
e. விடை தெரியவில்லை
23. According to Gupta administration, dandaphasika, was a district level department refers to  
a. Revenue  
b. Judiciary  
c. Police  
d. Tax collector  
e. Answer not known
- குப்த நிர்வாகத்தில் தண்டபாசிகா என்பது மாவட்ட அளவிலான எந்த துறையை குறிக்கிறது?  
a. வருவாய்த்துறை  
b. நீதித்துறை  
c. காவல்துறை  
d. வரி வசூலிப்பவர்  
e. விடை தெரியவில்லை
24. Choose the correct statements.  
I. Inflation refers to the rise in prices and fall in the value of money  
II. Deflation refers to the fall in prices and decrease in the value of money  
a. I, II are correct  
b. I only is correct  
c. II only is correct  
d. I, II are incorrect  
e. Answer not known
- சரியான கூற்றினைக் கண்டறிக  
I. பணவீக்கம் என்பது விலைகள் உயர்ந்து, பணத்தின் மதிப்பு வீழ்ச்சியடைவதையும் குறிக்கும்  
II. பணவாட்டம் என்பது விலைகள் குறைந்து பணத்தின் மதிப்பு குறைவதைக் குறிக்கும்  
a. I, II சரி  
b. I மட்டும் சரி  
c. II மட்டும் சரி  
d. I, II தவறு  
e. விடை தெரியவில்லை
25. Under which scheme, free houses are constructed to SC, ST and freed bonded Labourers in rural areas?  
a. Rajiv Awas Yojana  
b. Indira Awas Yojana  
c. Bharat Nirman  
d. None of the above  
e. Answer not known

கீழ்க்கண்ட எத்திட்டத்தின் கீழ் SC, ST மற்றும் கொத்தடிமைத்தனத்திலிருந்து மீட்கப்பட்ட தொழிலாளர்களுக்கு இலவச வீடு கட்டித் தரப்படுகிறது?

- a. ராஜீவ் ஆவாஸ் யோஜனா                      b. இந்திரா ஆவாஸ் யோஜனா  
c. பாரத் நிர்மான்                                      d. மேற்கண்ட எதுவும் இல்லை  
e. விடை தெரியவில்லை

26. Match the following

Biosphere Reserves	State
A. Dibru Saikowa	1. Assam
B. Dihang Dibang	2. Arunachal Pradesh
C. Panna	3. Madhya Pradesh
D. Nanda Devi	4. Uttarakhand

	A	B	C	D
a.	1	2	3	4
b.	2	1	3	4
c.	2	1	4	3
d.	1	2	4	3

e. Answer not known

பொருத்துக:

உயிர்க்கோள காப்பகங்கள்	மாநிலம்
A. திப்ரு செய்கொவா	1. அசாம்
B. திகேங் திபங்	2. அருணாச்சல் பிரதேசம்
C. பன்னா	3. மத்தியபிரதேசம்
D. நந்தா தேவி	4. உத்தரகாண்ட்

	A	B	C	D
a.	1	2	3	4
b.	2	1	3	4
c.	2	1	4	3
d.	1	2	4	3

e. விடை தெரியவில்லை

27. Which of the following state is the best performing state in the progress of Smart Cities Mission?

- a. Tamil Nadu                                      b. Gujarat                                      c. Andhra Pradesh  
d. Telangana                                      e. Answer not known

பொலிவுறு நகரங்கள் திட்ட செயலாக்கத்தில் சிறப்பாக செயல்புரியும் மாநிலம் எது?

- a. தமிழ்நாடு                                      b. குஜராத்                                      c. ஆந்திரபிரதேசம்  
d. தெலுங்கானா                                      e. விடை தெரியவில்லை

28. The leaders associated with Champaran Satyagraha under leadership of Gandhi

- I. Brajkishore Prasad  
II. Anugrah Narayan Sinha  
III. Ramnavmi Prasad  
IV. Shambhusharan Varma  
a. I, II                                      b. II, III                                      c. I, II, IV  
d. I, II, III, IV                                      e. Answer not known

காந்தியின் தலைமையில் சாம்பரான் சத்தியாகிரகத்துடன் தொடர்புடைய தலைவர்கள்

I. பிரஜ்கிஷோர் பிரசாத்

II. அனுக்ரஹ நாராயண் சின்ஹா

III. இராம்நவமி பிரசாத்

IV. சம்புஷரன் வர்மா

a. I, II

b. II, III

c. I, II, IV

d. I, II, III, IV

e. விடை தெரியவில்லை

29. Choose incorrect statements regarding SGSY – Swarna Jayanthi Gram Swarozgar Yojana

1. SGSY is a Anti-poverty scheme launched in 1999 for rural poor

2. SHG is major component of SGSY

3. 100% centrally sponsored scheme.

a. 1, 2

b. 3 alone

c. 2, 3

d. All of the above

e. Answer not known

கீழ்க்கண்டவற்றில் SGSY பற்றி தவறான கூற்றை கண்டறிக – சுவர்ண ஜெயந்தி கிராம சுவரோஜ்கர் யோஜனா?

1. SGSY என்னும் வறுமை ஒழிப்பு திட்டம் 1999ல் ஊரக ஏழைகளுக்காக ஏற்படுத்தப்பட்டது

2. சுய உதவிக்குழுக்கள் SGSY திட்டத்தின் பெரும்பங்கு வகிக்கின்றனர்

3. 100% மத்திய நிதியுதவித் திட்டம்

a. 1, 2

b. 3 மட்டும்

c. 2, 3

d. மேற்கண்ட அனைத்தும்

e. விடை தெரியவில்லை

30. Sun fuses about 620 million metric tons of hydrogen each second and radiates about \_\_\_\_\_ joule of energy per second

a.  $3.8 \times 10^{27}$

b.  $3.8 \times 10^{28}$

c.  $3.8 \times 10^{26}$

d.  $3.7 \times 10^{27}$

e. Answer not known

ஒவ்வொரு வினாடியிலும் 620 மில்லியன் மெட்ரிக் டன் ஹைட்ரஜன் அணுக்கரு இணைவு சூரியனில் நடைபெறுகிறது. இதனால் ஒரு வினாடியில் \_\_\_\_\_ ஜூல் ஆற்றல் கதிரியக்கமாக வெளியாகிறது.

a.  $3.8 \times 10^{27}$

b.  $3.8 \times 10^{28}$

c.  $3.8 \times 10^{26}$

d.  $3.7 \times 10^{27}$

e. விடை தெரியவில்லை

31. Match the following

A. Union List

1. Marriage

B. State List

2. Communication

C. Concurrent List

3. Irrigation

a. A B C  
1 2 3

b. 3 1 2

c. 2 1 3

d. 2 3 1

e. Answer not known

பொருத்துக.

- A. மத்தியப் பட்டியல்  
B. மாநிலப் பட்டியல்  
C. பொதுப் பட்டியல்

1. திருமணம்  
2. தகவல் தொடர்பு  
3. நீர்ப்பாசனம்

	A	B	C
a.	1	2	3
b.	3	1	2
c.	2	1	3
d.	2	3	1

e. விடை தெரியவில்லை

32. Which of the following statements is/are correct about Bhagat Singh?

- I. He was born on 27 September, 1907.  
II. He was born in Lyallpur district.  
III. In 1921, he joined the National College, Lahore which was founded and managed by Lala Lajpat Rai.

- a. I, II only  
b. I, III only  
c. II, III only  
d. I, II and III  
e. Answer not known

பகத்சிங் தொடர்பான பின்வரும் கூற்றுகளுள் சரியானது எது?

- I. அவர் 1907 செப்டம்பர் 27ஆம் தேதி அன்று பிறந்தார்.  
II. அவர் லயால்பூர் மாவட்டத்தில் பிறந்தார்.  
III. லாலா லஜபதிராயால் லாகூரில் நிறுவப்பட்டு மற்றும் நிர்வகிக்கப்பட்டு வந்த தேசிய கல்லூரியில் பகத்சிங் 1921இல் சேர்ந்தார்.

- a. I, II மட்டும்  
b. I, III மட்டும்  
c. II, III மட்டும்  
d. I, II மற்றும் III  
e. விடை தெரியவில்லை

33. During Gupta's period, high stage of Development in metallurgy is exhibited at

- a. Coins  
b. Metal Engraving  
c. Pottery making  
d. Mono-lithic Iron Pillar  
e. Answer not known

குப்தர்கள் காலத்தில் உலோகவியலில் உயர்நிலை வளர்ச்சி காணப்பட்டது என்பதற்கு எடுத்துக்காட்டு \_\_\_\_\_

- a. நாணயங்கள்  
b. உலோக வேலைப்பாடு  
c. மட்பாண்டங்கள் செய்தல்  
d. ஒற்றைரத இரும்பு தூண்  
e. விடை தெரியவில்லை

34. Which of the following scheme was implemented with the assistance of World Bank?

- a. Pradhan Manthri Gramodaya Yojana scheme.  
b. Mid - Day Meal Programme  
c. Integrated child development services  
d. National Programme of Nutritional support to primary education.  
e. Answer not known

பின்வருவனவற்றுள் எந்த திட்டம் உலக வங்கியின் உதவியோடு நடைமுறைப்படுத்தப்பட்டது?

- a. பிரதம மந்திரி கிராமோதயா யோஜனா திட்டம்  
b. மதிய உணவுத்திட்டம்  
c. ஒருங்கிணைந்த குழந்தை மேம்பாட்டு சேவைகள் (ICDS)  
d. ஆரம்பக் கல்விக்கான தேசிய ஊட்டச்சத்து ஆதரவு திட்டம்  
e. விடை தெரியவில்லை
35. The states associated with the Nirar – Nallar Multipurpose Project  
a. Tamilnadu and Karnataka      b. Karnataka and Andhra  
c. Tamil Nadu and Kerala      d. Tamilnadu and Andhra  
e. Answer not known  
நீராறு-நல்லாறு பல்நோக்கு திட்டத்துடன் தொடர்புடைய மாநிலங்கள்  
a. தமிழ்நாடு மற்றும் கர்நாடகம்      b. கர்நாடகம் மற்றும் ஆந்திரா  
c. தமிழ்நாடு மற்றும் கேரளா      d. தமிழ்நாடு மற்றும் ஆந்திரா  
e. விடை தெரியவில்லை
36. The least number which when divided by 5, 6, 12 and 15 leaves a remainder 4 in each case, but when divided by 7 leaves no remainder is :  
a. 126      b. 364      c. 308      d. 357      e. Answer not known  
ஓர் மிகக்குறைந்த எண்ணை 5, 6, 12 மற்றும் 15ல் வகுக்கும் போது ஒவ்வொன்றிலும் மீதி 4 கிடைக்கவேண்டும், ஆனால் அந்த எண்ணானது 7ஆல் வகுபட வேண்டுமெனில் அந்த எண்ணைக் கண்டுபிடி:  
a. 126      b. 364      c. 308      d. 357      e. விடை தெரியவில்லை
37. In a theatre, there are 20 seats in the front row and 30 rows were allotted. Each successive row contains two additional seats than its front row. How many seats are there in the last row?  
a. 60      b. 78      c. 58      d. 90      e. Answer not known  
ஒரு சினிமா அரங்கின் முதல் வரிசையில் 20 இருக்கைகளும் மொத்தம் 30 வரிசைகளும் உள்ளன. அடுத்தடுத்த ஒவ்வொரு வரிசையிலும் அதற்கு முந்தைய வரிசையைவிட இரண்டு இருக்கைகள் கூடுதலாக உள்ளன. கடைசி வரிசையில் எத்தனை இருக்கைகள் இருக்கும்?  
a. 60      b. 78      c. 58      d. 90      e. விடை தெரியவில்லை
38. In an examination, a student scores 4 marks for every correct answer and loses one mark for every wrong answer. If he answers 60 questions in all and gets 130 marks, find the number of questions he answered correctly.  
a. 38      b. 40      c. 42      d. 46      e. Answer not known  
ஒரு தேர்வில், மாணவர் எழுதும் சரியான விடைக்கு 4 மதிப்பெண்கள் வழங்கப்படுகின்றன. மேலும், தவறான விடைக்கு 1 மதிப்பெண் குறைக்கப்படுகிறது. அத்தேர்வில், ஒருவன் மொத்தம் 60 வினாக்களுக்கு விடை எழுதி 130 மதிப்பெண்கள் பெற்றான் எனில், சரியான விடை எழுதிய வினாக்களின் எண்ணிக்கை எவ்வளவு?  
a. 38      b. 40      c. 42      d. 46      e. விடை தெரியவில்லை
39. Melt : Liquid :: Freeze : ?  
a. Ice      b. Condense      c. Solid  
d. Force      e. Answer not known

உருகுதல் : திரவம் :: உறைதல்

- a. பனிக்கட்டி                      b. ஒடுக்கம்                      c. திண்மம்  
d. வலிமை                      e. விடை தெரியவில்லை

40. Find the LCM of  $3(a - 1)$ ,  $3(a - 1)^2$ ,  $(a^2 - 1)$   
a.  $(a + 1)^2(a + 1)$                       b.  $(a - 1)^2(a + 1)$                       c.  $6(a - 1)(a + 1)^2$   
d.  $6(a - 1)^2(a + 1)$                       e. Answer not known  
 $3(a - 1)$ ,  $3(a - 1)^2$ ,  $(a^2 - 1)$  -ன் மீச்சிறு பொது மடங்கு காண்க  
a.  $(a + 1)^2(a + 1)$                       b.  $(a - 1)^2(a + 1)$                       c.  $6(a - 1)(a + 1)^2$   
d.  $6(a - 1)^2(a + 1)$                       e. விடை தெரியவில்லை

41. Match the following:

Disease	Causative organism			
A. Common cold	1. Myxovirus			
B. Influenza	2. Rhino virus			
C. Tuberculosis	3. Rubeola virus			
D. Measles	4. Mycobacterium			

	A	B	C	D
a.	2	1	4	3
b.	1	2	4	3
c.	3	1	4	2
d.	1	3	4	2

- e. Answer not known

பொருத்துக:

நோய்	நோய்க் காரணி			
A. சாதாரண சளி	1. மைக்ஸோ வைரஸ்			
B. இன்ஃபுளுயன்சா	2. ரைனோ வைரஸ்			
C. காசநோய்	3. ரூபியோலா வைரஸ்			
D. தட்டம்மை	4. மைகோபாக்டீரியம்			

	A	B	C	D
a.	2	1	4	3
b.	1	2	4	3
c.	3	1	4	2
d.	1	3	4	2

- e. விடை தெரியவில்லை

42. Consider the following statements regarding STEP (Support to Training and Employment Program for women) scheme

- The aim of STEP scheme is economic empowerment of poor women
- Scheme is under Ministry of Women and Child Development.
- Skill development to women to become self-employed entrepreneurs.
- Eligibility: women in the age group of 18 - 60

- a. 1, 2, 3 are correct                      b. 1, 2, 4 are correct                      c. 2, 3 are correct  
d. All are correct                      e. Answer not known

பெண்களுக்கான பயிற்சி மற்றும் வேலைவாய்ப்பு ஆதரவுத் திட்டம் (STEP) குறித்த பின்வரும் கூற்றுகளை ஆய்க.

1. ஏழைப் பெண்களுக்கு பொருளாதார அதிகாரமளித்தலே STEP திட்டத்தின் நோக்கமாகும்.
2. இந்த திட்டம் மகளிர் மற்றும் குழந்தைகள் மேம்பாட்டு அமைச்சகத்தின் கீழ் செயல்படுகிறது.
3. திறன் மேம்பாட்டு மூலம் பெண்களை சுயதொழில் முனைவோராக்குவது இதன் அங்கமாகும்.
4. தகுதி: 18 - 60 மற்றும் அதற்கு மேற்பட்ட வயதுடைய பெண்கள்.
  - a. 1, 2, 3 சரி
  - b. 1, 2, 4 சரி
  - c. 2, 3 சரி
  - d. அனைத்தும் சரி
  - e. விடை தெரியவில்லை

43. Arrange in chronological order

1. Ujjawala Scheme
  2. Prime Minister Ujjwala Yojana
  3. Swadhar scheme
  4. Swadhar Greh
- a. 1, 2, 3, 4
  - b. 3, 1, 4, 2
  - c. 3, 1, 2, 4
  - d. 1, 3, 2, 4
  - e. Answer not known

காலவரிசைப்படுத்துக.

1. உஜ்வாலா திட்டம்
  2. பிரதம மந்திரி உஜ்வாலா யோஜனா
  3. ஸ்வதார் திட்டம்
  4. ஸ்வதார் க்ரெஹ் திட்டம்
- a. 1, 2, 3, 4
  - b. 3, 1, 4, 2
  - c. 3, 1, 2, 4
  - d. 1, 3, 2, 4
  - e. விடை தெரியவில்லை

44. Which of the following subject falls under state list?

1. Adoption
  2. Succession
  3. Forests
  4. Liquor
  5. Agriculture
- a. 4 and 5 only
  - b. 1, 4, 5 only
  - c. 2, 3, 5 only
  - d. 3, 4, 5 only
  - e. Answer not known

மாநிலப் பட்டியலின் கீழ்வரும் பின்வரும் பகுதிகள் யாவை?

1. தத்தெடுப்பு
  2. வாரிசு
  3. காடுகள்
  4. மதுபானம்
  5. விவசாயம்
- a. 4 மற்றும் 5 மட்டும்
  - b. 1, 4, 5 மட்டும்
  - c. 2, 3, 5 மட்டும்
  - d. 3, 4, 5 மட்டும்
  - e. விடை தெரியவில்லை

45. Which of the following statements is/are correct regarding Chittagong armoury raid?

- I. The raid was conducted in April 1930.
- II. 85 activists involved under the banner of Indian republican army, Chittagong branch.

- a. I only
- b. II only
- c. I and II
- d. none of the above
- e. Answer not known

சிட்டகாங் ஆயுதக்கிடங்கு கொள்ளை தொடர்பான பின்வரும் கூற்றுகளில் சரியானவை எவை?

- I. இக்கொள்ளை ஏப்ரல் 1930இல் நடத்தப்பட்டது
- II. இந்தியக் குடியரசு இராணுவம் சிட்டகாங் கிளையின் கீழ் 85 ஆர்வலர்கள் இதில் ஈடுபட்டுள்ளனர்

- a. I மட்டும்
- b. II மட்டும்
- c. I மற்றும் II
- d. எதுவுமில்லை
- e. விடை தெரியவில்லை

46. Who said  
"Everything is in it, Nothing is missed in it, By his couplets saint Valluvar becomes companion for life"  
a. Maraimalai Adigal      b. Madurai Tamizh Naaganaar      c. Kavimani  
d. Bharathidasan      e. Answer not known  
எல்லாப் பொருளும் இதன்பால் உளஇதன்பால்  
இல்லாத எப்பொருளும் இல்லையால் - சொல்லார்  
பரந்தபா வால்என் பயன்வள் ளுவனார்  
சுரந்தபா வையத் துணை என்றவர்  
a. மறைமலை அடிகள்      b. மதுரைத் தமிழ்நாகனார்      c. கவிமணி  
d. பாரதிதாசன்      e. விடை தெரியவில்லை
47. Bordeaux mixture is  
a.  $CuSO_4 + Ca(OH)_2$       b.  $CuSO_4 + CaCl_2$       c.  $ZnSO_4 + Ca(OH)_2$   
d.  $ZnSO_4 + CaCl_2$       e. Answer not known  
போர்டோ கலவை என்பது  
a.  $CuSO_4 + Ca(OH)_2$       b.  $CuSO_4 + CaCl_2$       c.  $ZnSO_4 + Ca(OH)_2$   
d.  $ZnSO_4 + CaCl_2$       e. விடை தெரியவில்லை
48. 'Rayavachakamu, a Telugu work, gives the interesting detail about Nayaka System during Vijaya Nagar Empire, under whose period  
1. Devaraya I      2. Devaraya II  
3. Saluva Narasimha      4. Krishna Deva Raya  
Select the correct code  
a. 1 only      b. 1, 2 only      c. 3, 4 only  
d. 4 only      e. Answer not known  
ராயவாசகமு என்ற தெலுங்கு படைப்பு, விஜயநகரப் பேரரசின் யாருடைய காலத்தில் இருந்த நாயக்க முறைப்பற்றிய சுவாரசியமான தகவல்களைத் தருகிறது?  
1. முதலாம் தேவராயர்      2. இரண்டாம் தேவராயர்  
3. சாளுவ நரசிம்மர்      4. கிருஷ்ண தேவராயர்  
a. 1 மட்டும்      b. 1, 2 மட்டும்      c. 3, 4 மட்டும்  
d. 4 மட்டும்      e. விடை தெரியவில்லை
49. Match the following  
District      Industrial cluster  
A. Thiruvallur      1. Automotive  
B. Kanchipuram      2. Silk Sarees  
C. Vellore      3. Leather  
D. Hosur      4. Automotive and Electronics  
a.      A      B      C      D  
b.      1      2      3      4  
c.      4      2      3      1  
d.      3      2      4      1  
e.      3      2      1      4  
e. Answer not known



பொருத்துக.

மாவட்டம்

A. திருவள்ளூர்

B. காஞ்சிபுரம்

C. வேலூர்

D. ஓசூர்

A B C D

a. 1 2 3 4

b. 4 2 3 1

c. 3 2 4 1

d. 3 2 1 4

e. விடை தெரியவில்லை

தொழில்துறை தொகுப்பு

1. தானியங்கி

2. பட்டுஆடைகள்

3. தோல்

4. தானியங்கி மற்றும் மின்னணு

50. Match the following

A. Multimodal Logistics Park

B. Tamil Nadu Police Museum

C. Trans Kitchen

D. First Mobile Library in India

E. Special School Under Sankalp

1. Mappedu

2. Egmore

3. Kolappancheri

4. Madurai

5. Melavasal

A B C D E

a. 1 2 3 4 5

b. 2 1 4 5 3

c. 1 2 4 5 3

d. 3 2 4 1 5

e. Answer not known

பொருத்துக

A. பல்வகை தளவாடங்கள் பூங்கா

B. தமிழ்நாடு காவலர் அருங்காட்சியகம்

C. ட்ரான்ஸ் சமையலறை

D. இந்தியாவின் முதல் நடமாடும் நூலகம்

E. சங்கல்பின் கீழ் சிறப்புப்பள்ளி

1. மப்பேடு

2. எழும்பூர்

3. கோலப்பஞ்சேரி

4. மதுரை

5. மேலவாசல்

A B C D E

a. 1 2 3 4 5

b. 2 1 4 5 3

c. 1 2 4 5 3

d. 3 2 4 1 5

e. விடை தெரியவில்லை

51. Consider the following statements:

I. The book "Isolated State" was written by Von Thunen

II. The Von Thunen model is an excellent illustration of the balance between land costs and transportation costs.

a. I, II correct

b. I only correct

c. II only correct

d. I, II incorrect

e. Answer not known

பின்வரும் வாக்கியங்களை கவனிக்கவும்.

- I. “தனித்தப் பகுதி” (ஐசோலேட்டட் ஸ்டேட்) என்ற நூலின் ஆசிரியர் வான்தூனன்.  
II. வான்தூனனின் மாதிரி நிலத்தின் விலை மற்றும் போக்குவரத்து செலவு ஆகியவற்றை அடிப்படையாக கொண்டு உருவாக்கப்பட்ட விளக்கப்படமாகும்.  
a. I, II சரி  
b. I மட்டும் சரி  
c. II மட்டும் சரி  
d. I, II தவறானது  
e. விடை தெரியவில்லை

52. Perumaikkum enaich chirumaikkum thattham  
\_\_\_\_\_ kattalaik kal

- a. karumamae  
b. arame  
c. madhiye  
d. vidhiye  
e. Answer not known  
பெருமைக்கும் ஏனைச் சிறுமைக்கும் தத்தம்  
\_\_\_\_\_ கட்டளைக் கல்.  
a. கருமமே  
b. அறமே  
c. மதியே  
d. விதியே  
e. விடை தெரியவில்லை

53. How many types of amendments are provided under Article 368?

- a. one type  
b. 2 types  
c. 3 types  
d. 4 types  
e. Answer not known  
ஷரத்து 368ன் கீழ் எத்தனை வகையான திருத்தங்கள் வழங்கப்பட்டுள்ளன?  
a. ஒரு வகை  
b. 2 வகைகள்  
c. 3 வகைகள்  
d. 4 வகைகள்  
e. விடை தெரியவில்லை

54. Choose the incorrectly matched pairs regarding Baba Saheb

- I. Bahishkrit Hitakarini Sabha - “Educate Organise Agitate”  
II. Kalaram Temple Entry Movement - Nashik, 1930  
III. Schedule Caste Federation - Renamed as Republican Party of India in 1955  
IV. Mooknayak - Weekly  
V. His last writing - The annihilation of caste  
a. I, III only  
b. III only  
c. V Only  
d. III, V only  
e. Answer not known  
பாபா சாகிப் பற்றி தவறாகப் பொருந்திய இணையைத் தேர்ந்தெடு  
I. பகிஸ்கிரிட் ஹிட்காரினி சபா - “கற்பி, ஒன்றுசேர், புரட்சிசெய்”  
II. காலாராம் ஆலய நுழைவு போராட்டம் - நாசிக், 1930  
III. பட்டியல் சாதிகள் கூட்டமைப்பு - இந்திய குடியரசு கட்சியாக 1955ல் பெயர் மாற்றப்பட்டது  
IV. மூக் நாயக் - வார இதழ்  
V. கடைசியாக எழுதிய புத்தகம் - “சாதிகளை அழித்தொழித்தல்”  
a. I, III மட்டும்  
b. III மட்டும்  
c. V மட்டும்  
d. III, V மட்டும்  
e. விடை தெரியவில்லை

55. Match the following

List I

- A. Prophase  
B. Metaphase  
C. Anaphase  
D. Telophase

List II

1. After phase  
2. First phase  
3. End phase  
4. pre end phase

	A	B	C	D
a.	2	1	4	3
b.	1	2	4	3
c.	4	1	2	3
d.	2	4	1	3

e. Answer not known

பொருத்துக:

பகுதி I

- A. புரோ நிலை  
B. மெட்டாநிலை  
C. அனா நிலை  
D. டீலோ நிலை

பகுதி II

1. பிந்தைய நிலை  
2. முதல் நிலை  
3. இறுதி நிலை  
4. இறுதி முன் நிலை

	A	B	C	D
a.	2	1	4	3
b.	1	2	4	3
c.	4	1	2	3
d.	2	4	1	3

e. விடை தெரியவில்லை

56. Find the value of  $\sqrt{383 + \sqrt{302 - \sqrt{164 + \sqrt{28 - \sqrt{9}}}}}$

- a. 36      b. 12      c. 16      d. 20      e. Answer not known

$\sqrt{383 + \sqrt{302 - \sqrt{164 + \sqrt{28 - \sqrt{9}}}}}$  - இன் மதிப்பு காண்க

- a. 36      b. 12      c. 16      d. 20      e. விடை தெரியவில்லை

57. From home, Rajan rides on his motorbike at 35 km/hr and reaches his office 5 minutes late. If he had ridden at 50 km/hr, he would have reached his office 4 minutes earlier. How far is his office from his home?

- a.  $17\frac{1}{2}$  km      b. 35 km      c. 9 km  
d.  $42\frac{1}{2}$  km      e. Answer not known

இராஜன் தன் வீட்டிலிருந்து இரு சக்கர வாகனத்தில் மணிக்கு 35 கி.மீ வேகத்தில் சென்று தன்னுடைய அலுவலகத்தை 5 நிமிடம் தாமதமாகச் சென்றடைகிறார். அவர் மணிக்கு 50 கி.மீ வேகத்தில் சென்றிருந்தால், அலுவலகத்தை 4 நிமிடம் முன்னதாகவே சென்றடைந்திருப்பார் எனில் அவருடைய அலுவலகம், வீட்டிலிருந்து எவ்வளவு தொலைவில் உள்ளது?

- a.  $17\frac{1}{2}$  கி.மீ                      b. 35 கி.மீ                      c. 9 கி.மீ  
d.  $42\frac{1}{2}$  கி.மீ                      e. விடை தெரியவில்லை

58. A cubical tank can hold 64,000 litres of water. Find the length of its side in metres.  
a. 6 metres                      b. 5 metres                      c. 4 metres  
d. 7 metres                      e. Answer not known

ஒரு கனசதுர வடிவ நீர்த் தொட்டியானது 64,000 லிட்டர் நீர் கொள்ளும் எனில் அந்த தொட்டியின் பக்கத்தின் நீளத்தை மீட்டரில் காண்க.

- a. 6 மீட்டர்                      b. 5 மீட்டர்                      c. 4 மீட்டர்  
d. 7 மீட்டர்                      e. விடை தெரியவில்லை

59. The collar of a shirt is in the form of isosceles trapezium whose parallel sides are 17 cm and 14 cm and the distance between them is 4 cm. Find the area of canvas that will be used to stitch the collar.

- a. 62 sq.cm.                      b. 147 sq. cm.                      c. 35 sq. cm.  
d. 46 sq. cm.                      e. Answer not known

ஒரு சட்டையின் காலர் பகுதி இருசமபக்கச் சரிவகமாக உள்ளது. அதன் இணைப்பக்கங்கள் முறையே 17 செ.மீ மற்றும் 14 செ.மீ, உயரம் 4 செ.மீ எனில், காலர் தைப்பதற்கு பயன்படுத்தப்படும் துணியின் பரப்பளவைக் காண்க

- a. 62 ச.செ.மீ                      b. 147 ச.செ.மீ                      c. 35 ச.செ.மீ  
d. 46 ச.செ.மீ                      e. விடை தெரியவில்லை

60. A sum of money is to be distributed among A, B, C, D in the proportion of 5 : 2 : 4 : 3. If C gets Rs. 1,000 more than D. What is B's share?

- a. Rs. 1,000                      b. Rs. 3,000                      c. Rs. 2,000  
d. Rs.4,000                      e. Answer not known

A, B, C, D என்பவர்கள் ஒரு குறிப்பிட்ட தொகையை 5 : 2 : 4 : 3 என்ற விகிதத்தில் பங்கிடுகின்றனர். இதில் C என்பவர் D ஐ விட ரூ. 1,000 அதிகம் பெறுகிறார் எனில் B ன் பங்கு என்ன?

- a. Rs. 1,000                      b. Rs. 3,000                      c. Rs. 2,000  
d. Rs.4,000                      e. விடை தெரியவில்லை

61. Mohammed Gawan, Prime Minister under Mohammed Shah III, is a Chemist, used gun powder against Vijaya Nagar Kings at

- a. Kondaivedu                      b. Rajammundry                      c. Vijaya Nagar  
d. Belgaum                      e. Answer not known

மூன்றாம் முகமது ஷாவின் கீழ் பிரதம மந்திரியாக இருந்த வேதிவியலாளர் முகமது கவான் விஜயநகர மன்னர்களுக்கு எதிராக வெடி மருந்தை எங்கு பயன்படுத்தினார்?

- a. கொண்டைவேடு                      b. இராஜமுந்திரி                      c. விஜயநகர்  
d. பெல்காம்                      e. விடை தெரியவில்லை

62. The saying "Thirukkural" has a balanced religious quality is because
1. People from all religions say that it belongs to them
  2. Because people who say there is God and people who say there is no God accept it whole heartedly
  3. It is beyond type, caste, religion, class
  4. Because it writes about ethics and knowledge needed for human race
- a. only 1 is right                      b. only 2 is right                      c. only 3 and 4 are right  
d. all the above are right              e. Answer not known
- "சமய நடுநிலைப் பண்பு" கொண்டது திருக்குறள் என்பார் இக்கூற்றுக்கு காரணம்
1. எல்லாச் சமயத்தவரும் இது எம் நூல் என்று கூறும் சிறப்புப் பெற்றதால்
  2. கடவுள் உண்டு என்பவர் மட்டுமின்றி இல்லை என்பவரும் உவந்து ஏற்கும் சிறப்புப் பெற்றதால்
  3. இனம், சாதி, சமயம். வகுப்பு எல்லாவற்றிற்கும் அப்பாற்பட்டதால்
  4. மனித இனத்திற்குப் பொதுவான ஒழுக்கமும். அறிவும் அறிவுறுத்தப்படுவதால்
- a. 1 மட்டும் சரி                      b. 2 மட்டும் சரி                      c. 3 மற்றும் 4 மட்டும் சரி  
d. அனைத்தும் சரி                      e. விடை தெரியவில்லை
63. Which of the following statements is/are incorrect?
- i. The population density of Tamilnadu as per 2011 census is 555 per sq.km.
  - ii. Tamilnadu ranks 7<sup>th</sup> in density among the Indian states.
  - iii. The population density of India is 382 per sq. km.
- a. i, ii, iii                      b. ii, iii                      c. i, ii                      d. i, iii                      e. Answer not known
- பின்வரும் கூற்றுகளில் சரியானவை எவை?
- i. 2011-ல் தமிழ்நாட்டின் மக்கள்தொகை அடர்த்தி ஒரு சதுர கிலோ மீட்டருக்கு 555-ஆக உள்ளது.
  - ii. இந்திய மாநிலங்களில் மக்கள்தொகை அடர்த்தியில் தமிழ்நாடு 7வது இடத்தில் உள்ளது.
  - iii. மக்கள்தொகை அடர்த்தியில் தேசிய சராசரி 382.
- a. i, ii, iii                      b. ii, iii                      c. i, ii                      d. i, iii                      e. விடை தெரியவில்லை
64. Match the following
- |                        |                       |
|------------------------|-----------------------|
| A. Kalavazhi Naarpadhu | 1. Kabilar            |
| B. Pazhamozhi Naanooru | 2. Poikaiyaar         |
| C. Inna Naarpadhu      | 3. Poodhachendanaar   |
| D. Iniyavai Naarpadhu  | 4. Munrurai Araiyanar |
- |    |   |   |   |   |
|----|---|---|---|---|
| A  | B | C | D |   |
| a. | 1 | 2 | 3 | 4 |
| b. | 3 | 2 | 1 | 4 |
| c. | 2 | 4 | 1 | 3 |
| d. | 1 | 3 | 4 | 2 |
- e. Answer not known
- பொருத்துக:
- |                   |                      |
|-------------------|----------------------|
| A. களவழி நாற்பது  | 1. கபிலர்            |
| B. பழமொழி நானூறு  | 2. பொய்கையார்        |
| C. இன்னா நாற்பது  | 3. பூதஞ்சேந்தனார்    |
| D. இனியவை நாற்பது | 4. முன்றுறை அரையனார் |

	A	B	C	D
a.	1	2	3	4
b.	3	2	1	4
c.	2	4	1	3
d.	1	3	4	2

e. விடை தெரியவில்லை

65. Choose the correct statements about characteristics of Australoid Race?

- i. Visible eye ridge                      ii. Short in height                      iii. Dark skin stone  
a. i, ii and iii                                  b. i and ii                                  c. i and iii  
d. ii and iii                                  e. Answer not known

ஆஸ்ட்ரலாய்டு இனம் குறித்த பண்புகளில் சரியானவை எவை?

- i. புலப்படக்கூடிய புருவ முகடு                      ii. குறைவான உயரம்  
iii. கருப்பு நிறத் தோல்  
a. i, ii மற்றும் iii                                  b. i மற்றும் ii                                  c. i மற்றும் iii  
d. ii மற்றும் iii                                  e. விடை தெரியவில்லை

66. Which of the following tiger reserve received the Earth Guardian Award for 2021?

- a. Periyar    b. Parambikulam  
c. Kalakkadu Mundanthurai                      d. Sathyamangalam  
e. Answer not known

பின்வருவனவற்றுள் எந்த புலிகள் காப்பகம் 2021-ஆம் ஆண்டிற்கான புவி காப்பாளர் விருதினைப் பெற்றது?

- a. பெரியார்    b. பரம்பிக்குளம்  
c. களக்காடு முண்டந்துறை                      d. சத்தியமங்கலம்  
e. விடை தெரியவில்லை

67. The Wardha Scheme of Education was introduced in

- a. 1933                      b. 1935                      c. 1937                      d. 1939                      e. Answer not known

வார்தா கல்வித் திட்டம் அறிமுகப்படுத்தப்பட்ட ஆண்டு

- a. 1933                      b. 1935                      c. 1937                      d. 1939                      e. விடை தெரியவில்லை

68. Match the following

- |                     |   |
|---------------------|---|
| A. Paul Appleby     | 1. Cooperative Federalism                       |
| B. Morris Jones     | 2. Case of Suigeneris                           |
| C. Ivor Jennings    | 3. Bargaining Federalism                        |
| D. Alexandrowicz    | 4. Extremely Federal                            |
| E. Granville Austin | 5. Federation with strong centralising tendency |

	A	B	C	D	E
a.	4	3	5	2	1
b.	3	4	2	5	1
c.	1	3	2	5	4
d.	5	4	1	3	2

e. Answer not known

பொருத்துக.

- A. பால் ஆப்பிளேபை  
B. மோரிஸ் ஜோன்ஸ்  
C. ஐவர் ஜென்னிங்ஸ்  
D. அலெக்சாண்ட்ரோவிச்  
E. கிரான்வில் ஆஸ்டின்

1. கூட்டுறவு கூட்டாட்சி  
2. கேஸ் ஆப் சூய்ஜெனரிஸ்  
3. பேரம் கூட்டாட்சி  
4. தீவிர கூட்டாட்சி  
5. வலுவான மையப்படுத்தல் போக்கு கொண்ட கூட்டமைப்பு

	A	B	C	D	E
a.	4	3	5	2	1
b.	3	4	2	5	1
c.	1	3	2	5	4
d.	5	4	1	3	2
e.	விடை தெரியவில்லை				

69. The first self respect conference was held in \_\_\_\_.

- a. 1926      b. 1927      c. 1928      d. 1929      e. Answer not known

சுயமரியாதை இயக்கத்தின் முதல் கூட்டம் நடைபெற்ற ஆண்டு

- a. 1926      b. 1927      c. 1928      d. 1929      e. விடை தெரியவில்லை

70. During civil disobedience movement, in Madras, who led the salt March to Tilakar Ghat, Triplicane?

- a. S. Satyamurthi      b. Mattaparai Venkatrama Iyer      c. K. Santhanam  
d. T. Prakasam      e. Answer not known

சட்டமறுப்பு இயக்கம் மெட்ராஸில் நடைபெற்ற போது, திலகர் காட், திருவெல்லிக்கேணிக்குச் சென்று உப்பு சத்தியாகிரகத்திற்கு தலைமையேற்றவர்?

- a. எஸ். சத்தியமூர்த்தி      b. மட்டப்பாறை வெங்கட்ராமன் ஐயர்  
c. கே. சந்தானம்      d. டி. பிரகாசம்

71. Match the following

Mughal Administration

- A. Wakil  
B. Wazir  
C. Mir-Bakshi  
D. Mir-Saman

Portfolio / Officer

1. Royal Household  
2. Military  
3. Revenue Minister  
4. Prime Minister

	A	B	C	D
a.	4	2	1	3
b.	4	3	2	1
c.	3	4	1	2
d.	3	4	2	1

e. Answer not known

பொருத்துக

முகலாயர்கள் நிர்வாகம்

- A. வக்கில்  
B. வசீர்  
C. மிர்-பக்சி  
D. மிர்-சமன்

பதவிகள்

1. அரச குடும்பம்  
2. இராணுவம்  
3. வருவாய் அமைச்சர்  
4. பிரதம அமைச்சர்

	A	B	C	D
a.	4	2	1	3
b.	4	3	2	1
c.	3	4	1	2
d.	3	4	2	1

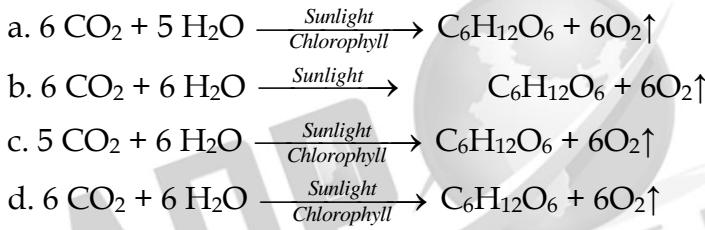
e. விடை தெரியவில்லை

72. Quit India Movement was launched in response to  
a. Cripps Mission  
b. Simon Commission Report  
c. Cabinet Mission Plan  
d. White Paper Report  
e. Answer not known

எதன் எதிர்வினையாக வெள்ளையனே வெளியேறு இயக்கம் தொடங்கப்பட்டது?

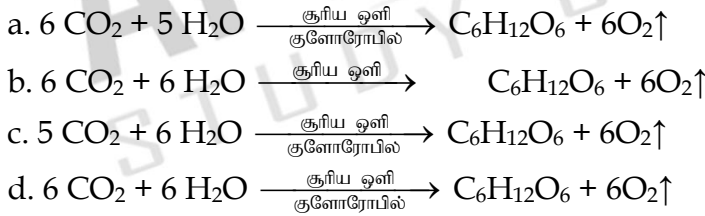
- a. கிரிப்ஸ் திட்டம்  
b. சைமன் குழு அறிக்கை  
c. காபினட் குழு திட்டம்  
d. வெள்ளை தாள் அறிக்கை  
e. விடை தெரியவில்லை

73. Find correct equation of Photosynthesis.



e. Answer not known

ஒளிச்சேர்க்கை பற்றிய சரியான சமன்பாட்டை கண்டுபிடி



e. விடை தெரியவில்லை

74. Choose the correct statements about inflation

- (i) The general level of prices for goods and services is rising  
(ii) The Purchasing power of currency is Falling  
(iii) The value of money is rising

- a. (i) and (ii)  
b. (ii) and (iii)  
c. (i) and (iii)  
d. (i), (ii) and (iii)  
e. Answer not known

பணவீக்கம் பற்றிய கூற்றுகளில் சரியானவை எவை?

- (i) பண்டங்கள் மற்றும் பணிகள் மீதான பொதுவிலைமட்ட அதிகரிப்பு.  
(ii) பணத்தின் வாங்கும் சக்தி குறைவதைக் குறிக்கிறது.  
(iii) பணத்தின் மதிப்பு உயர்கிறது.

- a. (i) மற்றும் (ii)  
b. (ii) மற்றும் (iii)  
c. (i) மற்றும் (iii)  
d. (i), (ii) மற்றும் (iii)  
e. விடை தெரியவில்லை



75. When two objects of same mass are heated at equal rates, the object with smaller specific heat capacity will have a \_\_\_\_\_  
a. faster temperature increase                      b. Temperature decrease  
c. Drop faster    d. No change  
e. Answer not known  
ஒரே நிறையுடைய இரண்டு வெவ்வேறு பொருட்களை ஒரே வீதத்தில் வெப்பப்படுத்தும் பொது, குறைந்த தன்வெப்ப ஏற்புத்திறனுடைய பொருளின் \_\_\_\_\_  
a. வெப்பநிலை வேகமாக அதிகரிக்கும்                      b. வெப்பநிலை குறையும்  
c. வெப்பநிலை வேகமாக குறையும்                      d. மாற்றம் இல்லை  
e. விடை தெரியவில்லை
76. If  $A : B = 2 : 3$ ,  $B : C = 4 : 5$  and  $C : D = 6 : 7$  then  $A : B : C : D$  is  
a. 15: 30 : 34 : 40                      b. 15: 30 : 34 : 40                      c. 24 : 30 : 16 : 35  
d. 16 : 24 : 30 : 35                      e. Answer not known  
 $A : B = 2 : 3$ ,  $B : C = 4 : 5$  and  $C : D = 6 : 7$  எனில்  $A : B : C : D$  இன் மதிப்பு காண்க  
a. 15: 30 : 34 : 40                      b. 15: 30 : 34 : 40                      c. 24 : 30 : 16 : 35  
d. 16 : 24 : 30 : 35                      e. விடை தெரியவில்லை
77. The given number 7386038 is divisible by  
a. 9                      b. 11                      c. 7                      d. 3                      e. Answer not known  
7386038 என்ற எண் கீழே கொடுக்கப்பட்ட எந்த எண்ணால் மட்டும் வகுபடும்  
a. 9                      b. 11                      c. 7                      d. 3                      e. விடை தெரியவில்லை
78. A flood relief camp has food stock by which 80 people can be benefited for 60 days. After 10days 20 more people have joined the camp. Calculate the number of days of food **shortage** due to the addition of 20 more people?  
a. 20 days                      b. 40 days                      c. 8 days  
d. 10days                      e. Answer not known  
ஒரு வெள்ள நிவாரண முகாமில் 80 நபர்களுக்குத் தேவையான உணவு 60 நாட்களுக்குப் போதுமானதாக உள்ளது. 10 நாட்களுக்குப் பின்னர், 20 நபர்கள் அந்த முகாமில் வந்து சேர்ந்தார்கள் எனில், எத்தனை நாட்களுக்கு உணவு தட்டுப்பாடு ஏற்படும்?  
a. 20 நாட்கள்                      b. 40 நாட்கள்                      c. 8 நாட்கள்  
d. 10 நாட்கள்                      e. விடை தெரியவில்லை
79. 6 women or 8 men can construct a room in 86 days. How long will it take for 7 women and 5 men to do the same type of room?  
a. 28 days                      b. 48 days                      c. 63 days  
d. 86 days                      e. Answer not known  
6 பெண்கள் அல்லது 8 ஆண்கள் ஓர் அறையை 86 நாட்களில் கட்டி முடிப்பர். அது போன்ற அறையை 7 பெண்கள் மற்றும் 5 ஆண்கள் கட்டி முடிக்க எத்தனை நாட்கள் ஆகும்?  
a. 28 நாட்கள்                      b. 48 நாட்கள்                      c. 63 நாட்கள்  
d. 86 நாட்கள்                      e. விடை தெரியவில்லை

80. The bacteria in a culture grows by 5% in the first hour, decreases by 8% in the second hour and again increases by 10% in the third hour. Find the count of the bacteria at the end of 3 hours, if its initial count was 10000.

- a. 10264                      b. 10500                      c. 10626  
d. 10726                      e. Answer not known

ஒரு வகை பாக்டீரியா, முதலாவது ஒரு மணி நேரத்தில் 5% வளர்ச்சியும், இரண்டாவது மணி நேரத்தில் 8% வளர்ச்சிக் குன்றியும், மூன்றாவது மணி நேரத்தில் 10% வளர்ச்சியும் அடைகிறது. முதலில் அதன் எண்ணிக்கை 10000 ஆக இருந்தது எனில், மூன்று மணி நேரத்திற்குப் பிறகு அதன் எண்ணிக்கையைக் காண்க

- a. 10264                      b. 10500                      c. 10626  
d. 10726                      e. விடை தெரியவில்லை

81. The blanket immunity provided to acts in IX schedule was removed by

- a. Keshavananda Bharathi case, 1973                      b. Minerva Mills case, 1980  
c. LIC of India case, 1995                      d. IR Coelho case, 2007  
e. Answer not known

ஒன்பதாவது அட்டவணைக்கு வழங்கப்பட்ட பாதுகாப்பு எதன்படி அகற்றப்பட்டது?

- a. கேசவனந்த பாரதி வழக்கு, 1973                      b. மினர்வாமில் வழக்கு, 1980  
c. LIC இந்தியா வழக்கு, 1995                      d. IR கோயில்வோ வழக்கு, 2007  
e. விடை தெரியவில்லை

82. Match the following with correct answer:

- A. Parathion                      1. thiocarbamate fungicide  
B. Nabam                      2. non-systematic fungicide  
C. Captan                      3. organo phosphorous insecticide  
D. Carboxin                      4. systematic fungicide

- |    | A | B | C | D |
|----|---|---|---|---|
| a. | 2 | 1 | 3 | 4 |
| b. | 3 | 2 | 4 | 1 |
| c. | 2 | 4 | 1 | 3 |
| d. | 3 | 1 | 2 | 4 |

e. Answer not known

சரியான விடைகளோடு பொருத்துக

- A. பாரதியான்                      1. தயோ கார்பமேட் பூஞ்சைக் கொல்லி  
B. நபாம்                      2. ஒழுங்கற்ற பூஞ்சைக் கொல்லி  
C. கேப்டான்                      3. கரிம பாஸ்பரஸ் பூச்சிக் கொல்லி  
D. கார்பாக்ஸின்                      4. ஒழுங்கான பூஞ்சைக் கொல்லி

- |    | A | B | C | D |
|----|---|---|---|---|
| a. | 2 | 1 | 3 | 4 |
| b. | 3 | 2 | 4 | 1 |
| c. | 2 | 4 | 1 | 3 |
| d. | 3 | 1 | 2 | 4 |

e. விடை தெரியவில்லை

83. India's first food security museum was launched in  
a. Nellore b. Amritsar c. Hyderabad  
d. Thanjavur e. Answer not known  
இந்தியாவின் முதல் உணவுப் பாதுகாப்பு அருங்காட்சியகம் தொடங்கப்பட்ட இடம்  
\_\_\_\_\_  
a. நெல்லூர் b. அமிர்தசரஸ் c. ஹைதராபாத்  
d. தஞ்சாவூர் e. விடை தெரியவில்லை
84. Who among the following had considerable influence on Shivaji?  
1. Ramdas 2. Vidyaranya 3. Tukaram 4. Chaitanya  
a. 2, 3, 4 only b. 1, 3 only c. 1, 4 only  
d. 2, 4 only e. Answer not known  
பின்வருபவர்களில் சிவாஜியிடம் அதிக செல்வாக்கு பெற்றவர்கள் யார்?  
1. இராம்தாஸ் 2. வேதாரன்யர் 3. துக்காராம் 4. சைதன்யர்  
a. 2, 3, 4 மட்டும் b. 1, 3 மட்டும் c. 1, 4 மட்டும்  
d. 2, 4 மட்டும் e. விடை தெரியவில்லை
85. Consider about Madras Mahajana Sabha  
I. Earliest organisation in South India with clear nationalist objectives.  
II. P. Anandacharlu became its first President.  
a. I only true b. II only true c. Both true  
d. Both false e. Answer not known  
மெட்ராஸ் மகாஜன சபை குறித்த கூற்றுகளை ஆராய்க  
I. தேசியக் குறிக்கோள்களைத் தெளிவாகக் கொண்ட தென்னிந்தியாவின்  
ஆரம்பகால அமைப்பு  
II. இதன் முதல் தலைவர் அனந்தச்சார்லு  
a. I மட்டும் சரி b. II மட்டும் சரி c. இரண்டும் சரி  
d. இரண்டும் தவறு e. விடை தெரியவில்லை
86. Justice party won \_\_\_ seats out of 98 elected seats in 1920 legislative council election of Madras.  
a. 63 b. 64 c. 65 d. 66 e. Answer not known  
1920ல் நடைபெற்ற மெட்ராஸ் சட்டசபைத் தேர்தலில் 98 தேர்ந்தெடுக்கப்பட்ட உறுப்பினரில் நீதிக்கட்சி சார்பில் வெற்றிபெற்ற இடங்கள் \_\_\_\_\_  
a. 63 b. 64 c. 65 d. 66 e. விடை தெரியவில்லை
87. Consider the following statements.  
1. The Appellate jurisdiction of High Court is wider than its original Jurisdiction.  
2. Appeals from the decisions of the administrative tribunals lies to the individual judge of High Court.  
a. Both are correct b. 1 only correct c. 2 only correct  
d. Both are wrong e. Answer not known

பின்வரும் கூற்றுகளை ஆராய்க.

1. உயர்நீதிமன்றத்தின் மேல்முறையீட்டு அதிகார வரம்பு அதன் மூலவழக்கு அதிகார வரம்பை விட விரிவானது.
2. நிர்வாகத் தீர்ப்பாயங்களின் முடிவுகளில் இருந்து பெறப்படும் மேல்முறையீடுகள் உயர்நீதிமன்றத்தின் தனிப்பட்ட நீதிபதியைச் சார்ந்தது.

- a. இரண்டும் சரி                                  b. 1 மட்டும் சரி                                  c. 2 மட்டும் சரி  
d. இரண்டும் தவறு                                 e. விடை தெரியவில்லை

88. In Tamilnadu Khilafat day meeting was presided over by \_\_\_\_.

- a. Mohammed Ali                                  b. Shaukat Ali    c. Maulana Azad  
d. Gandhi    e. Answer not known

தமிழ்நாடு கிலாபாத் தினக் கூட்டம் யார் தலைமையில் அனுசரிக்கப்பட்டது?

- a. முகம்மது அலி    b. சவுகத் அலி    c. மௌலானா ஆசாத்  
d. காந்தி    e. விடை தெரியவில்லை

89. Deductive reasoning enhances the speed and efficiency \_\_\_\_\_ problems.

- a. in solving    b. in creating    c. in initiating  
d. in imitating    e. Answer not known

பிரச்சினைகளை \_\_\_\_\_ வேகத்தையும் திறனையும் பகுத்தறிதல் ஆய்வு திறன் மேம்படுத்துகிறது.

- a. தீர்ப்பதில்    b. உருவாக்குவதில்    c. துவக்க முயற்சியில்  
d. போலீஸ் செய்வதில்    e. விடை தெரியவில்லை

90. Which committee recommended official participation of political parties at all three levels of panchayat elections?

- a. Balwant Rai Mehta    b. Ashok Mehta    c. GVK Rao  
d. LM Singhvi    e. Answer not known

பஞ்சாயத்து தேர்தல்களின் 3 நிலைகளிலும் அரசியல் கட்சிகளின் அதிகாரப்பூர்வ பங்கேற்பை பரிந்துரைத்த குழு?

- a. பல்வந்தராய் மேத்தா குழு    b. அசோக் மேத்தா குழு    c. ஜிவிகே ராவ் குழு  
d. LM சிங்வி குழு    e. விடை தெரியவில்லை

91. During civil disobedience movement in Tamilnadu, who hoisted national flag atop Fort St.George?

- a. T. Prakasam    b. N.M.R. Subbaraman    c. Bhashyam  
d. Nageshwara Rao    e. Answer not known

செயிண்ட் ஜார்ஜ் கோட்டை, தமிழ்நாட்டில் சட்ட மறுப்பு இயக்கத்தின்போது தேசியக்கொடி ஏற்றியவர்?

- a. டி.பிரகாசம்    b. என்.எம்.ஆர். சுப்பாராமன்    c. பாஷ்யம்  
d. நாகேஷ்வர ராவ்    e. விடை தெரியவில்லை

92. Match the following:

Conference	Year	Place
A. Cop 15	1. 2009	i. Cancun
B. Cop 16	2. 2010	ii. Copenhagen
C. Cop 17	3. 2011	iii. Paris
D. Cop 21	4. 2015	iv. Durban

- a. a-1-iii      b-2-ii      c-3-iv      d-4-i  
b. a-1-i      b-2-ii      c-3-iii      d-4-iv  
c. a-1-ii      b-2-iii      c-3-i      d-4-iv  
d. a-1-ii      b-2-i      c-3-iv      d-4-iii

e. Answer not known

பொருத்துக:

மாநாடு	ஆண்டு	இடம்
A. COP 15	1 2009	i. Cancun
B. COP 16	2. 2010	ii. கோபன்ஹெகன்
C. COP 17	3. 2011	iii. பாரிஸ்
D. COP 21	4. 2015	iv. Durban

- a. a-1-iii      b-2-ii      c-3-iv      d-4-i  
b. a-1-i      b-2-ii      c-3-iii      d-4-iv  
c. a-1-ii      b-2-iii      c-3-i      d-4-iv  
d. a-1-ii      b-2-i      c-3-iv      d-4-iii

e. விடை தெரியவில்லை

93. Identify the incorrect definition.

- a. Budget Deficit = Total Expenditure - Total Revenue.  
b. Fiscal Deficit = Budget deficit + Government's market borrowings and liabilities.  
c. Primary Deficit = Fiscal Deficit + Interest payments  
d. Revenue Deficit = Total Revenue Expenditure - Total Revenue Receipts  
e. Answer not known

தவறான வரையறையைத் தேர்ந்தெடு.

- a. வரவு செலவு திட்ட பற்றாக்குறை = மொத்த செலவு - மொத்த வரவு  
b. நிதிப்பற்றாக்குறை = வரவு செலவு திட்ட பற்றாக்குறை + அரசின் அங்காடிக் கடன்களும் ஏனைய பொறுப்புக்களும்  
c. முதன்மைப்பற்றாக்குறை = நிதிப்பற்றாக்குறை + வட்டி செலுத்துதல்  
d. வருவாய் பற்றாக்குறை = மொத்த வருவாய் செலவினம் - மொத்த வருவாய் வரவுகள்

e. விடை தெரியவில்லை

94. The objectives of fiscal policy include.

- i. Full employment      ii. Capital formation      iii. Equitable distribution  
iv. Exchange stability      v. Regional balance  
a. i, ii, iii      b. ii, iv, v      c. i, iii, iv, v  
d. all the above      e. Answer not known

நிதிக் கொள்கையின் நோக்கங்கள் எவை?

- i. முழுவேலைவாய்ப்பு      ii. மூலதன உருவாக்கம்      iii. சமமான பகிர்வு  
iv. நாணய மாற்று வீத சமநிலை      v. சமவட்டார வளர்ச்சி  
a. i, ii, iii      b. ii, iv, v      c. i, iii, iv, v  
d. மேற்கூறிய அனைத்தும்      e. விடை தெரியவில்லை

95. Which of the following prepares the uterus for the implantation of the embryo?  
a. progesterone                      b. Estrogen                      c. FSH  
d. Corticosterone                      e. Answer not known  
பின்வருவனவற்றுள் எது கரு பதிவதற்கு கருப்பையை தயார் செய்கிறது.  
a. புரோஜெஸ்டீரோன்                      b. ஈஸ்ட்ரோஜன்                      c. FSH  
d. கார்டிகோஸ்டீரான்                      e. விடை தெரியவில்லை
96. Find the amount that Dravid would receive if he invests ` 8,192 for 18 months at 12½% per annum, the interest being compounded half - yearly.  
a. ₹10,200                      b. ₹9,826                      c. ₹9,126  
d. ₹ 8,926                      e. Answer not known  
அரையாண்டிற்கு ஒரு முறை வட்டி கூட்டும் முறையில் திராவிட் ₹8192 ஐ, 18 மாதங்களுக்கு, 12½% ஆண்டு வட்டி வீதம் கொடுப்பதில் முதலீடு செய்தார். அவருக்குக் கிடைக்கும் மொத்தத் தொகை எவ்வளவு?  
a. ₹10,200                      b. ₹9,826                      c. ₹9,126  
d. ₹ 8,926                      e. விடை தெரியவில்லை
97. In the following number series only one term is wrong. Find out the wrong term.  
1, 5, 13, 31, 61, 125, 253  
a. 1                      b. 5                      c. 31                      d. 61                      e. Answer not known  
பின்வரும் எண் தொடரில், ஒரே ஒரு எண் மட்டும் தவறானது. அந்த எண்ணைக் கண்டுபிடிக்கவும்?  
1, 5, 13, 31, 61, 125, 253  
a. 1                      b. 5                      c. 31                      d. 61                      e. விடை தெரியவில்லை
98. If the letters in the English alphabets A to M represent the number from 1 to 13 respectively and N represents 0 and the letters O to Z correspond from -1 to -12, find the sum of integers representing 'SUCCESS'.  
a. - 9                      b. 16                      c.10                      d. - 11                      e. Answer not known  
A யிலிருந்து M வரையிலான ஆங்கில எழுத்துகள், முறையே 1 லிருந்து 13 வரையான எண்களைக் குறிக்கின்றன; N என்பது 0 ஐக் குறிக்கிறது O விலிருந்து Z வரையான ஆங்கில எழுத்துகள் முறையே (- 1) லிருந்து (- 12) வரையிலான எண்களைக் குறிக்கின்றன எனில் SUCCESS என்ற ஆங்கில வார்த்தைகளுக்கான முழுக்களின் கூடுதலைக் காண்க.  
a. - 9                      b. 16                      c.10                      d. - 11                      e. விடை தெரியவில்லை
99. The population of a village is 32,000. 40% of them are men. 25% of them are women and the rest are children. Find the number of men and children.  
a. 12200 men, 11800 children                      b. 12800 men, 11200 children  
c. 12220 men, 12200 children                      d. 12200 men, 11200 children  
e. Answer not known  
ஒரு கிராமத்தின் மக்கள் தொகை 32,000 உள்ளனர். அவர்களில் 40% ஆண்கள், 25% பெண்கள், மீதம் உள்ளோர் குழந்தைகள். ஆண்கள் மற்றும் குழந்தைகளின் எண்ணிக்கையைக் காண்க.  
a. 12200 ஆண்கள், 11800 குழந்தைகள்                      b. 12800 ஆண்கள், 11200 குழந்தைகள்  
c. 12220 ஆண்கள், 12200 குழந்தைகள்                      d. 12200 ஆண்கள், 11200 குழந்தைகள்  
e. விடை தெரியவில்லை

100. Five years ago a man was seven times as old as his son. Five years hence, the father will be three times as old as his son. Find the present age of the father.  
a. 35                      b. 40                      c.42                      d. 48                      e. Answer not known  
ஐந்து ஆண்டுகளுக்கு முன்பு, ஒருவருடைய வயதானது தனது மகனின் வயதைப்போல் ஏழு மடங்காகும். ஐந்து வருடங்கள் கழித்து, அவரது வயதானது மகனின் வயதைப்போல் மூன்று மடங்காக இருக்கும் எனில் தந்தையின் தற்போதைய வயதைக் காண்க  
a. 35                      b. 40                      c.42                      d. 48                      e. விடை தெரியவில்லை
101. Taken for a ride - appropriate meaning for idiom  
a. uplifted                      b. safeguarded                      c. discourage  
d. deceived                      e. Answer not known
102. The famous works of "Treasure island, Kidnapped, strange case of Dr. Jekyll and Mr. Hyde and A child garden of verses" is written by  
a. R.L. Stevenson                      b. James falconer Kirkup  
c. Rudyard Kipling                      d. Ruskin Bond  
e. Answer not known
103. When asked to reconsider his decision, put his foot down  
a. accepted                      b. felt happy                      c. refused  
d. angry                      e. Answer not known
104. Who is the author of the story The Three Questions?  
a. Tagore                      b. Tolstoy                      c. Kellogg  
d. Nehru                      e. Answer not known
105. Which poet is came to be known as "The poet laureate of Michigan?"  
a. William Shakespeare                      b. Edgar Albert Guest  
c. William Blake                      d. Rudyard Kipling  
e. Answer not known
106. Choose correct compound word: duty free  
a. Noun + Adjective                      b. Adverb + Verb  
c. Adverb + Noun                      d. Adjective + Noun  
e. Answer not known
107. Memories of My Dad was written by  
a. Rebecca                      b. Shamir                      c. Jane d. Emily  
d. Dickinson                      e. Answer not known
108. Who said, " educate a man and you educate an individual educate a woman and you educate a family"  
a. G.D. Anderson                      b. A. Cripps                      c. Melinda Gates  
d. Maya Angelou                      e. Answer not known

109. Match the following
- |                 |                         |
|-----------------|-------------------------|
| A. Outgoing     | 1. Adjective + Verb     |
| B. Under rate   | 2. Preposition + gerund |
| C. Afternoon    | 3. Preposition+ Verb    |
| D. Short change | 4. Preposition + Noun   |
- |    |   |   |   |   |
|----|---|---|---|---|
|    | A | B | C | D |
| a. | 2 | 3 | 4 | 1 |
| b. | 2 | 3 | 1 | 4 |
| c. | 1 | 2 | 3 | 4 |
| d. | 4 | 3 | 2 | 1 |
- e. Answer not known
110. "It's part of a man when his skies are blue" identify the above poem
- |              |                     |                            |
|--------------|---------------------|----------------------------|
| a. Team Work | b. Courage          | c. Stick together families |
| d. Life      | e. Answer not known |                            |
111. Match the following
- |                  |                       |
|------------------|-----------------------|
| A. White wash    | 1. Verb + gerund      |
| B. Type writing  | 2. Verb + preposition |
| C. Give up       | 3. Adverb + Noun      |
| D. Under garment | 4. Adjective + verb   |
- |    |   |   |   |   |
|----|---|---|---|---|
|    | A | B | C | D |
| a. | 1 | 2 | 3 | 4 |
| b. | 4 | 1 | 2 | 3 |
| c. | 4 | 1 | 3 | 2 |
| d. | 4 | 3 | 2 | 1 |
- e. Answer not known
112. The lost world was written by
- |                 |                     |                |
|-----------------|---------------------|----------------|
| a. Joseph bell  | b. Conan Doyle      | c. Shakespeare |
| d. Mary Frances | e. Answer not known |                |
113. In the poem "Sea Fever" the poet wants to lead a life at sea like
- |                              |                         |
|------------------------------|-------------------------|
| a. The penguins and sharks   | b. The gulls and whales |
| c. the pelicans and dolphins | d. None                 |
- e. Answer not known
114. Here is the watch that you asked
- |       |         |        |       |                     |
|-------|---------|--------|-------|---------------------|
| a. of | b. from | c. for | d. at | e. Answer not known |
|-------|---------|--------|-------|---------------------|
115. John Masefield was appointed as poet laureate of United Kingdom in the year
- |         |                     |         |
|---------|---------------------|---------|
| a. 1950 | b. 1903             | c. 1930 |
| d. 1901 | e. Answer not known |         |



116. Which among the following is incorrect?  
 a. Earth Herald - Francis Bennett  
 b. Prophet of Technology - Jules Verne  
 c. The drowned sailor - Kirkup  
 d. The Catbird Seat - L.M.Montgomery  
 e. Answer not known
117. I am always the winner \_\_\_\_\_?  
 a. am I                                      b. aren't I                                      c. have I  
 d. amn't I                                      e. Answer not known
118. It's so absent-minded, that I don't know what to do - identify the figure of speech  
 a. personification                                      b. metaphor                                      c. hyperbole  
 d. simile                                      e. Answer not known
119. The story tries to relate history to science \_\_\_\_\_?  
 a. is it                                      b. isn't it                                      c. does it  
 d. doesn't it                                      e. Answer not known
120. Who was the founding member of the communist party of Ireland?  
 a. Liam o' Flaherty                                      b. Alphonse Daudet                                      c. James Kirkup  
 d. Nathaniel Hawthorne                                      e. Answer not known
121. "my computer has always been so brainy and smart" who is referred to here as "my"  
 a. Shanthini Govindhan                                      b. Rudyard Kipling                                      c. John Keats  
 d. Caroline Ann Bowles                                      e. Answer not known
122. Reading made him a complete man  
 a. SVOC                                      b. SVIODO                                      c. SVOA  
 d. SVAC                                      e. Answer not known
123. "That for themselves a cooling covert make"  
 Identify the poem  
 a. Stick together families                                      b. A thing of beauty                                      c. courage  
 d. team work                                      e. Answer not known
124. Glimpses of World History (1942) is a collection \_\_\_\_\_ letters on world history.  
 a.198                                      b. 192                                      c. 196                                      d. 198                                      e. Answer not known
125. My brother is going to Bengaluru  
 a. SVC                                      b. SVO                                      c. SVA  
 d. SVIO                                      e. Answer not known

126. According to poet, a thing of beauty is a \_\_\_\_\_  
 a. Joy Forever            b. A pain Forever            c. A suffering forever  
 d. neglected            e. Answer not known
127. To bake a \_\_\_\_\_ shaped cake, you'll need some \_\_\_\_\_  
 a. flower, flour            b. flour, flower            c. floor, flower  
 d. None of these            e. Answer not known
128. At what age Sachin Tendulkar met Achrekar for the first time?  
 a. 12            b. 11            c. 14            d. 15            e. Answer not known
129. Identify the figure of speech  
 "One aspiration yet unfelt  
 One bit of courage"  
 a. simile            b. anaphora            c. personification  
 d. metaphor            e. Answer not known
130. Select the correct voice  
 He is making coffee / coffee \_\_\_\_\_  
 a. is being made            b. will be made            c. has been made  
 d. was being made            e. Answer not known
131. Identify the poem  
 "To brave the thickening ills of life"  
 a. Stick together families            b. I am every women  
 c. making life worth while            d. Life  
 e. Answer not known
132. Who said, "A blessing rests on the house where the shadow of a tree falls"?  
 a. Grand mother            b. Uncle            c. Grand father  
 d. The visitor            e. Answer not known
133. Pick out the correct answer  
 I \_\_\_\_\_ (be) to this restaurant many times since I moved next door  
 a. had been            b. have been            c. has been  
 d. will been            e. Answer not known
134. Comets are believed to be remnants of the materials created by the  
 a. moon            b. sun            c. star            d. asteroids            e. Answer not known
135. Fill in the blank with correct tense of the verb given  
 More and more people \_\_\_\_\_ (use) cell phones to access the internet  
 a. is using            b. using            c. are using  
 d. was using            e. Answer not known

136. Who among the following was the biographer of Abraham Lincoln?  
 a. Walt witman                      b. Carl sanderberg    c. O. Henry  
 d. Stephen le coke                  e. Answer not known
137. Where did the poet and endymion live?  
 a. in ahut                              b. on a hill                      c. in a tree house  
 d. on Mount Latmos              e. Answer not known
138. Choose the correct tense form  
 I \_\_\_\_\_ (work) in New York this week  
 a. were working    b. had been working                      c. am working  
 d. have working    e. Answer not known
139. What does the poet equate killing trees with?  
 a. Killing dogs                      b. Killing insects                      c. Killing worms  
 d. Killing Human beings    e. Answer not known
140. "I am fighting for my future." The 'fight' refers to her \_\_\_\_\_  
 a. fight to win an election  
 b. fight to gain a few points in share market  
 c. fight against corruption  
 d. fight against environmental pollution  
 e. Answer not known
141. The American English word for "caravan"  
 a. trailer                      b. car                      c. van  
 d. shoot but                  e. Answer not known
142. A gypsy's life is  
 a. monotonous                      b. luxurious                      c. full of uncertainty  
 d. full of rest                      e. Answer not known
143. The British English word for "Sink"  
 a. Wash basin                      b. Basin                      c. Dust bin  
 d. Tin                      e. Answer not known
144. What is the theme of the little cyclone Story of a Grizzly Cub?  
 a. Will power                      b. self-confidence  
 c. triumph over brute strength    d. all the above  
 e. Answer not known
145. "Seems it was sent to me  
 From someplace up above"  
 What do the lines tells us?

- a. About her life  
b. About her father is sent to her from heaven  
c. About her father is sent to her from sky  
d. All of these  
e. Answer not known
146. He picked up \_\_\_\_\_ one rupee coin  
a. an                      b. a                      c. the                      d. no article                      e. Answer not known
147. What does "morrow" mean?  
a. Afternoon                      b. evening                      c. night  
d. following day                      e. Answer not known
148. Identify the character or speaker of the following lines  
That is, I believe they do.  
a. Aunt Polly                      b. Tom Sayer                      c. Becky Thatcher  
d. peter                      e. Answer not known
149. Match the following  
A. Get over                      1. Present, distribute  
B. Get round                      2. Persuade  
c. Give away                      3. Recover  
A                      B                      C  
a.                      3                      2                      1  
b.                      2                      1                      3  
c.                      3                      1                      2  
d.                      1                      2                      3  
e. Answer not known
150. What do the smallest gifts deserve?  
a. Thanks                      b. gratitude                      c. Sorrow  
d. a and b                      e. Answer not known
151. The correct plural form of "apparatus"  
a. apparatuses                      b. apparati                      c. apparatusis  
d. apparaties                      e. Answer not known
152. The Envious Neighbour is a \_\_\_\_\_ folk tale  
a. Chinese                      b. Japanese                      c. Aesop's  
d. Greek                      e. Answer not known
153. Identify the poetic lines from the poem "when I was a baby"  
a. I am every women                      b. courage                      c. Special Hero  
d. lessons in life                      e. Answer not known

154. Find the word given below cannot have the prefix – “dis”  
a. appear    b. Honest    c. Ness    d. Like    e. Answer not known
155. Identify the figure of speech  
“It’s the old home roof that shelters all the charm that life can give”  
a. Metaphor    b. Imagery    c. Personification  
d. Hyperbole    e. Answer not known
156. Ruskin bond got sahitya academy award in1992 for his work\_\_\_\_\_  
a. The Blue Umbrella    b. Our Trees Still Grow in Dehra  
c. I Can’t Climb Trees Anymore    d. all the above  
e. Answer not known
157. Choose the right combination of “Blending words” for “spork”  
a. Spoon + Pork    b. Spoon + Fork    c. Spill + cork  
d. Sport + cork    e. Answer not known
158. Identify the figure of speech”  
“Though our smoke may hide the heavens from your eyes”  
a. imagery    b. connotation    c. personification  
d. Hyperbole    e. Answer not known
159. Pick out “complex” sentence  
1. The load is very heavy and so I cannot carry it  
2. The beggar is so old that he cannot run  
3. The beggar is too old to run  
4. He was wealthy but he was a miser  
a. 1    b. 3    c. 4    d. 2    e. Answer not known
160. We should never be greedy for what belongs to others’ is the theme of the story of \_\_\_\_\_  
a. Ingenious scientist    b. The Nose Jewel    c. seventeen Oranges  
d. The Envious Neighbour    e. Answer not known
161. Identify the figure of speech  
“We can pull and haul and push and lift and drive”  
a. Simile    b. Hyperbole    c. Imagery  
d. personification    e. Answer not known
162. Pick out “simple” sentence  
a. I am confident that he is innocent in this matter  
b. The shopkeeper quarrels with every customer therefore nobody likes him  
c. She is sure that he has stolen her purse  
d. Nobody could find out the place of their stay  
e. Answer not known

163. Identify the rhyming scheme  
 "But remember, please the law by which we live  
 We are not built to comprehend a lie  
 We can neither love nor pity nor forgive  
 If you make a slip in handling us you die  
 a. abab      b. abba      c. abbb      d. aabb      e. e. Answer not known
164. Who said Work is worship?  
 a. Netaji      b. Gandhiji      c. Swami Vivekananda  
 d. Kalpana Chawla      e. Answer not known
165. Pick out compound sentence  
 a. You cannot succeed without working hard  
 b. I do not know the way which leads to his house  
 c. She had purchased a book and she has lost it  
 d. A man who is fair in his dealing is always trusted  
 e. Answer not known
166. Identify the poetic lines  
 "He wished only to borrow  
 He'd repay it tomorrow" - The word "He" refers to  
 a. Aesop's fable      b. ant      c. fly  
 d. cricket      e. Answer not known
167. Ants work \_\_\_\_\_ any other insect  
 a. harder than      b. hardest      c. more hard  
 d. hardest than      e. Answer not known
168. Who among the following is not a character in the story ' the nose jewel '  
 a. Ramanatham      b. Meenakshi Ammal      c. Kuppayi  
 d. Ramayi      e. Answer not known
169. Identify the rhyming scheme  
 My heart was so light  
 That I sang day and night  
 For all nature looked gay  
 You sang sir, you say"?  
 a. aabb      b. abbb      c. abab      d. aaba      e. Answer not known
170. Give Expansion: SIM  
 a. Subscriber information module  
 b. Storage identification method  
 c. Subscriber Identification module  
 d. System identification mission  
 e. Answer not known

171. James Falconer Kirkup wrote his first book  
a. The Memoir                      b. The Drowned Sailor at the Downs in 1947  
c. Till We Win                      d. A Promised Land  
e. Answer not known
172. Who said ; “its such a nuisance having to wait for the train right in the middle of the night.”  
a. Satish                              b. Arun                              c. Mother of Satish  
d. father of Arun                      e. Answer not known
173. Give synonym: attic  
a. loft                              b. terrace                              c. apartment  
d. strong room                      e. Answer not known
174. Identify the poem  
“They, too, aware of sun and air and water”  
a. Special hero                      b. A Poison Tree                      c. On Killing a Tree  
d. No men are foreign                      e. Answer not known
175. Give Antonym: Indulged  
a. Took park                      b. Participated                      c. Abstained  
d. Yielded                              e. Answer not known
176. The Little Hero of Holland is adopted from  
a. Etta Austin Blaisdell                      b. Mary Frances Blaisdell                      c. both  
d. Silas weir Mitchell                      e. Answer not known
177. The House on Elm Street is published in the year \_\_\_\_\_  
a. 2018                      b. 2017                      c. 1912                      d. 1913                      e. Answer not known
178. Identify the compound sentence  
a. Having completed the work, he went home  
b. He completed the work and then he went home  
c. After he had completed the work, he went home  
d. They having donated him money, he went abroad for studies  
e. Answer not known
179. Identify the poetic lines  
“it never grows leaves”  
a. Nadia Bush                      b. William Blake                      c. John Keats  
d. Dr. Gieve Pabel                      e. Answer not known
180. True Stories from History and Biography [1851] was the biography of  
a. Nathaniel Hawthorne                      b. Albert Einstein                      c. Isaac newton  
d. Nehru                              e. Answer not known

181. Fill in the conditional clause appropriately  
 If I \_\_\_\_ (have) my credit card with me now, I \_\_\_\_ (buy) that diamond necklace  
 a. had, would have bought      b. having, buying      c. had been, bought  
 d. have, have bought      e. Answer not known
182. Identify the poetic lines  
 "And miles to go before I sleep  
 And miles to go before I sleep"  
 a. John Keats      b. James Falconer Kirkup      c. Rudyard Kipling  
 d. Robert Frost      e. Answer not known
183. Choose the most appropriate form of the verb  
 She enjoys \_\_\_\_ the piano  
 a. play      b. played      c. playing  
 d. to play      e. Answer not known
184. Tagore published 'My Reminiscences' in his fiftieth year, shortly before he started on a trip to  
 a. Europe and Asia      b. Europe and Africa      c. Europe and America  
 d. Europe and Australia      e. Answer not known
185. Hans Brinker was the best-known novel for \_\_\_\_\_  
 a. William Thackrey      b. Silas weir Mitchell      c. Alphonse Daudet  
 d. Mary Mapes dodge      e. Answer not known
186. Pick odd one out  
 a. The Road not taken      b. After Apple Picking      c. West running Brook  
 d. Jungle Book      e. Answer not known
187. Choose the right the combination for "modem"  
 a. mo + dem      b. module + demo      c. modulator + demo  
 d. modulator + demodulator      e. Answer not known
188. Identify the poetic lines  
 "He" gives his harness bells a shake  
 To ask if there is some mistake  
 The word "He" refers to?  
 a. Horse      b. Author      c. Forest  
 d. Owner of Woods      e. Answer not known
189. "Let us not remember our troubles past, since they so happily ended" These are the words of  
 a. Prospero      b. Antonio      c. Ariel  
 d. Duke of Milan      e. Answer not known



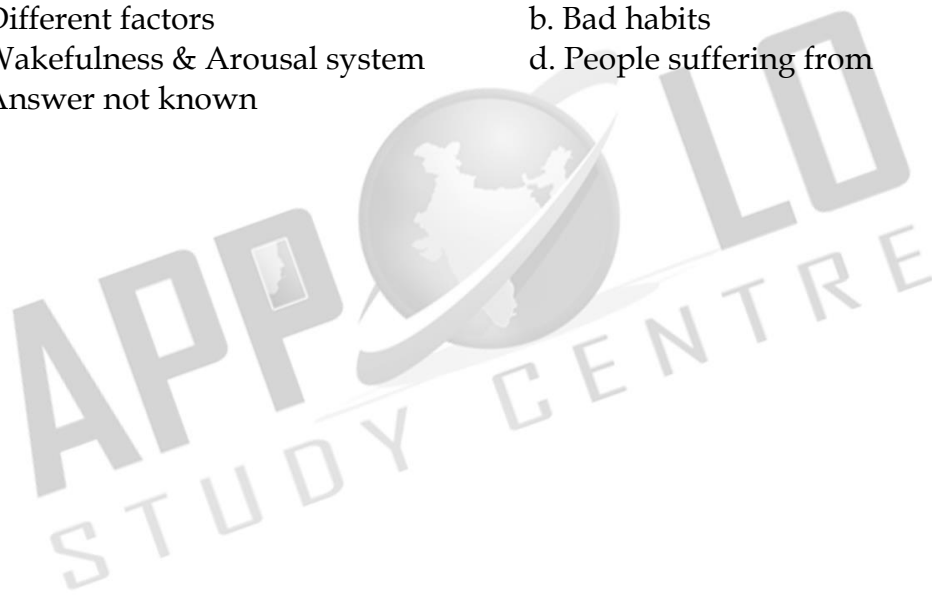
190. Study of "Cynology" is called  
 a. study of dog training                      b. study of elephants  
 c. study of biodiversity                      d. study of ecosystem  
 e. Answer not known
191. How many years had M.Hamel been in the village ?  
 a. 36                      b. 48                      c. 30                      d. 40                      e. Answer not known
192. "The Lamb" and "The Tiger" the famous poems are written by  
 a. Henry Van Dyke                      b. Nadia Bush                      c. Rudyard Kipling  
 d. William Blake                      e. Answer not known
193. If I were a millionaire, I \_\_\_\_\_ the needy  
 a. will help                      b. would help                      c. would have helped  
 d. can help                      e. Answer not known
194. Tales From Shakespeare was written by  
 a. Charles lamb                      b. Rudyard Kipling                      c. Shakespeare  
 d. ben Johnson                      e. Answer not known
195. Identify the poetic lines  
 "My Foe outstretched beneath the tree"  
 a. William Blake                      b. Dr. Gieve                      c. John Keats  
 d. William Shakespeare                      e. Answer not known

**Read the passage and answer each question below in a short sentence.  
 (Q.No.196-200)**

Some people suffer from an inability to sleep, a disease called insomnia and it may be due to different factors. The first factor many be 'biological imbalance'. Sleep is caused by a sleep system and wakefulness is caused by an arousal system. Both the systems are governed by the brain. In order to have a good sleep, the arousal system must be less and the sleep system must be more. When the arousal system goes up due to tension, insomnia many occur. Drugs are the second factor. People who consume alcohol habitually become prey to insomnia. Drugs like stimulants, sedatives, certain thyroid drugs and heart medicines can cause sleeplessness. Both sleeping pills and alcohol appear to promise better sleep. But habits and disturbing environments are the third factor in making one lose his sleep. If the bedroom is too noisy or too cold it may make one keep awake. If the stomach has too little or too much food, it may cause sleeplessness. Physical exercise too close to bedtime also confuses the sleep mechanism.

196. An inability to sleep is called \_\_\_\_\_  
 a. Somnia                      b. Insomnia                      c. Shallow sleep  
 d. Sleep mechanism                      e. Answer not known

197. The sleep and arousal system are governed by the \_\_\_\_\_  
 a. Sleep mechanism                      b. Drugs    c. Heart  
 d. Brain    e. Answer not known
198. The second factor resulting in sleeplessness is \_\_\_\_\_  
 a. Exercise    b. Biological imbalance    c. Drugs  
 d. Bad habits    e. Answer not known
199. Physical exercise too close to bed time \_\_\_\_\_  
 a. Improves good memory                      b. Gives a good sleep  
 c. Disturbs the sleep mechanism                      d. Increases blood circulation  
 e. Answer not known
200. This passage is about the \_\_\_\_\_  
 a. Different factors    b. Bad habits  
 c. Wakefulness & Arousal system                      d. People suffering from  
 e. Answer not known





# MODEL EXAMINATION - 2

## GENERAL STUDIES WITH GENERAL ENGLISH

Duration : Three Hours

Total Marks : 300

Read the following instructions carefully before you begin to answer the questions.

### IMPORTANT INSTRUCTIONS

1. You will be supplied with this question booklet 15 minutes prior to the commencement of the examination.
2. This question booklet contains 200 questions. Before answering the questions, you are requested to check whether all the questions are printed serially and ensure that there are no blank pages in the question booklet. If any defect is noticed in the question booklet, it shall be reported to the invigilator within the first 10 minutes and get it replaced with a complete question booklet. If the defect is reported after the commencement of the examination, it will not be replaced.
3. **Answer all the questions. All the questions carry equal marks.**
4. You must write your register number in the space provided on the top right side of this page. Do not write anything else on the question booklet.
5. An answer sheet will be supplied to you separately by the room invigilator to shade the answers. Instructions regarding filling of answers etc., which are to be followed mandatorily, are provided in the answer sheet and in the memorandum of admission (Hall Ticket).
6. You shall write and **shade your question booklet number in the space provided on page one of the answer sheet with BLACK INK BALL POINT PEN.** If you do not shade correctly or fail to shade the question booklet number, your answer sheet will be invalidated.
7. **Each question comprises of five responses (answers): i.e. (A), (B), (C), (D) and (E). You have to select ONLY ONE correct answer from (A) or (B) or (C) or (D) and shade the same in your answer sheet.** If you feel that there are more than one correct answer, shade the one which you consider the best. **If you do not know the answer, you have to mandatorily shade (E).** In any case, choose ONLY ONE answer for each question. If you shade more than one answer for a question, it will be treated as a wrong answer even if one of the given answers happens to be correct.
8. You should not remove or tear off any sheet from this question booklet. You are not allowed to take this question booklet and the answer sheet out of the examination room during the time of the examination. After the examination, you must hand over your answer sheet to the invigilator. You are allowed to take the question booklet with you only after the examination is over.
9. You should not make any marking in the question booklet except in **the sheets before the last page of the question booklet, which can be used for rough work. This should be strictly adhered to.**
10. In all matters, the English version is final.
11. Failure to comply with any of the above instructions will render you liable for such action as the Commission may decide at their discretion.

## MODEL EXAM 2

### GENERAL STUDIES WITH GENERAL ENGLISH ANSWER

1	2	3	4	5	6	7	8	9	10
C	B	A	C	A	D	D	A	B	D
11	12	13	14	15	16	17	18	19	20
B	C	B	B	C	A	D	C	D	A
21	22	23	24	25	26	27	28	29	30
A	A	C	B	B	A	A	D	B	C
31	32	33	34	35	36	37	38	39	40
D	A	D	C	C	B	B	A	C	D
41	42	43	44	45	46	47	48	49	50
A	D	B	A	A	B	A	D	A	C
51	52	53	54	55	56	57	58	59	60
A	A	B	D	A	D	A	C	A	C
61	62	63	64	65	66	67	68	69	70
D	D	D	C	A	B	C	A	D	D
71	72	73	74	75	76	77	78	79	80
B	A	D	A	A	D	B	D	B	C
81	82	83	84	85	86	87	88	89	90
D	D	D	B	A	A	B	B	A	B
91	92	93	94	95	96	97	98	99	100
C	D	C	D	A	B	C	D	B	B

101	102	103	104	105	106	107	108	109	110
D	A	C	B	B	A	A	B	A	B
111	112	113	114	115	116	117	118	119	120
B	B	B	C	C	D	B	A	D	A
121	122	123	124	125	126	127	128	129	130
A	A	B	C	C	A	A	B	B	A
131	132	133	134	135	136	137	138	139	140
C	A	B	B	C	B	D	C	D	D
141	142	143	144	145	146	147	148	149	150
A	C	A	D	B	B	D	B	A	D
151	152	153	154	155	156	157	158	159	160
A	B	C	C	A	B	B	B	D	B

161	162	163	164	165	166	167	168	169	170
D	D	A	C	C	D	A	D	A	C
171	172	173	174	175	176	177	178	179	180
B	C	A	D	C	C	B	B	A	C
181	182	183	184	185	186	187	188	189	190
A	D	C	C	D	D	D	A	A	A
191	192	193	194	195	196	197	198	199	200
D	D	B	A	A	B	D	C	C	C

