

- A மற்றும் R சரி மற்றும் R என்பது A விற்கு சரியான விளக்கம்
- A மற்றும் R சரி மற்றும் R என்பது A விற்கு சரியான விளக்கமல்ல
- A சரி R தவறு
- A தவறு R சரி
- விடை தெரியவில்லை

4. Match the following

List I

List II

- | | |
|-------------------|---|
| A. Dancing girl | 1. Steatite sculpture from Mohenjo-Daro |
| B. Priest king | 2. Copper image from Mohenjo-Daro |
| C. Mother goddess | 3. Fire altar location |
| D. Kalibangan | 4. Terracotta figures |

பொருத்துக:

பட்டியல் I

பட்டியல் II

- | | |
|-------------------|---|
| A. நடனமாடும் பெண் | 1. மொகஞ்சதாரோவிலிருந்து கிடைத்த ஸ்டீட்டைட் (Steatite) சிற்பம் |
| B. பூசாரி அரசர் | 2. மொகஞ்சதாரோவிலிருந்து கிடைத்த செப்புச் சிலை |
| C. தாய் தெய்வம் | 3. தீபீடம் அமைந்த இடம் |
| D. காலிபங்கன் | 4. சுடுமண் உருவங்கள் |

	A	B	C	D
a.	2	1	4	3
b.	1	2	3	4
c.	3	4	1	2
d.	4	3	2	1

e. Answer not known

5. Which part of the subcontinent were people primarily "given to hunting and gathering" during the Harappan period?

- | | |
|-------------------------|----------------------|
| a. The Ganges valley | b. The Deccan region |
| c. Kerala and Sri Lanka | d. Kashmir |

e. Answer not known

ஹரப்பா காலத்தில், இந்தியத் துணைக்கண்டத்தின் எந்தப் பகுதியில் வாழ்ந்த மக்கள் முதன்மையாக "வேட்டையாடுதல் மற்றும் உணவு சேகரித்தலில்" ஈடுபட்டிருந்தனர்?

- | | |
|--------------------------|-------------------|
| a. கங்கைச் சமவெளி | b. தக்காணப் பகுதி |
| c. கேரளம் மற்றும் இலங்கை | d. காஷ்மீர் |

e. விடை தெரியவில்லை

6. The title 'Maharajadhiraja' was adopted by:

- | | | |
|-----------------|---------------------|-------------------|
| a. Sri Gupta | b. Ghatotkacha | c. Chandragupta I |
| d. Samudragupta | e. Answer not known | |

"மகாராஜாதிராஜா" என்ற பட்டத்தை ஏற்றுக்கொண்டவர்:

- | | | |
|--------------------|---------------------|--------------------------|
| a. ஸ்ரீ குப்தர் | b. கதோதகச்சர் | c. முதலாம் சந்திரகுப்தர் |
| d. சமுத்திரகுப்தர் | e. விடை தெரியவில்லை | |

7. Assertion (A): Samudragupta's direct control was confined to the Ganges valley.
Reason (R): He annexed all the kingdoms he defeated across India.
- Both A and R are true and R is the correct explanation of A
 - Both A and R are true but R is not the correct explanation of A
 - A is true but R is false
 - A is false but R is true
 - Answer not known
- கூற்று (A): சமுத்திரகுப்தரின் நேரடிக் கட்டுப்பாடு கங்கைச் சமவெளிப் பகுதிக்கு மட்டுமே வரையறுக்கப்பட்டிருந்தது.
காரணம் (R): இந்தியா முழுவதும் தான் வெற்றி கொண்ட அனைத்து இராச்சியங்களையும் அவர் தன் பேரரசுடன் இணைத்துக்கொண்டார்.
- A மற்றும் R சரி மற்றும் R என்பது A விற்கு சரியான விளக்கம்
 - A மற்றும் R சரி மற்றும் R என்பது A விற்கு சரியான விளக்கமல்ல
 - A சரி R தவறு
 - A தவறு R சரி
 - விடை தெரியவில்லை
8. The great king of the Gupta dynasty who successfully repulsed the Huns was:
- Chandragupta II
 - Kumara Gupta I
 - Skanda Gupta
 - Vishnu Gupta
 - Answer not known
- ஹூணர்களை வெற்றிகரமாகத் தோற்கடித்து விரட்டியடித்த குப்த அரசர் யார்?
- இரண்டாம் சந்திரகுப்தர்
 - முதலாம் குமாரகுப்தர்
 - ஸ்கந்தகுப்தர்
 - விஷ்ணு குப்தர்
 - விடை தெரியவில்லை
9. Which Gupta ruler was the first to issue silver coins?
- Samudragupta
 - Chandragupta I
 - Chandragupta II
 - Kumara Gupta I
 - Answer not known
- வெள்ளி நாணயங்களை முதலில் வெளியிட்ட குப்த ஆட்சியாளர் யார்?
- சமுத்திரகுப்தர்
 - சந்திரகுப்தர் I
 - சந்திரகுப்தன் II
 - குமார குப்தர் I
 - விடை தெரியவில்லை
10. The famous Navaratnas were associated with the court of:
- Samudragupta
 - Chandragupta II
 - Kumara Gupta I
 - Skanda Gupta
 - Answer not known
- புகழ்பெற்ற நவரத்தினங்கள் நீதிமன்றத்துடன் தொடர்புடையவை:
- சமுத்திரகுப்தர்
 - சந்திரகுப்தர் II
 - குமார குப்தர் I
 - ஸ்கந்த குப்தர்
 - விடை தெரியவில்லை
11. The title "Kaviraja" was given to:
- Chandragupta I
 - Samudragupta
 - Chandragupta II
 - Skandagupta
 - Answer not known
- "கவிராஜா" என்ற பட்டம் யாருக்கு வழங்கப்பட்டது?
- சந்திரகுப்தர் I
 - சமுத்திரகுப்தர்
 - சந்திரகுப்தர் II
 - ஸ்கந்தகுப்தர்
 - விடை தெரியவில்லை

18. Hastyayurveda, a treatise on veterinary science, was written by:
 a. Varahamihira b. Palakapya c. Aryabhata
 d. Vasubandhu e. Answer not known
 விலங்கு மருத்துவ அறிவியல் குறித்த நூலான “ஹஸ்தியாயுர்வேதம்” (Hastyayurveda) யாரால் எழுதப்பட்டது?
 a. வராகமித்திரர் b. பாலகாப்பியர் c. ஆரியபட்டர்
 d. வசுபந்து e. விடை தெரியவில்லை
19. Nalanda University was patronised by the Gupta rulers in the:
 a. 3rd and 4th centuries CE b. 5th and 6th centuries CE
 c. 7th and 8th centuries CE d. 9th and 10th centuries CE
 e. Answer not known
 நாளந்தா பல்கலைக்கழகம் குப்த ஆட்சியாளர்களால் எந்த நூற்றாண்டுகளில் ஆதரிக்கப்பட்டது?
 a. கி.பி. 3 மற்றும் 4-ஆம் நூற்றாண்டுகள் b. கி.பி. 5 மற்றும் 6-ஆம் நூற்றாண்டுகள்
 c. கி.பி. 7 மற்றும் 8-ஆம் நூற்றாண்டுகள் d. கி.பி. 9 மற்றும் 10-ஆம் நூற்றாண்டுகள்
 e. விடை தெரியவில்லை
20. Which independent ruler emerged in Malwa after the weakening of the Gupta Empire?
 a. Maukharis b. Maitrakas c. Yasodharman
 d. Harishena e. Answer not known
 குப்தப் பேரரசு வலுவிழந்த பிறகு, மால்வா பகுதியில் தோன்றிய சுதந்திர ஆட்சியாளர் யார்?
 a. மௌகாரிகள் b. மைத்ரகர்கள் c. யசோதர்மன்
 d. ஹரிசேனர் e. விடை தெரியவில்லை
21. Which historian listed the features of Indian Feudalism?
 a. D.D. Kosambi b. R.S. Sharma c. Romila Thapar
 d. Irfan Habib e. Answer not known
 இந்திய நிலப்பிரபுத்துவத்தின் (Feudalism) சிறப்பம்சங்களை பட்டியலிட்ட வரலாற்றாசிரியர் யார்?
 a. D.D. கோசாம்பி b. R.S. சர்மா c. ரோமிலா தாப்பர்
 d. இர்ஃபான் ஹபீப் e. விடை தெரியவில்லை
22. History of the Muslim Rule in India was written by
 a. Ziauddin Barani b. Ferishta c. Amir Khusrau
 d. Shams-i-Siraj Afif e. Answer not known
 “இந்தியாவில் முஸ்லிம் ஆட்சியின் வரலாறு” (History of the Muslim Rule in India) எனும் நூலை எழுதியவர் யார்?
 a. ஜியாவுதீன் பரனி b. ஃபெரிஷ்டா c. அமீர் குஸ்ரு
 d. ஷம்ஸ்-இ-சிராஜ் அஃபிஃப் e. விடை தெரியவில்லை
23. Tarikh-Al-Hind, a work on Indian Philosophy and Religion, was written by
 a. Ziauddin Barani b. Ferishta c. Amir Khusrau
 d. Al-Beruni e. Answer not known

இந்தியத் தத்துவம் மற்றும் மதம் குறித்த நூலான “தாரிக்-அல்-ஹிந்த்” (Tarikh-Al-Hind) யாரால் எழுதப்பட்டது?

- a. ஜியாவுதீன் பரனி b. ஃபெரிஷ்டா c. அமீர் குஸ்ரு
d. அல்-பெருனி e. விடை தெரியவில்லை

24. Tarikh-i-Mubarak Shahi was composed during the reign of

- a. Firuz Shah Tughlaq b. Iltutmish c. Alauddin Khalji
d. Mubarak Shah e. Answer not known

“தாரிக்-இ-முபாரக் ஷாஹி” (Tarikh-i-Mubarak Shahi) யாருடைய ஆட்சிக்காலத்தில் இயற்றப்பட்டது?

- a. ஃபெரோஸ் ஷா துக்ளக் b. இல்துத்மிஷ் c. அலாவுதீன் கில்ஜி
d. முபாரக் ஷா e. விடை தெரியவில்லை

25. What title did the Caliph confer on Mahmud of Ghazni after his accession?

- a. Sultan-ul-Hind b. Yamini-ud-Daulah c. Ghazi-ud-Din
d. Shahanshah e. Answer not known

கஜினி மஹ்முத் அரியணை ஏறிய பிறகு, கலிஃபா அவருக்கு வழங்கிய பட்டம் எது?

- a. சுல்தான்-உல்-ஹிந்த் b. யாமினி-உத்-தௌலா c. காஜி-உத்-தின்
d. ஷாஹன்ஷா e. விடை தெரியவில்லை

26. Six persons went to a hotel for taking their meals. Five of them spent Rs.32 each on their meals while the sixth person Rs.80 more than the average expenditure of all the six. What was the total money spent by all the persons?

- a. Rs.288 b. Rs.298 c. Rs.278
d. Rs.268 e. Answer not known

ஆறு பேர் உணவு சாப்பிட ஒரு ஹோட்டலுக்குச் சென்றனர். அவர்களில் ஐந்து பேர் தங்கள் உணவுக்காக தலா ரூ. 32 செலவிட்டனர், ஆறாவது நபர் ஆறு பேரின் சராசரி செலவை விட ரூ. 80 அதிகமாக செலவிட்டார். அனைத்து நபர்களும் செலவழித்த மொத்த பணம் என்ன?

- a. ரூ. 288 b. ரூ.298 c. ரூ.278
d. ரூ. 268 e. விடை தெரியவில்லை

27. The average age of A and B is 20 years. If A is replaced by C, the average age become 19 years and if B is replaced by C, average age becomes 21 years. Find the ages of A, B, and C.

- a. A 20 years, B, 22 years, C. 18 years
b. A. 22 years B. 18 years C. 20 years
c. A 18 years B. 20 years C. 22 years
d. A 20 years B. 18 years C. 22 Years
e. Answer not known

A மற்றும் B இன் சராசரி வயது 20 ஆண்டுகள் ஆகும். Aக்கு பதிலாக C இருந்தால் சராசரி வயது 19 ஆகவும், Bக்கு பதிலாக C இருந்தால் சராசரி வயது 21 ஆகவும் மாறும். A, B மற்றும் C வயதைக் கண்டறியவும்.

- a. A 20 ஆண்டுகள், B.22 ஆண்டுகள், C. 18 ஆண்டுகள்
b. A. 22 ஆண்டுகள், B.18 ஆண்டுகள், C. 20 ஆண்டுகள்
c. A.18 ஆண்டுகள், B. 20 ஆண்டுகள். C. 22 ஆண்டுகள்
d. A. 20 ஆண்டுகள் B.18 ஆண்டுகள் C. 22 ஆண்டுகள்
e. விடை தெரியவில்லை

28. In a class there are 50 students. Their average weight is 45 kg. When a student leaves the class, the average is reduced by 100g. Find the weight of the student who left the class.
- a. 49.9 kg b. 39.9 kg c. 29.9 kg
d. 59.9kg e. Answer not known
- ஒரு வகுப்பில் 50 மாணவர்கள் உள்ளனர். அவர்களின் சராசரி எடை 45 கிலோகிராம் ஆகும். ஒரு மாணவர் வகுப்பிலிருந்து வெளியேறும்போது, சராசரி 100 கிராம் குறைகிறது. வகுப்பிலிருந்து வெளியேறிய மாணவரின் எடையைக் கண்டறியவும்
- a. 49.9 kg b. 39.9 kg c. 29.9 kg
d. 59.9kg e. விடை தெரியவில்லை
29. The average age of a class of 39 Student is 15 years. If the age of teacher be included, then the average increases by 3 months. Find the age of the teacher
- a. 25 years b. 35 years c. 55 years
d. 45 years e. Answer not known
- 39 மாணவர்கள் கொண்ட ஒரு வகுப்பின் சராசரி வயது 15 ஆண்டுகள். ஆசிரியரின் வயதையும் சேர்த்தால், சராசரி 3 மாதங்கள் கூடுகிறது. ஆசிரியரின் வயதைக் கண்டறியவும்.
- a. 25 வருடங்கள் b. 35 வருடங்கள் c. 55 வருடங்கள்
d. 45 வருடங்கள் e. விடை தெரியவில்லை
30. A batsman make a score of 87 runs in the 17th inning and thus increases his average by 3. Find his average after 17th inning
- a.39 b. 89 c.49 d. 59 e. Answer not known
- ஒரு மட்டையாளர் 17வது இன்னிங்ஸில் 87 ரன்கள் எடுத்து, தனது சராசரியை 3 ரன்கள் அதிகரிக்கிறார். 17வது இன்னிங்ஸிற்குப் பிறகு அவரது சராசரியைக் கண்டறியவும்.?
- a.39 b. 89 c.49 d. 59 e. விடை தெரியவில்லை
31. Which Turkic slave seized the city of Ghazni in eastern Afghanistan and established an independent kingdom in 963?
- a. Sabuktigin b. Mahmud of Ghazni c. Alaptigin
d. Ismail e. Answer not known
- கிழக்கு ஆப்கானிஸ்தானில் உள்ள கஜினி நகரைக் கைப்பற்றி, கி.பி. 963-இல் ஒரு சுதந்திர அரசை நிறுவிய துருக்கிய அடிமை யார்?
- a. சபுக்திகின் b. கஜினி மஹ்மூத் c. அல்ப்திகின்
d. இஸ்மாயில் e. விடை தெரியவில்லை
32. What was the age of Muhammad Bin Qasim when he commanded the full-fledged army sent to Sind?
- a. 20 years b. 17 years c. 25 years
d. 30 years e. Answer not known
- சிந்துப் பகுதிக்கு அனுப்பப்பட்ட முழுமையான படைக்குத் தலைமை தாங்கியபோது, முகம்மது பின் காசிமின் வயது என்ன?
- a. 20 ஆண்டுகள் b. 17 ஆண்டுகள் c. 25 ஆண்டுகள்
d. 30 ஆண்டுகள் e. விடை தெரியவில்லை

33. Who sent the initial two military expeditions against Dahar, the ruler of Sind, under the pretext of acting against pirates?
- a. The Caliph
b. Muhammad Bin Qasim
c. Hajjaj Bin Yusuf
d. Mahmud of Ghazn
e. Answer not known
- கடற்கொள்ளையர்களுக்கு எதிராக நடவடிக்கை எடுப்பதாகக் கூறி, சிந்துவின் ஆட்சியாளரான தாஹீர்க்கு எதிராக முதல் இரண்டு இராணுவப் படையெடுப்புகளை அனுப்பியவர் யார்?
- a. கலிஃபா
b. முகம்மது பின் காசிம்
c. ஹஜ்ஜாஜ் பின் யூசுப்
d. கஜினி மஹ்முத்
e. விடை தெரியவில்லை
34. Iltutmish saved India from Mongol invasion by refusing to help:
- a. Chengiz Khan
b. Jalaluddin Khwarizmi
c. Bakhtiyar Khalji
d. Nasiruddin Qabacha
e. Answer not known
- யாருக்கு உதவ மறுத்ததன் மூலம், இல்துத்மிஷ் இந்தியாவை மங்கோலியப் படையெடுப்பிலிருந்து காப்பாற்றினார்?
- a. செங்கிஸ் கான்
b. ஜலாலுதீன் குவாரிஸ்மி
c. பக்தியார் கில்ஜி
d. நசிருதீன் கபாச்சா
e. விடை தெரியவில்லை
35. Who was appointed as Muhammad Ghori's deputy in India after the execution of Prithviraj Chauhan?
- a. Yildiz
b. Muhammad Bin Bhakhtiyar Khalji
c. Qutb-ud-din Aibak
d. Sultan Ibrahim
e. Answer not known
- பிருத்விராஜ் சௌஹான் தூக்கிலிடப்பட்ட பிறகு, இந்தியாவில் முகமது கோரியின் பிரதிநிதியாக நியமிக்கப்பட்டவர் யார்?
- a. யில்டிஸ்
b. முகமது பின் பக்தியார் கில்ஜி
c. குத்புத்தின் ஐபக்
d. சுல்தான் இப்ராஹிம்
e. விடை தெரியவில்லை
36. Who inflicted a crushing defeat on Muhammad Ghori at Mt. Abu in 1179?
- a. Prithviraj Chauhan
b. Jaya Chandra of Kanauj
c. The Chalukyas of Gujarat
d. The Chandelas of Bundelkhand
e. Answer not known
- 1179-ஆம் ஆண்டில் அபு மலையில் முகமது கோரிக்குத் தோல்வியைத் திணித்தவர் யார்?
- a. பிருத்விராஜ் சௌஹான்
b. கன்னோஜின் ஜெயச்சந்திரன்
c. குஜராத்தின் சாளுக்கியர்கள்
d. பண்டேல்கண்டின் சந்தேலர்கள்
e. விடை தெரியவில்லை
37. What does the term "bandagan" mean?
- a. Free landowners
b. Religious scholars
c. Military slaves
d. Tax collectors
e. Answer not known

”பந்தகன்” (Bandagan) என்ற சொல்லின் பொருள் என்ன?

- a. சுதந்திர நில உரிமையாளர்கள் b. சமய அறிஞர்கள் c. இராணுவ அடிமைகள்
d. வரி வசூலிப்பவர்கள் e. விடை தெரியவில்லை

38. Who was the favourite slave of Balban appointed as Governor of Bengal who later became rebellious?

- a. Bughra Khan b. Amin Khan c. Tughril Khan
d. Ulugh Khan e. Answer not known

பால்பனின் விருப்பத்திற்குரிய அடிமையாக இருந்து, வங்காளத்தின் ஆளுநராக நியமிக்கப்பட்டு, பின்னர் கலகம் செய்தவர் யார்?

- a. புக்ரா கான் b. அமீன் கான் c. துக்ரில் கான்
d. உலுக் கான் e. விடை தெரியவில்லை

39. Muhammad bin Tughlaq died in 1351 while:

- a. Playing polo b. Pursuing a rebel in Gujarat
c. On a pilgrimage d. Suppressing a rebellion in Bengal
e. Answer not known

முகமது பின் துக்ளக் 1351-ஆம் ஆண்டில் எதைச் செய்துகொண்டிருந்தபோது காலமானார்?

- a. போலோ விளையாடிக்கொண்டிருந்தபோது
b. குஜராத்தில் ஒரு கலகக்காரனைத் துரத்திச் சென்றுகொண்டிருந்தபோது
c. ஒரு புனித யாத்திரையில் இருந்தபோது
d. வங்காளத்தில் ஒரு கலகத்தை அடக்கிக்கொண்டிருந்தபோது
e. விடை தெரியவில்லை

40. Which policy did Firuz Tughlaq not follow?

- a. Conciliatory policy towards nobles
b. Reintroduction of hereditary appointments
c. Large-scale wars of annexation
d. Welfare of slaves
e. Answer not known

பின்வரும் கொள்கைகளில் எதை .:பெரோஸ் துக்ளக் பின்பற்றவில்லை?

- a. பிரபுக்களிடம் இணக்கமான கொள்கையைக் கடைப்பிடித்தல்
b. பரம்பரை அடிப்படையில் நியமனங்களை மீண்டும் அறிமுகப்படுத்துதல்
c. பெரிய அளவிலான இணைப்புப் போர்களை நடத்துதல்
d. அடிமைகளின் நலனில் அக்கறை செலுத்துதல்
e. விடை தெரியவில்லை

41. The main reason for shifting the capital to Daulatabad was

- a. Delhi was prone to floods b. To rule South India more effectively
c. To escape Mongol invasions d. To please the Sufi saints
e. Answer not known

தலைநகரை தெளலதாபாத்திற்கு மாற்றியதற்கான முக்கியக் காரணம் என்ன?

- a. டெல்லி வெள்ளப்பெருக்குக்கு ஆளாகக்கூடியதாக இருந்தது
b. தென் இந்தியாவை இன்னும் திறம்பட ஆட்சி செய்வதற்காக
c. மங்கோலியப் படையெடுப்புகளிலிருந்து தப்பிப்பதற்காக
d. சூஃபித் துறையினரைப் மகிழ்விப்பதற்காக
e. விடை தெரியவில்லை

42. After Ala-ud-din Khalji's death and Malik Kafur's short rule, a series of murders culminated in _____, a veteran of campaigns against Mongols, ascending the throne as Ghiyas-ud-din Tughlaq in 1320.
- a. Khizr Khan b. Jauna Khan c. Ghazi Malik
d. Khusrau e. Answer not known
- அலாவுதீன் கில்ஜியின் மறைவு மற்றும் மாலிக் கஃபூரின் குறுகிய கால ஆட்சிக்குப் பிறகு, தொடர்ச்சியான கொலைகள் நிகழ்ந்தன இதன் இறுதியில், மங்கோலியர்களுக்கு எதிரான போர்களில் அனுபவம் வாய்ந்த _____ 1320-ஆம் ஆண்டில் கியாசுதீன் துக்ளக் என்ற பெயரில் அரியணை ஏறினார்.
- a. கிசீர் கான் b. ஜெளனா கான் c. காஸி மாலிக்
d. குஸ்ரு e. விடை தெரியவில்லை
43. Consider the following
1. Ala-ud-din Khalji was the first Sultan to pay his soldiers in cash rather than a share of booty.
2. He prohibited liquor and banned gambling, but later relaxed prohibition due to widespread violations.
- a. 1 is true, 2 is false b. 1 is false, 2 is true c. Both are true
d. Both are false e. Answer not known
- பின்வருவனவற்றைக் கவனிக்கவும்:
1. தன்னுடைய வீரர்களுக்குப் போரில் கிடைத்த கொள்ளைப் பொருட்களின் பங்கை அளிப்பதற்குப் பதிலாக, பணமாக ஊதியம் வழங்கிய முதல் சல்தான் அலாவுதீன் கில்ஜி ஆவார்.
2. அவர் மதுவை விலக்கி, சூதாட்டத்தைத் தடை செய்தார் ஆனால், பரவலான விதிமீறல்கள் காரணமாகப் பின்னர் அத்தடையைத் தளர்த்தினார்.
- a. 1 சரி, 2 தவறு b. 1 தவறு, 2 சரி c. இரண்டும் சரி
d. இரண்டும் தவறு e. விடை தெரியவில்லை
44. Arrange the following military campaigns of Ala-ud-din Khalji in the correct chronological order as per the text:
1. Devagiri 2. Chittor 3. Gujarat 4. Ranthambhor
a. 1, 3, 4, 2 b. 3, 1, 2, 4 c. 2, 4, 1, 3
d. 4, 2, 3, 1 e. Answer not known
- அலாவுதீன் கில்ஜியின் பின்வரும் இராணுவப் படையெடுப்புகளை, பாடநூலின்படி சரியான காலவரிசையில் வரிசைப்படுத்துக:
1. தேவகிரி 2. சித்தூர் 3. குஜராத் 4. ரந்தம்பூர்
a. 1, 3, 4, 2 b. 3, 1, 2, 4 c. 2, 4, 1, 3
d. 4, 2, 3, 1 e. விடை தெரியவில்லை
45. Who assumed authority after Ala-ud-din Khalji's death, but ruled only for thirty-five days before being assassinated?
- a. Khizr Khan b. Malik Kafur c. Ghazi Malik
d. Khusrau e. Answer not known
- அலாவுதீன் கில்ஜியின் மறைவுக்குப் பிறகு ஆட்சிப் பொறுப்பேற்று, முப்பத்து ஐந்து நாட்கள் மட்டுமே ஆட்சி செய்து, பின்னர் படுகொலை செய்யப்பட்டவர் யார்?
- a. கிசீர் கான் b. மாலிக் காபூர் c. காஜி மாலிக்
d. குஸ்ரு e. விடை தெரியவில்லை

46. The Zabt revenue system was introduced by:
 a. Raja Man Singh b. Raja Todar Mal c. Raja Birbal
 d. Abul Fazl e. Answer not known
- “ஜாப்த்” (Zabt) எனும் வருவாய் முறை யாரால் அறிமுகப்படுத்தப்பட்டது?
 a. ராஜா மான் சிங் b. ராஜா தோடர்மால் c. ராஜா பீர்பால்
 d. அபுல் .பாசல் e. விடை தெரியவில்லை
47. Arrange the following events in the correct chronological order as per the text:
 1. English secured Calcutta 2. French acquired Pondicherry
 3. Albuquerque captured Goa 4. Dutch set up factory at Pulicat
 a. 3, 4, 1, 2 b. 4, 3, 1, 2 c. 1, 2, 3, 4
 d. 3, 4, 2, 1 e. Answer not known
- பின்வரும் நிகழ்வுகளை, பாடநூலின்படி சரியான காலவரிசையில் வரிசைப்படுத்துக:
 1. ஆங்கிலேயர்கள் கல்கத்தாவைப் பெற்றனர்
 2. பிரெஞ்சுக்காரர்கள் பாண்டிச்சேரியைக் கைப்பற்றினர்
 3. அல்புகர்க் கோவாவைக் கைப்பற்றினார்
 4. டச்சுக்காரர்கள் பழவேற்காட்டில் வர்த்தக நிலையத்தை அமைத்தனர்
 a. 3, 4, 1, 2 b. 4, 3, 1, 2 c. 1, 2, 3, 4
 d. 3, 4, 2, 1 e. விடை தெரியவில்லை
48. Which of Aurangzeb's brothers was known as the “Philosopher Prince” and translated the Upanishads from Sanskrit to Persian?
 a. Shuja b. Murad c. Dara Shukoh
 d. Prince Akbar e. Answer not known
- ஒளரங்கசீப்பின் சகோதரர்களில், “தத்துவஞானி இளவரசர்” (Philosopher Prince) என்று அழைக்கப்பட்டவரும், உபநிடதங்களைச் சமஸ்கிருதத்திலிருந்து பாரசீக மொழியில் மொழிபெயர்த்தவரும் யார்?
 a. ஷுஜா b. முராத் c. தாரா ஷுகோ
 d. இளவரசர் அக்பர் e. விடை தெரியவில்லை
49. From which country was Malik Ambar brought as a slave to India?
 a. Egypt b. Ethiopia c. Persia
 d. Turkey e. Answer not known
- மாலிக் ஆம்பர் எந்த நாட்டிலிருந்து அடிமையாக இந்தியாவுக்குக் கொண்டுவரப்பட்டார்?
 a. எகிப்து b. எத்தியோப்பியா c. பாரசீகம்
 d. துருக்கி e. விடை தெரியவில்லை
50. Consider the following
 1. Akbar abolished jizya (poll tax) on non-Muslims and the tax on Hindu pilgrims.
 2. The Mansabdari system made the rank of Mansabdar hereditary.
 a. 1 is true, 2 is false b. 1 is false, 2 is true c. Both are true
 d. Both are false e. Answer not known
- பின்வருவனவற்றைக் கருத்தில் கொள்க:
 1. அக்பர், முஸ்லிம் அல்லாதவர்கள் மீது விதிக்கப்பட்ட ஜிஸ்யா வரியையும் (தலைவரி), இந்துப் பயணிகள் மீது விதிக்கப்பட்ட வரியையும் ரத்து செய்தார்.
 2. மன்சப்தாரி முறை, மன்சப்தாரின் பதவியை பரம்பரை உரிமையாக மாற்றியது.
 a. 1 சரி, 2 தவறு b. 1 தவறு, 2 சரி c. இரண்டும் சரி
 d. இரண்டும் தவறு e. விடை தெரியவில்லை

51. Match the following rulers with their associated structures or actions:

List I (Ruler)

- A. Babur
B. Sher Shah
C. Humayun
D. Akbar

List II (Structure/ Action)

1. Built Purana Qila
2. Built Dinpanah
3. Built Ibadat Khana
4. Wrote Tuzuk-i-Baburi

பின்வரும் ஆட்சியாளர்களை, அவர்களோடு தொடர்புடைய கட்டுமானங்கள் அல்லது நடவடிக்கைகளுடன் பொருத்துக:

பட்டியல் I (ஆட்சியாளர்)

- A. பாபர்
B. ஷேர் ஷா
C. ஹுமாயூன்
D. அக்பர்

பட்டியல் II (கட்டுமானம்/நடவடிக்கை)

1. புராண கிலாவைக் கட்டினார்
2. தின்பனாஹ்வைக் கட்டினார்
3. இபாதத் கானாவைக் கட்டினார்
4. “துசுக்-இ-பாபுரி”யை எழுதினார்

	A	B	C	D
a.	4	1	2	3
b.	1	2	3	4
c.	2	4	1	3
d.	3	1	4	2

e. Answer not known

52. Arrange the following battles in the correct chronological

1. Battle of Chausa 2. Battle of Kanauj
3. First Battle of Panipat 4. Battle of Khanwa

- a. 3, 4, 2, 1 b. 4, 3, 2, 1 c. 3, 4, 1, 2
d. 2, 1, 4, 3 e. Answer not known

பாடநூலின்படி, பின்வரும் போர்களைச் சரியான காலவரிசைப்படி வரிசைப்படுத்துக:

1. செளசா போர் 2. கனோஜ் போர்
3. முதல் பானிபட் போர் 4. கான்வா போர்

- a. 3, 4, 2, 1 b. 4, 3, 2, 1 c. 3, 4, 1, 2
d. 2, 1, 4, 3 e. விடை தெரியவில்லை

53. What was the title given to Abdur Rahim, son of Bairam Khan, in Akbar's court?

- a. Khan-e-Khanan b. Diwan c. Mansabdar
d. Raja Birbal e. Answer not known

அக்பரின் அவையில், பைராம் கானின் மகனான அப்துர் ரஹீமுக்கு வழங்கப்பட்ட பட்டம் என்ன?

- a. கான்-இ-கானான் b. திவான் c. மன்சப்தார்
d. ராஜா பீர்பால் e. விடை தெரியவில்லை

54. Kharkhanas were

- a. Revenue assessment centres b. Royal workshops for luxury goods
c. Irrigation channels d. Trading centres

e. Answer not known

“கார்கானாக்கள்” என்பவை:

- a. வருவாய் மதிப்பீட்டு மையங்கள்
b. ஆடம்பரப் பொருட்களைத் தயாரிக்கும் அரசுப் பட்டறைகள்
c. நீர்ப்பாசனக் கால்வாய்கள்
d. வர்த்தக மையங்கள்
e. விடை தெரியவில்லை

55. Who was the president of the INC session that approved the Non-Cooperation Movement?
 a. Lala Lajpat Rai b. C. Vijayaraghavachariar
 c. Hakim Ajmal Khan d. Motilal Nehru
 e. Answer not known
 ஒத்துழையாமை இயக்கத்திற்கு ஒப்புதல் அளித்த இந்திய தேசிய காங்கிரஸ் (INC) அமர்வின் தலைவர் யார்?
 a. லாலா லஜபதி ராய் b. சி. விஜயராகவாச்சாரியார்
 c. ஹக்கிம் அஜ்மல் கான் d. மோதிலால் நேரு
 e. விடை தெரியவில்லை
56. Out of three numbers, the first is twice the second and is half of the third. If the average of the three numbers is 56, then difference of first and third number is
 a. 12 b. 20 c. 24 d. 48 e. Answer not known
 மூன்று எண்களில், முதல் எண் இரண்டாவது எண்ணின் இருமடங்காகவும், மூன்றாவது எண்ணின் பாதியாகவும் உள்ளது. அந்த மூன்று எண்களின் சராசரி 56 எனில், முதல் மற்றும் மூன்றாவது எண்களுக்கு இடையேயான வித்தியாசம் என்ன?
 a. 12 b. 20 c. 24 d. 48 e. விடை தெரியவில்லை
57. The average monthly income of P and Q is Rs.5050. The average monthly income of Q and R is Rs.6250 and the average monthly income of P and R is Rs.5200. The monthly income of P is
 a. Rs.3500 b. Rs.4000 c. Rs.4050
 d. Rs.5000 e. Answer not known
 P மற்றும் Q-வின் சராசரி மாத வருமானம் ரூ.5050. Q மற்றும் R-ன் சராசரி மாத வருமானம் ரூ.6250 மற்றும் P மற்றும் R-ன் சராசரி மாத வருமானம் ரூ.5200. P-யின் மாத வருமானம் என்ன?
 a. Rs.3500 b. Rs.4000 c. Rs.4050
 d. Rs.5000 e. விடை தெரியவில்லை
58. In a primary school the average weight of male students is 65.9 kg and the average weight of female students is 57kg. If the average weight of all the students (both male and female) is 60.3 kg and the number of male students in the school is 66, what is the number of female students in the school?
 ஒரு தொடக்கப் பள்ளியில் ஆண் மாணவர்களின் சராசரி எடை 65.9 கிலோகிராம் மற்றும் பெண் மாணவர்களின் சராசரி எடை 57 கிலோகிராம் ஆகும். அனைத்து மாணவர்களின் (ஆண், பெண்) சராசரி எடை 60.3 கிலோகிராம் மற்றும் பள்ளியில் உள்ள ஆண் மாணவர்களின் எண்ணிக்கை 66 எனில், பள்ளியில் உள்ள பெண் மாணவர்களின் எண்ணிக்கை என்ன?
 a. 162 b. 168 c. 180 d. 112 e. Answer not known
59. The age of a father six years ago was six times than the age of his daughter. Three years hence, the father will be thrice as old as his daughter. What is the present age of the daughter?
 a. 15 years b. 12 years c. 17 years
 d. 20 years e. Answer not known

ஆறு ஆண்டுகளுக்கு முன்பு ஒரு தந்தையின் வயது, அவரது மகளின் வயதைப் போல் ஆறு மடங்காக இருந்தது. இன்னும் மூன்று ஆண்டுகளில், தந்தையின் வயது அவரது மகளின் வயதைப் போல் மூன்று மடங்காக இருக்கும். மகளின் தற்போதைய வயது என்ன?

- a. 15 வருடங்கள் b. 12 வருடங்கள் c. 17 வருடங்கள்
d. 20 வருடங்கள் e. விடை தெரியவில்லை

60. Three times the present age of P is 25 years more than the present age of Q. After ten years, twice the age of Q will be 18 years less than thrice the age of P. Find the present age (in years) of Q

- a. 21 b. 16 c. 19 d. 17 e. Answer not known

P-யின் தற்போதைய வயதைப் போல் மூன்று மடங்கு என்பது Q-வின் தற்போதைய வயதை விட 25 ஆண்டுகள் அதிகம். பத்து ஆண்டுகளுக்குப் பிறகு, Q-வின் வயதைப் போல் இரண்டு மடங்கு என்பது P-யின் வயதைப் போல் மூன்று மடங்கை விட 18 ஆண்டுகள் குறைவாக இருக்கும். Q-வின் தற்போதைய வயதைக் (ஆண்டுகளில்) காண்க.

- a. 21 b. 16 c. 19 d. 17 e. விடை தெரியவில்லை

61. Which session did Congress demand that the British government should stop the 'drain of wealth' from India to England?

- a. 1899, Lucknow b. 1900, Lahore c. 1901, Calcutta
d. 1902, Ahmedabad e. Answer not known

இந்தியாவிலிருந்து இங்கிலாந்திற்குச் செல்லும் “செல்வச் சுரண்டலை” (drain of wealth) பிரிட்டிஷ் அரசாங்கம் நிறுத்த வேண்டும் என்று காங்கிரஸ் எந்த அமர்வில் கோரியது?

- a. 1899, லக்னோ b. 1900, லாகூர் c. 1901, கல்கத்தா
d. 1902, அகமதாபாத் e. விடை தெரியவில்லை

62. Who among the following described the 1857 revolt as “A conflict between civilization and barbarianism”?

- a. L.E.R. Reese b. T.R. Holmes c. C.A. Bayley
d. Jawaharlal Nehru e. Answer not known

1857-ஆம் ஆண்டு கிளர்ச்சியை “நாகரிகத்திற்கும் காட்டுமிராண்டித்தனத்திற்கும் இடையிலான மோதல்” என்று பின்வருவோரில் யார் விவரித்தார்?

- a. L.E.R. ரீஸ் b. T.R. ஹோம்ஸ் c. C.A. பேலி
d. ஜவஹர்லால் நேரு e. விடை தெரியவில்லை

63. Match the following

List I (Author)

List II (Book)

A. Christopher Hibbert

1. 1857, The Great Rebellion

B. P.C. Joshi

2. Mangal Pandey: Brave Martyr or Accidental Hero?

C. Ashok Mehta

3. The Great Mutiny

D. Rudrangshu Mukherjee

4. Rebellion 1857: A Symposium

பின்வருவனவற்றை பொருத்துக:

பட்டியல் I (ஆசிரியர்)

பட்டியல் II (நூல்)

A. கிறிஸ்டோபர் ஹிப்பர்ட்

1. 1857, The Great Rebellion

B. P.C. ஜோஷி

2. Mangal Pandey: Brave Martyr or Accidental Hero?

C. அசோக் மேத்தா

3. The Great Mutiny

D. ருத்ராங்ஷு முகர்ஜி

4. Rebellion 1857: A Symposium

பின்வரும் சட்டங்களில் எவை 1956-ஆம் ஆண்டில் இயற்றப்பட்டன?

1. இந்து வாரிசரிமைச் சட்டம்
 2. இந்து தத்தெடுப்பு மற்றும் பராமரிப்புச் சட்டம்
 3. இந்து திருமணச் சட்டம்
 4. சிறப்புத் திருமணச் சட்டம்
- a. 1 மற்றும் 2 மட்டும் b. 1, 2 மற்றும் 3 மட்டும் c. 1 மற்றும் 3 மட்டும்
d. 1, 2, 3 மற்றும் 4 e. விடை தெரியவில்லை

68. Assertion (A): The Indian League aimed to foster a collective sense of nationalism among the people.

Reason (R): Sisir Kumar Ghose believed that political representation should be extended only to the educated middle class.

- a. Both A and R are true, and R is the correct explanation of A
- b. Both A and R are true, but R is not the correct explanation of A
- c. A is true, but R is false
- d. A is false, but R is true
- e. Answer not known

கூற்று (A): இந்திய லீக் (Indian League) மக்களிடையே ஒரு கூட்டுத் தேசிய உணர்வை வளர்ப்பதை நோக்கமாகக் கொண்டிருந்தது.

காரணம் (R): அரசியல் பிரதிநிதித்துவம் படித்த நடுத்தர வர்க்கத்தினருக்கு மட்டுமே வழங்கப்பட வேண்டும் என்று சிசிர் குமார் கோஷ் கருதினார்.

- a. A மற்றும் R சரி மற்றும் R என்பது A விற்கு சரியான விளக்கம்
- b. A மற்றும் R சரி மற்றும் R என்பது A விற்கு சரியான விளக்கமல்ல
- c. A சரி R தவறு
- d. A தவறு R சரி
- e. விடை தெரியவில்லை

69. Arrange the following associations in chronological order from earliest to latest

1. Indian Association of Calcutta 2. Bengal British India Society
3. National Indian Association 4. British Indian Association

- a. 2, 4, 3, 1 b. 4, 2, 1, 3 c. 2, 3, 4, 1
- d. 1, 2, 3, 4 e. Answer not known

பின்வரும் சங்கங்களை, காலவரிசைப்படி — மிகப் பழமையானதிலிருந்து மிகப் புதியது வரை — வரிசைப்படுத்துக.

1. கல்கத்தா இந்தியச் சங்கம் (Indian Association of Calcutta)
 2. வங்காள பிரிட்டிஷ் இந்தியச் சங்கம் (Bengal British India Society)
 3. தேசிய இந்தியச் சங்கம் (National Indian Association)
 4. பிரிட்டிஷ் இந்தியச் சங்கம் (British Indian Association)
- a. 2, 4, 3, 1 b. 4, 2, 1, 3 c. 2, 3, 4, 1
 - d. 1, 2, 3, 4 e. விடை தெரியவில்லை

70. Assertion (A): The arrest of Tilak in 1898 became a significant event in the Indian freedom struggle.

Reason (R): It highlighted the issues of civil liberty, freedom of expression and freedom of the press.

- Both A and R are true and R is the correct explanation of A.
- Both A and R are true but R is not the correct explanation.
- A is true but R is false.
- A is false but R is true.
- Answer not known

கூற்று (A): 1898-இல் திலக் கைது செய்யப்பட்ட நிகழ்வு, இந்திய விடுதலைப் போராட்டத்தில் ஒரு முக்கிய நிகழ்வாக அமைந்தது.

காரணம் (R): இது குடியரிமைச் சுதந்திரம், கருத்துரிமை மற்றும் பத்திரிகைச் சுதந்திரம் ஆகிய தொடர்பான சிக்கல்களை முன்னிலைப்படுத்தியது.

- A மற்றும் R சரி மற்றும் R என்பது A விற்கு சரியான விளக்கம்
- A மற்றும் R சரி மற்றும் R என்பது A விற்கு சரியான விளக்கமல்ல
- A சரி R தவறு
- A தவறு R சரி
- விடை தெரியவில்லை

71. Who among the following first popularized the idea of Swadeshi in 1872?

- Mahatma Gandhi
- Bal Gangadhar Tilak
- M. G. Ranade
- Dadabhai Naoroji
- Answer not known

பின்வருவோரில் யார் 1872-இல் “சுதேசி” எனும் கருத்தாக்கத்தை முதன்முதலில் பிரபலப்படுத்தினார்?

- மகாத்மா காந்தி
- பாலகங்காதர திலகர்
- M.G. ரானடே
- தாதாபாய் நௌரோஜி
- விடை தெரியவில்லை

72. Hemchandra Kanungo went abroad to receive military training in

- London
- Paris
- Berlin
- New York
- Answer not known

ஹேமச்சந்திர கணுங்கோ இராணுவப் பயிற்சி பெறுவதற்காகப் பின்வரும் எந்த நாட்டிற்குச் சென்றார்?

- லண்டன்
- பாரிஸ்
- பெர்லின்
- நியூயார்க்
- விடை தெரியவில்லை

73. Who hailed the Coral Mill strike as “forging a bond between educated class and the masses, which is the first great step towards swaraj”?

- Lokmanya Tilak
- Aurobindo Ghosh
- Subramania Bharati
- V.O. Chidambaram
- Answer not known

“கல்வியறிவு பெற்ற வகுப்பினருக்கும் பொதுமக்களுக்கும் இடையே ஒரு பிணைப்பை உருவாக்கியுள்ள, சுயாட்சியை நோக்கிய முதல் பெரும் படியாகத் திகழும்” என்று “கோரல் ஆலை வேலைநிறுத்தத்தைப் போற்றியவர் யார்?

- லோகமான்ய திலக்
- அரவிந்த கோஷ்
- சுப்பிரமணிய பாரதி
- வ.உ. சிதம்பரனார்
- விடை தெரியவில்லை

74. The judgment in the case of King Emperor versus V.O.C. and Subramania Siva was delivered on _____.

- March 12, 1908
- November 4, 1908
- June 11, 1911
- March 9, 1907
- Answer not known

“மன்னர் பேரரசர் எதிர் வ.உ.சி. மற்றும் சுப்பிரமணிய சிவா” வழக்கில் தீர்ப்பு வழங்கப்பட்ட நாள் _____.

- a. மார்ச் 12, 1908 b. நவம்பர் 4, 1908 c. ஜூன் 11, 1911
d. மார்ச் 9, 1907 e. விடை தெரியவில்லை

75. In which year did Subramania Bharati meet Sister Nivedita?

- a. 1904 b. 1905 c. 1907
d. 1908 e. Answer not known

சுப்பிரமணிய பாரதி “சகோதரி நிவேதிதா”வை எந்த ஆண்டில் சந்தித்தார்?

- a. 1904 b. 1905 c. 1907
d. 1908 e. விடை தெரியவில்லை

76. Consider the following

1. Subramania Bharati translated Tilak's *Tenets of the New Party* into Tamil.
2. The Swadeshi movement in Tamil Nadu revived with the Home Rule Movement in 1916 after a period of lull due to repression.

- a. 1 is true, 2 is false b. 1 is false, 2 is true c. Both are true
d. Both are false e. Answer not known

பின்வருவனவற்றைக் கருத்தில் கொள்க:

1. சுப்பிரமணிய பாரதி, திலகரின் “புதிய கட்சியின் கொள்கைகள்” (*Tenets of the New Party*) எனும் நூலைத் தமிழில் மொழிபெயர்த்தார்.
2. அடக்குமுறையின் காரணமாக ஏற்பட்ட ஒரு தேக்க நிலைக்குப் பிறகு, 1916-இல் நடைபெற்ற “தன்னாட்சி இயக்கத்தின்” (*Home Rule Movement*) வாயிலாகத் தமிழ்நாட்டில் சுதேசி இயக்கம் மீண்டும் புத்துயிர் பெற்றது.

- a. 1 சரி, 2 தவறு b. 1 தவறு, 2 சரி c. இரண்டும் சரி
d. இரண்டும் தவறு e. விடை தெரியவில்லை

77. Which Tamil monthly devoted to the cause of Indian women was edited by Subramania Bharati?

- a. Swadesamitran b. Chakravartini c. India
d. Bande Matram e. Answer not known

இந்தியப் பெண்களின் நலனுக்காக அர்ப்பணிக்கப்பட்ட, சுப்பிரமணிய பாரதியால் தொகுத்து வெளியிடப்பட்ட தமிழ் மாத இதழ் எது?

- a. சுதேசமித்திரன் b. சக்கரவர்த்தினி c. இந்தியா
d. வந்தே மாதரம் e. விடை தெரியவில்லை

78. Arrange the following events in chronological

1. Bipin Chandra Pal was released from prison
2. Vanchinathan shot Robert Ashe
3. Subramania Bharati became sub-editor of *Swadesamitran*
4. V.O.C. and Subramania Siva were arrested

- a. 3, 1, 4, 2 b. 1, 3, 2, 4 c. 3, 4, 1, 2
d. 3, 1, 2, 4 e. Answer not known

பின்வரும் நிகழ்வுகளைக் காலவரிசைப்படி வரிசைப்படுத்துக:

1. பிபின் சந்திர பால் சிறையிலிருந்து விடுவிக்கப்பட்டார்
2. வாஞ்சிநாதன் ராபர்ட் ஆஷைச் சுட்டுக் கொன்றார்
3. சுப்பிரமணிய பாரதி சுதேசமித்திரன் இதழின் உதவி ஆசிரியரானார்
4. வ.உ.சி. மற்றும் சுப்பிரமணிய சிவா ஆகியோர் கைது செய்யப்பட்டனர்

a. 3, 1, 4, 2
d. 3, 1, 2, 4

b. 1, 3, 2, 4
e. விடை தெரியவில்லை

c. 3, 4, 1, 2

79. Who was the President of the Pacific Coast Hindustan Association (Ghadar Party)?

a. Lala Hardayal
c. Sohan Singh Bhakna
e. Answer not known

b. Kartar Singh Sarabha
d. Rash Behari Bose

பசிபிக் கடற்கரை இந்துஸ்தான் சங்கத்தின் (கதர் கட்சி) தலைவராக இருந்தவர் யார்?
a. லாலா ஹர்தயாள்
b. கர்த்தார் சிங் சரபா
c. சோகன் சிங் பக்னா
d. ராஷ் பிஹாரி போஸ்
e. விடை தெரியவில்லை

80. When was Subramaniya Siva born?

a. 4 October 1884
d. 23 July 1884

b. 23 July 1925
e. Answer not known

c. 4 October 1885

சுப்பிரமணிய சிவா எப்போது பிறந்தார்?

a. 4 அக்டோபர் 1884
d. 23 ஜூலை 1884

b. 23 ஜூலை 1925
e. விடை தெரியவில்லை

c. 4 அக்டோபர் 1885

81. While in prison in 1921, V.V.S. Aiyar wrote his magnum opus on:

a. Thirukural
c. Life of Guru Gobind Singh
e. Answer not known

b. Kamban's Ramayana - A study
d. Biography of Garibaldi

1921-ஆம் ஆண்டு சிறையில் இருந்தபோது, வ.வே.சு. ஐயர் தனது தலைசிறந்த படைப்பை எதைப் பற்றி எழுதினார்?

a. திருக்குறள்
b. கம்பராமாயணம் குறித்த ஆய்வு
c. குரு கோவிந்த் சிங்கின் வாழ்க்கை வரலாறு
d. கரிபால்டியின் வாழ்க்கை வரலாறு
e. விடை தெரியவில்லை

82. Who paid a glowing tribute to V.V.S. Aiyar after his death?

a. Mahatma Gandhi
d. Aurobindo Ghosh

b. Subramania Bharathi
e. Answer not known

c. V. D. Savarkar

வ.வே.சு. ஐயர் மறைந்த பிறகு, அவருக்குச் சிறந்த புகழாரம் சூட்டியவர் யார்?

a. மகாத்மா காந்தி
d. அரவிந்த கோஷ்

b. சுப்பிரமணிய பாரதி
e. விடை தெரியவில்லை

c. V.D. சாவர்க்கர்

83. Assertion (A): Vanchinathan's brother-in-law Shankara Krishna Iyer introduced him to Nilakanta Brahmachari.

Reason (R): Brahmachari recruited youth into the Bharatha Matha Sangam to protest against British rule.

a. Both A and R are true, and R is the correct explanation of A
b. Both A and R are true, but R is not the correct explanation of A
c. A is true, but R is false
d. A is false, but R is true
e. Answer not known

கூற்று (A): வாஞ்சிநாதனின் மைத்துனரான சங்கர கிருஷ்ண ஐயர், அவரை நீலகண்ட பிரம்மச்சாரியிடம் அறிமுகப்படுத்தினார்.

காரணம் (R): ஆங்கிலேயர் ஆட்சிக்கு எதிராகப் போராடுவதற்காக, பிரம்மச்சாரி இளைஞர்களை “பாரத மாதா சங்கம்” அமைப்பில் சேர்த்தார்.

- A மற்றும் R சரி மற்றும் R என்பது A விற்கு சரியான விளக்கம்
- A மற்றும் R சரி மற்றும் R என்பது A விற்கு சரியான விளக்கமல்ல
- A சரி R தவறு
- A தவறு R சரி
- விடை தெரியவில்லை

84. Consider the following

- Vanchinathan assassinated Robert Ashe at the Maniyachchi railway station and then committed suicide to avoid arrest.
- Robert Ashe was the first British high-ranking official to be assassinated in South India, and also the last.

- 1 is true, 2 is false
- 1 is false, 2 is true
- Both are true
- Both are false
- Answer not known

பின்வருவனவற்றைக் கருத்தில் கொள்க:

- மணியாச்சி ரயில் நிலையத்தில் ராபர்ட் ஆஷை வாஞ்சிநாதன் படுகொலை செய்தார் பின்னர், கைது செய்யப்படுவதைத் தவிர்க்கும் பொருட்டு தற்கொலை செய்துகொண்டார்.
- தென்னிந்தியாவில் படுகொலை செய்யப்பட்ட முதல் மற்றும் கடைசி உயர்மட்ட பிரிட்டிஷ் அதிகாரி ராபர்ட் ஆஷ் ஆவார்.

- 1 சரி, 2 தவறு
- 1 தவறு, 2 சரி
- இரண்டும் சரி
- இரண்டும் தவறு
- விடை தெரியவில்லை

85. Who inspired Neelakanda Brahmachari to enter politics?

- Bal Gangadhar Tilak
- Bipin Chandra Pal
- Subramania Bharathi
- Aurobindo Ghosh
- Answer not known

நீலகண்ட பிரம்மச்சாரியை அரசியலில் ஈடுபடத் தூண்டியவர் யார்?

- பாலகங்காதர திலகர்
- பிபின் சந்திர பால்
- சுப்பிரமணிய பாரதி
- அரவிந்த கோஷ்
- விடை தெரியவில்லை

86. 10 years ago, the ratio of ages A and B was 5 : 9. 15 years from now, the ratio of their ages will be 15 : 17. What will be A's age 15 years from now?

- 30 years
- 38 years
- 35 years
- 26 years
- Answer not known

10 ஆண்டுகளுக்கு முன்பு, A மற்றும் B-யின் வயது விகிதம் 5 : 9 ஆக இருந்தது. இன்னும் 15 ஆண்டுகளில், அவர்களின் வயது விகிதம் 15 : 17 ஆக இருக்கும். இன்னும் 15 ஆண்டுகளில் A-யின் வயது என்னவாக இருக்கும்?

- 30 ஆண்டுகள்
- 38 ஆண்டுகள்
- 35 ஆண்டுகள்
- 26 ஆண்டுகள்
- விடை தெரியவில்லை

87. The difference between the mean of the first 5 composite numbers and the mean of the first five prime numbers is

- 2.4
- 2.6
- 1.6
- 1.8
- Answer not known

முதல் 5 பகு எண்களின் சராசரிக்கும் முதல் ஐந்து பகா எண்களின் சராசரிக்கும் உள்ள வித்தியாசம்

a. 2.4 b. 2.6 c. 1.6 d. 1.8 e. விடை தெரியவில்லை

88. The mean of the marks scored by 40 students is 68. Later on it was found that a score of 25 was misread as 45. Find the correct mean.

a. 68.5 b. 28 c. 15 d. 67.5 e. Answer not known

40 மாணவர்கள் பெற்ற மதிப்பெண்களின் சராசரி 68 ஆகும். பின்னர், 25 என்ற மதிப்பெண் 45 எனத் தவறாகப் கணக்கிடப்பட்டது கண்டறியப்பட்டது. சரியான சராசரியைக் காண்க.

a. 68.5 b. 28 c. 15 d. 67.5 e. விடை தெரியவில்லை

89. The captain of a cricket team of 11 members is 35 years old and the wicket keeper is 5 years older than the captain. If the ages of these two are excluded, the average of the remaining players is three years less than the average of the whole team. What is the average age of the whole team?

a. 26 years b. 24 years c. 28 years

d. 25 years e. Answer not known

11 உறுப்பினர்களைக் கொண்ட ஒரு கிரிக்கெட் அணியின் கேப்டனுக்கு 35 வயது மற்றும் விக்ரெட் கீப்பர் கேப்டனை விட 5 வயது முத்தவர். இந்த இருவரின் வயதை நீக்கினால், மீதமுள்ள வீரர்களின் சராசரியானது முழு அணியின் சராசரியை விட மூன்று ஆண்டுகள் குறைவாகும். முழு அணியின் சராசரி வயது என்ன?

a. 26 ஆண்டுகள் b. 24 ஆண்டுகள் c. 28 ஆண்டுகள்

d. 25 ஆண்டுகள் e. விடை தெரியவில்லை

90. After 12 innings, the average score per innings of a batsman was 55. After 14 innings his average score increased to 60. If the batsman had scored 20 runs more in the 14th innings than the previous innings, then how many runs did he score in the 13th innings?

a. 90 b. 85 c. 80 d. 75 e. Answer not known

12 இன்னிங்ஸ்களுக்குப் பிறகு, ஒரு பேட்ஸ்மேனின் ஒரு இன்னிங்ஸுக்கான சராசரி ஸ்கோர் 55 ஆக இருந்தது. 14வது இன்னிங்ஸ்களுக்குப் பிறகு அவரது சராசரி ஸ்கோர் 60 ஆக அதிகரித்தது. அந்த பேட்ஸ்மேன் முந்தைய இன்னிங்ஸை விட 14வது இன்னிங்ஸில் 20 ரன்கள் அதிகமாக எடுத்திருந்தால், அவர் 13வது இன்னிங்ஸில் எத்தனை ரன்கள் எடுத்தார்?

a. 90 b. 85 c. 80 d. 75 e. விடை தெரியவில்லை

91. Neelakanda Brahmachari was sentenced to how many years of rigorous imprisonment in the Ashe murder case?

a. 5 years b. 7 year c. 10 years

d. 8 years e. Answer not known

ஆஷ் கொலை வழக்கில் நீலகண்ட பிரம்மச்சாரிக்கு எத்தனை ஆண்டுகள் கடுங்காவல் தண்டனை விதிக்கப்பட்டது?

a. 5 ஆண்டுகள் b. 7 ஆண்டுகள் c. 10 ஆண்டுகள்

d. 8 ஆண்டுகள் e. விடை தெரியவில்லை

92. Which of the following was not a member of the Berlin Indian Independence Committee?

a. Virendranath Chattopadhyaya b. Lala Har Dayal
c. Chempakaraman Pillai d. Subhas Chandra Bose
e. Answer not known

பின்வருவோரில் “பெர்லின் இந்தியச் சுதந்திரக் குழுவின்” உறுப்பினராக இல்லாதவர் யார்?
a. வீரேந்திரநாத் சட்டோபாத்யாயா b. லாலா ஹர்தயாள்
c. செம்பகராமன் பிள்ளை d. சுபாஷ் சந்திர போஸ்
e. விடை தெரியவில்லை

93. The SMS Emden bombed Madras harbour on:
a. 31 July 1914 b. 22 September 1914 c. 1 December 1914
d. 26 May 1914 e. Answer not known

'SMS எம்டன்' (SMS Emden) கப்பல் சென்னைத் துறைமுகத்தின் மீது குண்டு வீசிய நாள் எது?

a. 31 ஜூலை 1914 b. 22 செப்டம்பர் 1914 c. 1 டிசம்பர் 1914
d. 26 மே 1914 e. விடை தெரியவில்லை

94. Which of the following is not a work of C. Rajagopalachari?
a. Vyasara Virundhu b. Translation of Thirukkural
c. Chakravarthi Thirumagan d. Hinduism – A Way of life
e. Answer not known

பின்வருவனவற்றுள் C. இராஜகோபாலாச்சாரியாரின் படைப்பு அல்லாதது எது?

a. வியாசர் விருந்து b. திருக்குறள் மொழிபெயர்ப்பு
c. சக்கரவர்த்தி திருமகன் d. இந்து மதம் – ஒரு வாழ்க்கை முறை
e. விடை தெரியவில்லை

95. Who is regarded as the political mentor of S. Satyamurti?
a. K. Kamaraj b. S. Srinivasa Iyengar
c. C. Rajagopalachari d. T. Prakasam
e. Answer not known

S. சத்தியமூர்த்தியின் அரசியல் வழிகாட்டியாகக் கருதப்படுபவர் யார்?

a. K. காமராஜ் b. S. சீனிவாச ஜயங்கார்
c. C. இராஜகோபாலாச்சாரி d. T. பிரகாசம்
e. விடை தெரியவில்லை

96. Subbaraman donated how many acres of land to the Bhoodan Movement?
a. 50 acres b. 386 acres c. 100 acres
d. 500 acres e. Answer not known

சுப்பராமன் “பூதான் இயக்கத்திற்கு” எத்தனை ஏக்கர் நிலத்தை நன்கொடையாக அளித்தார்?

a. 50 ஏக்கர் b. 386 ஏக்கர் c. 100 ஏக்கர்
d. 500 ஏக்கர் e. விடை தெரியவில்லை

97. Varadarajulu Naidu started the Tamil weekly newspaper Tamil Nadu in:
a. 1917 b. 1925 c. 1931
d. 1932 e. Answer not known

வரதராஜலு நாயுடு “தமிழ்நாடு” என்ற தமிழ் வார இதழைத் தொடங்கிய ஆண்டு எது?

a. 1917 b. 1925 c. 1931
d. 1932 e. விடை தெரியவில்லை

98. Assertion (A): George Joseph left the Congress Party to join the Justice Party.
Reason (R): He was disillusioned by Gandhi's lack of support for his participation in Vaikom Satyagraha and the attitude of the Congress Party.
Select the correct code:

- Both A and R are true, and R is the correct explanation of A
- Both A and R are true, but R is not the correct explanation of A
- A is true, but R is false
- A is false, but R is true
- Answer not known

கூற்று (A): ஜார்ஜ் ஜோசப் காங்கிரஸ் கட்சியை விட்டு விலகி, நீதிக்கட்சியில் இணைந்தார்.

காரணம் (R): வைக்கம் சத்தியாகிரகத்தில் அவர் பங்கேற்றதற்கு காந்தி ஆதரவளிக்காததாலும், காங்கிரஸ் கட்சியின் அணுகுமுறையாலும் அவர் மனமுடைந்தார்.

- A மற்றும் R சரி மற்றும் R என்பது A விற்கு சரியான விளக்கம்
- A மற்றும் R சரி மற்றும் R என்பது A விற்கு சரியான விளக்கமல்ல
- A சரி R தவறு
- A தவறு R சரி
- விடை தெரியவில்லை

99. The Madurai 'Sevalayam' was started by Vaidyanatha Iyer in _____ to serve Harijans.

- 1932
- 1939
- 1955
- 1952
- Answer not known

மதுரை 'சேவாலயம்' ஹரிஜனங்களுக்குச் சேவை செய்வதற்காக வைத்யநாத ஐயரால் _____ ஆம் ஆண்டில் தொடங்கப்பட்டது.

- 1932
- 1939
- 1955
- 1952
- விடை தெரியவில்லை

100. The biography of Vaidyanatha Iyer titled "Harijana Thanthai Amara Vaidyanatha Iyerin Vazhkai Varalaaru" was written by _____.

- P. Kakkan
- P. S. Chandraprabhu
- L. N. Gopalaswami
- Arunachalam Iyer
- Answer not known

வைத்யநாத ஐயரின் வாழ்க்கை வரலாற்றை விவரிக்கும் "ஹரிஜன தந்தை அமரர் வைத்யநாத ஐயரின் வாழ்க்கை வரலாறு" என்ற நூலை எழுதியவர் _____ ஆவார்.

- P. கக்கன்
- P.S. சந்திரபிரபு
- L.N. கோபாலசாமி
- அருணாசலம் ஐயர்
- விடை தெரியவில்லை

101. Kamaraj was inspired by the writings of Bankim Chandra Chatterjee and _____.

- Rabindranath Tagore
- Subramania Bharati
- Annie Besant
- Swami Vivekananda
- Answer not known

காமராஜர், பங்கிம் சந்திர சட்டர்ஜி மற்றும் _____ ஆகியோரின் எழுத்துக்களால் ஈர்க்கப்பட்டார்.

- a. இரவீந்திரநாத் தாகூர்
b. சுப்பிரமணிய பாரதி
c. அன்னி பெசன்ட்
d. சுவாமி விவேகானந்தர்
e. விடை தெரியவில்லை

102. The Rani of Jhansi Regiment marched with the Japanese army towards:
a. Singapore
b. Malay
c. Delhi
d. Burma
e. Answer not known

‘ஜான்சி ராணி படைப்பிரிவு’ ஐப்பானிய இராணுவத்துடன் இணைந்து _____ நோக்கி அணிவகுத்துச் சென்றது.

- a. சிங்கப்பூர்
b. மலாய்
c. டெல்லி
d. பர்மா
e. விடை தெரியவில்லை

103. The founder of 'Bhartiya Brahma Samaj' was:
a. Devendranath Tagore
b. Ishwar Chandra Vidyasagar
c. Keshav Chandra Sen
d. Raja Ram Mohan Roy
e. Answer not known

‘பாரதிய பிரம்ம சமாஜத்தை’ நிறுவியவர் _____ ஆவார்.

- a. தேவேந்திரநாத் தாகூர்
b. ஈஸ்வர சந்திர வித்யாசாகர்
c. கேசவ சந்திர சென்
d. ராஜா ராம் மோகன் ராய்
e. விடை தெரியவில்லை

104. Which one of the following was the author of 'Gulamgiri'?
a. Ishwar Chandra Vidyasagar
b. Jyotiba Phule
c. M.G. Ranade
d. Raja Ram Mohan Roy
e. Answer not known

பின்வருவோரில் ‘குலாம் கிரி’ (Gulamgiri) என்ற நூலை எழுதியவர் யார்?

- a. ஈஸ்வர சந்திர வித்யாசாகர்
b. ஜோதிபா பூலே
c. எம். ஜி. ரானடே
d. ராஜா ராம் மோகன் ராய்
e. விடை தெரியவில்லை

105. The first tribal leader who was inspired by Mahatma Gandhi and his ideology was

- a. Alluri Sitaram Raju
b. Haipou Jodanang
c. Jhabkar Bapa
d. Rani Gaidinliu
e. Answer not known

மகாத்மா காந்தி மற்றும் அவரது கொள்கைகளால் ஈர்க்கப்பட்ட முதல் பழங்குடியினத் தலைவர் யார்?

- a. அல்லூரி சீதாராம ராஜு
b. ஹைப்போ ஜோடனாங்
c. ஜப்கர் பாபா
d. ராணி கைடினலியூ
e. விடை தெரியவில்லை

106. Anjalai Ammal served as President of the _____ in Madras in 1931.
a. All India Women's Congress
b. Tamil Nadu Congress Committee
c. All India Yarn Spinning Association
d. Bharat Seva Samiti
e. Answer not known

1931-ஆம் ஆண்டில் சென்னையில் _____ அமைப்பின் தலைவராக அஞ்சலை அம்மாள் பணியாற்றினார்.

- a. அகில இந்திய மகளிர் காங்கிரஸ் b. தமிழ்நாடு காங்கிரஸ் குழு
c. அகில இந்திய நூல் நூற்பு சங்கம் d. பாரத் சேவா சமிதி
e. விடை தெரியவில்லை

107. Which of the following leaders/allies helped the Queen of Sivagangai in reclaiming her kingdom?

1. Hyder Ali
2. Gopala Naicker and Marudu brothers
3. Nawab of Arcot
4. British East India Company

- a. 1 and 2 only b. 1, 2, and 3 only c. 2, 3, and 4 only
d. 1, 2, 3, and 4 e. Answer not known

சிவகங்கை ராணி தனது இழந்த அரசை மீட்டெடுக்கப் பின்வரும் தலைவர்கள் /கூட்டாளிகளில் யார் உதவினார்கள்?

1. ஹைதர் அலி
2. மருது சகோதரர்கள் மற்றும் கோபால நாயக்கர்
3. ஆற்காடு நவாப்
4. பிரிட்டிஷ் கிழக்கிந்திய நிறுவனம்

- a. 1 மற்றும் 2 மட்டும் b. 1, 2 மற்றும் 3 மட்டும் c. 2, 3 மற்றும் 4 மட்டும்
d. 1, 2, 3 மற்றும் 4 e. விடை தெரியவில்லை

108. Which of the following statements about Padmasini Ammal is incorrect?

- a. She started a school for depressed classes in Manamadurai in 1935.
b. She donated 10 acres of land in Munnampattu village to the Bharathi Ashram.
c. She was the first person to suggest the removal of the Neill Statue.
d. She spoke in support of the Civil Disobedience Movement at Jhansi Rani Park.
e. Answer not known

பத்மாசினி அம்மாள் பற்றிய பின்வரும் கூற்றுகளில் எது தவறானது?

- a. 1935ல் மானாமதுரையில் தாழ்த்தப்பட்ட வகுப்பினருக்கான பள்ளியைத் தொடங்கினார்.
b. முன்னம்பட்டு கிராமத்தில் 10 ஏக்கர் நிலத்தை பாரதி ஆசிரமத்திற்கு தானமாக வழங்கினார்.
c. நீல் சிலையை அகற்ற வேண்டும் என்று முதலில் பரிந்துரைத்தவர் இவர்தான்.
d. ஜான்சி ராணி பூங்காவில் கீழ்படியாமை இயக்கத்திற்கு ஆதரவாக அவர் பேசினார்.
e. விடை தெரியவில்லை

109. Arrange the following positions held by Ambujammal in the correct sequence:

- i. Vice-President of Tamil Nadu Congress Committee
ii. Treasurer of Women's India Association
iii. Chairperson of reception committee, All-India Women's Conference
iv. Secretary of Mylapore Ladies Club

- a. (iv) → (ii) → (iii) → (i) b. (i) → (iv) → (ii) → (iii)
c. (iv) → (iii) → (ii) → (i) d. (ii) → (iv) → (i) → (iii)
e. Answer not known

அம்புஜம்மாள் வகித்த பின்வரும் பதவிகளை சரியான வரிசையில் ஏற்பாடு செய்யுங்கள்:

- i. தமிழ்நாடு காங்கிரஸ் கமிட்டியின் துணைத் தலைவர்
 - ii. இந்திய மகளிர் சங்கத்தின் பொருளாளர்
 - iii. அகில இந்திய மகளிர் மாநாட்டின் வரவேற்புக் குழுத் தலைவர்
 - iv. மயிலாப்பூர் லேஊஸ் கிளப் செயலாளர்
- a. (iv) → (ii) → (iii) → (i) b. (i) → (iv) → (ii) → (iii)
c. (iv) → (iii) → (ii) → (i) d. (ii) → (iv) → (i) → (iii)
e. விடை தெரியவில்லை

110. Which of the following statements about Rukmini Laxmipathi is correct?
- a. She attended the International Women's Suffrage Alliance Congress as a delegate from Britain.
 - b. She was the first woman to be elected to the Madras Legislature.
 - c. She served as Deputy Speaker of the Lok Sabha.
 - d. She participated in the Salt Satyagraha only after becoming a minister.
 - e. Answer not known

ருக்மணி லக்ஷ்மிபதியைப் பற்றிய பின்வரும் கூற்றுகளில் எது சரியானது?

- a. அவர் பிரிட்டனில் இருந்து ஒரு பிரதிநிதியாக சர்வதேச மகளிர் வாக்குரிமை கூட்டணி காங்கிரஸில் கலந்து கொண்டார்.
- b. மெட்ராஸ் சட்டமன்றத்திற்கு தேர்ந்தெடுக்கப்பட்ட முதல் பெண்மணி.
- c. மக்களவை துணை சபாநாயகராக பணியாற்றினார்.
- d. அமைச்சரான பிறகுதான் உப்பு சத்தியாகிரகத்தில் கலந்து கொண்டார்.
- e. விடை தெரியவில்லை

111. Rukmini Laxmipathi served as the Minister for Public Health in the cabinet of _____.

- a. Omandur Ramasamy b. T. Prakasam
- c. C. Rajagopalachari d. Kumarasamy Raja
- e. Answer not known

_____ அமைச்சரவையில் பொது சுகாதார அமைச்சராக ருக்மணி லக்ஷ்மிபதி பணியாற்றினார்.

- a. ஓமந்தூர் ராமசாமி b. டி.பிரகாசம்
- c. C. ராஜகோபாலாச்சாரி d. குமாரசாமி ராஜா
- e. விடை தெரியவில்லை

112. Arrange the following events in the correct sequence as per the passage:

- i. Lahore Congress session declares Poorna Swaraj
- ii. Gandhi begins Dandi March from Sabarmati Ashram
- iii. Simon Commission announced
- iv. Rajaji leads salt march to Vedaranyam

- a. (iii) → (ii) → (i) → (iv) b. (i) → (iii) → (iv) → (ii)
c. (iii) → (i) → (ii) → (iv) d. (ii) → (iv) → (iii) → (i)
e. Answer not known

பின்வரும் நிகழ்வுகளை சரியான வரிசையில் வரிசைப்படுத்தவும்:

- i. லாகூர் காங்கிரஸ் அமர்வு பூர்ணா ஸ்வராஜ்-ஐ அறிவித்தது
- ii. காந்தி சபர்மதி ஆசிரமத்தில் இருந்து தண்டி யாத்திரையை தொடங்குகிறார்
- iii. சைமன் கமிஷன் அறிவித்தது
- iv. ராஜாஜி வேதாரண்யத்திற்கு உப்பு யாத்திரையை நடத்துகிறார்

- a. (iii) → (ii) → (i) → (iv) b. (i) → (iii) → (iv) → (ii)
 c. (iii) → (i) → (ii) → (iv) d. (ii) → (iv) → (iii) → (i)
 e. விடை தெரியவில்லை

113. Who said: "The Indian work is first of all the revival, strengthening and uplifting of ancient religions ... a great wave of patriotic life, the beginning of the rebuilding of a nation"?

- a. Jawaharlal Nehru b. Annie Besant c. Aurobindo Gosh
 d. Lal Chand e. Answer not known

"இந்தியப் பணி என்பது முதலாவதாக, பண்டைய மதங்களின் மறுமலர்ச்சி, வலுவூட்டல் மற்றும் மேம்பாடு ஆகும்... இது தேசபக்தி மிக்க வாழ்வின் ஒரு பெரும் அலையாகவும், ஒரு தேசத்தை மீண்டும் கட்டமைப்பதற்கான தொடக்கமாகவும் அமைகிறது," என்று கூறியவர் யார்?

- a. ஜவஹர்லால் நேரு b. அன்னி பெசன்ட் c. அரவிந்த கோஷ்
 d. லால் சந்த் e. விடை தெரியவில்லை

114. Who was the first Indian to find a place in the London Privy Council?

- a. Sir Syed Ahmed Khan b. Badruddin Tyabji
 c. Syed Ameer Ali d. Aga Khan
 e. Answer not known

லண்டன் பிரிவி கவுன்சிலில் (Privy Council) இடம்பிடித்த முதல் இந்தியர் யார்?

- a. சர் சையத் அகமது கான் b. பத்ருதீன் தியாப்ஜி
 c. சையத் அமீர் அலி d. ஆகா கான்
 e. விடை தெரியவில்லை

115. Assertion (A): The British Government was consistent in promoting communalism in India.

Reason (R): Delegates for the second Round Table Conference were chosen on the basis of their communal bearings.

- a. Both A and R are true, and R is the correct explanation of A
 b. Both A and R are true, but R is not the correct explanation of A
 c. A is true, but R is false
 d. A is false, but R is true
 e. Answer not known

கூற்று (A): இந்தியாவில் வகுப்புவாதத்தை வளர்ப்பதில் பிரிட்டிஷ் அரசாங்கம் சீரான போக்கைக் கடைப்பிடித்தது.

காரணம் (R): இரண்டாவது வட்டமேசை மாநாட்டிற்கான பிரதிநிதிகள், அவர்களின் வகுப்புவாதச் சார்புகளின் அடிப்படையில் தேர்ந்தெடுக்கப்பட்டனர்.

- a. A மற்றும் R சரி மற்றும் R என்பது A விற்கு சரியான விளக்கம்
 b. A மற்றும் R சரி மற்றும் R என்பது A விற்கு சரியான விளக்கமல்ல
 c. A சரி R தவறு
 d. A தவறு R சரி
 e. விடை தெரியவில்லை

116. Raman's age is three times the sum of the ages of his two sons. After 5 years his age will be twice the sum of the ages of his two sons. Then the present age of Raman is what?

a. 45 b. 55 c. 65 d. 70 e. Answer not known

இராமனின் வயது அவருடைய இரு மகன்களுடைய வயதுகளின் கூடுதலைப்போல் மூன்று மடங்காகும். ஐந்தாண்டுகள் கழித்து அவரின் வயது தனது மகன்களுடைய வயதுகளின் கூடுதலைப் போல் இரு மடங்காகும் எனில் இராமனின் தற்போதைய வயது என்ன?

a. 45 b. 55 c. 65 d. 70 e. விடை தெரியவில்லை

117. The mean weight of 4 members of a family is 60 kg. Three of them have the weight 56 kg, 68 kg and 72 kg respectively. Find the weight of the fourth member

a. 40 kg b. 56 kg c. 44 kg d. 68 kg e. Answer not known

ஒரு குடும்பத்திலுள்ள 4 நபர்களின் எடைகளின் சராசரி 60 கி.கி. அவர்களில் மூவரின் எடைகள் 56 கி.கி, 68 கி.கி மற்றும் 72 கி.கி எனில் நான்காமவரின் எடையைக் காண்க.

a. 40 கி.கி b. 56 கி.கி c. 44 கி.கி d. 68 கி.கி e. விடை தெரியவில்லை

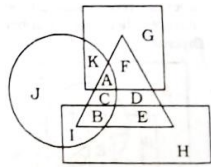
118. The average weight of 16 boys in a class is 50.25 kg and that of the remaining 8 boys is 45.15 kg. Find the average weight of all the boys in the class.

ஒரு வகுப்பில் 16 சிறுவர்களின் சராசரி எடை 50.25 கிகி மற்றும் மீதமுள்ள 8 சிறுவர்களின் எடை 45.15 கிகி வகுப்பில் உள்ள அனைத்து சிறுவர்களின் சராசரி எடையைக் கண்டறியவும்.

a. 47.55 kg b. 46.55 kg c. 48.55 kg
d. 49.25 kg e. Answer not known

119. In the following figure, rectangle represents Copywriters, circle represents Cartoonists, triangle represents Comedians and square represents Mothers. Which set of letters represents Copywriters who are neither Comedians nor Mothers?

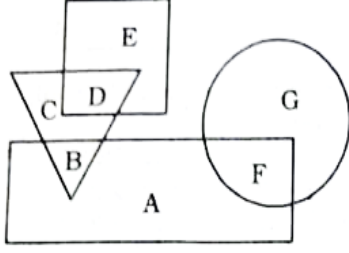
கீழே கொடுக்கப்பட்டுள்ள படத்தில், செவ்வகம் என்பது விளம்பரப் பிரதியாளரையும், வட்டம் என்பது கேலிச்சித்திரக் கலைஞரையும், முக்கோணம் என்பது நகைச்சுவை நடிகரையும், மற்றும் சதுரம் என்பது தாய்களையும் குறிக்கிறது. நகைச்சுவை நடிகர்களாகவும் தாயாகவும் இல்லாத விளம்பரப் பிரதியாளர்களைக் குறிக்கும் எழுத்துகளின் தொகுப்பு எது?



a. BE b. CD c. AF d. IH e. Answer not Known

120. In the following figure, rectangle represents Coppermiths, circle represents Bakers, triangle represents Gamers and square represents Fathers. Which set of letters represents Coppermiths who are neither Games nor Bakers?

கீழே கொடுக்கப்பட்டுள்ள படத்தில், செவ்வகம் என்பது செப்புக் கொல்லர்களையும், வட்டம் என்பது பேக்கர்களையும், முக்கோணம் என்பது விளையாட்டாளர்களையும், மற்றும் சதுரம் என்பது தந்தையர்களையும் குறிக்கிறது. விளையாட்டாளர்களாகவோ பேக்கர்களாகவோ இல்லாத செப்புக் கொல்லர்களை குறிக்கும் எழுத்துகளின் தொகுப்பு எது?



- a. BAF b. CG c. CDG d. A e. Answer not Known

121. To what does Valluvar liken the benevolence (or charity) of a person who lacks diligence?

- a. It is like a eunuch wielding a sword in his hand.
 b. It is like a flower that, despite blooming in clusters, emits no fragrance.
 c. It is like pouring water into an unbaked clay pot and attempting to preserve it.
 d. It is like ambrosia spilled upon an unclean courtyard.
 e. Answer not known.

தாளாண்மை இல்லாதவனின் வேளாண்மை (உதவி) எதனைப் போன்றது என வள்ளுவர் குறிப்பிடுகிறார்?

- a. பேடி தன் கையில் வாளை எடுத்து ஆளும் தன்மை போன்றது.
 b. கொத்தாக மலர்ந்திருந்த போதிலும் மணம் கமழாத மலரைப் போன்றது.
 c. பச்சை மண்கலத்தில் நீரை விட்டு அதைக் காப்பாற்றி வைத்தாற் போன்றது.
 d. தூய்மை இல்லாத முற்றத்தில் சிந்திய அமிழ்தம் போன்றது.
 e. விடை தெரியவில்லை

122. Arrange in order the qualities of a minister as enumerated by Valluvar:

- i. Diligence/Effort ii. Noble Lineage iii. Fearlessness
 iv. Learned Knowledge v. Protective Ability
 a. v, i, ii, iii, iv b. iii, ii, v, iv, i c. i, iii, iv, v, ii
 d. iii, i, ii, v, iv e. Answer not known.

அமைச்சரின் பண்புகளாக வள்ளுவர் கூறியுள்ளவற்றை வரிசைப்படுத்துக?

- i. முயற்சி ii. குடிபிறப்பு iii. அஞ்சாமை
 iv. கற்றறிந்த அறிவு v. காக்கும் திறன்
 a. v, i, ii, iii, iv b. iii, ii, v, iv, i c. i, iii, iv, v, ii
 d. iii, i, ii, v, iv e. விடை தெரியவில்லை

123. Valluvar states that having even countless enemies close at hand is preferable to having a minister who devises and proposes deceitful strategies. How many crores of enemies does he specify?

- a. Seven Crores b. Seventy Crores c. Seven Hundred Crores
 d. Seven Thousand Crores e. Answer not known.

தவறான வழிகளை எண்ணி கூறுகின்ற அமைச்சனை விட எத்தனை கோடி பகைவர் பக்கத்தில் இருந்தாலும் நன்மையாகும் என வள்ளுவர் குறிப்பிடுகிறார்?

- a. ஏழு கோடி b. எழுபது கோடி c. எழுநூறு கோடி
 d. ஏழாயிரம் கோடி e. விடை தெரியவில்லை

124. To what does Valluvar compare a person who is unable to expound upon the knowledge acquired from books in a manner that others can comprehend?
- It is like a haystack placed before a fire.
 - It is like a flower that emits no fragrance.
 - It is like a woman who, lacking breasts, desires the attributes of womanhood.
 - It is like rolling dice to play a game of chance without having first marked out the gaming board.
 - Answer not known.
- தாம் கற்ற நூற் பொருளைப் பிறர் உணருமாறு விரிந்துரைக்க முடியாதவரை வள்ளுவர் எவ்வாறு ஒப்பிடுகிறார்?
- நெருப்பின் முன் வைத்த வைக்கோல் போர் போன்றது.
 - மணம் கமழாத மலர் போன்றது
 - முலை இரண்டும் இல்லாதவள் பெண் தன்மையை விரும்பினாற் போன்றது.
 - குதாடும் அரங்கு இழைக்காமல் வட்டுக்காயை உருட்டி ஆடினார் போன்றது
 - விடை தெரியவில்லை
125. To what does Valluvar liken the act of amassing and safeguarding wealth through deceitful means?
- It is like a beautiful doll fashioned out of clay.
 - It is like pouring water into an unbaked earthen vessel and attempting to preserve it.
 - It is like wholesome milk curdling due to the inherent nature of the vessel containing it.
 - It is like using one elephant to capture another elephant.
 - Answer not known.
- “வஞ்சனையின் வழியால் பொருளைச் சேர்த்துக் காப்பாற்றுதல்” எதனைப் போன்றது என வள்ளுவர் குறிப்பிடுகிறார்?
- களிமண்ணால் செய்யப்பட்ட அழகுப்பாவை போன்றது
 - பச்சை மண்கலத்தில் நீரை விட்டு அதைக் காப்பாற்றி வைத்தாற் போன்றது.
 - கலத்தின் தன்மையால் நன்மையான பால் திரிந்தது போன்றது
 - ஒரு யானையால் மற்றொரு யானையைப் பிடித்தலைப் போன்றது
 - விடை தெரியவில்லை
126. When does suffering itself suffer defeat?
- If one fails to cherish and appreciate happiness when it comes.
 - If a person regards suffering itself as happiness.
 - When one remains unperturbed, despite the increasing suffering that comes his way.
 - When one smiles (laughs) in the face of suffering.
 - Answer not known.
- துன்பமே துன்பப்பட்டு போகும் எப்போது?
- இன்பம் வந்த காலத்தில் அந்த இன்பத்தை விரும்பிப் போற்றாமல் இருந்தால்
 - ஒருவன் துன்பத்தையே தனக்கு இன்பமாகக் கருதிக் கொள்வானானால்
 - விடாமல் மேன்மேலும் துன்பம் வந்தபோதிலும் கலங்காமல் இருக்கும் போது
 - துன்பம் வரும்போது நகும்போது (சிரிக்கும் போது)
 - விடை தெரியவில்லை

127. Whom does Valluvar describe as the "pillar of support" – the one who alleviates and bears the burdens of his kinsfolk?
- One who disregarding his own personal comfort is intent on successfully completing the tasks he has undertaken.
 - One who, upon acquiring wealth, fails to guard it effectively due to an excessive attachment to the mere fact of having received it.
 - One who lacks the ability to articulate flawless and virtuous words.
 - One who refrains from performing base deeds that would invite the censure of the wise.
 - Answer not known.
- தன் சுற்றத்தாரின் துன்பத்தைப் போக்கித் தாங்குகின்ற தூண் என வள்ளுவர் யாரை குறிப்பிடுகிறார்?
- தன் இன்பத்தை விரும்பாதவனாய் மேற்கொண்டச் செயலை முடிக்க விரும்புகின்றவன்.
 - செல்வம் வந்த போது இதைப் பெற்றோமே என்று பற்றுக்கொண்டு காத்தறியாதவர்.
 - குற்றமற்றவையாகியச் சில சொற்களைச் சொல்லத் தெரியாதவர்.
 - சான்றோர் பழிப்பதற்குக் காரணமான இழிவான செயல்களைச் செய்யாதவர்.
 - விடை தெரியவில்லை.
128. What specific circumstance does Valluvar emphasize that under which one must never engage in deeds that would incur the condemnation of the wise?
- Even if one is compelled to witness and grieve over the hunger of one's own mother.
 - Even if suffering assails one in overwhelming, flood-like proportions.
 - Even if one is reduced from a state of affluence to a state of abject poverty.
 - When one renounces all worldly attachments and embraces the ascetic way of life.
 - Answer not known.
- எது நேர்ந்த போதிலும் சான்றோர் பழிக்கும் வினையினை செய்யக் கூடாது என வள்ளுவர் குறிப்பிடுகிறார்?
- பெற்ற தாயின் பசியைக் கண்டு வருந்த நேர்ந்தாலும்.
 - வெள்ளம் போல் அளவற்றதாய் துன்பம் நேர்ந்தாலும்.
 - செல்வ நிலையில் வறுமை நிலையை அடைய நேர்ந்தாலும்.
 - அனைத்து பற்றுகளையும் துறந்து துறவறம் மேற்கொள்ளும் போது.
 - விடை தெரியவில்லை.
129. Whose commands will the world swiftly heed and obey?
- One who possesses the skill to coherently structure their thoughts and articulate them in a pleasing manner.
 - One who never engages in deeds that yield neither fame nor virtue.
 - One who remains unperturbed even during times of adversity.
 - One who remains steadfast and resolute in their chosen profession or task.
 - Answer Unknown
- உலகம் விரைந்து யாருடைய ஏவலைக் கேட்டு நடக்கும்?
- கருத்துக்களை ஒழுங்காகக் கோர்த்து இனிமையாகச் சொல்லும் வல்லவர்.
 - புகழையும், அறத்தையும் தராத செயல்களை எக்காலத்திலும் செய்யாதவர்.
 - துன்பம் வந்த காலத்திலும் கலங்காமல் இருப்பவர்.
 - செய்யும் தொழிலில் உறுதியாக இருப்பவர்.
 - விடை தெரியவில்லை.

130. What does Valluvar identify as a fault?
- Grieving when adversity strikes
 - Failing to make an effort despite knowing what needs to be known
 - A minister offering incorrect counsel to the king
 - Being unable to expound upon the knowledge acquired from books in a manner that others can comprehend
 - Answer Unknown

பழி எதுவென்று வள்ளுவர் குறிப்பிடுகிறார்?

- துன்பம் வந்த காலத்தில் வருந்துவது
- அறிய வேண்டியவற்றை அறிந்து முயற்சி செய்யாதிருத்தல்
- ஒரு அமைச்சன் அரசனுக்கு தவறான அறிவுரைகளை வழங்குவது
- தாம் கற்ற நூற் பொருளைப் பிறர் உணருமாறு விரிந்துரைக்க இயலாதது
- விடை தெரியவில்லை

131. In the kural starting with “Arumai udaithandru asavaamai vendum” the word Asavaamai means?

- Lazy
- Sorrow
- Happiness
- Without getting tired
- Answer not known

“அருமை உடைத்தென்று அசாவாமை வேண்டும்” எனத் தொடங்கும் குறளில் அசவாமை என்பதன் பொருள் யாது?

- சோம்பல்
- துன்பம்
- இன்பம்
- சோர்வுராமை
- விடை தெரியவில்லை

132. What is the central theme of the kural ending with “Theeranthaarin theerthantru ulaghu”

- Effort increases one’s wealth
- Know what you need to know and try
- Whatever activity you undertake, you must complete it completely
- Even the fate can be defeated with untiring effort
- Answer not known

“தீர்ந்தாரின் தீர்ந்தன்று உலகு” என முடியும் குறளின் மையக் கருத்து யாது?

- முயற்சி ஒருவனுக்கு செல்வத்தைப் பெருக்கும்
- அறிய வேண்டியவற்றை அறிந்து முயற்சி செய்க
- எந்தச் செயலில் ஈடுபட்டாலும் அதனை முழுமையாக செய்து முடிக்க வேண்டும்
- சோர்வு இல்லாமல் உழைத்தால் ஊழையும் தோல்வியுறச் செய்ய இயலும்
- விடை தெரியவில்லை

133. According to the kural starting with “Muyarchi thiruvinaai aakum muyatinmai” what does one get with and without effort?

- Motivation, Hunger
- Wealth, Poverty
- Wealth, Disease
- Happiness, Sorrow
- Answer not known

“முயற்சி திருவினை ஆக்கும் முயற்றின்மை” எனத் தொடங்கும் குறளில் முயற்சி செய்வதாலும், செய்யாதாலும் நமக்கு கிடைப்பவை யாது?

- ஊக்கம், பசி
- செல்வம், வறுமை
- ஆக்கம், நோய்
- இன்பம், துன்பம்
- விடை தெரியவில்லை

134. Idumbaiku idumbai paduppar idumbaiku
Idumbai Padaa ae thavar
Based on the Kural
Assertion (A): They give sorrow to sorrow who in sorrow do not suffer sorrow
Reason(R):He who gives suffering for suffering is the one who does not suffer
for suffering
- a. Both A, R is false
b. A true R false
c. A false R true
d. Both A and R is true, R explains A
e. Answer not known
- இடும்பைக்கு இடும்பை படுப்பர் இடும்பைக்கு
இடும்பை படாஅ தவர்.
என்ற குறள்படி
கூற்று (A): துன்பத்திற்கு துன்பம் தருவர் துன்பத்திற்கு துன்பப்படாதவர்
காரணம் (R): துன்பம், சூழும் போது, துவண்டு போகதவர்கள் அந்தத் துன்பத்தையே
துன்பத்தில் ஆழ்த்தி அதனைத் தோல்வியுறச் செய்வர்.
- a. கூற்று, காரணம் இரண்டும் தவறு
b. கூற்று சரி, காரணம் தவறு
c. கூற்று தவறு, காரணம் சரி
d. A மற்றும் R இரண்டும் சரி, மேலும் (R)(A) விற்கான சரியான விளக்கமாகும்.
e. விடை தெரியவில்லை
135. Find the similarities between the kurals?
I. Inbam vizhaiyaan idumbai iyalbenbaan
II. Inbathul inbam vizhaiyaadaan thunbathul
- a. When suffering comes, fatigue will come
b. Fear of fighting against distress
c. Turning away from distress
d. Suffering does not cause suffering
e. Answer not known
- கீழ்க்கண்ட குறளுக்கு பொருத்தமான ஒற்றுமை யாது?
I. இன்பம் விழையான் இடும்பை இயல்பென்பான்
II. இன்பத்துள் இன்பம் விழையாதான் துன்பத்துள்
- a. துன்பம் வரும் போது சோர்வு ஏற்படும்
b. துன்பத்தை எதிர்த்து போரிட அஞ்சுவது
c. துன்பத்தை பார்த்து புறமுதுகிடுதல்
d. துன்பத்தினால் துன்பம் அடைவதில்லை
e. விடை தெரியவில்லை
136. Valluvar, in the Kural ending with “.. Poruthalum Valla Thamaichu”, advises how should a minister should act?
1. Separating the enemy's ally
2. Protecting whom they have
3. Multiplying the learned
4. Uniting the estranged
- a. 1, 2, 3, 4
b. 1, 2, 3
c. 1, 2, 4
d. 2, 3, 4
e. Answer not known

144. Valluvar proclaims, in the kural ending with "... yaetraa vilumam tharum", what causes never ending misery to one?

- a. Inability to do as it is said
- b. Revealing before completing the action
- c. Not sure about the work
- d. Performing a task with great fatigue
- e. Answer not known

"...ஏற்றா விழுமந் தரும்" என முடியும் குறளில் எப்பொழுது ஒருவர் நீங்கா துன்பம் அடைவர் என்கிறார் வள்ளுவர்?

- a. சொல்லிய படி செய்யாமல் இருக்கும் பொழுது
- b. செயலை முடிக்கும் முன் வெளிப்படுத்தினால்
- c. செய்யும் தொழில் உறுதி இல்லாதிருந்தால்
- d. மிகுந்த சோர்வுடன் ஓர் செயலை செய்யும் போது
- e. விடை தெரியவில்லை

145. Match the couplets

A. Agalaadhu anukaadhu Theekaaivaar pol

1. Thookang kadindhu seyal

B. Arampollum koormaiyae renum marampolvar

2. Ooreidhi ullap padum

C. Kalangaadhu kanda vinaikkan thuzhangaadhu

3. Igalvendhar

serndholugu vaar

D. Veereidhi maandaar vinaithittam vendhankan

4. Makatpanbu illaa thavar

	A	B	C	D
a.	3	4	1	2
b.	4	3	2	1
c.	4	3	1	2
d.	3	2	4	1

e. Answer not known

குறட்பாக்களை பொருத்தவும்

A. அகலாது அணுகாது தீக்காய்வார் போல்

1. தூக்கங் கடிந்து செயல்

B. அரம்போலும் கூர்மைய ரேனும் மரம்போல்வர்

2. ஊறெய்தி உள்ளப் படும்

C. கலங்காது கண்ட வினைக்கண் துளங்காது

3. இகல்வேந்தர்ச் சேர்ந்தொழுகுவார்

D. வீறெய்தி மாண்டார் வினைத்திட்டம் வேந்தன்கண்

4. மக்கட்பண்பு இல்லா தவர்





	A	B	C	D
a.	3	4	1	2
b.	4	3	2	1
c.	4	3	1	2
d.	3	2	4	1

e. விடை தெரியவில்லை

146. Which of the following Venn diagrams best represents the relationship between the following classes?

Utensils, Spoons, Steel items

கீழே கொடுக்கப்பட்டுள்ள பிரிவுகளுக்கு (classes) இடையேயான உறவைச் சிறப்பாக விளக்கும் வென் வரைபடத்தைத் தேர்ந்தெடுக்கவும்.
சமையல் பாத்திரங்கள், கரண்டிகள், எஃகு பொருட்கள்

- a.  b.  c. 
- d.  e. Answer not Known

147. The given venn diagram best represents the relationship between which set of classes given in the options?



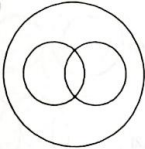
- a. Males, Fathers, Sons
b. Sisters, Females, Mother
c. Fathers, Males, Doctors
d. Engineers, Brothers, Males
e. Answer not Known

கொடுக்கப்பட்ட வென் வரைபடம், விருப்பங்களில் கொடுக்கப்பட்டுள்ள எந்தப் பிரிவுகளின் (classes) தொகுப்பிற்கு இடையேயான உறவைச் சிறப்பாகக் குறிக்கிறது?



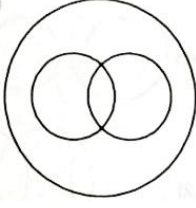
- a. ஆண்கள், தந்தைகள், மகன்கள்
b. சகோதரிகள், பெண்கள், தாய்மார்கள்
c. தந்தைகள், ஆண்கள், மருத்துவர்கள்
d. பொறியியலாளர்கள், சகோதரர்கள், ஆண்கள்
e. விடை தெரியவில்லை

148. Which of the following combinations of words best represents the Venn diagram given below?



- a. Fathers, Doctors, Males
b. Females, Males, Aunts
c. Females, Daughters, Sisters
d. Mothers, Sisters, Brothers
e. Answer not Known

கீழே கொடுக்கப்பட்டுள்ள வென் வரைபடத்தை மிகச் சிறப்பாகக் குறிக்கும் வார்த்தைகளின் சேர்க்கை பின்வருவனவற்றில் எது?



- a. தந்தையர்கள், மருத்துவர்கள், ஆண்கள் b. பெண்கள், ஆண்கள், அத்தைகள்
 c. பெண்கள், மகள்கள், சகோதரிகள் d. தாய்கள், சகோதரிகள், சகோதரர்கள்
 e. விடை தெரியவில்லை

149. Select the Venn diagram that best illustrates the relationship between the following classes.

Doctors, Salaried Persons, Parents

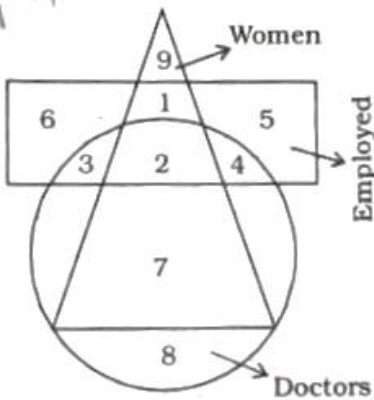
- a. b. c.
 d. e. Answer not Known

கீழே கொடுக்கப்பட்டுள்ள பிரிவுகளுக்கு (classes) இடையேயான உறவைச் சிறப்பாக விளக்கும் வென் வரைபடத்தைத் தேர்ந்தெடுக்கவும். மருத்துவர்கள், சம்பளம் பெறுபவர்கள், பெற்றோர்கள்

- a. b. c.
 d. e. விடை தெரியவில்லை

150. In the following figure, which number represents the Women Doctors who are not Employed?

கீழே கொடுக்கப்பட்டுள்ள படத்தில், வேலை செய்யாத பெண் மருத்துவர்களை குறிக்கும் எண் எது?



- a. 7 b. 3 c. 1 d. 8 e. Answer not Known





அறிவுக்கு ஏற்றது, மக்களுக்கு நன்மை பயப்பது,
மக்களின் அறிவை வளர்ச்சியடையச் செய்வது எதுவோ
அதைப் பற்றியே பேசு.

-தந்தை பெரியார்

HI
STUDY